

1. Tìm x :

a) $x - 25 = 75$

b) $x : 3 = 3 \times 3$

c) $x - 15 < 3$

.....
.....
.....

2. Hình tam giác ABC có chu vi là 24dm. Độ dài hai cạnh AB và BC bằng 18dm. Hỏi cạnh AC dài bao nhiêu đề-xi-mét?

.....
.....
.....

Bài 3: (5 điểm) Tùng có 18 viên bi, Toàn có 15 viên bi. Nam có số bi hơn Toàn và ít bi hơn Tùng. Hỏi Nam có bao nhiêu viên bi?

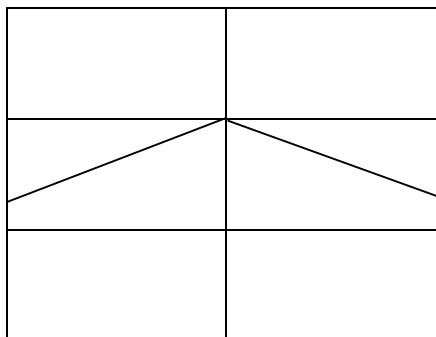
..... Tóm tắt Bài giải

.....
.....
.....
.....

Bài 4: (4 điểm)

Hình vẽ bên có tam giác

có hình chữ nhật



ĐỀ KHẢO SÁT HỌC SINH GIỎI

MÔN TOÁN – LỚP 2

(Năm học 2010 – 2011)

(Thời gian học sinh làm bài 40 phút)

ĐỀ BÀI

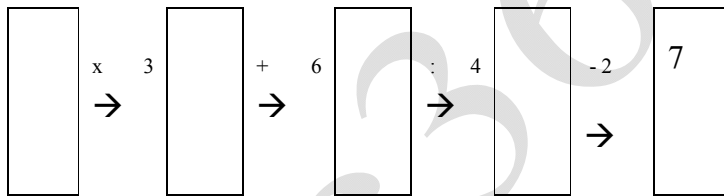
Bài 1: Cho các số: 0, 1, 3, 5

- Lập các số có 2 chữ số khác nhau từ các số đã cho.
- Tính tổng các số chẵn lập được ở trên.

Bài 2: Viết số thích hợp vào

a. 1, 3, 4, 7, 11, , ,

b

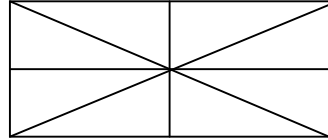


Bài 3:

- An sinh nhật ngày nào ? mà cứ 4 năm mới được tổ chức sinh nhật 1 lần ?
- Nếu Nam cho Hà 4 viên bi thì số bi của 2 bạn bằng nhau, và mỗi bạn có 18 viên bi. Hỏi trước khi cho Nam có bao nhiêu viên bi ? Hà có bao nhiêu viên bi ?

Bài 4: Hình vẽ bên

- Cóhình tam giác
- Có hình tứ giác



Bài 5:

Trong một phép trừ có hiệu bằng số trừ và số bị trừ hơn số trừ 27 đơn vị. Hỏi số bị trừ sẽ bằng bao nhiêu ? Hãy viết phép trừ đó ?

Đề thi học sinh giỏi

Môn Toán – Lớp 2

Năm học: 2010 – 2011

Bài 1(6 điểm).

1. Viết số chẵn lớn nhất có hai chữ số mà tổng hai chữ số là 13:.....

2. Viết số lẻ nhỏ nhất có hai chữ số mà chữ số hàng chục gấp 3 lần chữ số hàng đơn vị:.....

3. Viết tiếp vào ô trống:

0,1,1,2,4,7

Bài 2: (4 điểm)

Cho các chữ số: 0,1,2,3;

1. Viết các số có hai chữ số khác nhau từ các số trên và sắp xếp các số đó theo thứ tự lớn dần:

.....
.....
.....

2. Viết số lớn nhất ở trên dưới dạng tích của một số với 4:

.....
.....

Bài 3: (3 điểm).

1. Từ 10 giờ sáng đến 2 giờ chiều, kim dài và kim ngắn của đồng hồ gặp nhau..... lần.

2. Hôm nay là thứ hai, ngày 14 tháng 4. Còn 8 ngày nữa là sinh nhật của Lan. Vậy Lan sinh nhật vào thứ..... ngày.....tháng 4.

Bài 4: (4 điểm).

Tổng số tuổi của mẹ và con nhiều hơn tuổi con là 50 tuổi. Mẹ hơn con 27 tuổi. Tính số tuổi của mỗi người.

Tóm tắt

Bài giải

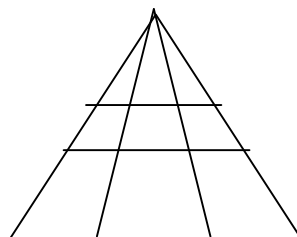
.....

.....

.....
.....
.....

Bài 5: (3 điểm).

Hình vẽ bên có:



.....hình tam giác.
.....hình tứ giác.

**TRƯỜNG TIỂU HỌC
GIA SINH**

ĐỀ KHẢO SÁT HSG MÔN TOÁN LỚP 1

NĂM HỌC 2010 - 2011

---***---

(THỜI GIAN LÀM BÀI : 40 PHÚT)

HỌ VÀ TÊN :

LỚP SBD.....

Bài 1 (4 điểm) : Điền số thích hợp vào

 $13 + 4 = \square - 13$

$12 + 24 < \square - 13 < 88 - 50$

$\square - 7 - 1 > 10$

$87 - 7 - \square = 40$

Bài 2 (3 điểm): Khoanh tròn những số có thể điền vào

$3 + 12 - 4 < \square - 5 < 15$ các số là : 12,13,14, 15, 16, 17, 18.

$13 + 6 < \square + 11$ các số là : 1, 2, 3, 4, 5, 6, 7, 8 , 9, 10.

C

D

Đề thi khảo sát HS giỏi bậc Tiểu Học

Năm học 2010 – 2011

Môn Toán lớp 2

Thời gian làm bài : 40 phút

Bài 1: Cho các số 1, 0, 4

- Viết các số có 2 chữ số từ các chữ số trên.

.....

- Xếp các số vừa viết được theo thứ tự bé dần.

.....

Bài 2: Điền dấu +, - vào \square

$$11 \square 2 \square 9 \square 10 = 10$$

$$18 \square 9 \square 3 \square 5 = 1$$

Bài 3:

Điền các số vào ô trống sao cho tổng 3 ô liền nhau bằng 70.

		16		25				
--	--	----	--	----	--	--	--	--

Bài 4: Khoanh tròn vào các số có thể điền vào \square thoả mãn

$$17 + 5 < 7 + \square + 5 < 90 - 65$$

Các số là : 10, 11, 12, 13.

Bài 5:

a/ Tìm x

$$X + 15 = 39 + 41$$

b/ Hiệu 2 số là số lẻ nhỏ nhất có 2 chữ số. Biết số trừ bằng hiệu số. Tìm số bị trừ.

Bài 6: Số kẹo của Lan là số nhỏ nhất có 2 chữ số giống nhau. Lan cho Hoa số kẹo là số chẵn nhỏ nhất có 2 chữ số. Hỏi Lan còn bao nhiêu cái kẹo?

.....

.....

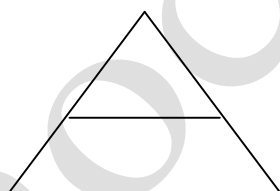
.....

.....

.....

.....

Bài 7: Kẻ thêm 1 đoạn thẳng để hình dưới có 3 tam giác, 3 tứ giác.



Đề kiểm tra chất lượng học sinh giỏi

Năm học 2010-2011

Môn Toán lớp 2

(Thời gian học sinh làm bài 40 phút)

Bài 1: