

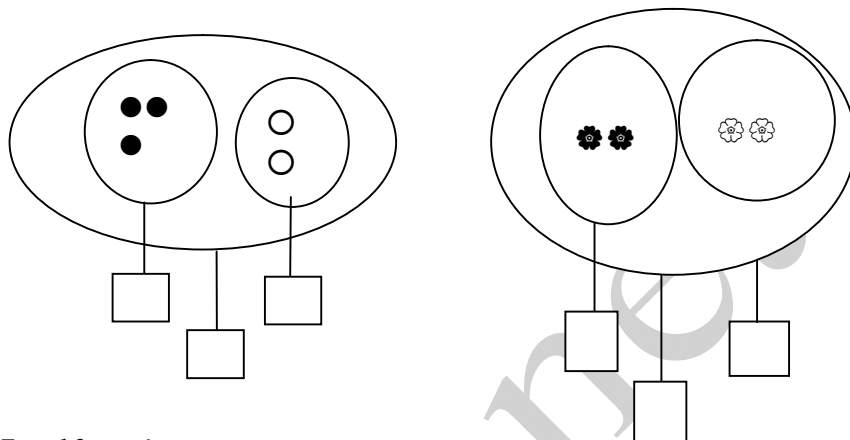
**ĐỀ 8**

**KIỂM TRA ĐỊNH KÌ GIỮA HỌC KÌ I - NĂM HỌC 2011-2012**

**Môn: Toán – Lớp 1**

**Thời gian : 40 phút**

**Bài 1: Số?**



**Bài 2: Viết các số 0 ; 7 ; 10 ; 4.**

a) Theo thứ tự từ bé đến lớn: .....

b) Theo thứ tự từ lớn đến bé: .....

**Bài 3: Tính:**

a)

$1 + 3 = \dots\dots$

$3 + 1 = \dots\dots$

$3 + 2 = \dots\dots$

$1 + 1 + 1 = \dots\dots$

$2 + 1 + 1 = \dots\dots$

$1 + 0 + 2 = \dots\dots$

b)

$$\begin{array}{r} 1 \\ + 2 \\ \hline \dots\dots \end{array}$$

$$\begin{array}{r} 3 \\ + 2 \\ \hline \dots\dots \end{array}$$

$$\begin{array}{r} 2 \\ + 2 \\ \hline \dots\dots \end{array}$$

$$\begin{array}{r} 1 \\ + 0 \\ \hline \dots\dots \end{array}$$

**Bài 4:**

$>$ $<$ $=$	?	2		4		2 + 2		3
		2 + 1		1 + 2		3 + 2		5

$2 + 2 \square 3$

$3 + 2 \square 5$

**Bài 5: Số?**

$\square + 1 \rightarrow \square + 2 \rightarrow \square$

$\square + 2 \rightarrow 3 + 1 \rightarrow \square$

**ĐỀ 9**

**KIỂM TRA ĐỊNH KÌ GIỮA HỌC KÌ I - NĂM HỌC 2011-2012**

**Môn: Toán – Lớp 1**

**Thời gian : 40 phút**

**Câu 1: Số ?**

a) 

1	2		4						10
---	---	--	---	--	--	--	--	--	----

b) 

10			7			4			1
----	--	--	---	--	--	---	--	--	---

**Câu 2:**

>
<
=

 ?

1 

--

 $2 + 1$       5 

--

 $2 + 2$       2 

2
---

 $+ 1$

4 

--

 $3 + 1$       3 

--

 $1 + 1$       5 

4
---

 $+ 1$

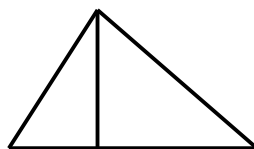
**Câu 3: Tính:**

a)  $1 + 2 =$   
 $2 + 3 =$   
 $4 + 1 =$

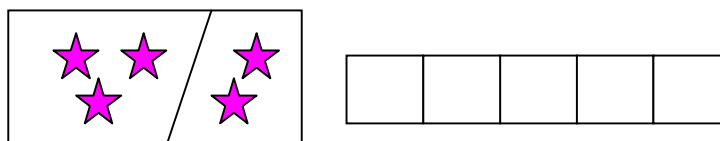
b)  $0 + 2 =$   
 $1 + 2 =$   
 $3 + 1 =$

**Câu 4:**

Hình bên có ..... hình tam giác?



**Câu 5:**Viết phép tính thích hợp:



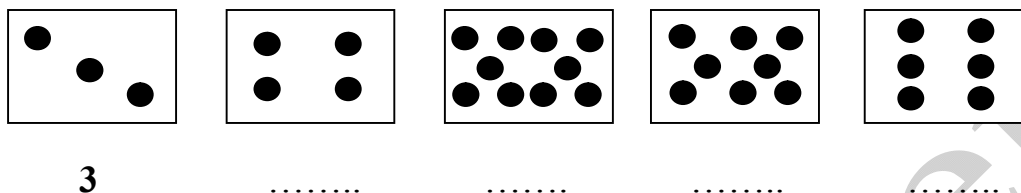
**ĐỀ 10**

**KIỂM TRA ĐỊNH KÌ GIỮA HỌC KÌ I - NĂM HỌC 2011-2012**

**Môn: Toán – Lớp 1**

**Thời gian : 40 phút**

**Bài 1: Số?**



**Bài 2: Tính:**

a)     2            3            2            3  
       +1        +2        +2        +1  
       ....        ....        ....        ....

b)     1 + 2 + 1 = .....                      3 + 0 - 1 = .....

**Bài 3: Số?**

1 + ..... = 4

3 - ..... = 1

..... + 4 = 5


**Bài 4: > < = ?**

a)            0.....1            7.....7            8.....5            3... ..9

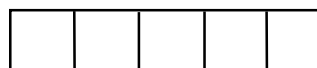

b)            2  0 + 4            2 + 2  3            3 - 1  1 + 1

**Bài 5: Hình bên :**

Có ..... hình vuông.



**Bài 6: Viết phép tính thích hợp:**



**ĐỀ 11**

**KIỂM TRA ĐỊNH KÌ GIỮA HỌC KÌ I - NĂM HỌC 2011-2012**

**Môn: Toán – Lớp 1**

**Thời gian : 40 phút**

**1/ Viết**

a/ Khoanh tròn vào số lớn nhất: 1; 2; 5; 10; 8; 9; 4; 3; 6; 7.

b/ Khoanh tròn vào số bé nhất: 5; 6; 3; 4; 1; 8; 9; 2; 7; 10.

**2/ Tính:**

a)	$\begin{array}{r} 1 \\ + \\ 3 \\ \hline \end{array}$	$\begin{array}{r} 5 \\ + \\ 0 \\ \hline \end{array}$	$\begin{array}{r} 3 \\ + \\ 2 \\ \hline \end{array}$	$\begin{array}{r} 4 \\ + \\ 1 \\ \hline \end{array}$
	.....	.....	.....	.....

b)  $2 + 2 = \dots$

$4 + 0 + 1 = \dots$

$3 + 1 + 1 = \dots$

$3 + 0 + 2 = \dots$

**3. Viết các số 5; 8; 2; 3; 1.**

a/ Theo thứ tự từ bé đến lớn: .....

b/ Theo thứ tự từ lớn đến bé: .....

**4. Hình?**



Có ..... hình tam giác

Có ..... hình vuông

Có ..... hình tròn

**5.**



?

$1 + 2 \square 5$

$2 + 3 \square 3$

$4 + 1 \square 4$

$2 + 1 \square 3$

**6. Viết phép tính thích hợp**

a.) có : 3 con gà

Mua thêm : 2 con gà

Tất cả có : .....con gà?

--	--	--	--	--

**ĐỀ 12**

**KIỂM TRA ĐỊNH KÌ GIỮA HỌC KÌ I - NĂM HỌC 2011-2012**

**Môn: Toán – Lớp 1**

**Thời gian : 40 phút**

**Bài 1:**

a) Số ?

0	1		3		5			8	9	
---	---	--	---	--	---	--	--	---	---	--

**Bài 2:**

a) Tính:

$$\begin{aligned} 1 + 2 &= \\ 2 + 0 &= \end{aligned}$$

$$\begin{aligned} 3 &= 2 + \dots \\ 2 &= 0 + \dots \end{aligned}$$

b) Tính:

$$\begin{array}{r} + \quad 5 \\ \quad 0 \\ \hline \dots \end{array} \quad + \quad \begin{array}{r} 2 \\ 1 \\ \hline \dots \end{array} \quad + \quad \begin{array}{r} 0 \\ 2 \\ \hline \dots \end{array} \quad + \quad \begin{array}{r} 1 \\ 3 \\ \hline \dots \end{array}$$

**Bài 3:**

>
<
=

?

$3 \dots 5$

$2 + 1 \dots 5$

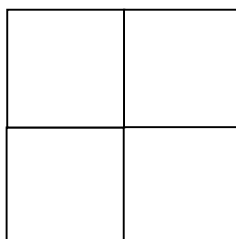
$5 \dots 4$

$2 + 2 \dots 4$

**Bài 4:** Viết phép tính thích hợp:



**Bài 5:** Hình vẽ bên có...hình vuông:



**Bài 6:**

- a. Khoanh vào số lớn nhất: 8 ; 2 ; 7 ; 9.  
b. Khoanh vào số bé nhất: 10 ; 3 ; 8 ; 4.

**ĐỀ 13**

**KIỂM TRA ĐỊNH KÌ GIỮA HỌC KÌ I - NĂM HỌC 2011-2012**

**Môn: Toán – Lớp 1**

**Thời gian : 40 phút**

**1/ Viết số**

a/ Viết các số từ 5 đến 9

--	--	--	--	--

b/ Viết số ( theo mẫu):

**	**	***	***	****
	**	**	**	****

2

2/ Khoanh vào số lớn nhất (theo mẫu):

a/ 7, 5, 6, **9**      b/ 8, 10, 9      c/ 6, 2, 5

**3/ Tính:**

$\begin{array}{r} 2 \\ +1 \\ \hline \end{array}$	$\begin{array}{r} 3 \\ +2 \\ \hline \end{array}$	$\begin{array}{r} 1 \\ +3 \\ \hline \end{array}$	$\begin{array}{r} 4 \\ +1 \\ \hline \end{array}$	$\begin{array}{r} 2 \\ +3 \\ \hline \end{array}$	$\begin{array}{r} 5 \\ +0 \\ \hline \end{array}$
--	--	--	--	--	--

**4/ Tính:**

$1 + 2 = \dots\dots\dots$        $3 + 1 + 1 = \dots\dots\dots$   
 $2 + 3 = \dots\dots\dots$        $1 + 2 + 1 = \dots\dots\dots$

**5/**

$\begin{array}{ c } \hline > \\ < \\ = \\ \hline \end{array}$ ?	9 <input type="checkbox"/> 10	8 <input type="checkbox"/> 7
	5 <input type="checkbox"/> 5	6 <input type="checkbox"/> 0

**6/ Điền số thích hợp vào chỗ trống:**

$1 + \square = 2$	$2 + \square = 3$
$2 + \square = 2$	$3 + \square = 4$

**7/ Nối phép tính với số thích hợp:**

$2 + 2$	$2 + 0$	$0 + 3$	$2 + 3$
---------	---------	---------	---------


1

2

5

3

8/ Hình vẽ bên có:



- .....hình vuông
- .....hình tam giác
- .....hình tròn

ĐỀ 14

KIỂM TRA ĐỊNH KÌ GIỮA HỌC KÌ I - NĂM HỌC 2011-2012

Môn: Toán – Lớp 1

Thời gian : 40 phút

Bài 1: Số ?

0		2	3	
---	--	---	---	--

	9			6
--	---	--	--	---

Bài 2: Tính nhẩm

$1 + 1 =$

$2 + 2 =$

$3 + 1 + 1 =$

$3 + 1 =$

$2 + 1 =$

$2 + 1 + 0 =$

Bài 3:

>
<
=

? 4 ... 5  
9 ... 10

2 ... 0  
4 ... 6

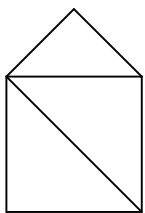
7 ... 3 + 2  
5 ... 4 + 1

Bài 4: Viết phép tính thích hợp



--	--	--	--	--

Bài 5: Hình dưới có:



Có  hình vuông .  
 Có  hình tam giác .

**ĐỀ 15**

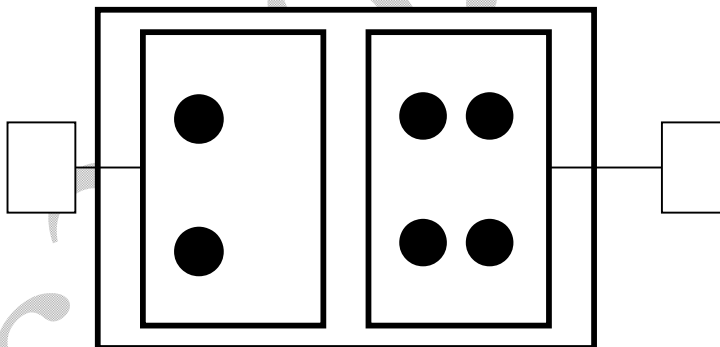

**KIỂM TRA ĐỊNH KÌ GIỮA HỌC KÌ I - NĂM HỌC 2011-2012**

**Môn: Toán – Lớp 1**


**Thời gian : 40 phút**

**Bài 1:**

a)  SỐ ?



b)  SỐ ?



**Bài 2:**

>  
 < ?  
 =

$3 + 2$    $4$

$2 + 1$    $2$

$5 + 0$    $5$

$3 + 1$    $4 + 1$

$2 + 0$    $0 + 2$

$2 + 2$    $1 + 2$

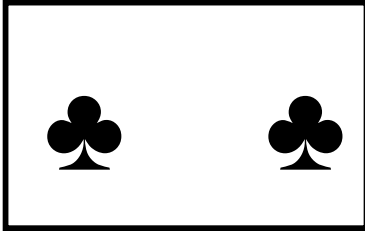
**Bài 3:** Viết các số 6, 2, 9, 4, 7:

a) Theo thứ tự từ bé đến lớn: .....





b ) Theo thứ tự từ lớn đến bé: .....

**Bài 4:** Viết phép tính thích hợp



và



hoc360.net