

## HOC360.NET - TÀI LIỆU HỌC TẬP MIỄN PHÍ

<b>Trường Tiểu học Sông Mây</b> Họ và tên:..... ..... Học sinh lớp : 2...	<b>Đề thi kiểm tra giữa kì II.</b> Môn : Toán Năm học : 2014-2015 Thời gian : .....	<b>Chữ ký giám thị</b> GT 1:  GT 2:	<b>Số thứ tự</b>  <b>Mật mã</b>
<b>Điểm</b>	<b>Nhận xét</b>	<b>Chữ ký giám khảo</b> GK 1:  GK 2:	<b>Mật mã</b>

### I. TRẮC NGHIỆM :.... (3 điểm )

**Khoanh tròn kết quả đúng nhất .**

1/ Tính :

$$32 : 4 = ?$$

- a. 7                      b. 8                      c. 9                      d. 10

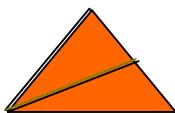
2/ Tìm x biết:  $4 \times X = 36$

- a.  $x = 8$                       b.  $x = 7$                       c.  $x = 9$                       d.  $x = 6$

3/Viết “giờ” hoặc “phút” vào chỗ chấm thích hợp:

- a. Mỗi trận thi đấu bóng đá kéo dài trong 90 .....
- b. Buổi sáng, em thức dậy lúc 6 .....

4/ Khoanh vào chữ đặt dưới hình đã tô màu  $\frac{1}{3}$



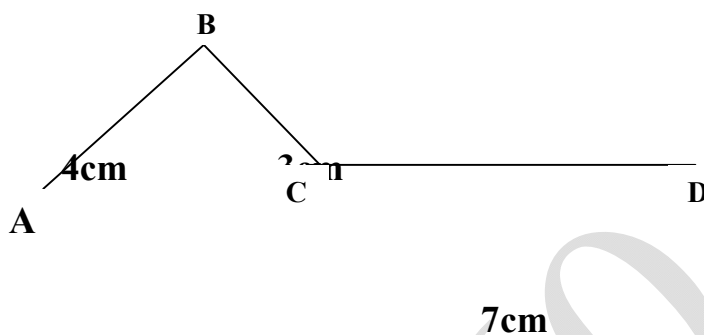
A



B



5/ Độ dài đường gấp khúc ABCD là:



- A 10cm    B. 16cm    C. 17    D. 14 cm

6/ Có 25 quyển vở chia đều cho 5 bạn. Hỏi mỗi bạn có mấy quyển vở?

- a. 5 kg    b. 6 kg    c. 4 kg    d. 3 kg

II. TỰ LUẬN: ... (7điểm ).

1. Tính nhẩm : (1 đ)

$6 \times 4 = \dots$        $27 : 3 = \dots\dots$

$6 \times 3 = \dots\dots$        $28 : 4 = \dots\dots$

**2. Tìm X : (1 đ)**

a/  $X \times 5 = 35$

.....  
.....  
.....

b/  $X : 4 = 8 \times 4$

.....  
.....  
.....

**3. Tính (1 đ)**

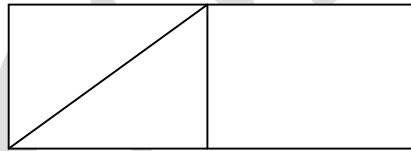
a)  $3 \times 7 + 25 =$

b)  $3 \times 0 + 16 =$

**4. Hình vẽ bên có : (1 đ)**

a/ .....hình tam giác .

b/ .....hình tứ giác .

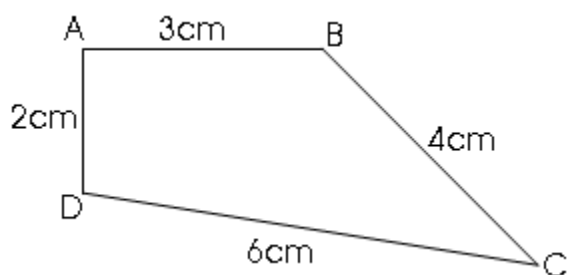


**5. Có 30 bông hoa cắm vào các bình, mỗi bình có 5 bông hoa. Hỏi cắm được tất cả mấy bình? (1 điểm)**

**Bài giải**

.....  
.....  
.....

**6. Cho tứ giác ABCD ( như hình vẽ) (2 đ)**



a. Tính chu vi của hình tứ giác ABCD.

b. Kẻ thêm 1 đoạn thẳng để được 1 hình tam giác và 2 hình tứ giác. (kẻ trực tiếp vào hình)

**Bài giải**

.....

.....

.....