

ĐỀ THI CUỐI HỌC KỲ I TOÁN 2 (2012 – 2013)

ĐỀ SỐ 1)

Trường:

KIỂM TRA CUỐI HỌC KÌ I

Lớp:

Môn: TOÁN-LỚP 2

Tên:

Năm học: 2011 – 2012

Thời gian: 90 phút.

Bài 1: Viết số thích hợp vào chỗ chấm: (1 điểm)

a. 87; 88; 89;;;;; 94; 95

b. 82; 84; 86;;;;; 97; 98

Bài 2: Viết số hoặc chữ thích hợp vào chỗ chấm: (1 điểm)

Đọc số	Viết số
Chín mươi sáu.
.....	84

Bài 3: Tính nhẩm: (1 điểm)

a. $9 + 8 = \dots$

c. $2 + 9 = \dots$

b. $14 - 6 = \dots$

d. $17 - 8 = \dots$

Bài 4: Đúng ghi Đ, sai ghi S vào ô trống: (1 điểm)

a. $8 + 9 = 16$

b. $5 + 7 = 12$

Bài 5: Đặt tính rồi tính: (2 điểm)

a. $57 + 26$

b. $39 + 6$

c. $81 - 35$

d. $90 - 58$

.....
.....
.....

Bài 6: Khoanh vào chữ đặt trước câu trả lời đúng: (1 điểm)

a. $8 \text{ dm} + 10 \text{ dm} = \dots \text{ dm}$

A. 18 dm

B. 28 dm

C. 38 dm

b. Tìm x biết: $X + 10 = 10$

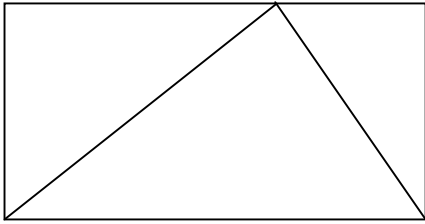
A. $x = 10$

B. $x = 0$

C. $x = 20$

Bài 7: Khoanh vào chữ đặt trước câu trả lời đúng: (1 điểm)

a. Có bao nhiêu hình chữ nhật?



- A. 1 hình
- B. 2 hình
- C. 3 hình

b. Có bao nhiêu hình tam giác?

- A. 2 hình
- B. 3 hình
- C. 4 hình

Bài 8: (2 điểm)

a. Nhà bạn Mai nuôi 44 con gà. Nhà bạn Hà nuôi ít hơn nhà bạn Mai 13 con gà. Hỏi nhà bạn Hà nuôi bao nhiêu con gà? (1 điểm)

.....

.....

.....

b. Em hái được 20 bông hoa, chị hái được nhiều hơn em 5 bông hoa. Hỏi chị hái được mấy bông hoa? (1 điểm)

.....

.....

.....

Bài 6: Viết tiếp vào chỗ chấm

17 giờ haygiờ chiều

24 giờ haygiờ đêm

Bài 7: Xem tờ lịch tháng 5 dưới đây rồi trả lời câu hỏi:

	Thứ hai	Thứ ba	Thứ tư	Thứ năm	Thứ sáu	Thứ bảy	Chủ nhật
Tháng 5		1	2	3	4	5	6
	7	8	9	10	11	12	13
	14	15	16	17	18	19	20
	21	22	23	24	25	26	27
	28	29	30	31			

- Ngày 19 - 5 là thứ - Trong tháng 5 có ngày chủ nhật. Đó là những ngày

.....

- Tuần này, thứ năm là ngày 17. Tuần trước, thứ năm là ngày Tuần sau, thứ năm là ngày....

- Em được nghỉ học thứ bảy và chủ nhật. Vậy em đi học tất cả ngày.

Bài 8: Viết phép trừ có số bị trừ, số trừ và hiệu bằng nhau

.....
.....

Bài 9: Vẽ một đường thẳng và đặt tên cho đường thẳng đó.

.....
.....
.....

ĐỀ SỐ 3

Trường:

KIỂM TRA CUỐI HỌC KÌ I

Lớp:

MÔN: TOÁN - KHỐI 2

Họ và tên:

Năm học: 2011– 2012

Thời gian: 60 phút.

Bài 1. (2 điểm) Hãy khoanh tròn vào chữ đặt trước câu trả lời đúng:

a/ $39 + 6 = ?$

- A. 44 B. 45 C. 46 D. 99

b/ $17 - 9 = ?$

- A. 8 B. 9 C. 10 D. 12

c/ $98 - 7 = ?$

- A. 28 B. 91 C. 95 D. 97

d/ $8 + 6 = ?$

- A. 14 B. 15 C. 86 D. 68

Bài 2: Đặt tính rồi tính: (2 điểm)

$27 + 69$ $14 + 56$ $77 - 48$ $63 - 45$

.....
.....
.....

Bài 3: Tìm x: (1 điểm)

$x + 20 = 48$

$x - 22 = 49$

.....
.....

Bài 4: Điền dấu >, <, = (1 điểm)

$13 + 29$ $28 + 14$

$97 - 58$ $32 + 5$

Bài 5: (1 điểm)

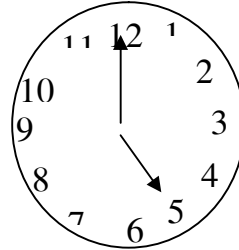
a/ Xem lịch rồi cho biết:

11	Thứ hai	7	14	21	28	
	Thứ ba	1	8	15	22	29
	Thứ tư	2	9	16	23	30
	Thứ năm	3	10	17	24	
	Thứ sáu	4	11	18	25	
	Thứ bảy	5	12	19	26	
	Chủ nhật	6	13	20	27	

- Tháng 11 có ngày.

- Có ngày chủ nhật.

b. Đồng hồ chỉ mấy giờ?



Bài 6. (2 điểm)

a. Anh cân nặng 47 kg, em nhẹ hơn anh 19 kg. Hỏi em cân nặng bao nhiêu ki-lô-gam?

Bài giải

.....
.....
.....
.....

b. Thùng bé đựng được 51 lít nước, thùng lớn đựng nhiều hơn thùng bé 19 lít nước. Hỏi thùng lớn đựng được bao nhiêu lít nước?

Bài giải

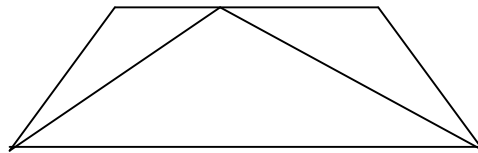
.....
.....
.....
.....

Bài 7: (1 điểm)

Trong hình bên :

a/ Có hình tam giác.

b/ Có hình tứ giác.



ĐỀ SỐ 4)

Trường:

Lớp:

Họ và tên:

ĐỀ KIỂM TRA CUỐI HỌC KÌ I

MÔN: TOÁN KHỐI 2

Năm học: 2011 – 2012

Thời gian: 60 phút

Bài 1: (1 điểm)

Tính nhẩm:

$16 + 3 = \dots$

$14 - 8 = \dots$

$15 - 6 = \dots$

$9 + 7 = \dots$

Bài 2: (2 điểm)

Đặt tính rồi tính :

a) $35 + 44$

b) $46 + 25$

c) $80 - 47$

d) $39 - 16$

.....
.....
.....

.....
.....
.....

.....
.....
.....

Bài 3: (1 điểm)

Số : ?

a) $16 + 51 - 10 =$

b) $24\text{kg} - 13\text{kg} + 4\text{kg} =$

Bài 4: (2 điểm)

Tìm X biết:

a) $X + 16 = 73$

b) $X - 27 = 57$

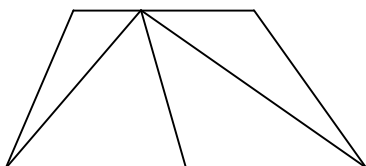
.....
.....

.....
.....

Bài 5: (1 điểm)

Nhận dạng hình :

Trong hình vẽ dưới đây:



a) Có ... hình tam giác.

b) Có ... hình tứ giác.

Bài 6: (1 điểm)

Điền số thích hợp để được phép tính đúng :

	+		=	100
--	---	--	---	-----

	-		=	50
--	---	--	---	----

Bài 7: (2 điểm)

a) Mẹ 34 tuổi, Cha hơn Mẹ 6 tuổi. Hỏi Cha bao nhiêu tuổi ?

Bài giải

.....
.....
.....
.....

b) Anh Tùng học lớp 5 cân nặng 43 kg, bạn Tuấn học lớp 2 nhẹ hơn anh Tùng 15 kg.
Hỏi bạn Tuấn cân nặng bao nhiêu kilôgam ?

Bài giải

.....
.....
.....
.....

ĐỀ SỐ 5

Bài 1 (2đ) Đặt tính rồi tính:

$54 + 36$

$27 + 63$

$54 - 38$

$88 - 49$

Bài 2 (2đ) Tìm X

$a) x - 36 = 52$

$b) 92 - x = 45$

Bài 3 (2đ)

Trong một ngày, cửa hàng bán được 56 kg đường, trong đó buổi sáng bán được 27kg. Hỏi buổi chiều bán được bao nhiêu kg đường?

Bài giải

Bài 4 (2đ) Khoanh tròn vào chữ cái trước kết quả đúng

$a/ 28 + 36 + 14 = ?$

$b/ 76 - 22 - 38 = ?$

A. 68

A. 26

B. 78

B. 15

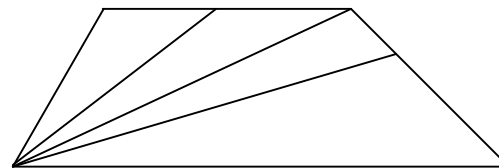
C. 79

C. 16

Bài 5 (1đ) Hình bên có:

.....tam giác

.....tứ giác



Bài 6 (1đ) Viết phép tính có hiệu bằng số bị trừ

$\square - \square = \square$

ĐỀ SỐ 6

Môn toán lớp 2 cuối kì 1 (Thời gian làm bài 40 phút)

Phần 1: Mỗi bài tập dưới đây có kèm theo một số câu trả lời A, B, C (là đáp số kết quả tính). Hãy khoanh vào chữ đặt trước câu trả lời đúng.

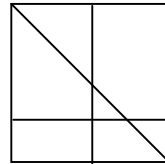
1, Cho hình vẽ:

a) Số hình vuông có trong hình vẽ là:

A. 4 B. 5 C. 6

b) Số hình tam giác có trong hình vẽ là

A. 4 B. 5 C. 6



2, Cho phép tính: $53 - 36$. Kết quả của phép tính trên là:

A. 27 B. 17 C. 37

Phần 2: 1, Đặt tính rồi tính

$$36 + 24 \qquad 25 + 57 \qquad 18 + 35 \qquad 47 + 28$$

$$36 + 24 = \qquad 25 + 57 = \qquad 18 + 35 = \qquad 47 + 28 =$$

$$53 - 28 \qquad 60 - 27 \qquad 63 - 26 \qquad 74 - 25$$

$$53 - 28 = \qquad 60 - 27 = \qquad 63 - 26 = \qquad 74 - 25 =$$

2, Tìm x:

$$x - 29 = 52$$

$$43 - x = 41$$

$$x + 45 = 63$$

3. Giải bài toán:

Lan hái được 34 bông hoa, Mai hái được ít hơn Lan 8 bông hoa. Hỏi Mai hái được bao nhiêu bông hoa?

ĐỀ SỐ 7)

Môn Toán lớp 2 (Thời gian làm bài 40 phút)

Bài 1: Khoanh vào chữ đặt trước câu trả lời đúng

a/ $85 - 39 = ?$

- A. 45 B. 46 C. 55 D. 56

b/ $29 - 5 + 15 = ?$

- A. 49 B. 39 C. 19 D. 9

Bài 2: Viết các số vào ô trống

Đọc	Viết
Tám mươi lăm	
Chín mươi chín	

Bài 3: Đặt tính rồi tính

$43 + 57$

$92 - 75$

$43 + 57$

$92 - 75$

Bài 4: Tìm x

a/ $x - 22 = 38$

b/ $x + 14 = 4$

Bài 5: Một cửa hàng buổi sáng bán được 45 kg đường, buổi chiều bán được ít hơn buổi sáng 24 kg đường. Hỏi buổi chiều cửa hàng đó bán được bao nhiêu ki lô gam đường?

.....

.....

.....

.....

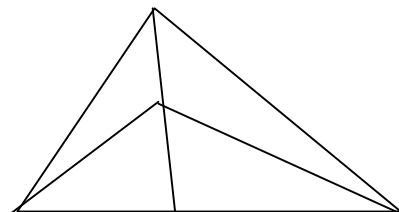
.....

.....

.....

Bài 6: Hình vẽ bên có mấy hình tam giác?

Hình vẽ trên có..... hình tam giác.



ĐỀ SỐ 8) Môn Toán lớp 2

Bài 1: Viết số thích hợp vào ô trống

Số hạng	38	15	25	
Số hạng	27		25	32
Tổng		60		82

Số bị trừ	11		64	90
Số trừ	4	34		
Hiệu		15	34	38

Bài 2: Tính :

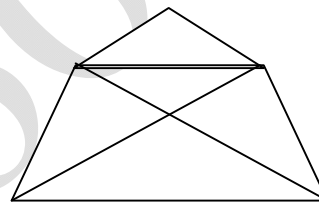
a) $72 - 36 + 24 =$

b) $36 + 24 - 18$

Bài 3: Khoanh vào chữ đặt trước kết quả đúng

Số hình tứ giác trong hình vẽ là:

- A. 1 B. 2 C. 3 D. 4



Bài 4: Bình cân nặng 28 kg, An nhẹ hơn Bình 4 kg . Hỏi An nặng bao nhiêu ki lô gam?

Bài giải

.....

.....

.....

.....

.....

.....

Bài 5: Điền số thích hợp vào chỗ chấm

- a) Một ngày có giờ
- b) 15 giờ haygiờ chiều
- c) Từ 7 giờ sáng đến 10 giờ sáng cùng ngày là giờ.

Bài 6: Tính nhanh

$$10 - 9 + 8 - 7 + 6 - 5 + 4 - 3 + 2 - 1$$

ĐỀ SỐ 9)

Họ và tên:

BÀI KIỂM TRA CUỐI HỌC KÌ I – MÔN: TOÁN

Lớp:

Lớp 2 - Năm học: 2010 – 2011

Thời gian làm bài 40 phút (không kể thời gian giao đề)

Bài 1. Viết số thích hợp vào chỗ chấm:

a) 57; 58; 59;; 64.

b) 83; 84; 85;; 97.

Bài 2. ?

a)

Số hạng	8	8
Số hạng	7	8
Tổng		

b)

Số bị trừ	13	15
Số trừ	6	7
Hiệu		

Bài 3. Đúng ghi Đ, sai ghi S vào ô trống:

a) $9 + 8 = 17$

b) $15 - 8 = 6$

c) $16 - 9 = 8$

d) $6 + 8 = 14$

Bài 4. ?

a) $16l + 5l - 10l =$ l

b) $24kg - 13kg + 4kg =$ kg

Bài 5. Đặt tính rồi tính:

$46 + 35$

$53 - 28$

$36 + 54$

$80 - 47$

.....
.....
.....

Bài 6. Anh Hoàng cân nặng 46kg, Minh cân nhẹ hơn anh Hoàng 18kg. Hỏi Minh cân nặng bao nhiêu ki-lô-gam?

Bài giải

.....
.....

Bài 7. Viết số thích hợp vào chỗ chấm:

Hình vẽ bên:



a) Có hình tam giác.

b) Có hình tứ giác.

hoc360.net