

Bài tập toán nâng cao lớp 2

Hoc360.net

Bài 1 : Tìm x biết:

a) $x + 39 + 19 = 87 + 9$

b) $x - 26 = 75 - 17$

c) $45 + 47 - x = 59 + 9$

.....
.....
.....
.....

.....
.....
.....
.....

.....
.....
.....
.....

Bài 2 : Tính nhanh:

a) $17 + 25 + 13 + 45$

b) $24 + 18 + 26 + 22$

c) $50 + 17 + 13 + 20$

.....
.....
.....
.....

b) Điền số thích hợp vào ô trống

Số hạng	536		490	490
Số hạng	342	536	205	
Tổng		878		695

Số bị trừ	989		989	
Số trừ	576	576		430
Hiệu		413	413	786

Bài 3 : Tấm vải trắng dài 56 m và ít hơn tấm vải hoa 18 m . Hỏi cả hai tấm vải dài bao nhiêu mét?

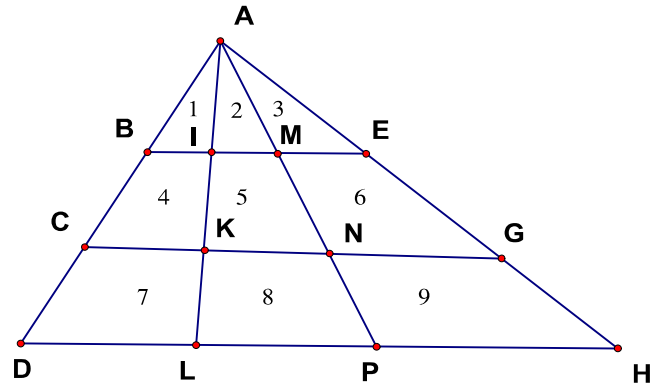
.....
.....
.....
.....
.....

Bài 4 : Cho hình vẽ :

a) Ở hình $\triangle ABE$ có các tam giác :

b) Ở hình tam giác ACG có thêm các tam giác:

c) Ở hình tam giác ADH có thêm các tam giác :



d) Số tam giác có tất cả là :

Bài 5 :

a) Số ?

Số bị trừ	789	916	769			974
Số trừ	456	302	240	506	650	
Hiệu				83	207	522

b) Tìm x biết:

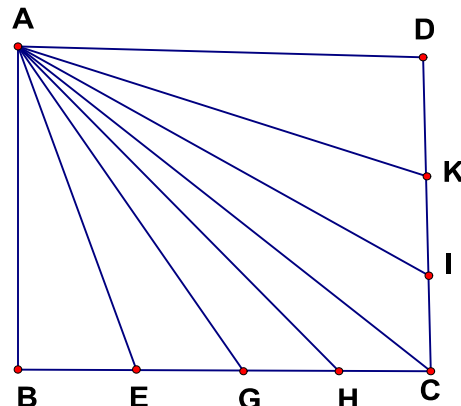
$$112 + 143 + x = 999 - 102$$

$$x - 123 = 400 + 56$$

$$962 - x = 869 - 28$$

Bài 6 : Anh cao 159 cm và cao hơn em 24 cm . Hỏi cả hai anh em cao bao nhiêu cm ?

Bài 7 : Viết tên tất cả các hình tam giác có ở hình bên



Bài 8 :

a) Điền từ thích hợp vào câu sau:

- Trong phép cộng nếu ta thêm bao nhiêu đơn vị vào một số hạng và bớt đi bấy nhiêu đơn vị ở số hạng đó thì tổng hai số hạng đó

Ví dụ : $97 + 55 = 100 + 52 = \dots\dots$

b) Tính nhanh theo mẫu ở ví dụ trên :

$198 + 63 = \dots\dots\dots$ $499 + 87 = \dots\dots\dots$

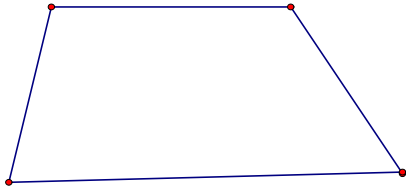
$395 + 86 = \dots\dots\dots$ $146 + 49 = \dots\dots\dots$

Bài 9 : Viết số theo mẫu


Số viết bằng cả chữ	Số viết bằng chữ số	Gồm có		
		Số trăm	Số chục	Số đơn vị
Năm trăm ba mươi bảy	537	5	3	7
Bảy trăm hai mươi ba				
Tám trăm năm mươi				
Chín trăm linh năm				
		8	0	0
	901			
		9	8	9

Bài 10 : Vẽ thêm 1 đoạn thẳng sao cho trên mỗi hình vẽ dưới đây

a) Có 2 tứ giác và 1 tam giác



b) Có 3 tứ giác



Bài 11 : Có 1 túi cam nặng 9 kg và 1 quả cân nặng 1 kg . Dùng loại cân có 2 đĩa em làm thế nào cân cho người mua 5 kg cam được ?

Bài 12 : Tấm vải trắng dài 56 cm và ít hơn tấm vải vải hoa 18 cm . Hỏi cả hai tấm vải dài bao nhiêu cm ?

Bài 13 : Tìm x biết:

$112 + 134 + x = 946 - 269$

$x - 123 = 400 + 56 - 75$

$962 - x = 869 - 28$
