

BÀI TẬP ÔN HÈ MÔN TOÁN 4

Tuần 1

Bài 1: Điền dấu ($<$; $>$; $=$) thích hợp vào chỗ chấm

23476.....32467

5688.....45388

9087.....8907

3489034890

120831208

93021.....9999

Bài 2: Một nhà máy trong 4 ngày sản xuất được 680 ti vi. Hỏi trong 7 ngày nhà máy đó sản xuất được bao nhiêu chiếc ti vi, biết số ti vi mỗi ngày sản xuất như nhau .

.....
.....
.....

Bài 3: Số ba mươi nghìn không trăm linh bảy viết là :

A. 300 007

B. 30 007

C. 3 007

D . 30 070

Bài 4 : Số lớn nhất gồm 5 chữ số khác nhau là :

A. 99 999

B. 98756

C. 98765

D. 99 995

Phần dùng để sửa bài làm sai ở trên

.....
.....
.....
.....
.....
.....

Tuần 2

Bài 1: Viết các số sau:

- a. Mười lăm nghìn:.....
b. Bảy trăm năm mươi:.....
c. Bốn triệu:.....
d. Một nghìn bốn trăm linh năm:.....

Bài 2: Trong các số sau 67382; 37682; 62837; 62783; 286730 số nào lớn nhất là :

- A. 67382 B. 62837 C. 286730 D. 62783

Bài 3: Số liền sau số 999 999 là :

- A. 1 triệu B. 10 triệu C. 1 tỉ D. 100 triệu

Bài 4: Viết số gồm : 7 triệu, 7 trăm triệu, 7 nghìn, 7 đơn vị :.....

Phần dùng để sửa bài làm sai ở trên

.....
.....
.....
.....
.....
.....
.....

Tuần 3

Bài 1: Viết số thích hợp vào chỗ chấm

a. 675; 676; ;;.....;.....;681.

b. 100;.....;.....;.....; 108; 110.

Bài 2: Viết số gồm :

a. 2 trăm nghìn, 5 trăm, 3 chục, 9 đơn vị:.....

b. 5 nghìn, 8 chục, 3 đơn vị :.....

c. 9 trăm nghìn, 4 nghìn, 6 trăm 3 chục:.....

Bài 3: Dãy số tự nhiên là :

A. 1, 2, 3, 4, 5,...

B. 0, 1, 2, 3, 4, 5,.....

C. 0, 1, 2, 3, 4, 5.

D. 0, 1, 3, 4, 5,....

Bài 4: Tìm x với : x là số tròn chục, $91 > x > 68$; x=.....

Phần dùng để sửa bài làm sai ở trên

.....

.....

.....

.....

.....

.....

.....

Tuần 4

Bài 1: Viết số thích hợp vào chỗ chấm .

a. 50 dag =hg

4 kg 300g =g

b. 4 tấn 3 kg =kg

5 tạ 7 kg =kg

c. 82 giây =phútgiây

1005 g =kgg

Bài 2 : 152 phút =giờphút .

Số cần điền là :

A. 15 giờ 2 phút

B. 1 giờ 52 phút

C. 2 giờ 32 phút

D. 1 giờ 32 phút

- A. 5 647 532 B. 4 785 367 C. 11 048 502 D. 8 000 000

Bài 4: Can thứ nhất đựng 12 lít nước . Can thứ hai đựng 16 lít nước . Hỏi can thứ ba đựng bao nhiêu lít nước ? Biết trung bình mỗi can đựng 15 lít nước.

.....
.....
.....
.....

Phần dùng để sửa bài làm sai ở trên

.....
.....
.....
.....
.....
.....

Tuần 6

Bài 1: Đặt tính rồi tính:

- a) $2547 + 7241$ b) $3917 - 2567$ c) $2968 + 6524$ d) $3456 - 1234$

.....
.....
.....

Bài 2 : Nếu $a = 6$ thì giá trị của biểu thức $7543 \times a$ là

- A. 45248 B. 45058 C. 45258 D. 42358

Bài 3: Một trường có 315 học sinh nữ, số học sinh nam ít hơn số học sinh nữ 28 bạn. Hỏi trường đó có bao nhiêu học sinh ?

.....
.....

Phần dùng để sửa bài làm sai ở trên

.....
.....
.....
.....
.....
.....

Tuần 8

Bài 1: Tính bằng cách thuận tiện nhất.

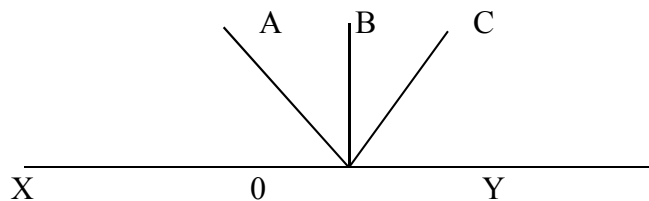
a) $96 + 78 + 4 =$

b) $677 + 969 + 123 + 31 =$

Bài 2: Tuổi trung bình của hai chị em là 18, chị hơn em 6 tuổi. Hỏi chị bao nhiêu tuổi, em bao nhiêu tuổi ?

.....
.....
.....
.....

Bài 3: Đọc tên các góc vuông, nhọn, bẹt, tù có trong hình sau :



Các góc vuông là:.....

Các góc nhọn là:.....

Các góc bẹt là:.....

Các góc tù là:.....


Bài 4 : Chu vi hình chữ nhật là 10 m , chiều dài hơn chiều rộng 10 dm . Tính diện tích hình chữ nhật?

Đổi:.....

.....
.....
.....
.....
.....

Phần dùng để sửa bài làm sai ở trên

.....
.....
.....
.....
.....
.....



Tuần 9

Bài 1: Tính giá trị biểu thức.

a) $168 \times 2 : 6 \times 4$

b) $570 - 225 \times 2$

.....
.....
.....


Bài 2: Tính chu vi và diện tích hình chữ nhật có chiều dài 5cm, chiều rộng 3cm.

.....
.....
.....

Bài 3 : Ghi tên các cặp cạnh vuông góc, song song có trong hình bên :

A

B



D

C

Bài 4: Cách tính nào sai ?

A. $28 - 12 : 4 = 4$

B. $28 - 12 : 4 = 25$

C. $36 : (2 \times 3) = 6$

D. $24 : 2 : 3 = 4$

Phần dùng để sửa bài làm sai ở trên