

PHÒNG GD GIA VIỄN

Đề kiểm tra khảo sát chất lượng HS giỏi

TRƯỜNG TIỂU HỌC

NĂM HỌC 2010 – 2011

GIA SINH

Môn thi: Toán lớp 2

( Thời gian HS làm bài : 40 phút)

**MÔN TOÁN: 2**

**Bài 1:** (2 điểm)

- Với 3 chữ số 4, 0, 6. Viết tất cả các số có 2 chữ số.

.....  
.....

- Viết tất cả các số có 2 chữ số mà chữ số hàng chục kém chữ số hàng đơn vị là 2.

.....  
.....

**Bài 2:**

a) Điền dấu + ; - vào ô vuông (2 điểm)

$$90 \square 80 \square 30 \square 40 \square 20 = 100$$

$$16 \square 24 \square 20 = 20$$

b) Tính nhanh

$$11 + 28 + 24 + 16 + 12 + 9$$

$$27 + 45 - 27 - 45$$

**Bài 3:** ( 3 điểm)

Tìm 1 số biết rằng số đó cộng với 28 rồi cộng với 17 thì được kết quả là 82

**Bài 4:** (2 điểm)

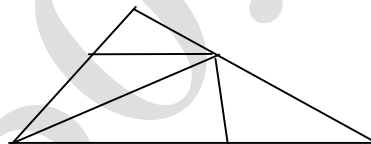
Điền số thích hợp vào  sao cho tổng số ở 3 ô liền nhau = 49

		25		8										
--	--	----	--	---	--	--	--	--	--	--	--	--	--	--

**Bài 5:** Hình bên có (1 điểm)

hình tam giác

hình tứ giác



PHÒNG GD GIA VIỄN  
TRƯỜNG TIỂU HỌC  
GIA SINH

Đề kiểm tra khảo sát chất lượng HS giỏi

NĂM HỌC 2010 - 2011

Môn thi: Toán lớp 2

(Thời gian HS làm bài : 40 phút)

Họ và tên.....Lớp.....SBD.....

---

**Bài 1:** (4đ) a). Viết các số có 2 chữ số mà chữ số hàng đơn vị là 4:

.....

b) Tính tổng của số lớn nhất và số bé nhất trong các số vừa viết:

.....

c) Viết tiếp 3 số vào dãy:

19, 16, 13, ....., ....., .....

**Bài 2:** ( 4đ)

a) Số bé nhất có 3 chữ số khác nhau là: .....

b) Điền số thích hợp vào ô trống:

$6 + \quad = 25$

$80 - \quad = 56 -$

$9 \square + \quad = 92$

**Bài 3:** (3đ)

a. Em học bài lúc 7 giờ tối. Lúc đó là .....giờ trong ngày.

b. Một tháng nào đó có ngày chủ nhật là 17. Vậy ngày chủ nhật đầu tiên của tháng đó là ngày.....

**Bài 4:**(3đ): An và Bình chia nhau 18 nhãn vở. An lấy số nhãn vở nhiều hơn Bình và số nhãn vở của An nhỏ hơn 11.

Vậy An đã lấy ..... nhãn vở

Bình đã lấy ..... nhãn vở

**Bài 5:** (4đ): Lan và Hà đi câu cá. Lan câu được số cá bằng số liền sau số bé nhất có 1 chữ số. Tổng số cá của hai bạn là số lớn nhất có 1 chữ số. Hỏi mỗi bạn câu được mấy con cá?

.....

.....

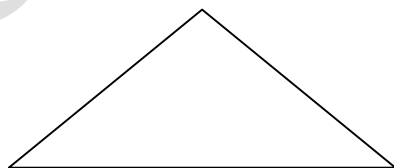
.....

.....

.....

.....

**Bài 6:** (2đ) Kẻ thêm 3 đoạn thẳng để hình vẽ có thêm 4 hình tam giác.



ĐỀ KHẢO SÁT HỌC SINH GIỎI LỚP 2

MÔN : TOÁN

Năm học : 2010 - 2011

( Thời gian học sinh làm bài 40 phút )

**Bài 1** :

1, Viết tất cả các số có hai chữ số mà hiệu hai chữ số là:.....  
.....

2, Viết các số có hai chữ số khác nhau sao cho tổng hai chữ số bằng 8 :.....  
.....

3, Tìm 2 số có tích bằng 12 và số bé bằng  $\frac{1}{3}$  số lớn :

Hai số đó là : .....

**Bài 2** :

1, Điền số thích hợp vào ô trống :

9	11	14	18				44	
---	----	----	----	--	--	--	----	--

2, Tìm x biết :

$$38 < x + 31 - 6 < 44 .$$

$$x = \dots\dots\dots$$

3, Điền số thích hợp vào ô trống :

$$\square - 2 - 3 \square = 17 \quad ; \quad 32 - 1 \square < 52 - 38 .$$

**Bài 3** :

1, Đôi thỏ nhà Thu đẻ được 5 con. Vậy chuồng thỏ nhà Thu có  $\square$  đôi tai thỏ,  
 $\square$  chân thỏ .

2, Mai có 1 tá bút chì, Mai có ít hơn Lan 2 cái. Nga có nhiều hơn Mai nhưng ít hơn Lan. Hỏi ba bạn có bao nhiêu bút chì ?

Tóm tắt

Bài giải

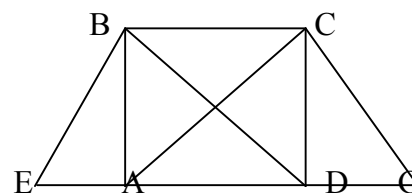
<p>.....</p> <p>.....</p> <p>.....</p> <p>.....</p> <p>.....</p> <p>.....</p> <p>.....</p> <p>.....</p>	<p>.....</p> <p>.....</p> <p>.....</p> <p>.....</p> <p>.....</p> <p>.....</p> <p>.....</p> <p>.....</p>
---	---

**Bài 4 :**

Hình vẽ bên có :

hình tam giác.

hình tứ giác.



Tên các hình tứ giác là : .....

.....

**PHÒNG GIÁO DỤC GIA  
VIỄN**

**ĐỀ KHẢO SÁT HỌC SINH GIỎI**

**Môn: Toán lớp 2**

Trường Tiểu học Gia Sinh

Năm học 2006 – 2007

( Thời gian học sinh làm bài 40 phút)

Họ và tên: .....Số báo danh:.....

Bài 1: ( 5Đ) a, Viết tiếp 3 số vào dãy số sau:

3, 6, 9, 12.....,.....,.....,

40, 36, 32, 28.....,.....,.....,

b, Điền số vào ô trống để khi cộng 4 với ô liền nhau bất kỳ đều có kết quả bằng 30.

				5	4		12
--	--	--	--	---	---	--	----

Bài2: ( 4đ)

a, Viết 10 số lẻ liên tiếp lớn hơn 19 và nhỏ hơn 100.

.....

b, Tính hiệu số cuối và số đầu trong các số vừa viết:

.....

Bài 3: ( 4đ)

a, Khoanh tròn vào chữ cái ( a, b, c) trước câu trả lời đúng.

\*  $\frac{1}{3}$  Của 21 con gà là:

a, 5 con gà

b, 7 con gà

c, 8 con gà

d, 6 con gà

\*  $\frac{1}{5}$  Của 45 bông hoa là:

a, 5 bông hoa

b, 6 bông hoa

c, 7 bông hoa

d, 9 bông hoa

b, Thứ sáu tuần này là ngày 20 vậy:

- Thứ sáu tuần trước là ngày:.....

- Thứ sáu tuần sau là ngày:.....

Bài 4: (4đ)

a. Hà có 40 viên bi gồm hai màu xanh và đỏ. Hà cho Tú 14 viên bi xanh thì Hà còn 12 viên bi xanh. Hỏi Hà có bao nhiêu viên bi đỏ?

Tóm tắt:

Bài giải


.....  
.....  
.....  
.....

.....  
.....  
.....  
.....

Bài 5: ( 3đ)

Hình dưới đây có:

.....đoạn thẳng  
.....hình tam giác  
.....hình tứ giác





**ĐỀ KHẢO SÁT HỌC SINH GIỎI MÔN TOÁN LỚP 2**

( Thời gian làm bài: 40 phút).

**Bài 1:** Cho các chữ số 0, 1, 5, 6.

a) Hãy lập các số có 2 chữ số khác nhau từ các số đã cho.

Các số đó là:.....

b) Tính hiệu giữa số lớn nhất, số bé nhất.

.....

c) Viết số nhỏ nhất có hai chữ số mà chữ số hàng chục gấp 2 lần chữ số hàng đơn vị:

.....

**Bài 2:** Viết số thích hợp vào ô trống:

111, 222, 333,           

$\xrightarrow{+25}$    $\xrightarrow{:8}$    $\xrightarrow{\times 7}$    $\xrightarrow{-19}$

**Bài 3:** a) Thứ hai tuần này là ngày 16 tháng 3. Thứ hai tuần trước là ngày ..... Thứ ba tuần sau là ngày .....

b) Thầy giáo có 25 quyển vở, thầy thưởng cho 6 học sinh, mỗi bạn 3 quyển vở. Hỏi sau khi thưởng thầy giáo còn lại bao nhiêu quyển vở?

Tóm tắt

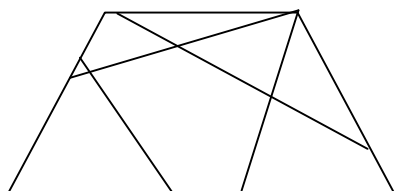
Bài giải

.....

.....

.....

**Bài 4:**



Hình bên có:

- a) ..... hình tam giác
- b) ..... hình tứ giác.

**PHÒNG GIÁO DỤC HUYỆN GIA  
VIỄN**

**TRƯỜNG TIỂU GIA SINH**



**ĐỀ KIỂM TRA HỌC SINH GIỎI**

Môn Toán – Lớp 2

**Năm học: 2006 – 2007**

**Bài 1:** (5 điểm) 1. Cho các số 0; 2; 4

- a) Lập các số có hai chữ số khác nhau từ các số trên là:.....
- b) Trong các số vừa lập được có số tròn chục nhỏ nhất là: .....
- c) Viết số đó thành tích của hai thừa số liền nhau là:.....

2. Viết số thích hợp vào ô trống để khi cộng 4 số ở 4 ô liền nhau bất kì đều có kết quả là 50.

			15		17	6			
--	--	--	----	--	----	---	--	--	--

**Bài 2:** (6 điểm)