



**ĐỀ 17**

**KIỂM TRA ĐỊNH KÌ GIỮA HỌC KÌ I - NĂM HỌC 2011-2012**

**Môn: Toán – Lớp 1**

**Thời gian : 40 phút**

**1. Số?**

0		2			5	6				
---	--	---	--	--	---	---	--	--	--	--

9	8					3	2		
---	---	--	--	--	--	---	---	--	--

9		7		
---	--	---	--	--

4			7	8
---	--	--	---	---

**2. Viết các số: 7, 2, 8, 6, 4**

a) Theo thứ tự từ bé đến lớn:

.....

b) Theo thứ tự từ lớn đến bé:

.....

**3.**

>
<
=

? 0  1

4  9

3  2 + 3

10  6

7  7

5  1 + 4

3 + 1  2

4  4 + 0

**4. Tính**


4 + 0 = .....

Truy cập website [hoc360.net](http://hoc360.net) – Tải tài liệu học tập miễn phí

$$1 + 2 + 1 = \dots\dots\dots$$

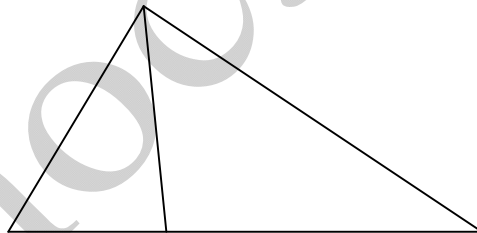
$$2 + 0 + 3 = \dots\dots\dots$$

5. Viết phép tính thích hợp



--	--	--	--	--

6. Hình dưới đây có mấy hình tam giác?



Có ..... hình tam giác

**ĐỀ 18**

**KIỂM TRA ĐỊNH KÌ GIỮA HỌC KÌ I - NĂM HỌC 2011-2012**

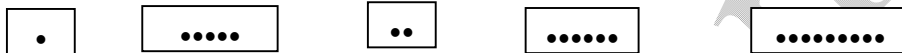
**Môn: Toán – Lớp 1**

**Thời gian : 40 phút**

**Bài 1. Viết :**

a) Các số từ 1 đến 10 : .....

b) Điền số theo mẫu :



1

c) Viết số thích hợp vào ô trống:

1		3			6				10
---	--	---	--	--	---	--	--	--	----

10	9			6			3		1
----	---	--	--	---	--	--	---	--	---

**Bài 2. Tính:**

a) 
$$\begin{array}{r} 3 \\ + \\ \hline 1 \end{array}$$
 
$$\begin{array}{r} 2 \\ + \\ \hline 3 \end{array}$$

b)  $1 + 2 =$                        $0 + 5 =$

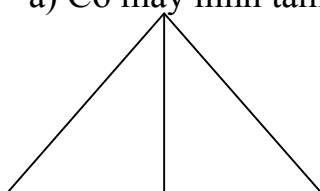
**Bài 3. Khoanh vào số lớn nhất :**

a) 0 ; 6 ; 4 ; 7 ; 5.

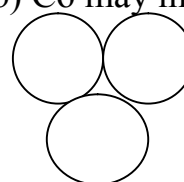
b) 5 ; 3 ; 9 ; 1 ; 10.

**Bài 4. Hình :**

a) Có mấy hình tam giác ?



b) Có mấy hình tròn ?



Có ... hình tam giác

Có ... hình tròn

**Bài 5.**

> < =	1 <input type="text"/> 2	,	2 <input type="text"/> 2
	0 <input type="text"/> 5		3 <input type="text"/> 2

**Bài 6.**

a) Viết phép tính thích hợp :



--	--	--	--	--

b) Điền số và dấu để được phép tính đúng:

			=	5
--	--	--	---	---

hoc360.net

**ĐỀ 19**



**KIỂM TRA ĐỊNH KÌ GIỮA HỌC KÌ I - NĂM HỌC 2011-2012**

**Môn: Toán – Lớp 1**

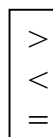
**Thời gian : 40 phút**

**Bài 1:**

**a. Điền Số ?**



**b.**



?

3

4

7

7

7

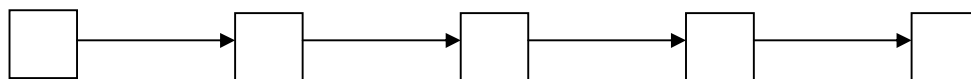
5

9

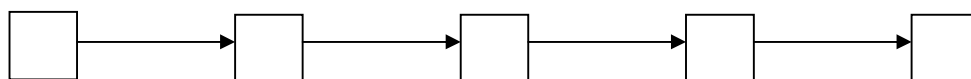
4 + 1

**Bài 2: Viết các số 3; 10 ; 5; 2; 7**

**a. Theo thứ tự từ lớn đến bé:**



**b. Theo thứ tự từ bé đến lớn:**



**Bài 3: Tính ?**

a.

3
+
2

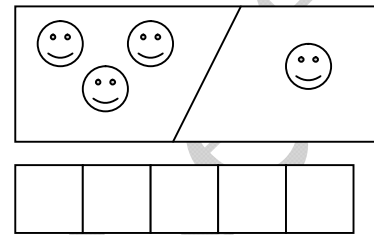
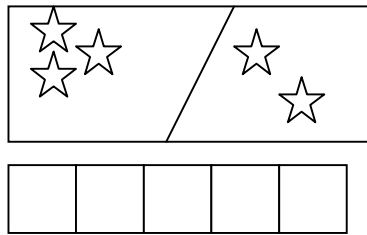
5
+
0

2
+
1

2
+
2


b.  $1 + 3 + 1 = \dots\dots\dots$ ;  $2 + 1 + 0 = \dots\dots\dots$ ;  $2 + 2 + 1 = \dots\dots\dots$ ;  $2 + 0 + 1 = \dots\dots\dots$

**Bài 4: Viết phép tính thích hợp**



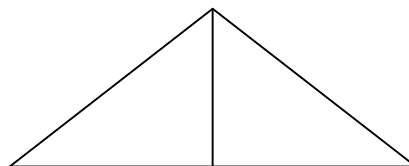
**Bài 5: Nhận biết hình**

a.



Có ..... hình tròn

b.



Có ..... hình tam giác

**ĐỀ 20**

**KIỂM TRA ĐỊNH KÌ GIỮA HỌC KÌ I - NĂM HỌC 2011-2012**

**Môn: Toán – Lớp 1**

**Thời gian : 40 phút**

Bài 1: Số?

$3 + 2 = \square$

$\square + 1 = 4$

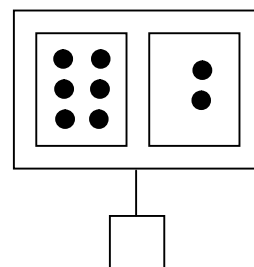
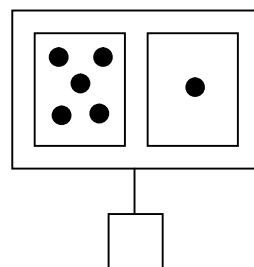
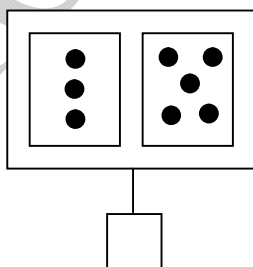
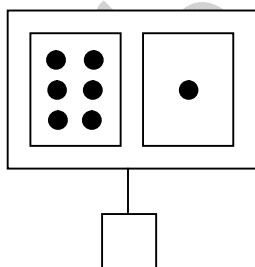
$3 = \square + 1$

$2 + \square = 3$

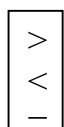
$3 + 0 = \square$

$3 + 1 = \square$

Bài 2: Viết các số thích hợp vào ô trống:



Bài 3:



$? 6 \square 1$

$5 \square 9$

$2 \square 7$



$4 \square 4$

$9 \square 10$

$7 \square 2$

$3 \square 4$

$2 \square 10$

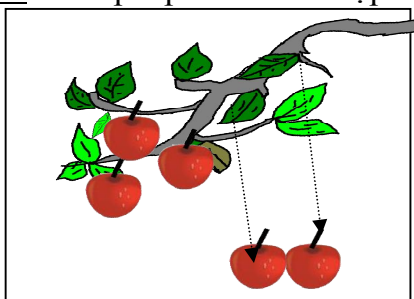
$10 \square 10$

Bài 4: Viết số thích hợp vào ô trống :

0				4					9	
---	--	--	--	---	--	--	--	--	---	--

	9			6	5					0
--	---	--	--	---	---	--	--	--	--	---

Bài 4: Viết phép tính thích hợp :



--	--	--	--	--	--

## ĐỀ 21

### KIỂM TRA ĐỊNH KÌ GIỮA HỌC KÌ I - NĂM HỌC 2011-2012

Môn: Toán – Lớp 1

Thời gian : 40 phút

Bài 1. Viết các số : 1, 0, 6, 9, 5

a. Theo thứ tự từ bé đến lớn

<input type="text"/>	→	<input type="text"/>	→	<input type="text"/>	→	<input type="text"/>	→	<input type="text"/>
----------------------	---	----------------------	---	----------------------	---	----------------------	---	----------------------

b. Theo thứ tự từ lớn đến bé

<input type="text"/>	→	<input type="text"/>	→	<input type="text"/>	→	<input type="text"/>	→	<input type="text"/>
----------------------	---	----------------------	---	----------------------	---	----------------------	---	----------------------

Bài 2:

<input type="checkbox"/>	$6 \square 3$	$5 \square 9$	$7 \square 5$	$2 + 3 \square 2 + 2$
	$? 4 \square 4$	$9 \square 10$	$10 \square 8$	$1 + 4 \square 4 + 1$
	$>$			
	$<$			
	$=$			

Bài 3: Tính:

Truy cập website [hoc360.net](http://hoc360.net) – Tải tài liệu học tập miễn phí

$2 + 1 =$

$1 + 3 =$

$2 + 2 + 1 =$

$5 + 0 =$

$1 + 2 =$

$3 + 1 =$


$4 + 1 =$

$0 + 5 =$



**Bài 4:** Hình bên :

- Có .....hình tam giác

- Có .....hình chữ nhật.



**Bài 6.** Viết phép tính thích hợp:



**ĐỀ 22**

**KIỂM TRA ĐỊNH KÌ GIỮA HỌC KÌ I - NĂM HỌC 2011-2012**

**Môn: Toán – Lớp 1**

**Thời gian : 40 phút**

**1. Khoanh vào chữ đặt trước câu trả lời đúng nhất.**

**a) Số 20 gồm mấy chục, mấy đơn vị?**

A. 1 chục và 2 đơn vị

B. 2 chục và 2 đơn vị

C. 2 chục và 0 đơn vị

**b) Số 17 được viết là:**

A. 17

B. 71

C. 07

**c) Số 14 đọc là:**

A. Một bốn

B. Mười bốn

C. Bốn một

Group: <https://www.facebook.com/groups/tailieutieuhocvaths/>



Truy cập website [hoc360.net](http://hoc360.net) – Tải tài liệu học tập miễn phí

2. Viết số tròn chục thích hợp vào ô trống.

$20 < \square < 40$

$70 < \square < 90$

3. Đặt tính rồi tính:

$70 - 10$

$20 + 30$

$90 - 50$

$40 + 40$

.....

.....

.....

.....

.....

.....

.....

.....

.....

.....

.....

.....

.....

.....

.....

.....,

5. Hồng trồng được 12 cây hoa. Trúc trồng được 7 cây hoa. Hỏi cả hai bạn trồng được bao nhiêu cây hoa?

**Bài làm:**

.....

.....

.....

.....

.....

.....

.....

.....

.....

.....

.....

.....