

ĐỀ SỐ 31

Bài 1: Đặt tính rồi tính

$42 + 36$	$25 + 74$	$78 - 45$	$99 - 54$	$2 + 82$
.....
.....
.....

Bài 2: Tính

$43 + 22 + 31 = \dots\dots$	$89 - 43 - 25 = \dots\dots$	$67 + 22 - 35 = \dots\dots$
$96 - 43 - 22 = \dots\dots$	$89 - 25 + 43 = \dots\dots$	$67 - 35 + 22 = \dots\dots$

Bài 3: Có một thanh gỗ được cưa thành hai mảnh dài 32 cm và 60 cm . Hỏi thanh gỗ lúc đầu dài bao nhiêu xăng ti mét?

Bài giải

.....

.....

.....

.....

Bài 4: Viết các số

- Từ 0 đến 9:

.....

- Từ 10 đến 19:

.....

- Từ 90 đến 99:

.....

- Có tất cả số có một chữ số.

Bài 5: Viết số có hai chữ số thành số chục và số đơn vị (theo mẫu):

$53 = 50 + 3$	$36 = \dots\dots\dots$	$69 = \dots\dots\dots$
$35 = \dots\dots\dots$	$63 = \dots\dots\dots$	$96 = \dots\dots\dots$
$55 = \dots\dots\dots$	$33 = \dots\dots\dots$	$99 = \dots\dots\dots$
$10 = \dots\dots\dots$	$40 = \dots\dots\dots$	$80 = \dots\dots\dots$

Bài 6: Viết số liền trước và liền sau của số cho trước (theo mẫu):

14 ; 15 ; 16 ; 25 ;; 39 ;
.....; 79;; 90 ;; 99;

Bài 7: Tính

40 + 50 = 90 + 10 = 72 + 27 =
50 + 40 = 10 + 90 = 27 + 72 =
60 + 20 = 62 + 35 = 53 + 35 =
20 + 60 = 35 + 62 = 35 + 53 =

Bài 8: Tính nhẩm

50 + 20 + 6 = 50 + 26 + 3 = 72 + 4 + 3 =
50 + 30 + 9 = 50 + 36 + 2 = 86 + 2 + 1 =
70 + 20 + 8 = 70 + 28 + 1 = 94 + 3 + 2 =

Bài 9: Tháng trước bố làm được 24 ngày công. Tháng này bố làm được 22 ngày công.

Tính số ngày công bố làm được trong hai tháng đó.

Bài giải

.....
.....
.....
.....

Bài 10: Mảnh vải dài 95cm. mẹ may quần cho con hết 70cm. Hỏi còn lại bao nhiêu xăng ti mét vải?

Bài giải

.....
.....
.....
.....

Bài 11: Cho các số: 76; 85; 19; 5; 23 hãy viết các số theo thứ tự:

- Từ bé đến lớn:
- Từ lớn đến bé:

Bài 12:

- Số bé nhất có hai chữ số giống nhau là:
- Số lớn nhất có hai chữ số giống nhau là:
- Lấy số lớn nhất có hai chữ số giống nhau trừ số bé nhất có hai chữ số giống nhau được kết quả là:

ĐỀ SỐ 32

Bài 1: Số?

$$\dots + 23 = 46$$

$$78 - \dots = 70$$

$$90 - \dots = 70$$

$$98 - \dots = 34$$

$$\dots - 71 = 12$$

$$76 - \dots = 0$$

$$6 + \dots = 17$$

$$\dots + 34 = 67$$

$$54 - \dots = 54$$

Bài 2: Tính

$$86 - 34 = \dots$$

$$86 - 52 = \dots$$

$$52 + 34 = \dots$$

$$97 - 47 = \dots$$

$$97 - 50 = \dots$$

$$50 + 47 = \dots$$

$$68 - 34 = \dots$$

$$34 + 34 = \dots$$

$$60 - 40 = \dots$$

$$60 + 40 = \dots$$

$$100 - 40 = \dots$$

$$100 - 60 = \dots$$

Bài 3:

$$40 + 30 + 8 = \dots$$

$$50 + 40 + 7 = \dots$$

$$70 - 30 + 2 = \dots$$

$$90 - 50 + 4 = \dots$$

$$97 - 7 - 40 = \dots$$

$$97 - 40 - 7 = \dots$$

Bài 4: < > =

$$40 + 5 \dots 49 - 7$$

$$79 - 28 \dots 65 - 14$$

$$34 + 25 \dots 43 + 15$$

$$79 - 24 \dots 97 - 42$$

Bài 5: Lớp học có 20 học sinh nam và 16 học sinh nữ. Hỏi lớp có tất cả bao nhiêu học sinh?

Bài giải

Bài 10 : Tính

$26 + 32 - 45 = \dots\dots$

$77 \text{ cm} - 35 \text{ cm} + 26 \text{ cm} = \dots\dots\dots$

$68 - 40 - 26 = \dots\dots$

$57 \text{ cm} + 20 \text{ cm} + 12 \text{ cm} = \dots\dots\dots$

Bài 11 : Điền dấu $>$, $<$, $=$

$45 - 24 \dots\dots 17 + 10$

$32 + 16 \dots\dots 20 + 28$

$24 + 35 \dots\dots 78 - 21$

$37 - 17 \dots\dots 56 - 36$

Bài 12 : Số ?

$51 + \dots\dots < 56$

$\dots\dots + 67 = 89$

$\dots\dots - 8 > 80$

$\dots\dots + 32 = 45 + \dots\dots$

Bài 13 : Hai hộp bút chì có tất cả 7 chục cái . Hộp thứ nhất có 30 cái. Hỏi hộp thứ hai có bao nhiêu cái ?

Bài giải

$7 \text{ chục} = \dots\dots\dots$

ĐỀ SỐ 33

Bài 1 : Đoạn đường dài 78 cm . Con kiến đã đi được 50 cm . Hỏi con kiến còn phải đi bao nhiêu xăng ti mét nữa thì tới nơi ?

Bài giải

Bài 2 : Đọc, viết số

- Sáu mươi :

- 15:

- Chín mươi bảy :

- 68 :

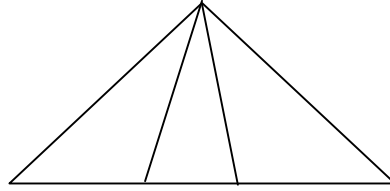
Bài 3 : Cho các số : 45 , 63 , 54 , 78 , 69

a . Xếp các số theo thứ tự từ lớn đến bé :

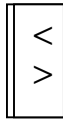
b . Xếp các số theo thứ tự từ bé đến lớn :

Bài 4: Đúng ghi đ , sai ghi s

- Có 6 hình tam giác
- Có 5 hình tam giác
- Có 4 hình tam giác



Bài 5 :



$45 + 4 \dots\dots 89 - 60$

$36 + 12 \dots\dots 97 - 45$

$73 - 21 \dots\dots 49 - 3$

$43 + 14 \dots\dots 88 - 27$

Bài 6 : Số ?

$35 + \square > 56$

$52 + \square = 9$

$78 - \square < 60$

$\square = 50$

Bài 7 : Khối lớp 2 có 45 học sinh khá và 50 học sinh giỏi . Hỏi khối lớp 2 có bao nhiêu học sinh khá , giỏi ?

Bài giải

.....
.....
.....

Bài 8: Lớp 1 E

có 36 bạn , trong đó có 26 bạn gái . Hỏi lớp có bao nhiêu bạn trai?

Bài giải

.....
.....
.....

Bài 9 : Đọc số

75 :

44 :

5 :

4 :

Bài 10 : Lớp 1B có 36 bạn học sinh . Lớp 1C có 4 chục học sinh . Hỏi lớp 1B và lớp 1C có bao nhiêu học sinh ?

Bài giải

.....
.....
.....
.....
.....

Bài 11 : Giải bài toán theo tóm tắt sau:

Tóm tắt

Mẹ có : 86 cái bánh

Cho Hồng : 10 cái bánh

Còn lại : .. cái bánh ?

Bài giải

.....
.....
.....

Bài 12 : Giải bài toán theo tóm tắt sau:

An và Bình có : 54 hòn bi

Bình có : 3 chục hòn bi

An có : hòn bi?

Bài giải

.....
.....
.....
.....

ĐỀ SỐ 34

Bài 1 : Nối ô trống với số thích hợp

$34 + \square < 40$

4	5	6	7
---	---	---	---

$43 + 25$
$67 - 45$
$97 - 52$
$31 + 25$

22
68
56
45

Bài 2: Lớp 1B có 36 bạn học sinh . trong đó có 26 bạn học sinh giỏi, còn lại là học sinh khá và trung bình. Hỏi lớp 1B có bao nhiêu bạn học sinh khá và trung bình?

Bài giải

.....

.....

.....

.....

Bài 3 : Cho các số : **99 , 7 , 22 , 62, 49, 67**

a . Xếp các số theo thứ tự **từ lớn đến bé** :

b. Xếp các số theo thứ tự **từ bé đến lớn** :

Bài 4: Vẽ đoạn thẳng OA dài 7 cm

.....

Bài 5 : a, Lúc 7 giờ kim phút chỉ vào số , kim giờ chỉ vào số

Lúc 11 giờ kim phút chỉ vào số , kim giờ chỉ vào số

Lúc 12 giờ kim phút chỉ vào số , kim giờ chỉ vào số

Lúc 3 giờ kim phút chỉ vào số , kim giờ chỉ vào số

b, Hôm nay là thứ năm ngày 20 tháng 5. Ngày sinh nhật Bác 19 tháng 5 năm nay là thứ mấy?

Bài 6 : Điền chữ số thích hợp vào chỗ chấm:

27 9 2 7 43

$$\frac{\dots 1}{76} \quad \frac{3 \dots}{35} \quad \frac{24}{\dots 2} \quad \frac{\dots 3}{1 \dots} \quad \frac{\dots 1}{2 \dots}$$

Bài 7 :

<
>

 $95 - 4 \dots 99 - 8$ $84 + 11 \dots 99 - 2$
 $67 + 2 \dots 84 - 2$ $63 - 33 \dots 10 + 21$

Bài 8 : Số ?

$14 + 40 + 3 = \dots$
 $64 \text{ cm} + 5 \text{ cm} + 20 \text{ cm} = \dots$

$89 - \square 4$
 $\square = 8$

Bài 9 : Đọc số

65 :	24 :
5 :	4 :
85 :	43 :
29 :	64 :

Bài 10

Số liền trước 49 là:

Số liền sau 49 là:

Số ở giữa 48 và 50 là:

Bài 11:

a, Viết các số vào chỗ chấm

- Số liền sau của 79 là :
- Số liền trước của 100 là :
- Số liền trước của 90 là :
- Số liền sau của 0 là :

b, Cho các số : **45 , 47 , 89 , 98 , 23**

- > > > >

c, Đọc số

75 :	94 :
43 :	16 :

Bài 12 : Tính

$36 + 32 - 15 = \dots$ $18 \text{ cm} + 41 \text{ cm} + 20 \text{ cm} = \dots$

$48 - 23 + 12 = \dots\dots$

$97 \text{ cm} - 32 \text{ cm} - 2 \text{ cm} = \dots\dots\dots$

Bài 13 : Điền dấu $>$, $<$, $=$

$26 - 12 \dots\dots 15$

$16 + 23 \dots\dots 49 - 11$

$47 - 25 \dots\dots 19$

$67 - 42 \dots\dots 12 + 13$

ĐỀ SỐ 35

Bài 1 : Số ?

$88 - \dots\dots < 56$

$\dots\dots - 12 = 73$

$\dots\dots - 70 > 9$

$\dots\dots - 56 = 41$

Bài 2 :

a, Một tuần lễ có mấy ngày ?

b, Viết tên các ngày trong tuần lễ bắt đầu từ thứ hai

.....

c, Viết tên những ngày em không đến trường ?

.....

Bài 3 : Hôm nay là ngày 15 và là ngày thứ tư

Ngày mai là ngày và là ngày thứ

Ngày kia là ngày và là ngày thứ

Hôm qua là ngày và là ngày thứ

Bài 4 : Em đi ngủ lúc 9 giờ tối . Khi đó kim ngắn chỉ vào số, kim dài chỉ vào số

.....

Bài 5 : Gà mẹ ấp 28 quả trứng . Đã nở 1 chục quả trứng . Hỏi còn lại mấy quả trứng chưa nở ?

Bài giải

.....

.....

.....

.....**Bài 6** : Giải bài toán theo tóm tắt sau:

Tóm tắt

Mai có : 37 viên bi

Hùng có : 4 chục viên bi

Mai và Hùng : viên bi ?

Bài giải

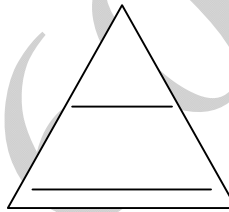
.....

.....

.....

.....

.....
Bài 7 : Có tam giác



Bài 11: Nhà Nga nuôi 64 con gà và vịt, trong đó có 4 chục con gà. Hỏi nhà Nga nuôi bao nhiêu con vịt?

Bài 12: Có 70 bạn đi tham quan. Có 40 bạn lên xe ô tô thứ nhất. Hỏi có bao nhiêu bạn chưa lên xe?

Bài 13: Tủ sách của An có 70 quyển truyện . Nay An mua thêm 10 quyển truyện tranh và 6 quyển báo nhi đồng. Hỏi tủ sách của An có tất cả bao nhiêu quyển truyện và báo?

Bài 14: Nam có 13 quả bóng bay màu xanh, 5 quả bóng bay màu đỏ và 21 quả bóng bay màu trắng. Hỏi Nam có tất cả bao nhiêu quả bóng bay?

Bài 15: Cho các số: 0, 10, 20, 30, 40, 50, 60, 70, 80, 90. Hãy tìm các cặp hai số sao cho khi cộng hai số đó thì có kết quả là 90.

Bài 16: Cho các số: 0, 10, 20, 30, 40, 50, 60, 70, 80, 90. Hãy tìm các cặp hai số sao cho khi cộng hai số đó thì có kết quả là 80.

Bài 17: Cho các số: 0, 10, 20, 30, 40, 50, 60, 70, 80, 90. Hãy tìm các cặp hai số sao cho lấy số lớn trừ số bé thì có kết quả là 50.

ĐỀ SỐ 36

Bài 1: Cho 3 số: 7, 11, 18 hãy viết các phép tính đúng.

Bài 2: Cho 3 số 15, 39, 24 hãy viết các phép tính đúng.

Bài 3: Viết số thích hợp vào ô trống:

$$\boxed{5} \xrightarrow{+12} \boxed{} \xrightarrow{-31} \boxed{} \xrightarrow{+7} \boxed{}$$

$$\boxed{2} \xrightarrow{+13} \boxed{} \xrightarrow{-28} \boxed{} \xrightarrow{+10} \boxed{}$$

Bài 4: An có 18 cây bút các loại và thước kẻ. Riêng thước kẻ và bút mực là 6 cái, còn lại là bút chì. Hỏi An có bao nhiêu cái bút chì?

Bài 5: Sân trường có 38 cây các loại, trong đó số cây cảnh trồng trong chậu là 28 cây, còn lại là các cây trồng ở sân. Hỏi có bao nhiêu cây trồng trên sân trường?

Bài 6: Tủ đựng sách trong thư viện có 18 ngăn, trong đó 6 ngăn đựng báo các loại. Hỏi còn lại bao nhiêu ngăn dùng để đựng sách?

Bài 7: <, >, =

$$36 + 12 - 37 \dots 42 - 21 - 10$$

$$45 + 13 - 48 \dots 18 - 12 + 10$$

$$54 + 12 - 66 \dots 59 - 30 - 20$$

$$45 + 43 - 78 \dots 28 - 12 - 10$$

$$33 + 22 - 55 \dots 55 - 20 - 25$$

$$30 + 38 - 55 \dots 78 - 72 + 10$$

$$60 + 18 - 77 \dots 58 - 37 - 20$$

Bài 8: Quả mướp dài 45 cm, An cắt 25 cm để nấu bữa sáng, chỗ còn lại để nấu bữa chiều. Hỏi phần còn lại của quả mướp dài bao nhiêu xăng ti mét?

Bài 9 : Nhà bác Tư có 10 con vịt , bác Tư bán 5 vịt và làm thịt 1 đôi để ăn . Hỏi bác Tư còn lại bao nhiêu con vịt?