

Họ và tên:.....

KIỂM TRA GIỮA HỌC KÌ I

Lớp:.....



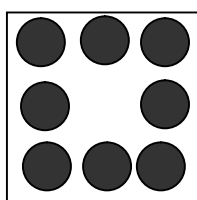
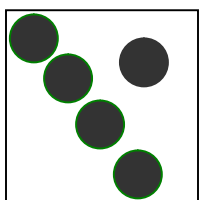
MÔN TOÁN - KHỐI 1

Năm học: 2013 – 2014

Thời gian: 60 phút

<u>Điểm</u>	<u>Lời phê</u>

Bài 1: Số



Bài 2: Viết số thích hợp vào ô trống

0			3		5		7			
---	--	--	---	--	---	--	---	--	--	--

Bài 3: Tính (2 điểm)

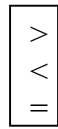
$$\begin{array}{r} 4 \\ - 2 \\ \hline \end{array}$$

$$\begin{array}{r} 3 \\ - 1 \\ \hline \end{array}$$

$$\begin{array}{r} 3 \\ + 2 \\ \hline \end{array}$$

$$\begin{array}{r} 5 \\ + 0 \\ \hline \end{array}$$

Bài 4: Điền dấu thích hợp vào ô trống:



$9 \square 7$

$0 \square 3$

$6 \square 6$

$5 \square 4$

Bài 5:

a) Khoanh tròn vào số lớn nhất:

7 ; 6 ; 8 ; 2 ; 10

b) Khoanh tròn vào số bé nhất :

3 ; 0 ; 4 ; 10 ; 1

Bài 6: Viết các số 7; 10; 2 ; 8; 5 (2 điểm)

a. Theo thứ tự từ bé đến lớn :

b. Theo thứ tự từ lớn đến bé :

Bài 7: Viết số và dấu để có phép tính thích hợp. (1 điểm)

			=	4
--	--	--	---	---

Bài 8: (1 điểm)

Hình vẽ bên có:

a) hình vuông.

b) hình tam giác.

