

Lớp: 1...

BÀI KIỂM TRA ĐỊNH KÌ GIỮA HỌC KÌ I

Họ và tên:.....

NĂM HỌC: 2011 - 2012

MÔN TOÁN - LỚP 1

(Thời gian 40 phút. Không kể thời gian giao đề)

<u>Điểm</u>	<u>Nhận xét của giáo viên</u>

Câu 1: (1 điểm) Số ?

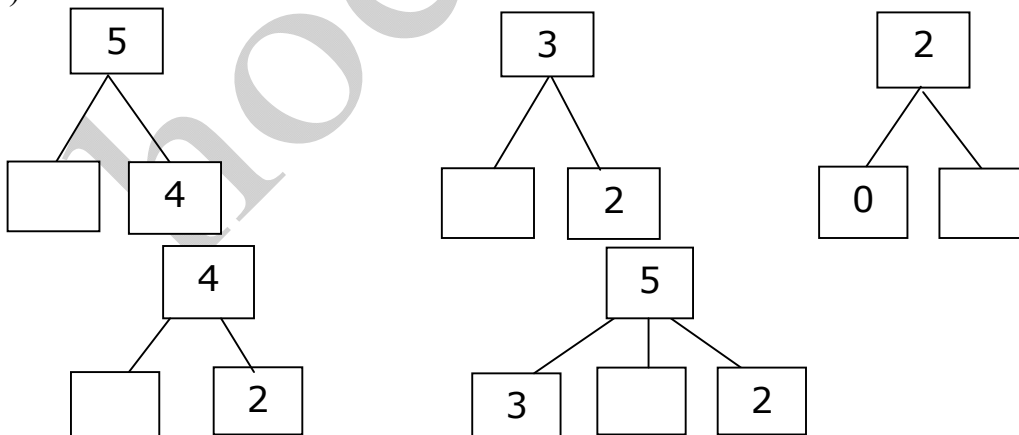
	1				5		5	4		2	
		6		9			9			6	

Câu 2: (1,5 điểm)

> < =	0		1		8		5		9		4 + 0
	8		6		7		6		4 + 1		5
	4		4		9		10		2 + 3		3 + 2

Câu 3: (1,5 điểm) Số ?

a)



b)

7 < < 9

10 >

2 < <

Câu 4: (2 điểm) Tính:

$$\begin{array}{r} 4 \\ + \\ 0 \\ \hline \end{array}$$

$$\begin{array}{r} 1 \\ + \\ 4 \\ \hline \end{array}$$

$$\begin{array}{r} 3 \\ + \\ 2 \\ \hline \end{array}$$

$$\begin{array}{r} 1 \\ + \\ 2 \\ \hline \end{array}$$

$$\begin{array}{r} 3 \\ + \\ 1 \\ \hline \end{array}$$

$$\begin{array}{r} 0 \\ + \\ 1 \\ \hline \end{array}$$

Câu 5: (1 điểm) Tính:

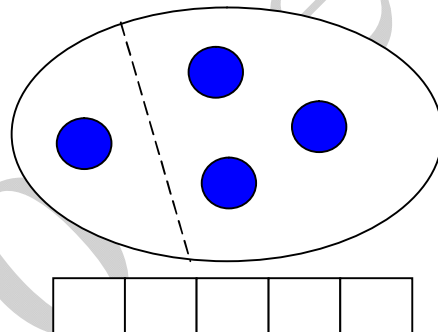
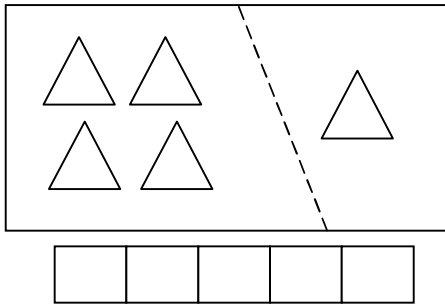
a) $1 + 2 + 0 = \dots\dots\dots$

$2 + 1 + 2 = \dots\dots\dots$

b) $3 + 1 + 1 = \dots\dots\dots$

$1 + 4 + 0 = \dots\dots\dots$

Câu 6: (2 điểm) Viết phép tính thích hợp:



Câu 7: (1 điểm) Viết số thích hợp vào chỗ chấm:

Có hình vuông

Có..... tam giác

