

ĐỀ-BÀI KIỂM TRA CUỐI KÌ I

Thời gian làm bài: 40 phút

Họ và tên HS..... LỚp.....

Điểm.....	Nhận xét của giáo viên chấm
-----------	---

A. PHẦN TRẮC NGHIỆM

Bài 1: (3 điểm) *Khoanh vào chữ cái đặt trước kết quả đúng và hoàn thành tiếp các bài tập sau:*

Câu 1: Số chín trăm mười hai viết là:

- A. 92 B. 902 C. 912

Câu 2: Cho số bé là 5, số lớn là 35. Hỏi số lớn gấp mấy lần số bé?

- A. 8 lần B. 7 lần C. 9 lần

Câu 3: Số bé nhất có 3 chữ số khác nhau là:

- A. 102 B. 101 C. 123

Câu 4: Giá trị của biểu thức $840 : (2 + 2)$ là::

- A. 210 B. 220 C. 120

B. PHẦN TỰ LUẬN

Bài : (2 điểm) Đặt tính rồi tính

$533 + 128$

$728 - 245$

172×4

$798 : 7$

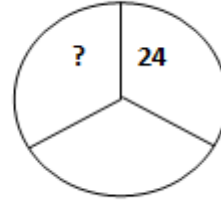
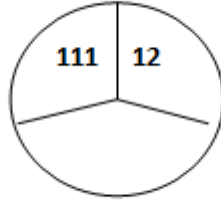
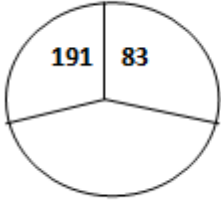
Bài 3: (2 điểm) Tìm X biết:

a. $90 : X = 6$

b. $X : 5 = 83$

Bài 4: (2 điểm) Người ta xếp 100 cái bánh vào các hộp, mỗi hộp có 5 cái. Sau đó xếp các hộp vào thùng mỗi thùng 4 hộp. Hỏi có bao nhiêu thùng bánh?

Bài 5: (1 điểm) Xét quan hệ các số trong một hình tròn sau rồi điền số thích hợp vào chỗ dấu chấm hỏi?



.....

.....

.....

.....

.....

.....

ĐÁP ÁN:

Bài 1 : (2 điểm) Thực hiện đúng kết quả mỗi phần đạt 0,5đ .

Đ/s: 1- C; 2- B; 3 – A; 4 – A;

Bài 2 : (2 điểm) Thực hiện đúng mỗi phép tính đạt 0,5 đ . **Đ/s:** 661; 483; 688; 114.

Bài 3 : (2 điểm) Thực hiện đúng mỗi phép tính đạt 1 đ . **Đ/ s:** 15; 415

Bài 4 : (3 điểm). Viết đúng mỗi lời giải đạt 0,25 điểm

Viết và tính đúng mỗi phép tính đạt 1 điểm

Viết đúng đáp số cho 0,5 điểm

Số hộp bánh xếp được là:

$$100 : 5 = 20 \text{ (hộp)}$$

Số thùng bánh xếp được là:

$$20 : 4 = 5 \text{ (Thùng)}$$

Đáp số: 5 thùng bánh.

Bài 5 : (1 điểm) Thực hiện đúng đạt 1 đ. Hình thứ nhất: $108 + 83 = 191$

$$\text{Hình thứ hai: } 99 + 12 = 111$$

$$\text{Vậy Hình thứ ba: } 76 + 24 = 100$$

Đ/ s: 10