

Câu 2: Tìm x:

a) $X - \frac{11}{5} = \frac{2}{5}$

b) $\frac{5}{6} - X = \frac{1}{3}$

Câu 3: Tính bằng hai cách: $(\frac{6}{11} + \frac{5}{11}) \times \frac{3}{7}$

Câu 4: Bài toán:

Một mảnh vườn hình chữ nhật có chiều dài 140m, chiều rộng bằng $\frac{3}{5}$ chiều dài.
Tính diện tích mảnh vườn hình chữ nhật đó.

ĐỀ 55

KIỂM TRA ĐỊNH KỲ GIỮA KỲ I

MÔN: TOÁN - LỚP 4

(Thời gian làm bài: 40 phút)

I. PHẦN TRẮC NGHIỆM:

Khoanh tròn vào chữ cái đặt trước kết quả đúng:

Câu 1: Số gồm năm triệu, sáu chục nghìn, hai trăm, tám chục, ba đơn vị là:

- A. 5600283 B. 5060283 C. 5620038 D. 56020083

Câu 2: 4 yến 3 kg = kg.

- A. 43 kg B. 403 kg C. 4003 kg D. 34 kg

Câu 3: Kết quả của phép tính $5436 - 3094$ là:

- A. 5442 B. 2342 C. 2442 D. 13543

Câu 4: Kết quả của phép tính $5436 + 7917$ là:

A. 13353

B. 12353

C. 12343

D. 13543

Câu 5: Viết số đo dưới đây dưới dạng số đo bằng giờ: $\frac{1}{8}$ ngày = Giờ

A. 3 giờ

B. 4 giờ

C. 5 giờ

D. 6 giờ

Câu 6: trung bình cộng của các số: 28, 33, 35 có kết quả là:

A. 96

B. 32

C. 23

D. 33

II. PHẦN TỰ LUẬN:

Câu 1: Tìm x, biết:

$$X - 59688 = 28321$$

.....

.....

.....

.....

.....

.....

.....

.....

.....

.....

.....

.....

.....

.....

.....

.....

.....

.....

.....

.....

.....

.....

.....

.....
.....
Câu 2: Tính bằng cách thuận tiện nhất

$$6 + 8 + 14 + 12$$

.....
.....
.....
.....
.....
.....
.....
.....
.....
.....
Câu 3: Trong hộp có 25 quả bóng xanh và đỏ, số bóng đỏ nhiều hơn số bóng xanh 7 quả. Tìm số bóng của mỗi loại.

ĐỀ 56

KIỂM TRA ĐỊNH KỲ GIỮA KỲ I

MÔN: TOÁN - LỚP 4

(Thời gian làm bài: 40 phút)

I/ Phần trắc nghiệm

Khoanh tròn vào chữ cái đặt trước câu trả lời đúng

Câu 1: 1. Để tính số trung bình cộng của các số 30,40,50,60,ta làm như sau :

- A. $(30 + 40 + 50 + 60) : 2$ B. $(30 + 40 + 50 + 60) : 3$
C. $(30 + 40 + 50 + 60) : 4$ D. $(30 + 40 + 50 + 60) : 5$

Câu 2: 9 tạ 5kg = kg

- A. 905 kg B. 950 kg C. 95 kg D. 9005 kg

Câu 3: Số gồm 5 triệu, 4 chục nghìn, 3 trăm, 2 chục và 1 đơn vị là

- A. 5400321 B. 5040321 C. 5004321 D. 5430021

Câu 4: Tổng của hai số là 73, hiệu của hai số là 29. Số bé là:

- A. 44 B. 23 C. 51 D. 22

Câu 5: Có 8 phòng học, mỗi phòng học có 13 bộ bàn ghế, mỗi bộ bàn ghế 2 học sinh đang ngồi học. Có tất cả số học sinh đang ngồi học là :

- A. 208 B. 280 C. 802 D. 820

II/ Phần thực hành:

Câu 1: Đặt tính rồi tính:

$4780 + 564$

$9584 - 3477$

153×62

$210 : 15$

.....
..
.....
..
.....
..
.....
..
.....
..
.....
..
.....
..

Câu 2: Tìm x: $x - 306 = 504$

$x + 254 = 680$

.....
.....
.....
.....
.....

Câu 3: Một ô tô giờ thứ nhất chạy được 45 km, giờ thứ hai chạy được 65 km, giờ thứ ba chạy được 70 km. Hỏi trung bình mỗi giờ ô tô chạy được bao nhiêu km ?

ĐỀ 57

KIỂM TRA ĐỊNH KỲ GIỮA KỲ I

MÔN: TOÁN - LỚP 4

(Thời gian làm bài: 40 phút)

PHẦN I: TRẮC NGHIỆM.

Khoanh vào chữ cái đặt trước ý đúng nhất:

Câu 1: Giá trị của chữ số 4 trong số 548 762:

a. 40000

b. 4000

c. 400

d. 40

Câu 2: 3 tạ 85 kg = kg.

- a. 3085 kg b. 385 kg c. 3850 kg d. 358 kg

Câu 3: Để tính trung bình cộng của các số 33; 40; 15; 30 ta làm như sau:

- a. $(33+ 40+ 15+ 30) : 3$ b. $(33+ 40+ 15+ 30) : 4$
c. $(33+ 40+ 15+ 30) : 2$ d. $33+ 40+ 15+ 30 : 4$

Câu 4: 2 phút 30 giây = giây.

- a. 60 giây b. 230 giây c. 120 giây d. 150 giây

Câu 5: Số lớn nhất trong các số: 468 257; 468 275; 468 752; 468 725 là:

- a. 468 257 b. 468 275 c. 468 725 d. 468 752.

PHẦN II: TỰ LUẬN.

Câu 1: Đặt tính rồi tính:

a) $6\ 094 + 8\ 566$

.....
.....
.....

6791×5

.....
.....
.....

b) $839\ 848 - 246\ 273$

.....
.....
.....

$5692 : 4$

.....
.....
.....

Câu 2: Một đàn gà có 80 con trong đó số gà trống nhiều hơn số gà mái là 26 con .Hỏi đàn gà có bao nhiêu con gà trống ,bao nhiêu con gà mái ?

Bài giải :

.....

.....

.....

.....

.....

.....

ĐỀ 58

KIỂM TRA ĐỊNH KỲ GIỮA KỲ I

MÔN: TOÁN - LỚP 4

(Thời gian làm bài: 40 phút)

PHẦN I: TRẮC NGHIỆM.

Khoanh vào chữ cái đặt trước ý đúng nhất:

Câu 1: 3 tạ 85 kg = kg.

- a. 3085 kg b. 385 kg c. 3850 kg d. 358 kg

Câu 2: Giá trị của chữ số 4 trong số 548 762:

- a. 40000 b. 4000 c. 400 d. 40

Câu 3: Số lớn nhất trong các số: 468 257; 468 275; 468 752; 468 725 là:

a. 468 257

b. 468 275

c. 468 725

d. 468 752.

Câu 4: Để tính trung bình cộng của các số 33; 40; 15; 30 ta làm như sau:

a. $(33+ 40+ 15+ 30) : 3$

b. $(33+ 40+ 15+ 30) : 4$

c. $(33+ 40+ 15+ 30) : 2$

d. $33+ 40+ 15+ 30 : 4$

Câu 5: 2 phút 30 giây = giây.

a. 60 giây

b. 230 giây

c. 120 giây

d. 150 giây

PHẦN II: TỰ LUẬN.

Câu 1: Đặt tính rồi tính:

a) $6\ 094 + 8\ 566$

.....

.....

.....

6791×5

.....

.....

.....

b) $839\ 848 - 246\ 273$

.....

.....

.....

$5692 : 4$

.....

.....

.....

Câu 2: Một đàn gà có 80 con trong đó số gà trống nhiều hơn số gà mái là 26 con .Hỏi đàn gà có bao nhiêu con gà trống ,bao nhiêu con gà mái ?

Bài giải :

.....
.....

ĐỀ 59

KIỂM TRA ĐỊNH KỲ GIỮA KỲ I

MÔN: TOÁN - LỚP 4

(Thời gian làm bài: 40 phút)

I/ Phần trắc nghiệm : Học sinh khoanh tròn vào chữ đặt trước câu trả lời đúng.

Câu 1 : Số “ Hai nghìn hai trăm linh hai “ viết là :

- A . 200202 B. 2205 C. 22002 D. 2202

Câu 2 : Số lớn nhất trong các số : 10248 ; 17824 ; 13247 ; 14872 là :

- A. 10248 B. 17824 C. 14872 D. 13247

Câu 3: Dãy số nào là dãy số tự nhiên :

- A. 1; 2; 3; 4; 5; ... B. 1; 3; 5; 7; 9; ...
C. 0; 1; 2; 3; 4; ... D. 2; 4; 6; 8; ...

Câu 4 : 5 tấn 90kg =kg

A . 58kg

B. 5090kg

C. 5009kg

D. 580kg

Câu 5 : Khoanh vào khoảng thời gian lớn nhất:

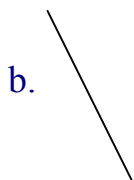
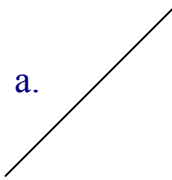
A . 360 giây

B. 3 phút 45 giây

C. 5 phút 5 giây

II. Phần tự luận :

Câu 1 : Viết tên “ góc nhọn “ ; “ góc vuông “ ; “ góc tù “; vào chỗ chấm thích hợp:



.....

.....

.....

Câu 2 : Cho $a = 7$, $b = 9$, $c = 5$

Tính $a / a + b + c = ?$

$b / a \times b \times c = ?$

Câu 3 : Bài toán.

Một hình chữ nhật có chu vi 40 cm . Chiều rộng kém hơn chiều dài 6 cm . Tính diện tích hình chữ nhật.

Bài giải

.....
.....
.....
.....
.....

ĐỀ 60

KIỂM TRA ĐỊNH KỲ GIỮA KỲ I

MÔN: TOÁN - LỚP 4

(Thời gian làm bài: 40 phút)

Bài 1: Khoanh tròn vào câu trả lời đúng nhất.

a) Giá trị của chữ số 2 trong số 10 203 004 là:

- A. 20 B. 200 C. 20 000 D. 200 000

b) Số gồm ba mươi tư triệu, năm mươi nghìn và bốn mươi lăm viết là:

- A. 34 050 045 B. 345 045 C. 345 000 045 D. 34 045 450

c) 5 phút 5 giây = ... giây. Số thích hợp để điền vào chỗ chấm là:

- A. 55 B. 305 C. 505 D. 503

d) 8 tấn 80kg = kg. Số thích hợp viết vào chỗ chấm là:

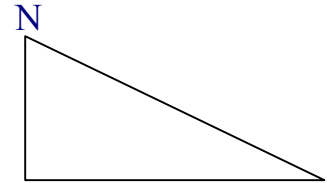
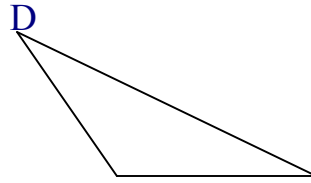
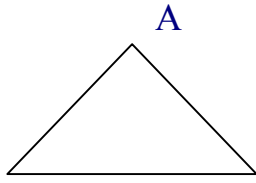
- A. 88 B. 880 C. 8080 D. 8800

Bài 2: Viết số thích hợp vào chỗ chấm

a) Lớp nghìn của số 10 002 003 gồm các chữ số:

.....

b)



P

- Hình tam giác ABC có góc nhọn.
- Hình tam giác DEG có góc tù và góc nhọn.
- Hình tam giác MNP có góc vuông vàgóc nhọn

Bài 3: Đặt tính rồi tính.

$$365807 + 291304$$

$$805146 - 52719$$

.....
.....
.....

.....
.....
.....

Bài 4: Viết tiếp vào chỗ chấm cho thích hợp.

a) Các số 54 687 ; 54 867 ; 54 678 ; 45 876 viết theo thứ tự từ bé đến lớn là:

.....
.....

b) Các số 9876 ; 9867 ; 8998 ; 9987 viết theo thứ tự từ lớn đến bé là:

.....
.....

Bài 5: Đàn gà có 120 con gà, số gà mái nhiều hơn gà trống là 30 con. Tìm số gà mái và số gà trống của đàn gà đó.

Bài 6: Tìm số tự nhiên x , biết $2 < x < 9$.

ĐỀ 61

KIỂM TRA ĐỊNH KỲ GIỮA KỲ I

MÔN: TOÁN - LỚP 4

(Thời gian làm bài: 40 phút)

I. Trắc nghiệm:

Câu 1: Số “ Năm mươi lăm nghìn chín trăm linh năm ” viết là:

- A. 50950 B. 55950 C. 55905 D. 50905

Câu 2: 42 tấn 36kg =kg. Số cần điền vào dấu chấm là:

- A. 42306 kg B. 42036 kg C. 42036 D. 4236

Câu 3: Trung bình cộng của các số: 201; 102;210;111 là:

- A. 201 B. 156 C. 165 D. 180

Câu 4: Giá trị của biểu thức: $394 \times n + 1207$ với $n = 8$ là:

- A. 4359 B. 4259 C. 4349 D. 4459

Câu 5: 1 ngày = ... phút

- A. 1200 B. 1400
C. 3600 D. 1440

II. Tự luận:

Câu 1: Tính bằng cách thuận tiện.

a) $359 + 784 + 641 + 216 =$
.....
=
.....

=

.....

b) $456375 + 3956 - 375 - 56 =$

.....

=

.....

=

.....

Câu 2: Hai thửa ruộng thu hoạch được 30 tạ 47kg thóc. Thửa ruộng thứ nhất thu hoạch được ít hơn thửa ruộng thứ hai 503kg thóc. Hỏi mỗi thửa ruộng thu hoạch được bao nhiêu ki-lô-gam thóc ?

Bài giải

.....

.....

.....

.....

.....

.....

.....

.....

.....

.....

KIỂM TRA ĐỊNH KỲ GIỮA KỲ I

MÔN: TOÁN - LỚP 4

(Thời gian làm bài: 40 phút)

I/ PHẦN TRẮC NGHIỆM

Câu 1: Em hãy khoanh tròn vào chữ đặt trước câu trả lời đúng :

1.Năm 1010 thuộc thế kỷ:

- A. Thế kỷ thứ 10.
- B. Thế kỷ thứ 11.
- C. Thế kỷ thứ 12.

2. Giá trị của chữ số 8 trong số 584762 là :

- A. 80 000
- B. 8 000
- C. 800
- D. 80

3. 1 yến 7 kg =kg

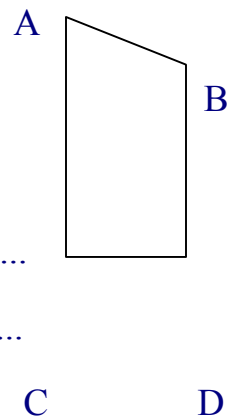
- A. 107
- B. 17
- C. 170
- D. 1700

4.Chữ số thích hợp viết vào ô trống trong phép so sánh $859 \square 67 < 859167$ là :

- A.0
- B. 2
- C. 7

Câu2: Cho hình bên .Viết tiếp vào chỗ chấm:

- 1. Hình bên cógóc vuông
- 2. Hình bên cógóc nhọn
- 3. Các cạnh vuông góc với nhau là.....
- 4. Cặp cạnh song song với nhau là.....



Câu3 : Đúng ghi Đ, sai ghi S vào trước mỗi ô trống sau:

Trung bình cộng của 3 số 36; 42 và 57 là 45

- Số tự nhiên nhỏ nhất là 1
- 2 phút 15 giây = 135 giây
- Trong số 785 930, chữ số 8 thuộc hàng nghìn, lớp nghìn.

II/ PHẦN TỰ LUẬN

Bài 1. Đặt tính rồi tính :

a) $769\ 564 + 410\ 652$

b) $39\ 700 - 24\ 138$

Bài 2:

Tính giá trị của biểu thức $a + b + c$ nếu, $a = 10$, $b = 25$, $c = 29$.

Bài 3:

Tuổi mẹ và tuổi con cộng lại được 41 tuổi. Mẹ hơn con 27 tuổi. Hỏi mẹ bao nhiêu tuổi, con bao nhiêu tuổi?

ĐỀ 63

KIỂM TRA ĐỊNH KỲ GIỮA KỲ I

MÔN: TOÁN - LỚP 4

(Thời gian làm bài: 40 phút)

Bài 1: Viết vào chỗ trống .

| Viết số | Đọc số |
|--------------------|--|
| 542207352 | Hai trăm triệu, hai trăm linh chín nghìn, không trăm mười lăm |

Bài 2: Đặt tính rồi tính

a/. $45786 - 9763$; b/. $564963 + 987565$ c/. 3786×7 d/. $31612 : 7$

.....
.....
.....
.....
.....
.....
.....

Bài 3: Tìm X

a/. $X + 1356 = 7568$

c/. $X : 8 = 657$

.....
.....

.....
.....

.....
.....

Bài 4:

Một cửa hàng bán gạo, ngày đầu bán được 320 kg gạo, ngày thứ hai bán được 425 kg gạo, ngày thứ ba bán được 371 kg gạo. Hỏi trung bình mỗi ngày bán được bao nhiêu Kilôgam gạo?

Bài giải

.....
.....
.....
.....
.....

ĐỀ 64

KIỂM TRA ĐỊNH KỲ GIỮA KỲ I

MÔN: TOÁN - LỚP 4

(Thời gian làm bài: 40 phút)

I. PHẦN TRẮC NGHIỆM .

Em hãy khoanh tròn vào chữ đặt trước kết quả đúng:

1/ Chữ số 4 trong số 746 389 thuộc hàng nào? Lớp nào?

- A. Hàng chục, lớp nghìn
B. Hàng nghìn, lớp nghìn
C. Hàng trăm nghìn, lớp nghìn
D. Hàng chục nghìn, lớp nghìn

2/ Số gồm 4 triệu, 2 chục nghìn, 3 chục viết là:

- A. 42 000 030 B. 4 200 030 C. 4 020 030 D. 420 030

3/ Số thích hợp để viết vào chỗ chấm của 9 tấn 6 yến = yến là:

- A. 96 B. 960 C. 906 D. 9006

5. Tổng của 4 số là 130. Trung bình cộng của 3 số đầu là 40. Hỏi số thứ tư bằng bao nhiêu?

- A. 90 B. 10 C. 40 D. 30

6/ Một hình chữ nhật có chiều dài 16cm, chiều rộng bằng $\frac{1}{4}$ chiều dài. Diện tích của hình chữ nhật đó là:

A. 64cm^2

B. 48cm^2

C. 40cm^2

D. 46cm^2

7/ Đúng ghi **Đ**, Sai ghi **S** vào ô trống:

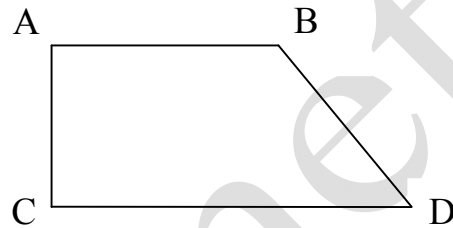
Hình bên có:

a) 2 góc vuông

b) 1 góc tù

c) 1 góc nhọn

d) 2 góc nhọn



II. PHẦN TỰ LUẬN

Bài 1: Đặt tính rồi tính

$$57964 + 814$$

$$4025 - 312$$

Bài 2: Tính giá trị của biểu thức: $434 : 7 + 51 \times 2$

Bài 3: Tìm x

$$x + 725 = 1209$$

Bài 4:

Hai thùng chứa được tất cả 550 lít nước. Thùng to chứa được nhiều hơn thùng bé 132 lít nước. Hỏi mỗi thùng chứa được bao nhiêu lít nước?

ĐỀ 65

KIỂM TRA ĐỊNH KỲ GIỮA KỲ I

MÔN: TOÁN - LỚP 4

(Thời gian làm bài: 40 phút)

I. PHẦN TRẮC NGHIỆM:

Câu 1: Khoanh tròn vào chữ đứng trước câu trả lời đúng.

a/ Số 18 415 000 đọc là :

- A. Mười tám triệu bốn trăm mười lăm .**
- B. Mười tám triệu bốn trăm nghìn mười lăm .**
- C. Mười tám triệu bốn trăm mười lăm nghìn .**

b/ Số lớn nhất trong các số : 790 217 ; 779 012 ; 797 021 ; 791 072

- A. 790 217 B. 779 012 C. 791 072 D. 797 021

c/ $X - 98725 = 416$, X có giá trị là bao nhiêu ?

- A. 98309 B. 99141 C. 98319

d/ Số trung bình cộng của 32 , 46 và 48 là :

- A. 42 B. 63 C. 126

Câu 2: Viết chữ số thích hợp vào ô trống.

a/ $475 \square 36 > 475 836$

b/ $5 \square 75\text{kg} < 5\text{tấn } 175 \text{ kg}$

c/ $\square \text{ kg } 750\text{g} = 2750 \text{ g}$

d/ $3 \text{ giờ } 10 \text{ phút} = \square 90 \text{ phút}$

Câu 3:

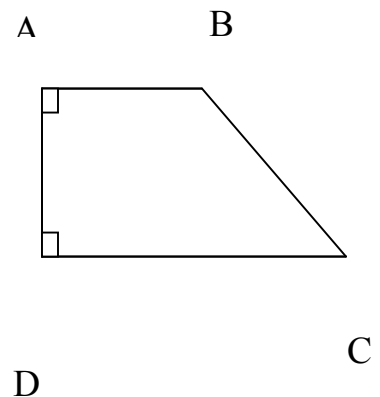
Hình tứ giác ABCD có :(Xem hình bên)

a/ Cạnh AD vuông góc với cạnh

b/ Cạnh AB song song với cạnh

c/ Góc B là góc

d/ Góc C là góc



II. PHẢN TỰ LUẬN:

Câu 1. Đặt tính rồi tính.

$$35\,269 + 27\,485$$

$$183\,600 - 120\,452$$

Câu 2. Bài toán: Hai thùng chứa được 200 lít nước mắm . Thùng to đựng nhiều hơn thùng nhỏ 20 lít nước mắm. Hỏi mỗi thùng đựng bao nhiêu lít nước mắm ?

Câu 3: Tính nhanh:

$$784 + 325 + 216 + 175$$

hoc360.net