

D. 1 góc nhọn, 2 góc tù

## **II. Phần tự luận**

**Bài 1:** Đặt tính rồi tính:

a)  $386\ 259 + 260\ 837$

b)  $435\ 260 - 92\ 735$

**Bài 2:** Tìm x:

a)  $x - 306 = 507$

b)  $x + 257 = 670 - 170$

**Bài 3:** Hai kho chứa 215 tấn thóc, kho thứ nhất chứa nhiều hơn kho thứ hai 35 tấn. Hỏi mỗi kho chứa bao nhiêu tấn thóc?

## **ĐỀ 41**

### **KIỂM TRA ĐỊNH KỲ GIỮA KỲ I NĂM HỌC 2011-2012**

#### **MÔN: TOÁN - LỚP 4**

(Thời gian làm bài: 40 phút)

### **I. PHẦN TRẮC NGHIỆM.**

Khoanh tròn vào chữ cái trước câu trả lời đúng.

Câu 1: Số lớn nhất trong các số 6798 ; 6868 ; 7689 là :

A. 6 868

B. 7 689

C. 6 798

Câu 2: Số gồm “ bốn triệu bảy trăm linh tám nghìn sáu trăm ba mươi tư” viết là:

A. 400 706 634

B. 40 708 634

C. 4 708 634

Câu 3: Giá trị của chữ số 8 trong số 648 762 là:

A. 80 000

B. 8 000

C. 800

Câu 4: 5 tấn 34 kg = .....kg là:

A. 534kg

B. 5340kg

C. 5034kg

Câu 5: Số bé nhất trong các số 8 281 ; 2 881 ; 2 719 ; 2 791 là :

A. 2 881

B. 8 281

C. 2 719

D. 2 791

Câu 6: 1km 5m = .....m

A. 1500

B. 1050

C. 1005

D. 10050

## II. PHẦN TỰ LUẬN.

Bài 1: Viết số thích hợp vào chỗ chấm :

4kg 500g = ..... g

3kg 60g = .....g

7 tấn = .....kg

3 tạ = ..... yến

Bài 2: Đặt tính rồi tính:

$3772 + 4218$

$768456 + 40527$

$56800 - 8317$

$2148 \times 5$

.....

.....

.....

.....

.....

.....

.....

.....

.....

.....

.....

.....

Bài 3: Một ô tô giờ thứ nhất chạy được 52 640m, giờ thứ hai chạy được ít hơn giờ thứ nhất 5280m. Hỏi trong hai giờ ô tô đó chạy được tất cả bao nhiêu mét?

Bài giải:

.....  
.....  
.....  
.....  
.....  
.....  
.....

**ĐỀ 42**

**KIỂM TRA ĐỊNH KỲ GIỮA KỲ I NĂM HỌC 2011-2012**

**MÔN: TOÁN - LỚP 4**

(Thời gian làm bài: 40 phút)

I- TRẮC NGHIỆM: Khoanh tròn vào chữ cái đặt trước ý trả lời đúng.

**Câu 1:** Số gồm bốn mươi triệu, bốn mươi nghìn và bốn mươi là :

- A. 404 040      B. 40 040 040      C. 4 004 040      D. 40 400 040

**Câu 2:** Giá trị của chữ số 9 trong số 679 842 là:

- A. 9      B. 900      C. 9000      D. 90 000

**Câu 3:** Số bé nhất trong các chữ số 684 725 ; 684 752 ; 684 275 ; 684 257 là :

- A. 684 725      B. 684 752      C. 684 275      D. 684 257

**Câu 4:** 3 tấn 7kg = ... kg . Số thích hợp để viết vào chỗ chấm là :

- A. 372                      B. 3 720                      C. 3 027                      D. 3 072

**Câu 5:** 2 phút 20 giây = ... giây . Số thích hợp để viết vào chỗ chấm là :

- A. 40                      B. 220                      C. 80                      D. 140

**Câu 6:** 43m 5cm = ... cm . Số thích hợp để viết vào chỗ chấm là :

- A. 4 305                      B. 435                      C. 4 350                      D. 43 500

**Câu 7:** Số trung bình cộng của 3 số : 321 ; 336 và 369 là :

- A. 527                      B. 342                      C. 108                      D. 425

**Câu 8:** Số tròn trăm x là số nào?                       $650 < x < 750$

- A. 600                      B. 700                      C. 800                      D. Không có

**Câu 9:** Trong một tam giác có nhiều nhất là:

- A. 2 góc vuông                      B. 3 góc nhọn                      C. 2 góc tù                      D. 2 góc bẹt

**Câu 10:** Tổng số tuổi của hai anh em là 24 tuổi. Anh hơn em 4 tuổi. Tuổi của anh là:

- A. 10 tuổi                      B. 12 tuổi                      C. 14 tuổi                      D. 16 tuổi

II- TỰ LUẬN:

**Câu 1 :** Đặt tính rồi tính .

- a.  $4637 + 8245$                       b.  $6471 - 518$   
c.  $4162 \times 4$                       d.  $18418 : 4$

**Câu 2:** Tính giá trị của biểu thức :  $327 : 3 + 25 \times 6$

**Câu 3:** Hai kho có 8 tấn 4 tạ gạo. Kho thứ nhất ít hơn kho thứ hai 6 tạ gạo. Hỏi mỗi kho có bao nhiêu tạ gạo?

**ĐỀ 43**

**KIỂM TRA ĐỊNH KỲ GIỮA KỲ I NĂM HỌC 2011-2012**

**MÔN: TOÁN - LỚP 4**

(Thời gian làm bài: 40 phút)

**Phần 1:**

**Bài 1:** Viết vào chỗ chấm (theo mẫu):

Viết số	Đọc số
2181075	..... .....
.....	Năm trăm năm mươi tám triệu bảy trăm bảy mươi tám nghìn năm trăm mười hai

**Bài 2** Khoanh vào chữ cái đặt trước câu trả lời đúng:

a) Số lớn nhất trong các số 92 534; 29 534; 92 425; 92 435 là số:

- A. 29 543                      B. 92 254                      C. 92 435                      D. 92 534

b) Giá trị của biểu thức  $650 + a$ , với  $a = 50$

- A. 800                          B. 700                          C. 750                          D. 650

c) Năm 2011 thuộc thế kỉ nào?

- A. Thế kỉ XIX                  B. Thế kỉ XX                  C. Thế kỉ XXI                  D. Thế kỉ XXII

d) 4 giờ 15 phút = .....phút.

A. 215

B. 415

C. 255

D. 240

**Bài 3: Đúng ghi Đ, sai ghi S vào ô trống:**

a. 4 thế kỷ 12 năm = 412 năm

b. 9 tạ 8 kg = 908 kg

c. 10 phút 36 giây = 6360 giây

d.  $\frac{1}{3}$  giờ = 30 phút

**Phần 2:**

**Bài 1. Đặt tính rồi tính:**

a.  $81876 - 24639$

b.  $56496 + 3828$

c.  $308 \times 7$

d.  $5850 : 5$

**Bài 2.** Trong hình bên, cho biết các hình tứ giác AHID, HBCI, ABCD, HBGK và KGCI đều là hình chữ nhật. Hãy cho biết:

a/ Cạnh HI song song với các cạnh:

A

H

B

.....

b/ Cạnh KG song song với các cạnh:

K

G

.....

D

I

C

**Bài 4:** Một cửa hàng bán gạo, ngày đầu bán được 320 kg gạo, ngày thứ hai bán được bằng  $\frac{1}{2}$  số gạo của ngày đầu, ngày thứ ba bán gấp ba lần ngày thứ hai. Hỏi trung bình mỗi ngày bán được bao nhiêu kilôgam gạo ?

**ĐỀ 44**

**KIỂM TRA ĐỊNH KỲ GIỮA KỲ I NĂM HỌC 2011-2012**

**MÔN: TOÁN - LỚP 4**

(Thời gian làm bài: 40 phút)

**PHẦN I:** Trắc nghiệm : *Khoanh tròn vào chữ cái đặt trước đáp án đúng:*

**Câu 1:** Chữ số 3 của số 46 307 thuộc lớp nào sau đây?

- A. Lớp đơn vị      B. Lớp nghìn      C. Lớp triệu

**Câu 2 :** Giá trị chữ số 9 trong số 789 654 là :

- A. 9      B. 900      C. 9000      D. 90 000

**Câu 3 :** Số bé nhất trong các số 345 678 ; 345 700 ; 345 599 ; 345 679 là :

- A. 345 678      B. 345 700      C. 345 599      D. 34 5679

**Câu 4 :** 2 tấn 45 kg = .....kg. Số thích hợp để điền vào chỗ chấm là :

- A. 245 kg      B. 2 450 kg      C. 2 405 kg.      D. 2 045 kg

**Câu 5:** 3 km 6 m =.....m.. Số thích hợp để điền vào chỗ chấm là:

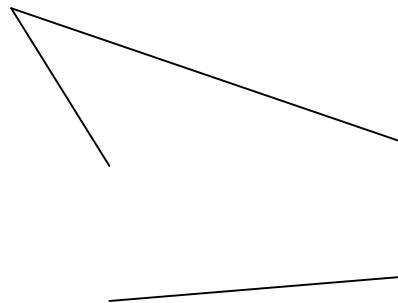
- A. 3 006      B. 306      C. 36      D. 30 006.

**Câu 6 :** Trung bình cộng của các số 25 ; 27 và 32 là số nào ? :

- A. 26      B. 27      C. 28      D. 29

**Câu 7 :** Hình tam giác bên có những góc nào ?

- A. Góc nhọn, góc tù  
B. Góc tù , góc bẹt  
C. Góc nhọn, góc tù, góc bẹt.



**Câu 8:**  $\frac{1}{2}$  thế kỉ = .....năm . Số cần điền vào chỗ chấm là số nào ?

A. 100

B. 200

C. 150

D. 50

**Câu 9** : Hình chữ nhật ABCD có chiều dài  $AB = 4\text{cm}$ , chiều rộng  $BC = 3\text{cm}$ . Diện tích hình chữ nhật ABCD là bao nhiêu ?

A.  $12\text{cm}^2$

B.  $12\text{cm}$

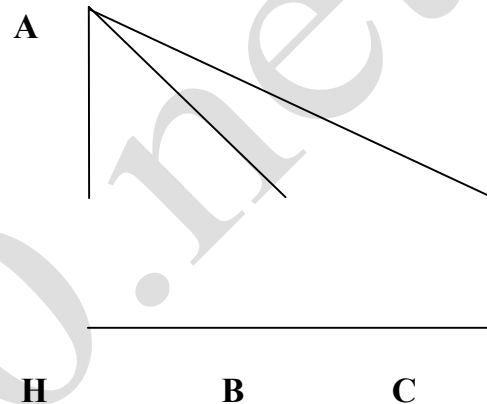
C.  $24\text{cm}$

D.  $24\text{cm}^2$

**Câu 10**: Quan sát hình vẽ bên rồi khoanh vào câu trả lời đúng:

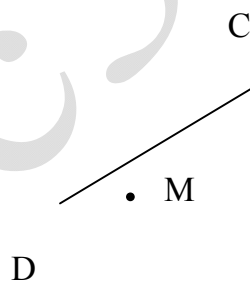
A. **AH** là đường cao của hình tam giác ABC

B. **AB** là đường cao của hình tam giác ABC



**II. PHẦN TỰ LUẬN: (5 điểm)**

**Bài 1**: Hãy vẽ đường thẳng AB đi qua điểm M và vuông góc với đường thẳng CD



**Bài 2** : Tính bằng cách thuận tiện:  $139 + 269 + 231 + 61$

**Bài 3** : Cả hai lớp  $4^A$  và  $4^B$  thu gom được 103kg giấy vụn. Lớp  $4^B$  thu gom ít hơn lớp  $4^A$  là 7kg giấy vụn. Hỏi mỗi lớp thu gom được bao nhiêu ki-lô-gam giấy vụn ?

**ĐỀ 45**

**KIỂM TRA ĐỊNH KỲ GIỮA KỲ I NĂM HỌC 2011-2012**



**MÔN: TOÁN - LỚP 4**

(Thời gian làm bài: 40 phút)

I/ Phân tích : Hãy khoanh vào chữ A, B, C hoặc D để trả lời câu hỏi đúng.

1/ Số gồm bốn trăm triệu, ba triệu nghìn và năm trăm triệu viết là:

- A. 403 050    B. 40 030 050    C. 4 003 050    D. 4 030 050

2/ Giá trị của số 7 trong số 657 132 là:

- A. 70    B. 700    C. 7 000    D. 70 000

3/ Số bé nhất trong các số: 735 825; 735 852; 735 267; 735 275 là:

- A. 735 825    B. 735 852    C. 735 267    D. 735 275

4/  $6\text{ tấn } 65\text{ kg} = \dots\dots\dots\text{kg}$ . Số thích hợp để viết vào chỗ chấm là:

- A. 665    B. 6 650    C. 6 065    D. 6 605

5/ 3 phút 20 giây =  $\dots\dots\dots$  giây. Số thích hợp để viết vào chỗ chấm là:

- A. 140    B. 160    C. 180    D. 200

6/  $X - 707 = 3535$ . Vậy  $X = ?$

- A. 4242    B. 4212    C. 4232    D. 3242

7/ Cho biểu thức  $235 + 3 \times n$ , với  $n = 7$ . Giá trị của biểu thức bằng bao nhiêu?

- A. 165    B. 256    C. 264

8/ Góc trong của hình bình hành là:

- A. Góc nhọn    B. Góc vuông    C. Góc tù



**MÔN: TOÁN - LỚP 4**

(Thời gian làm bài: 40 phút)

I/Phần trắc nghiệm:

Mỗi bài tập dưới đây đều kèm theo 4 câu trả lời A,B,C,D (là đáp số). Hãy khoanh vào chữ đặt trước câu trả lời đúng:

1/Số năm mươi triệu, năm mươi nghìn và năm mươi viết là:

- A. 505 050      B. 5 505 050      C. 5 005 050      D. 50 050 050

2/ Giá trị của chữ số 8 trong số 548 762 là:

- A. 80 000      B. 8 000      C. 800      D. 8

3/ Số lớn nhất trong các số: 684 257 ; 684 752 ; 684 725 là:

- A. 684 257      B. 684 275      C. 684 752      D. 684 725

4/ 4 tấn 85 kg = .....kg.

Số thích hợp để điền vào chỗ chấm là:

- A. 485      B. 4 850      C. 4 085      D. 4 058

5/ 2 phút 10 giây = ..... giây

- A. 30      B. 210      C. 130      D. 70

II/ Phần tự luận:

1/Đặt tính rồi tính kết quả:

2 814 + 65 248      966 995 – 47 856      2148 x 9      1204 : 4

2/ Tìm X :

$$X - 306 = 504$$

$$X + 254 = 680$$

.....

.....

.....

.....

.....

.....

.....

3/ Hai thùng nước chứa được tất cả 600 lít nước . Thùng bé chứa được ít hơn thùng to 120 lít nước . Hỏi mỗi thùng chứa được bao nhiêu lít nước ?

Bài giải:

.....

.....

.....

**ĐỀ 47**

**KIỂM TRA ĐỊNH KỲ GIỮA KỲ I NĂM HỌC 2011-2012**

**MÔN: TOÁN - LỚP 4**

(Thời gian làm bài: 40 phút)

**Bài 1: Khoanh tròn vào chữ đặt trước câu trả lời đúng :**

**A) Số lớn nhất trong các số 6 798 ; 6 868 ; 7 689 ; 7 959 là :**

a. 6 868

b. 7 689

c. 6 798

d. 7 959

**B) Số bé nhất trong các số 8 281 ; 2 881 ; 2 719 ; 2 791 là :**

a. 2 881

b. 8 281

c. 2 719

d. 2 791

**Bài 2: Khoanh tròn vào chữ đặt trước câu trả lời đúng :**

Để tính trung bình cộng của các số 40 ; 15 ; 60 ; 85 ; ta làm như sau :

a.  $(40 + 15 + 60 + 85) : 3$

b.  $(40 + 15 + 60 + 85) : 2$

c.  $(40 + 15 + 60 + 85) : 4$

d.  $(40 + 15 + 60 + 85) : 5$

**Bài 3: Viết số thích hợp vào chỗ chấm :**

10g = ..... dag

5dag = ..... g

4kg 500g = ..... g

7 tấn = ..... kg

1hg = ..... dag

6kg = ..... g

3kg 60g = ..... g

3 tạ = ..... yến

**Bài 4: Đặt tính rồi tính:**

a.  $3776 + 4218$

b.  $768456 + 40527$

c.  $56900 - 8317$

d.  $100000 - 9898$

.....  
.....  
.....  
.....  
.....  
.....

**Bài 5: Tính bằng cách tiện nhất :**

a.  $47 + 19 + 3 =$ .....

b.  $67 + 98 + 33 =$ .....

=.....

=.....

=.....

=.....

**Bài 6 :**

Một ô tô giờ thứ nhất chạy được 52 640m, giờ thứ hai chạy được ít hơn giờ thứ nhất 5280m. Hỏi trong hai giờ ô tô đó chạy được tất cả bao nhiêu ki-lô-mét ?

**Bài giải :**

.....  
.....  
.....  
.....  
.....  
.....

**ĐỀ 48**

**KIỂM TRA ĐỊNH KỲ GIỮA KỲ I NĂM HỌC 2011-2012**

**MÔN: TOÁN - LỚP 4**

(Thời gian làm bài: 40 phút)

**Bài 1: Hãy khoanh tròn vào chữ đặt trước câu trả lời đúng.**

1. Lớp nghìn của số 1675983 gồm các chữ số:

- A. 1; 6; 7                      B. 6; 7; 5                      C. 7; 5; 9                      D. 9; 8; 3

2. Giá trị của chữ số 7 trong số 4170432 là:

- A. 700 000                      B. 7000                      C. 70                      D. 700

3. 6kg 20 g = .....g

- A. 620g                      B. 6200g                      C. 6020g                      D. 6002g

4. 2 phút 30 giây = ..... giây

A. 230 giây      B. 90 giây      C. 32 giây      D. 150 giây

5. Số trung bình cộng của các số 414; 441 và 600 là:

A. 574      B. 485      C. 754      D. 547

**Bài 2 . Đặt tính rồi tính:**

a)  $479235 + 17096$

b)  $61532 - 25194$

.....  
.....  
.....  
.....  
.....

c)  $245 \times 7$

d)  $9630 : 3$

.....  
.....  
.....  
.....  
.....

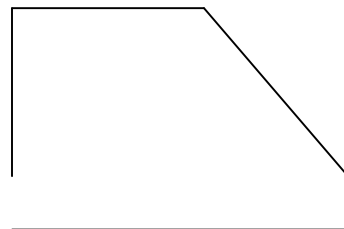
**Bài 3:** Cả hai bao đựng tất cả 560 kg đường. Bao bé đựng ít hơn bao lớn 40 kg đường. Hỏi mỗi bao đựng được bao nhiêu ki-lô-gam đường?

**Bài 4**

Cho hình tứ giác ABCD. Nêu tên các góc vuông, nhọn, góc tù trong hình tứ giác ABCD.

(Dùng ê ke để kiểm tra góc vuông)

A      B



**ĐỀ 49**

**KIỂM TRA ĐỊNH KỲ GIỮA KỲ I NĂM HỌC 2011-2012**

**MÔN: TOÁN - LỚP 4**

(Thời gian làm bài: 40 phút)

Bài 1. Em hay khoanh tròn vào chữ cái đặt trước câu trả lời đúng nhất cho mỗi câu hỏi sau đây:

1) Số gồm bốn nghìn, sáu trăm và tám chục viết là:

- A. 4 086                      B. 4 608                      C. 4 680                      D. 468

2) Cho biết chữ số 3 trong số 403 527 thuộc hàng nào, lớp nào ?

- A. Hàng chục nghìn, lớp nghìn.  
B. Hàng nghìn, lớp nghìn.  
C. Hàng trăm, lớp đơn vị.

3) Số bé nhất trong các số 684 257 ; 684 275 ; 684 752 ; 684 725 là:

- A. 684 257                      B. 684 275                      C. 684 752                      D. 684 725

4) Số lớn nhất trong các số 743 597; 743 498; 743 598; 743 697 là:

- A. 743 597                      B. 743 498                      C. 743 598                      D. 743 697

5) 2 phút 12 giây = ...giây

Số thích hợp viết vào chỗ chấm là:

- A. 32                              B. 212                              C. 132                              D. 72

6) Đổi: 6 tạ 3 kg = ... kg

Số thích hợp viết vào chỗ chấm là:


- A. 6003                              B. 603                              C. 6030                              D. 63

Bài 2. Đặt tính rồi tính:

- a)  $112345 + 156342$                       b)  $987864 - 783251$                       c)  $267345 + 31925$



Bài 3. Điền tên gọi tương ứng dưới mỗi góc sau đây:



Bài 4. Một ô tô giờ thứ nhất đi được 52 km; giờ thứ hai đi được nhiều hơn giờ thứ nhất 4 km. Hỏi trung bình mỗi giờ ô tô đi được bao nhiêu ki- lô- mét?

Bài 5. Một tờ giấy hình vuông cạnh 8cm. Tính chu vi và diện tích tờ giấy đó?

**ĐỀ 50**

**KIỂM TRA ĐỊNH KỲ GIỮA KỲ I NĂM HỌC 2011-2012**

**MÔN: TOÁN - LỚP 4**

(Thời gian làm bài: 40 phút)

**Phần I: Trắc nghiệm**

Em hãy khoanh tròn vào chữ cái đặt trước câu trả lời đúng nhất.

1) Số một triệu mười nghìn viết là:

- a. 1 010 100      b. 1 100 000      c. 1 010 000      d. 1 010 110

2) Số lớn nhất trong các số: 684257; 684275; 684752; 684725.

- a. 684257      b. 684275      c. 684752      d. 684725

3) Giá trị chữ số 8 trong số 548762 là:

- a. 80000      b. 8000      c. 800      d. 8

4) Số thích hợp viết vào chỗ chấm của 2 tấn 75kg = .....kg là:

- a. 275      b. 2750      c. 2057      d. 2075

5) Số thích hợp để viết vào chỗ chấm của 4 giờ 45 phút = .....phút là:

- a. 445                      b. 85                      c. 454                      d. 285

6) Số thích hợp để viết vào chỗ chấm của  $\frac{1}{3}$  giờ = .....phút là:

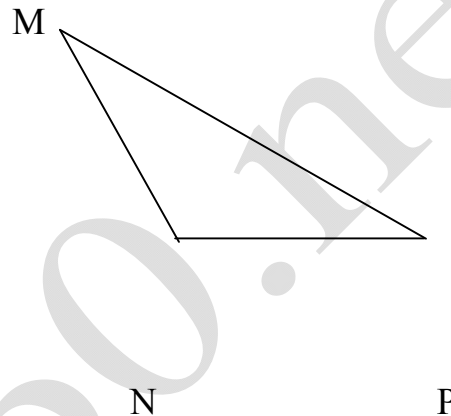
- a. 15                      b. 20                      c. 8                      d. 10

7) Trung bình cộng của các số: 37, 39, 41, 43, 45 là:

- a. 40                      b. 41                      c. 42                      d. 43

8) Hình vẽ bên có:

- a. 2 góc vuông, 1 góc tù.  
b. 2 góc nhọn, 1 góc bẹt.  
c. 2 góc nhọn, 1 góc tù  
d. 1 góc vuông, 2 góc nhọn



**Phần II:**

Bài 1.

a. Tính biểu thức

$$510 - 225 - 135 + 35$$

b. Tính thuận tiện

$$2731 + 3412 + 2269 + 1588$$

Bài 2.

Thu hoạch thóc từ hai thửa ruộng được 5400kg. Thửa thứ nhất thu hoạch nhiều hơn thửa thứ hai 620kg. Hỏi mỗi thửa ruộng thu hoạch bao nhiêu kg thóc?

Bài 3.

Số trung bình cộng của hai số bằng 50. Biết một trong hai số đó là 58. Tìm số kia.

**ĐỀ 51**

**KIỂM TRA ĐỊNH KỲ GIỮA KỲ I NĂM HỌC 2011-2012**

**MÔN: TOÁN - LỚP 4**

(Thời gian làm bài: 40 phút)

**Phần I: Trắc nghiệm**

Em hãy khoanh tròn vào chữ cái trước câu trả lời đúng nhất.

**Câu 1:** Giá trị của chữ số 7 trong số 1 376 500:

- A. 7000                      B. 70 000                      C. 700 000                      D. 700

**Câu 2:** Các số 3471; 4137; 3741; 4173 viết theo thứ tự từ bé đến lớn là:

- A. 3471; 3741; 4137; 4173  
B. 4137; 4173; 3741; 3471  
C. 4173; 4137; 3741; 3471  
D. 3471; 4137; 4173; 3741

**Câu 3:**Viết số biết số đó gồm có: 3 triệu, 5 trăm nghìn, 4 chục nghìn, 2 trăm, 4 chục, 2 đơn vị.

- A. 3 540 242                      B. 35 504 002                      C.30 504 020                      D. 3 504 042

**Câu 4:** 1 tấn 3 tạ = ....kg

- A. 130 kg                      B. 1300 kg                      C. 1030 kg                      D.  
103 kg

**Câu 5:** Tổng 2 số là 58, hiệu 2 số đó là 10. Hai số đó là:

- A. 29 và 19                      B. 26 và 16                      C. 34 và 24                      D. 30  
và 18

**Câu 6:** Một hình chữ nhật có nửa chu vi là 16cm, chiều dài hơn chiều rộng 4cm. Diện tích hình chữ nhật đó là:

- A. 12 cm<sup>2</sup>                      B. 60 cm<sup>2</sup>                      C. 26 cm<sup>2</sup>                      D.  
27cm<sup>2</sup>

**Phần II: Tự luận**

**Bài 1:** Đặt tính rồi tính:

- A. 478605 + 586399                      B. 728046 – 35691

**Bài 2:** Tính bằng cách thuận tiện nhất:

$$448 + 594 + 52$$

**Bài 3:** Tìm x

- a.  $x - 2150 = 6840$                       a.  $1732 - x = 564$

.....  
.....  
.....

**Bài 4:** Lớp 4A có 35 học sinh, lớp 4B có 36 học sinh, lớp 4 C có 37 học sinh. Hỏi trung bình mỗi lớp có bao nhiêu học sinh?

.....  
.....  
.....  
.....

.....  
.....  
.....  
.....  
.....  
.....  
.....  
.....

**ĐỀ 52**

**KIỂM TRA ĐỊNH KỲ GIỮA KỲ I NĂM HỌC 2011-2012**

**MÔN: TOÁN - LỚP 4**

(Thời gian làm bài: 40 phút)

**Bài 1:**

**a. Viết số thích hợp vào chỗ chấm:**

Hai mươi lăm triệu:

.....

Tám mươi sáu triệu không trăm ba mươi nghìn một trăm linh hai:

.....

**b. Viết các số sau: 57 642; 56 724; 57 462; 56 427; 57624**

Theo thứ tự từ bé đến lớn:

.....

Theo thứ tự từ lớn đến

bé:.....

**Bài 2: Đặt tính rồi tính:**

$753985 + 65309$ ;       $97485 - 3658$ ;       $463 \times 7$ ;       $2520$   
: 5

**Bài 3: (2 điểm) Đúng ghi Đ, sai ghi S vào ô trống:**

- a)  $800 \text{ kg} = 80 \text{ tạ}$        c)  $3 \text{ tạ } 6\text{kg} = 360 \text{ kg}$    
b)  $3 \text{ phút } 20 \text{ giây} = 200 \text{ giây}$        d)  $7 \text{ thế kỷ} = 700 \text{ năm}$

**Bài 4: Khoanh vào chữ đặt trước câu trả lời đúng:**

a. Giá trị của chữ số 7 trong số 1 376 500 là:

- A. 7000      B. 70 000      C. 700 000      D.  
700

b. 6 tấn 6 kg = .....kg

- A. 66 kg      B. 6600 kg      C. 6060 kg      D.  
6006 kg

c. Số trung bình cộng của các số 27, 33 và 45 là:

- A. 33      B. 34      C. 35      D.  
36

d. Một hình vuông có độ dài mỗi cạnh là 7cm thì chu vi hình vuông đó sẽ là:

- A. 14 cm      B. 49 cm      C. 21 cm      D.  
28 cm

**Bài 5:**

Một cửa hàng cả hai ngày bán được 3450 lít dầu, biết rằng ngày thứ nhất bán được nhiều hơn ngày thứ hai 376 lít dầu. Hỏi mỗi ngày cửa hàng đó bán được bao nhiêu lít dầu?

**ĐỀ 53**

**KIỂM TRA ĐỊNH KỲ GIỮA KỲ I NĂM HỌC 2011-2012**

**MÔN: TOÁN - LỚP 4**

(Thời gian làm bài: 40 phút)

**A/Trắc nghiệm:**

**Câu 1: Hãy khoanh tròn vào chữ đặt trước câu trả lời đúng nhất**

- a/ Cho các số sau: 21, 30, 45      Trung bình cộng các số là:
- A. 96                                      B. 42                                      C. 32
- b/ 5 phút 40 giây bằng bao nhiêu giây?
- A. 340giây                              B. 304giây
- C. 300giây
- c/ Năm 1010 thuộc thế kỉ nào ?      A. thế kỉ 9                              B. thế kỉ 10                              C. thế kỉ 11
- d/ 2 tấn 35 kg + 25 kg = .....kg      A. 2600kg                              B. 2060kg                              C. 260kg

e/  $\frac{1}{3}$  phút = ...giây                      A.30 giây                      B.20 giây                      C.10 giây.

f/ Trong số 743865901 :

- A/ Chữ số 3 ở hàng triệu , lớp triệu .
- B/ Chữ số 3 ở hàng nghìn , lớp nghìn.
- C/ Chữ số 3 ở hàng chục triệu, lớp triệu .

g/Phát biểu nào sau đây đúng :

- A/ Góc bẹt bé hơn góc tù.
- B/ Góc tù bé hơn góc vuông .
- C/ Góc bẹt bằng hai lần góc vuông .

h/Viết các số 310762; 99000 ; 309871; 257800 theo thứ tự từ lớn đến bé :

- A/ 257800; 309871; 99000; 310762
- B/ 257800; 99000 ; 309871; 310762
- C/ 310762; 309871; 257800; 99000

**B/Tự luận:**

**Câu 1**

a) Viết số, biết số đó gồm : 4triệu, 9 trăm nghìn , 6 nghìn , 7trăm , 2 chục

.....

b) Đọc số: 325004789:

.....

.....

.....

**Câu 2: Tìm x :**

a/  $45672 + x = 527839$

b/  $76053 - x = 51425$

.....

.....