

**KIỂM TRA ĐỊNH KỲ GIỮA KỲ I NĂM HỌC 2011-2012**

**MÔN: TOÁN - LỚP 4**

(Thời gian làm bài: 40 phút)

**I.phÇn tr¼c nghiÖm :** Em hãy khoanh tròn vào câu trả lời đúng nhất:

1. Số “Chín trăm linh năm nghìn ba trăm linh tám” Viết là:

- a. 950 308                      b. 905 308                      c. 950 380                      d. 905 380

2. Cho các số sau : 5 437 052 ; 2 674 399 ; 7 186 500 ; 5 370 321 . Xếp chúng theo thứ tự từ bé đến lớn là:

a. 7 186 500 ; 5 370 321 ; 5 437 052 ; 2 674 399

b. 5 370 321 ; 5 437 052 ; 2 674 399 ; 7 186 500

c. 2 674 399 ; 5 370 321 ; 5 437 052 ; 7 186 500

d. 5 437 052 ; 7 186 500 ; 2 674 399 ; 5 370 321

3. 1 tấn 500 kg = ..... kg

- a. 1050                      b. 1500                      c. 1005                      d. 15

4.  $x \times 8 = 64$  ;  $x = \dots\dots$

- a. 7                      b. 9                      c. 6                      d. 8

5. Tổng của hai số là 15, hiệu của chúng là 6. Hai số đó là :

- a. 5 và 7                      b. 4 và 8                      c. 3 và 9                      d. 2 và 10

6. Một hình chữ nhật có chiều rộng là 6m, chiều dài 8m. Diện tích của hình chữ nhật đó là :

a.  $14 \text{ m}^2$

b.  $48 \text{ m}^2$

c. 14 m

d. 48 m

## II. phÇn tù luËn.

1. Đặt tính rồi tính:

a.  $2\ 875 + 5\ 518$

b.  $46\ 375 + 25\ 286$

c.  $92\ 741 - 25\ 091$

d.  $68\ 700 - 9\ 217$

2. Tính giá trị của biểu thức:

a.  $468 : 6 + 63 \times 3 =$

b.  $508 \times 7 - 2\ 514 =$

3. Hai lớp 4<sup>A</sup> và 4<sup>B</sup> có tất cả 52 bạn đội viên. Lớp 4<sup>A</sup> nhiều hơn lớp 4<sup>B</sup> 6 bạn. Hỏi mỗi lớp có bao nhiêu bạn đội viên ?

## ĐỀ 29

**KIỂM TRA ĐỊNH KỲ GIỮA KỲ I NĂM HỌC 2011-2012**

**MÔN: TOÁN - LỚP 4**

(Thời gian làm bài: 40 phút)

**I. Trắc nghiệm:**

**Khoanh vào chữ cái trước câu trả lời đúng**

1/ Số lớn nhất trong các số 88 899; 89 988; 89 898; 88 998

- A. 88 899      B. 89 898      C. 89 988      D. 88 998

2/ Số gồm có 4 triệu, 6 trăm nghìn, 5 nghìn viết là:

- A. 460 500      B. 4 605 000      C. 4 600 500      D. 4 060 500

3/  $\frac{1}{4}$  giờ = ...phút. Số thích hợp viết vào chỗ chấm là:

- A. 12      B. 10      C. 15      D. 6

4/ 6 tấn 40 kg = .....kg. Số thích hợp viết vào chỗ chấm là:

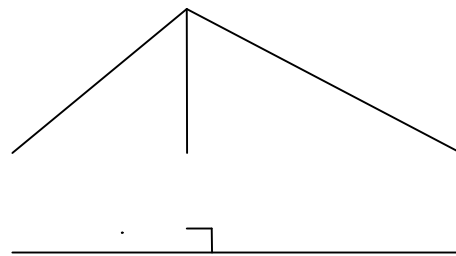
- A. 6 040      B. 640      C. 60 040      D. 6 400

5/ Trung bình cộng của các số 90; 95; 105; 120; 125 là:

- A. 105      B. 107      C. 134      D. 535

6 / Hình bên có mấy góc vuông, góc nhọn, góc tù

- A. 2 góc vuông, 2 góc nhọn, 1 góc tù  
B. 1 góc vuông, 2 góc nhọn, 1 góc tù  
C. 1 góc vuông, 1 góc nhọn, 1 góc tù  
D. 2 góc vuông, 4 góc nhọn, 1 góc tù



**II. Tự luận:**

**Bài 1:** Đặt tính rồi tính.

$$839065 - 458623$$

$$95670 + 32846 + 263$$

$$3984 \times 6$$

$$5605 : 5$$

**Bài 2:** Tính giá trị biểu thức.

$$4820 + (6006 - 5649 : 7)$$

**Bài 3:** Một mảnh đất hình chữ nhật có nửa chu vi là 40m. Chiều dài hơn chiều rộng 22m. Tính diện tích mảnh đất hình chữ nhật đó.

**ĐỀ 30**

**KIỂM TRA ĐỊNH KỲ GIỮA KỲ I NĂM HỌC 2011-2012**

**MÔN: TOÁN - LỚP 4**

(Thời gian làm bài: 40 phút)

Câu 1: Khoanh vào chữ đặt trước câu trả lời đúng.

A. Giá trị của số 2 trong dãy số 12 765 340 là:

a. 2 000

b. 2 000 000

c. 20 000

d. 200

B. Số thích hợp viết vào chỗ chấm để có 5 tấn 30kg = .....kg

- a. 53                      b. 5 003                      c. 53 000                      d. 5 030

C. Số thích hợp viết vào chỗ chấm để 2 giờ 15 phút = .....phút

- a. 125                      b. 153                      c. 135                      d. 215

Câu 2 : Đặt tính rồi tính.

- a.  $4682 + 2305$                       b.  $2968 + 6524$                       c.  $987864 - 783251$

.....  
.....  
.....  
.....

Câu3:

- a. Viết số tự nhiên liền sau của số. 2 835 917,.....  
b. Viết số tự nhiên liền trước của số. 2 835 917, .....

Câu 4: Tính bằng cách thuận tiện nhất.

$$364 + 136 + 219 + 181$$

.....  
.....  
.....  
.....

Câu 5: Một hình chữ nhật có nửa chu vi 23cm, chiều dài hơn chiều rộng là 7cm. Tính diện tích của hình chữ nhật đó .

Bài giải:

.....  
.....

.....

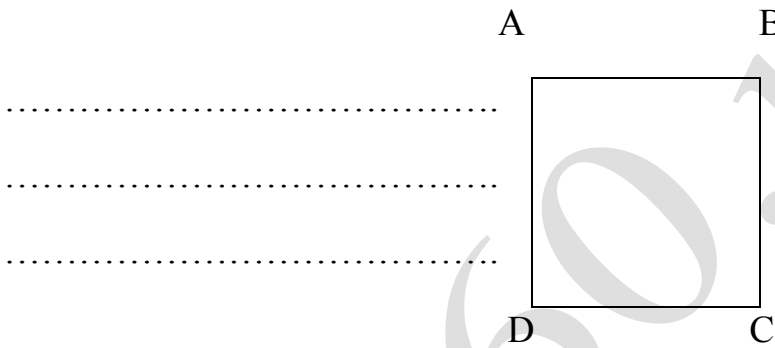
.....

.....

.....

.....

Câu 6 (1 điểm) Các cặp cạnh song song của hình bên là:



**ĐỀ 31**

**KIỂM TRA ĐỊNH KỲ GIỮA KỲ I NĂM HỌC 2011-2012**

**MÔN: TOÁN - LỚP 4**

(Thời gian làm bài: 40 phút)

**Phần I: Khoanh tròn vào chữ có câu trả lời đúng.**

**Câu 1: Số mười sáu triệu mười sáu nghìn sáu trăm được viết thế nào?**

- A. 16 166 000                      B. 16 160 600                      C. 16 016 600

**Câu 2: Giá trị của chữ số 8 trong số 9 084 720 là bao nhiêu?**

- A. 800 000                      B. 80 000                      C. 8 000

**Câu 3: Số nào thích hợp viết vào chỗ chấm:**

**a) 6 kg 27 g = .....g**

- A. 6 027                      B. 6 207                      C. 6 270

**b) 1/3 giờ = .....phút**

- A. 15                      B. 20                      C. 8

**Câu 4: Số lớn nhất trong các số 782 450; 782 540; 728 450 là số nào?**

- A. 782 450                      B. 782 540                      C. 728 450

**Câu 5: Với  $a = 85$  thì giá trị của biểu thức  $425 + a$  là:**

- A. 500                      B. 520                      C. 510

**Phần II:**

**Câu 1: Đặt tính rồi tính:**

a)  $3872 + 4936$

b)  $6240 - 3581$





3. Giá trị của chữ số 9 trong số 9 785 234 là:

- A. 9 000 000      B. 900 000      C. 90 000      D. 9 000

4.  $\frac{1}{4}$  thế kỷ bằng:

- A. 10 năm      B. 15 năm      C. 20 năm      D. 25 năm

5. 7 kg 85g = ..... g. Số thích hợp để viết vào chỗ chấm (.....) là:

- A. 7 085      B. 7 850      C. 785      D. 7 805

6. 2 phút 30 giây = .....giây. Số thích hợp để viết vào chỗ chấm ( ....) là:

- A. 32      B. 230      C. 150      D. 90

7. Số trung bình cộng của hai số bằng 50, biết một trong hai số đó bằng 30. Số còn lại là:

- A. 40      B. 50      C. 60      D. 70

8. Nếu  $x : 11 = 73$  thì :

- A.  $x = 73$       B.  $x = 703$       C.  $x = 803$       D.  $x = 103$

**Phần 2:**

1. Đặt tính rồi tính:

a,  $367589 + 541708$

b,  $647253 - 285749$

2. Tính giá trị biểu thức:

a,  $468 : 6 + 61 \times 2$

b,  $30168 \times 4 - 4782$

3. Cho biết các hình tứ giác có trong hình bên đều là các hình chữ nhật. Viết tiếp vào chỗ chấm(...):

A      M      B



Cạnh MN vuông góc với các cạnh

.....

Cạnh BC song song với các cạnh

..... **D**      **N**      **C**

4. Thu hoạch từ hai thửa ruộng được 5 tấn 2 tạ thóc. Thu hoạch ở thửa ruộng thứ nhất được nhiều hơn ở thửa ruộng thứ hai 8 tạ thóc. Hỏi thu hoạch ở mỗi thửa ruộng được bao nhiêu ki-lô-gam thóc ?

hoc360.net

ĐỀ 33

KIỂM TRA ĐỊNH KỲ GIỮA KỲ I NĂM HỌC 2011-2012

MÔN: TOÁN - LỚP 4

(Thời gian làm bài: 40 phút)

2) Viết vào chỗ chấm:

c) Số “Ba mươi triệu không trăm linh chín ngàn bảy trăm”.....

d) Số “Bảy triệu năm trăm ngàn sáu trăm mười hai”  
.....

2) Đúng ghi Đ, sai ghi S vào ô trống:

a)  $\frac{1}{4}$  giờ = 20 phút ;

b) 4 phút 5 giây = 165 giây

c) 15 tạ = 1500 kg;

d) 600 năm = 6 thế kỷ

3) Đặt tính rồi tính

40673+6929

99070 – 3647

5013 x 6

2358 : 9

.....  
.....  
.....  
.....  
.....

4) Khoanh vào chữ đặt trước câu trả lời đúng

a) Giá trị của biểu thức:  $468 : 3 + 61 \times 4$  là:

A. 868

B. 217

C. 300

D. 400

b) Cạnh hình vuông là 5 cm thì diện tích hình vuông là:

A.  $20\text{cm}^2$

B.  $25\text{cm}^2$

C.  $10\text{cm}^2$

D. 25cm

5) Tìm y:

$$y + 676 = 5080$$

$$5494 - y = 1605$$

.....  
.....  
.....  
.....

6) Bài giải:

a) Tuổi của hai chị em là 32 tuổi. Chị hơn em 6 tuổi. Hỏi chị bao nhiêu tuổi, em bao nhiêu tuổi?

b) Số học sinh của năm lớp lần lượt là : 28 học sinh; 32 học sinh; 30 học sinh; 26 học sinh; 34 học sinh. Hỏi trung bình mỗi lớp có bao nhiêu học sinh?

**ĐỀ 34**

**KIỂM TRA ĐỊNH KỲ GIỮA KỲ I NĂM HỌC 2011-2012**

**MÔN: TOÁN - LỚP 4**

(Thời gian làm bài: 40 phút)

TRẮC NGHIỆM:

Khoanh vào chữ đặt trước câu trả lời đúng.

Câu 1: Giá trị của chữ số 3 trong số 7 312 826 là:

- A. 300 000                      B. 3000                      C. 300                      D. 30

Câu 2: 4 phút 20 giây =.....giây

- A. 260 giây                      B. 360 giây                      C. 240 giây                      D. 60 giây

Câu 3: Trung bình cộng của các số 36, 42, 57 là:

- A.45                      B.43                      C.35                      D.54

Câu 4: 3taans 65 kg = .....kg

- A. 365kg.                      B.3650 kg                      C.3065kg                      D.3056 kg

Câu 5 Hình chữ nhật có chiều dài 5cm, chiều rộng 4 cm. Chu vi của nó là:

- A. 20 cm                      B. 18 cm                      C. 24 cm                      D. 9 cm

I. TỰ LUẬN:

Bài 1 (2 điểm): Đặt tính rồi tính

a.  $27\,968 + 61\,524$

.....

.....

.....

b.  $628\,450 - 35\,813$

.....

c .  $4606 \times 8$

.....

.....

.....

d.  $1968 : 6$

.....

.....

.....

.....

.....

.....

Bài 2 (1 điểm): Tìm X

$$X : 7 = 175$$

.....

.....

.....

Bài 3:

Một cửa hàng bán vải, ngày đầu bán được 200 mét vải, ngày thứ hai bán được 210 mét vải, ngày thứ ba bán được 211 mét vải. Hỏi trung bình mỗi ngày của hàng bán được bao nhiêu mét vải ?

**ĐỀ 35**

**KIỂM TRA ĐỊNH KỲ GIỮA KỲ I NĂM HỌC 2011-2012**

**MÔN: TOÁN - LỚP 4**

(Thời gian làm bài: 40 phút)



a.  $45269 + 27358$

b.  $97964 - 43566$

.....

.....

.....

2/ Tính:  $15 \text{ yến} - 60 \text{ kg} =$        $\text{kg}$

.....

3/ Có 9 xe chuyển hàng cứu trợ lên miền núi, 6 xe đi đầu mỗi xe chở được 42 tạ, 3 xe đi sau mỗi xe chở được 36 tạ. Hỏi trung bình mỗi xe chở được bao nhiêu tạ hàng hoá?

**ĐỀ 36**

**KIỂM TRA ĐỊNH KỲ GIỮA KỲ I NĂM HỌC 2011-2012**

**MÔN: TOÁN - LỚP 4**

(Thời gian làm bài: 40 phút)

**3) Viết vào chỗ chấm:**

e) Số “Ba mươi triệu không trăm linh chín ngàn bảy trăm” .....

f) Số “Bảy triệu năm trăm ngàn sáu trăm mười hai”  
.....

**2) Đúng ghi Đ, sai ghi S vào ô trống ( 1 điểm)**

a)  $\frac{1}{4}$  giờ = 20 phút ;

b) 4 phút 5 giây = 165 giây

c) 15 tạ = 1500 kg;

d) 600 năm = 6 thế kỷ

**3) Đặt tính rồi tính:**

$40673 + 6929$

$99070 - 3647$

$5013 \times 6$

$2358 : 9$



**4) Khoanh vào chữ đặt trước câu trả lời đúng:**

a) Giá trị của biểu thức:  $468 : 3 + 61 \times 4$  là:

- A. 868            B. 217            C. 300            D. 400

b) Cạnh hình vuông là 5 cm thì diện tích hình vuông là:

- A.  $20\text{cm}^2$         B.  $25\text{cm}^2$         C.  $10\text{cm}^2$         D. 25cm

**5) Tìm y:**

$$y + 676 = 5080$$

$$5494 - y = 1605$$

**6) Bài giải:**

a) Tuổi của hai chị em là 32 tuổi. Chị hơn em 6 tuổi. Hỏi chị bao nhiêu tuổi, em bao nhiêu tuổi?

b) Số học sinh của năm lớp lần lượt là : 28 học sinh; 32 học sinh; 30 học sinh; 26 học sinh; 34 học sinh. Hỏi trung bình mỗi lớp có bao nhiêu học sinh?



B C N P F G  
Hình 1 Hình 2 Hình 3

a. Hình 1 b. Hình 2 c. Hình 3

## II. TỰ LUẬN

Câu 1: Đặt tính rồi tính

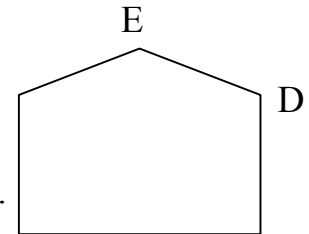
a.  $803267 + 128956$       b.  $67894 - 38765$

Câu 2 : Tính bằng cách thuận tiện nhất

Câu 3 : Dựa vào hình vẽ dưới đây, hãy cho biết:

a. Các cặp cạnh song song với nhau là .....A

.....



b. Các cặp cạnh vuông góc với nhau là .....

..... B C

Câu 4: Trong dịp Tết trồng cây, lớp 4A và lớp 4B trồng được tất cả 160 cây tràm.

Lớp 4A trồng được nhiều hơn lớp 4B 24 cây. Hỏi mỗi lớp trồng được bao nhiêu cây tràm?

**ĐỀ 38**

KIỂM TRA ĐỊNH KỲ GIỮA KỲ I NĂM HỌC 2011-2012

MÔN: TOÁN - LỚP 4

(Thời gian làm bài: 40 phút)

1/ Điền Đ;S vào ô trống:

$$\begin{array}{r} 4653 \\ + 2863 \\ \hline 6416 \end{array} \quad \square$$
$$\begin{array}{r} 5832 \\ - 246 \\ \hline 2372 \end{array} \quad \square$$
$$\begin{array}{r} 52 \\ \times 6 \\ \hline 30226 \end{array} \quad \square$$
$$\begin{array}{r} 6084 \\ 008 \overline{) 114} \\ \underline{24} \end{array} \quad \square$$

2/ Đánh dấu X vào ô đúng :

1. Kết quả của phép chia  $32408 : 4$  là:

- a. 812       b. 8012       c. 8102       d. 602

2. Giá trị của biểu thức:  $245 + 55 \times 2$  là:

- a. 600       b. 355       c. 300       d. 110

3. Giá trị của biểu thức:  $5 \times 105 - 5 \times 5$  là:

- a. 505       b. 150       c. 500       d. 105

4. 5 tấn 85 kg = .....kg

- a. 585 kg     b. 5850 kg    c. 5085 kg    d. 58500 kg

5. 1 phút 6 giây = ..... giây

- a. 16       b. 60       c. 66       d. 660

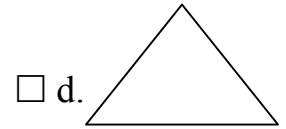
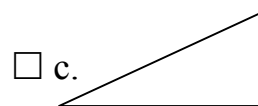
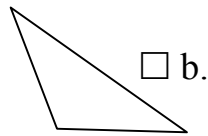
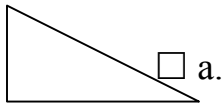
6. Trung bình cộng của các số sau: **28; 37; 49** là:

- a. 37       b. 38       c. 28       d. 49

7. Tìm x biết:  $8614 - x = 217$ .

- a.  $x = 217$      b.  $x = 8397$     c.  $x = 8407$     d.  $x = 8831$

8. Hình nào là hình có góc nhọn và góc tù?



3/ Đặt tính rồi tính :

$47863 + 25678$

$43761 - 4562$

$1425 \times 6$

$5712 : 6$

.....

.....

.....

.....

4/ **Bài toán :** Tổng số học sinh của khối 3 và khối 4 là 284 học sinh. Biết học sinh khối 3 ít hơn khối 4 là 32 em. Hỏi mỗi khối có bao nhiêu học sinh?

.....

.....

.....

.....

.....

ĐỀ 39

KIỂM TRA ĐỊNH KỲ GIỮA KỲ I NĂM HỌC 2011-2012

MÔN: TOÁN - LỚP 4

(Thời gian làm bài: 40 phút)

**I Phần trắc nghiệm**

Khoanh vào trước câu trả lời đúng:

1. Số gồm năm mươi triệu ,năm mươi nghìn và năm mươi viết là :

A.505 50 B.5 050 050 C . 5 005 050 D. 50 050 050

2.Giá trị của chữ số 4 trong số 548 762 là :

A. 400 000 B.40 000 C.400 D.40

3.4 tấn 85 kg = .....kg

A. 485 B. 4850 C. 4085 D.4058

4. Trung bình cộng của các số 96,121,143 là .....

A.210 B.120 C. 201 D. 102

5.Tổng hai số là 70 ,hiệu hai số 10 .Số lớn là .....

A. 40 B.30 C.20 D. 50

**II Phần tự luận :**

1. Đặt tính rồi tính :

528946+ 73529      435260- 92753      2105 x 5      41272 : 4

.....  
.....  
.....  
.....

2. Tìm X :

$$X \times 2 = 10$$

$$X : 6 = 5$$

.....

.....

.....

.....

3. Hai phân xưởng làm được 1200 sản phẩm. Phân xưởng một làm ít hơn phân xưởng hai 120 sản phẩm. Hỏi mỗi phân xưởng làm được bao nhiêu sản phẩm?

.....  
.....  
.....  
.....  
.....  
.....  
.....  
.....

**ĐỀ 40**

**KIỂM TRA ĐỊNH KỲ GIỮA KỲ I NĂM HỌC 2011-2012**

**MÔN: TOÁN - LỚP 4**

(Thời gian làm bài: 40 phút)

**I. Phần trắc nghiệm:**

Hãy khoanh tròn vào chữ cái đặt trước câu trả lời đúng:

**1. Số “tám mươi tư triệu không trăm sáu mươi ba nghìn không trăm năm mươi hai” viết là:**

- A. 8 463 052                      B. 840 063 052                      C. 84 063 052                      D. 84 006 352

**2. Chữ số 9 trong số 398 675 thuộc hàng nào? Lớp nào?**

- A. Hàng chục nghìn, lớp nghìn                      B. Hàng chục, lớp nghìn  
C. Hàng trăm nghìn, lớp nghìn                      D. Hàng chục nghìn, lớp nghìn

**3. Trong các số dưới đây, chữ số 8 trong số nào có giá trị là 80 000?**

- A. 218 042 657                      B. 715 181 302                      C. 800 006 425                      D. 325 468 603

**4. Dòng nào dưới đây gồm các số được viết theo thứ tự từ bé đến lớn?**

- A. 15 324; 15 342; 15 423; 15 432                      B. 15 234; 15 342, 15 432, 15 423  
C. 15 423; 15 432; 15 342; 15 324                      D. 15 706; 15 067; 15 760; 15 670

**5.  $\frac{1}{4}$  ngày = ... giờ? Số thích hợp để viết vào chỗ chấm là:**

- A. 4                      B. 15                      C. 3                      D. 6

**6. 9 tấn 7kg = ... kg? Số thích hợp để viết vào chỗ chấm là:**

- A. 9007                      B. 97                      C. 907                      D. 9070

**7. Một hình vuông có chu vi 16cm. Diện tích của hình vuông đó là:**

- A. 64 cm<sup>2</sup>                      B. 16 cm<sup>2</sup>                      C. 4 cm<sup>2</sup>                      D. 8cm<sup>2</sup>

**8. Trong hình bên có:**

- A. 1 góc vuông, hai góc tù  
B. 1 góc vuông, 2 góc nhọn  
C. 1 góc vuông, 1 góc nhọn

