

**ĐỀ KIỂM TRA MÔN TOÁN LỚP 3 - Đề 5**

**Bài 1 (2 đ):** Tính nhanh

a.  $1 + 2 + 3 + 4 + 5 + 6 + 7 + 8 + 9 + 10$

b.  $2 + 4 + 6 + 8 + 10 + 12 + 14 + 16 + 18 + 20$

**Bài 2 (2 đ):** Tìm X

a.  $1999 + X = 2000 + 5$

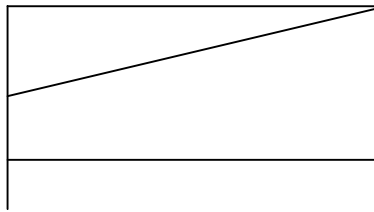
b.  $X \times 2 = 3900 + 98$

**Bài 3 (2 đ):** Một nhà máy có 3 tổ công nhân, tổ một có số công nhân gấp đôi tổ hai, tổ ba có số công nhân bằng  $\frac{1}{3}$  tổ một, tổ hai có 9 công nhân. Hỏi nhà máy có bao nhiêu công nhân ?

**Bài 4 (2 đ):** Năm nay, bố tôi 45 tuổi. Năm trước, tuổi chị tôi bằng  $\frac{1}{5}$  tuổi bố tôi.

Vậy năm nay, chị tôi bao nhiêu tuổi ?

**Bài 5 (2 đ):** Hình vẽ bên có bao nhiêu hình tam giác ? Bao nhiêu hình tứ giác? Hãy kể tên các hình tam giác, tứ giác đó.



**ĐỀ KIỂM TRA MÔN TOÁN LỚP 3 - Đề 6**

**Bài 1 (2 đ):** Tính nhanh

a.  $1 + 3 + 5 + 7 + 9 + 11 + 13 + 15 + 17 + 19$

b.  $13 + 13 + 13 + 13 + 13 + 5$

**Bài 2 (2 đ):** Tìm X

a.  $X + 75 = 482 - 25$

b.  $X - 85 = 100 - 85$

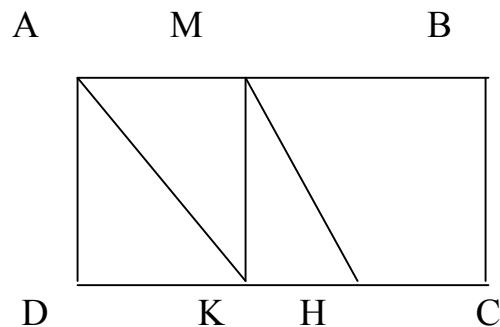
**Bài 3 (2 đ):** Viết thêm 3 số vào mỗi dãy số sau :

a. 10, 20, 30, 40, .....

b. 1, 4, 7, 10, ....

**Bài 4 (2 đ):** Lan có 56 que tính, Lan chia cho Hồng  $\frac{1}{4}$  số que tính, sau đó chia cho Huệ  $\frac{1}{3}$  số que tính còn lại. Hỏi sau khi chia cho hai bạn, Lan còn lại bao nhiêu que tính ?

**Bài 5 (2 đ):** Hình vẽ bên có bao nhiêu hình tam giác? Bao nhiêu hình tứ giác? Hãy kể tên các hình tam giác, tứ giác đó.



**ĐỀ KIỂM TRA MÔN TOÁN LỚP 3**

**Đề 7**

**Bài 1( 2 đ):** Tính nhanh

a.  $38 + 42 + 46 + 50 + 54 + 58 + 62$

b.  $11 + 137 + 72 + 63 + 128 + 89.$

**Bài 2( 2 đ):** Tìm X

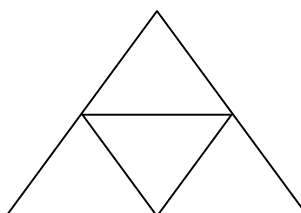
a.  $X - 1 - 2 - 3 - 4 = 0$

b.  $X : 4 = 22(\text{ dư } 3)$

**Bài 3( 2 đ):** Cho 3 chữ số 1,3,2. Hãy lập tất cả các số có 3 chữ số khác nhau từ các chữ số trên.

**Bài 4( 2 đ) :** Tấm vải thứ nhất dài hơn tấm vải thứ hai 24 m, và tổng độ dài hai tấm vải bằng 40 m. Hỏi tấm vải thứ nhất dài gấp mấy lần tấm vải thứ hai ?

**Bài 5( 2 đ):** Hình vẽ bên có bao nhiêu hình tam giác ? Bao nhiêu hình tứ giác?  
Hãy kể tên các hình tam giác, tứ giác đó.



**ĐỀ KIỂM TRA MÔN TOÁN LỚP 3**

**Đề 8**

**Bài 1( 2 đ):** Tính nhanh

a.  $137 \times 3 + 3 \times 863$

b.  $45 \times 9 + 45$

**Bài 2( 2 đ):** (4đ). Tính giá trị của x trong biểu thức sau:

a.  $173 - (x : 49) = 27$

b.  $945 - (75 : x) = 940$

**Bài 3( 2 đ):** Có bao nhiêu số:

a. Có 1 chữ số ?

b. Có 2 chữ số ?

c. Có 3 chữ số ?

d. Có 4 chữ số ?

**Bài 4(2 đ):** Hiện nay em 4 tuổi, anh 10 tuổi. Hỏi mấy năm nữa tuổi anh gấp đôi tuổi em?

**Bài 5( 2 đ):** Cho hình vuông có chu vi bằng 20cm .Tìm diện tích hình vuông đó.

**ĐỀ KIỂM TRA MÔN TOÁN LỚP 3**

**Đề 9**

**Bài 1 (2 đ):** Tính nhanh

a.  $345 \times 6 - 655 \times 6$

b.  $468 \times 8 + 532 \times 8$

**Bài 2 (2 đ):** Tìm X

a.  $X \times 7 = 70 : 10$

b.  $X : 4 = 1800 + 23$

**Bài 3 (2 đ):** Có bao nhiêu số chẵn:

a. Có 1 chữ số ?

b. Có 2 chữ số ?

c. Có 3 chữ số ?

**Bài 4 (2 đ):** An có 42 que tính, Minh có 16 que tính. Nếu An cho Minh 7 que tính thì An còn nhiều hơn Minh bao nhiêu que tính?

**Bài 5 (2 đ):** Một miếng đất hình chữ nhật có chiều rộng 9cm, chiều dài hơn chiều rộng 6cm. Tìm chu vi và diện tích hình chữ nhật đó.

**ĐỀ KIỂM TRA MÔN TOÁN LỚP 3**

**Đề 10**

**Bài 1 (2 đ):** Tính nhanh

a.  $25 \times 5 + 15 \times 5 + 60 \times 5$

b.  $60 \times 4 + 4 \times 40$

**Bài 2 (2 đ):** Tìm X

a.  $X \times 4 = 29 + 3$

b.  $X : 6 = 24 + 8$

**Bài 3 (2 đ):** Viết tiếp 3 số hạng vào dãy số sau:

c. 1, 2, 4, 8, 16, .....

d. 45, 40, 3, 30,.....

**Bài 4 (2 đ):** Hiện nay con 8 tuổi, tuổi mẹ gấp 4 lần tuổi con. Hỏi trước đây mấy năm tuổi con bằng  $\frac{1}{5}$  tuổi mẹ?

**Bài 5 (2 đ):** Hình chữ nhật có chu vi bằng 28cm chiều dài 8 cm. Tìm diện tích hình chữ nhật đó.

### **ĐỀ KIỂM TRA MÔN TOÁN LỚP 3**

#### **Đề 11**

**Bài 1 (2 đ):** Tính nhanh

a.  $224 \times 3 + 776 \times 3$

b.  $135 \times 8 + 8 \times 965$

**Bài 2 (2 đ):** Tìm X

a.  $X \times 3 \times 4 = 84$

b.  $(X - 16) : 9 = 2$

**Bài 3( 2 đ):** Cho dãy số: 2; 4; 6; 8; 10;..... Hỏi:

a. Số hạng thứ 20 là số nào?

b. Số 93 có thuộc dãy số trên không ? Vì sao ?

**Bài 4( 2 đ):** Trong một trại chăn nuôi, An đếm được 88 chân gà, và số heo kém số gà 4 lần. Hỏi trong trại chăn nuôi có bao nhiêu chân heo ?

**Bài 5( 2 đ):** Tuổi Tùng bằng  $\frac{1}{10}$  tuổi bố và bằng  $\frac{1}{8}$  tuổi của mẹ. Bố hơn mẹ 8 tuổi.

Hỏi Tùng bao nhiêu tuổi ?

### **ĐỀ KIỂM TRA MÔN TOÁN LỚP 3**

#### **Đề 12**

**Bài 1 (2 đ):** Tính nhanh

a.  $416 \times 2 + 594 \times 2$

b.  $64 \times 4 + 37 \times 4$

**Bài 2 (2 đ):** Tìm X

a.  $(x - 19) - 20 = 36$

b.  $75 - (x + 8) = 60$

**Bài 3 (2 đ):**

a. Dãy số chẵn liên tiếp từ 2 đến 246 có tất cả bao nhiêu số hạng ?

b. Dãy số lẻ liên tiếp từ 15 đến 343 có tất cả bao nhiêu số hạng ?

**Bài 4 (2 đ):** Có 3 hộp bút chì. Nếu lấy 6 bút chì từ hộp thứ nhất chuyển sang hộp thứ hai, rồi lại lấy 4 bút chì từ hộp thứ hai chuyển sang hộp thứ ba, cuối cùng lấy 2 bút chì ở hộp thứ ba chuyển sang hộp thứ nhất thì mỗi hộp có đúng 12 bút chì. Hỏi thực sự mỗi hộp có bao nhiêu bút chì ?

**Bài 5 (2 đ):** Một hình chữ nhật có chiều dài gấp 3 lần chiều rộng và có diện tích bằng 75 cm. Tính chu vi hình chữ nhật đó.

### **ĐỀ KIỂM TRA MÔN TOÁN LỚP 3**

#### **Đề 13**

**Bài 1 (2 đ):** Tính nhanh

a.  $205 \times 6 + 795 \times 6$

b.  $462 \times 4 - 62 \times 4$

**Bài 2 (2 đ):** Cho tích sau:  $9 \times 7$

a. Nếu thêm 2 đơn vị vào thừa số thứ nhất thì tích tăng bao nhiêu?

b. Nếu thêm 3 đơn vị vào thừa số thứ 2 thì tích tăng bao nhiêu ?