

ĐỀ 16

KIỂM TRA ĐỊNH KÌ GIỮA HỌC KÌ I - NĂM HỌC 2011 - 2012

MÔN: TOÁN - LỚP 4

Thời gian: 40 phút

I. PHẦN I :

Mỗi bài tập dưới đây có các câu trả lời A,B,C,D. Hãy khoanh vào chữ cái in hoa đặt trước câu trả lời đúng:

1) *Sáu trăm hai mươi lăm triệu một trăm mười hai nghìn viết là:*

A. 625 112 000

B. 625 112

C. 6 251 120

D. 62 511 200

2) *195 phút =*

A. 1 giờ 95 phút .

B. 3 giờ 5 phút .

C. 3 giờ 15 phút .

D. 3 giờ 95 phút .

3) *3 tấn 7 kg =*

A. 37 kg

B. 307 kg

C. 370 kg

D. 3 007

kg

4) *$2000 - x + 100 = 900$*

A. $x = 1100$ B. $x = 1000$ C. $x = 1200$ D. $x = 1020$

5) $\frac{3}{5}$ thế kỉ =

A. 30 năm B. 40 năm C. 50 năm D. 60 năm

6) Trung bình cộng của các số : 15, 17, 19, 21, 23 là :

A. 17 B. 18 C. 19 D. 20

II. PHẦN II:

Bài 1 : Đặt tính rồi tính :

a. $6438 + 89546$.

b. $6080 - 574$.

c. 5068×7

d. $3216 : 8$

Bài 2 : Tính giá trị của biểu thức :

$$468 : 3 + 61 \times 4$$

.....
.....
.....

Bài 3: Tính x :

a) $x - 4572 = 407$

b) $x + 2570 = 9790$

Bài 4 : Bài toán

Cả hai xe chở 75 tạ hàng , xe thứ hai chở ít hơn xe thứ nhất 7 tạ hàng . Hỏi mỗi xe chở bao nhiêu tạ hàng ?

ĐỀ 17

KIỂM TRA ĐỊNH KÌ GIỮA HỌC KÌ I - NĂM HỌC 2011 - 2012

MÔN: TOÁN - LỚP 4

Thời gian: 40 phút

A. PHẦN TRẮC NGHIỆM

Hãy khoanh tròn vào chữ cái đặt trước câu trả lời đúng nhất :

1. Số 72 008 đọc là:

A. Bảy nghìn hai trăm linh tám. B. Bảy mươi hai nghìn không trăm linh tám.

C. Bảy trăm hai mươi tám. C. Bảy mươi hai nghìn tám trăm.

2. Số gồm năm mươi triệu, năm mươi nghìn, năm mươi đơn vị viết là:

A. 505 050 B. 5 050 050 C. 5 005 050 D. 50 050 050

3. $\frac{1}{4}$ thế kỉ bằng:

A. 10 năm B. 15 năm C. 20 năm D. 25 năm

4. 7 kg 85g = g. Số thích hợp để viết vào chỗ chấm (....) là:

A. 7085 B. 155 C. 785 D. 7850

5. 2 phút 30 giây = giây . Số thích hợp để viết vào chỗ chấm (....) là:

A.32 B. 230 C. 150 D. 90

6. Số trung bình cộng của hai số bằng 50, biết một trong hai số đó bằng 30. Số còn lại là:

A. 40 B.50 C. 60 D. 70

B. PHẦN TỰ LUẬN:

1. Đặt tính rồi tính :

a. $367589 + 541708$

b. $647253 - 285749$

.....

.....
.....

2. Tính giá trị của biểu thức:

$$47 \times 6 + 505 : 5$$

$$(2100 + 45) \times 4$$

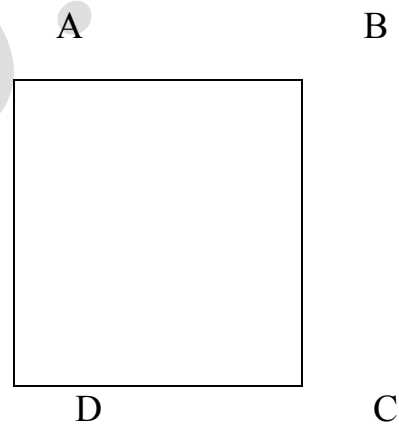
.....
.....
.....

.....
.....
.....

3. Cho ABCD là hình chữ nhật. Viết tiếp vào chỗ chấm (.....):

Cạnh AB song song với cạnh:

Cạnh DC vuông góc với các cạnh :



4. Bài toán:

Một mảnh đất hình chữ nhật có nửa chu vi là 30m. Chiều dài hơn chiều rộng 16m. Tính diện tích hình chữ nhật đó .

ĐỀ 18

KIỂM TRA ĐỊNH KÌ GIỮA HỌC KÌ I - NĂM HỌC 2011 - 2012

MÔN: TOÁN - LỚP 4

Thời gian: 40 phút

I. Trắc nghiệm:

1. Chọn câu trả lời đúng: Số 402 327 gồm:

a. $400 + 2000 + 30 + 27$

b. $400\ 000 + 2000 + 32 + 7$

c. $400\ 000 + 2000 + 30 + 7$

d. $400\ 000 + 2000 + 300 + 20 + 7$

2. Chọn câu trả lời đúng:

Số gồm chín mươi triệu, chín mươi nghìn và chín mươi viết là:

a. 909 090

b. 90 090 090

c. 9 009 090

d. 90 000 990

3. Chọn câu trả lời đúng:

Số chẵn lớn nhất có 5 chữ số là:

a. 99 999

b. 88 888

c. 99 998

d. 99 990

II. Tự luận:

1. Tìm x

a. $x + 148630 = 320917$

b. $x - 87945 = 243681$

.....
.....
.....
.....
.....

2. Tính bằng cách thuận tiện nhất:

a. $81 + 2420 + 19$

b. $78 + 165 + 22 + 35$

.....
.....
.....
.....

3. Bốn bạn: Hùng, Tấn, Dũng, Tân lần lượt cân nặng là: 32kg, 38 kg, 36kg và 34kg. Hỏi trung bình mỗi bạn cân nặng bao nhiêu kg ?

Bài 3. Số thích hợp điền vào chỗ chấm để $8 \text{ tấn } 3\text{kg} = \dots \text{ kg}$ là:

- A. 830 B. 8003 C. 8030 D. 8300

Bài 4. Dãy số nào dưới đây được viết theo thứ tự từ bé đến lớn?

- A. 15 423; 15 432; 15 342; 15 324 B. 15 324; 15 342; 15 423; 15 432
C. 15 243; 15 342; 15 432; 15 234 D. 15 706; 15 067; 15 760; 15 670

Bài 5. Đúng ghi Đ sai ghi S vào ô trống:

- a) Dãy số $0; 1; 2; 3; 4; \dots; 1000; 1001; \dots$ là dãy số tự nhiên
b) Trong dãy số tự nhiên, số 98 đứng trước số 100

II. Tự luận:

Bài 1. Đặt tính rồi tính:

a) $67859 + 894$

b) $739084 - 346927$

.....
.....
.....
.....

Bài 2. Viết số thích hợp vào chỗ chấm:

a) $\frac{2}{3}$ ngày =giờ

b) 3 phút 7 giây =giây

Bài 3: Tìm số trung bình cộng của:

a) 34; 46; 58; 22

b) 64; 68; 45; 53; 40

.....
.....
.....**Bài 4 :**

Hai thùng chứa được 600 lít dầu. Thùng lớn chứa nhiều hơn thùng bé 120 lít dầu.
Hỏi mỗi thùng chứa bao nhiêu lít dầu?

ĐỀ 20

KIỂM TRA ĐỊNH KỲ GIỮA KỲ I NĂM HỌC 2011-2012

MÔN: TOÁN - LỚP 4

(Thời gian làm bài: 40 phút)

I. Phần trắc nghiệm:

1) Viết vào chỗ chấm:

- a) Số “Ba mươi triệu không trăm linh chín ngàn bảy trăm.” Viết là:.....
b) Số “Bảy triệu năm trăm ngàn sáu trăm mười hai” Viết là :.....

2) Đúng ghi Đ, sai ghi S vào ô trống

- a) $\frac{1}{4}$ giờ = 20 phút ; b) 4 phút 5 giây = 165 giây
c) 15 tạ = 1500 kg; d) 600 năm = 6 thế kỷ


3) 3 tấn 75 kg =kg

Số thích hợp để viết vào chỗ chấm là .

- A. 375 B. 3 750 C. 3 075 D. 3 057

4) Hình tam giác sau có :

- A. 2 góc nhọn, 1 góc tù



- B. 3 góc nhọn
- C. 1 góc vuông, 2 góc nhọn
- D. 1 góc bẹt, 2 góc tù

II. Phần tự luận:

1) Đặt tính rồi tính

$40673 + 6929$

$99070 - 3647$

5013×6

$2358 : 9$

.....

.....

.....

.....

.....

2) Tìm y:

$y + 676 = 5080$

$5494 - y = 1605$

.....

.....

.....

3) Bài toán:

a) Tuổi của hai chị em là 32 tuổi. Chị hơn em 6 tuổi. Hỏi chị bao nhiêu tuổi, em bao nhiêu tuổi?

b) Số học sinh của năm lớp lần lượt là : 28 học sinh; 32 học sinh; 30 học sinh; 26 học sinh; 34 học sinh. Hỏi trung bình mỗi lớp có bao nhiêu học sinh?

Bài giải:

.....

.....

.....

.....

ĐỀ 21

KIỂM TRA ĐỊNH KỲ GIỮA KỲ I NĂM HỌC 2011-2012

MÔN: TOÁN - LỚP 4

(Thời gian làm bài: 40 phút)

Phần 1:

Bài 1: Hãy khoanh tròn vào chữ cái đặt trước câu trả lời đúng nhất :

1. Số 802 010 đọc là:

A. Tám mươi nghìn hai trăm mười. B. Tám trăm linh hai nghìn không trăm mười.

C. Tám trăm hai mươi nghìn. D. Tám trăm linh hai nghìn mười trăm.

2. Số hai trăm triệu hai trăm linh chín nghìn sáu trăm bốn mươi viết là :

A. 200 209 640 B. 2 209 640 C. 20 209 640 D. 200 209 064

3. Giá trị của chữ số 9 trong số 495 708 là:

A. 9 000 000 B. 900 000 C. 90 000 D. 9 000

4. $\frac{1}{10}$ thế kỉ bằng:

A. 10 năm B. 15 năm C. 20 năm D. 25 năm

5. 8 tấn 80 kg = kg. Số thích hợp để viết vào chỗ chấm (.....) là:

A. 88 B. 880 C. 8080 D. 8800

6. 5 phút 5 giây =giây. Số thích hợp để viết vào chỗ chấm (....) là:

A. 55 B. 305 C. 505 D. 503

Bài 2: Đúng ghi Đ, sai ghi S vào ô trống:

a. 4 thế kỷ 12 năm = 412 năm

b. 9 tạ 8 kg = 908 kg

c. 10 phút 36 giây = 6360 giây

c. $\frac{1}{3}$ giờ = 30 phút

Phần 2:

Bài 1. Đặt tính rồi tính

a. 81876 – 24639

b. 56496 + 3828

c. 308 x 27

d. 5850 : 25

.....
.....
.....
.....

Bài 2: Tính giá trị của biểu thức

a/ $m \times 9$ với $m = 48$

b/ $234 \times (72 : n) + 56$ với $n = 8$

.....
.....
.....

Bài 3: Một cửa hàng bán gạo, ngày đầu bán được 320 kg gạo, ngày thứ hai bán được bằng $\frac{1}{2}$ số gạo của ngày đầu, ngày thứ ba bán gấp ba lần ngày thứ hai. Hỏi trung bình mỗi ngày bán được bao nhiêu kilôgam gạo?

ĐỀ 22

KIỂM TRA ĐỊNH KỲ GIỮA KỲ I NĂM HỌC 2011-2012

MÔN: TOÁN - LỚP 4

(Thời gian làm bài: 40 phút)

A. Phần I: Trắc nghiệm :

Câu	<i>Nội dung bài làm</i>	Khoanh tròn vào chữ cái đặt trước kết quả đúng
1	Số: 3 123 500 đọc là: A.Ba triệu một trăm hai mươi ba nghìn năm trăm. B.Ba nghìn một trăm hai mươi ba triệu năm trăm C.Ba triệu một trăm hai mươi ba đơn vị năm trăm.	A. ; B. ; C
2	Giá trị của chữ số 5 trong số 2 645 214 là: A.500 000 ; B.50 000; C. 5 000	A. ; B. ; C
3	Số cần điền trong dãy số 9998, 9999,.....là : A. 9 997 ; B. 10 000 C. 99 991 ; D. 99 999	A. ; B. ; C. ; D.
4	Dãy số được viết theo thứ tự từ lớn đến bé là : A. 1 942; 1 978; 1 952 B. 1 986; 1 987; 1 989 C. 92 501; 92 401; 92 400	A. ; B. ; C
5	Nếu $a = 5$; $b = 2$; $c = 6$, thì giá trị của biểu thức $(a + b) \times c$ là : A. 24 ; B. 42 ; C. 17 ; D. 13 .	A. ; B. ; C. ; D.

6	2 tấn 850 kg =kg. Số thích hợp điền vào chỗ chấm là : A. 285 ; B. 2 850 ; C. 2 085 ; D. 285	A. ; B ; C ; D .
7	2 phút 40 giây =giây A. 120 ; B. 160 ; C. 240	A. ; B ; C ; D .
8	Bác Hồ sinh năm 1890. Năm đó thuộc thế kỉ thứ: A. XVIII ; B. XIX ; C. XX	A. ; B ; C
9	Số gồm : sáu mươi lăm nghìn, ba trăm, bốn đơn vị. Viết là : A. 6 534; B. 65 304 ; C. 65 340 ; D. 65 034.	A. ; B ; C ; D .
10	9m 5dm =dm. Số thích hợp điền vào chỗ trống là: A .95 ; B. 950 ; C. 905 ; D. 9500	A. ; B ; C ; D .

B/ Phần II -Tự luận :

1. Đặt tính rồi tính:

$4948 + 3524$

$39291 - 2737$

2746×6

$4284 : 6$

2. Tính giá trị của biểu thức :

a) $478 + 91 \times 3$

b) $320 : (120 - 40)$

3. Trong năm qua, nhà bác Thuật đã thu hoạch được 1210 kg thóc. Biết vụ mùa thu hoạch kém vụ chiêm là 270 kg thóc. Tính số thóc mỗi vụ nhà bác Thuật thu hoạch được.

Bài giải:

hoc360.net

ĐỀ 23

KIỂM TRA ĐỊNH KỲ GIỮA KỲ I NĂM HỌC 2011-2012

MÔN: TOÁN - LỚP 4

(Thời gian làm bài: 40 phút)

A/ Phần trắc nghiệm:

Group: <https://www.facebook.com/groups/tailieutieuhocvathcs/>

Khoanh tròn vào chữ cái trước câu trả lời đúng nhất.

Câu 1: Số tám trăm bốn mươi ba nghìn một trăm linh ba được viết là :

- A. 843 013 B. 843 103 C. 843 310 D. 843 031

Câu 2: 3 tấn 85 kg =kg

Số thích hợp để viết vào chỗ chấm là .

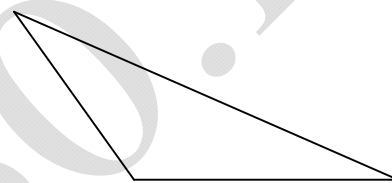
- A. 385 B. 3 850 C. 3 085 D. 3 058

Câu 3: Số trung bình cộng của 96 ; 121 và 143 là

- A. 12 B. 102 C. 210 D. 120

Câu 4: Hình tam giác sau có :

- E. 2 góc nhọn, 1 góc tù
F. 3 góc nhọn
G. 1 góc vuông, 2 góc nhọn
H. 1 góc bẹt, 2 góc tù



Câu 5: $\frac{1}{4}$ giờ =phút

Số cần điền vào chỗ chấm là :

- A. 25 Phút B. 20 phút C. 15 phút D. 30 phút

B/ Phần tự luận :

Câu 1: Đặt tính và tính.

- a) $296\ 809 + 652\ 411$ b) $135\ 423 + 682\ 738$ c) $647\ 253 - 285\ 749$

.....
.....
.....
.....
.....
.....
.....

Câu 2: Tính chu vi và diện tích hình chữ nhật có chiều dài 14cm, chiều rộng 9cm .

.....

.....

.....

.....

.....

.....

.....

.....

.....

.....

.....

Câu 3 : Từ một kho gạo người ta lấy ra 2080 bao gạo, sau đó lấy tiếp 750 bao gạo thì còn lại 1250 bao gạo . Hỏi lúc đầu trong kho có bao nhiêu bao ?

.....

.....

.....

.....

.....

ĐỀ 24

KIỂM TRA ĐỊNH KỲ GIỮA KỲ I NĂM HỌC 2011-2012

MÔN: TOÁN - LỚP 4

(Thời gian làm bài: 40 phút)

PHẦN 1: Hãy khoanh tròn vào chữ cái đặt trước câu trả lời đúng nhất :

1. Số 54 009 đọc là:

- A. Năm nghìn bốn trăm linh chín B. Năm mươi tư nghìn không trăm linh chín
- B. Năm trăm bốn mươi chín D. Năm mươi tư nghìn chín trăm.

2. Số gồm tám mươi triệu tám mươi nghìn tám mươi đơn vị viết là:

- A. 808 080 B. 8 080 080 C. 8 008 080 D. 80 080 080

3. Giá trị của chữ số 6 trong số 6 785 234 là:

- A. 6 000 000 B. 600 000 C. 60 000 D. 6 000

4. $\frac{1}{4}$ thế kỷ bằng:

- A. 10 năm B. 15 năm C. 20 năm D. 25 năm

5. 7 tạ 3kg =kg. Số thích hợp để viết vào chỗ chấm (....) là:

- A. 703 B. 73 C. 730 D. 7003

6. 5 phút 5 giây =giây. Số thích hợp để viết vào chỗ chấm (....) là:

- A. 55 B. 550 C. 305 D. 350

7. Tổng của hai số là 72. Hiệu của hai số đó là 16. vậy hai số đó là:

- A. 24 và 48 B. 32 và 40 C. 30 và 42 D. 28 và 44

8. Với $a = 15$ thì giá trị của biểu thức $485 + a$ là :

- A. 500 B. 510 C. 520 D. 490

PHẦN 2:

1. Đặt tính rồi tính:

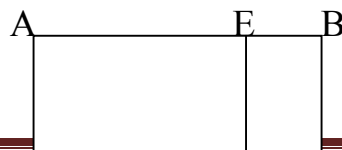
a, $367859 + 541728 =$

b, $647253 - 285749 =$

2. Tính giá trị của biểu thức

a, $468 : 6 + 61 \times 2 =$

3. Cho các hình ABCD, AEHD, EBCH đều là các hình chữ nhật. Ghi phần trả lời vào chỗ chấm (...):



D H C

Cạnh BC song song với các cạnh:

Trong hình chữ nhật ABCD, cạnh EH vuông góc với các cạnh:.....

4. Bài toán:

Một mảnh đất hình chữ nhật có nửa chu vi là 30m. Chiều dài hơn chiều rộng 12 m. Tính diện tích mảnh đất hình chữ nhật đó .

ĐỀ 25

KIỂM TRA ĐỊNH KỲ GIỮA KỲ I NĂM HỌC 2011-2012

MÔN: TOÁN - LỚP 4

(Thời gian làm bài: 40 phút)

Phần 1: Trắc nghiệm

Hãy khoanh tròn vào chữ cái đặt trước câu trả lời đúng:

1/ Số gồm bốn mươi triệu, bốn mươi nghìn và bốn mươi viết là:

A. 404 040 B. 40 040 040 C. 4 004 040 D. 4 040 040

2/ Giá trị của chữ số 2 trong số 10 203 004 là:

A. 20 B. 200 C. 20 000 D. 200 000

3/ Số bé nhất trong các số : 684 725; 684 752; 684 257; 684 275 là:

A. 684 725 B. 684 752 C. 684 257 D. 684 275

4/ 3 tấn 72kg = kg

- A. 372 B. 3720 C. 302 D. 3072

5/ 2phút 20giây = giây

- A. 40 B. 220 C. 80 D. 140

6/ Năm 2012 thuộc thế kỉ nào?

- A. XVIII B. XIX C. XX D. XXI

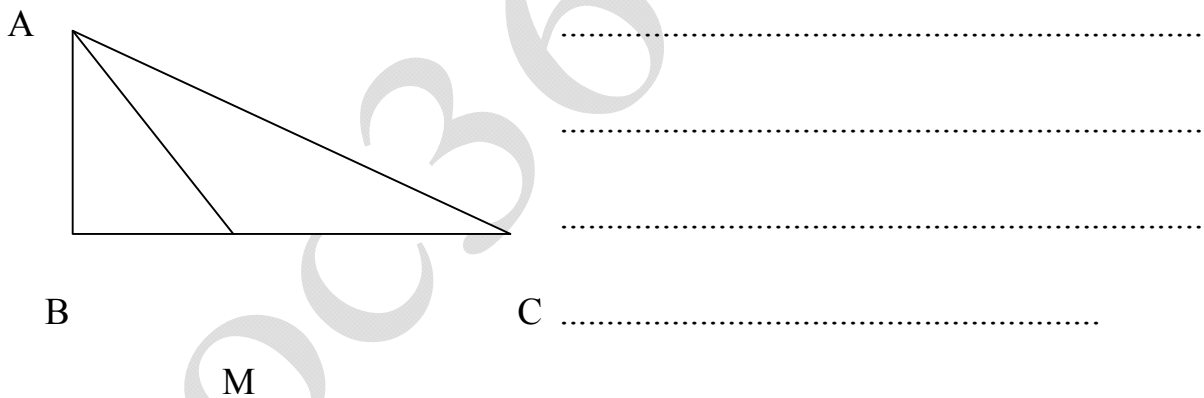
Phần 2 : Tự luận

1/ Đặt tính rồi tính:

a/ $365807 + 291304$

b/ $805146 - 52719$

2/ Nêu tên 1 góc vuông, 1 góc nhọn, 1 góc bẹt, 1 góc tù (đã được đánh dấu) trong hình sau :



3/ Bài toán:

Một lớp học có 30 học sinh. Số học sinh trai hơn học sinh gái 6 em. Hỏi lớp học đó có bao nhiêu học sinh trai, bao nhiêu học sinh gái?

ĐỀ 26

KIỂM TRA ĐỊNH KỲ GIỮA KỲ I NĂM HỌC 2011-2012

MÔN: TOÁN - LỚP 4

(Thời gian làm bài: 40 phút)

Phần I:

Câu 1/Hãy khoanh vào chữ đặt trước câu trả lời đúng

a. Phân số chỉ phần tô đậm của hình bên là:

A. $\frac{3}{6}$

B. $\frac{3}{1}$

C. $\frac{6}{3}$

D. $\frac{3}{9}$

b. Phân số nào dưới đây bằng phân số $\frac{4}{7}$

A. $\frac{12}{25}$

B. $\frac{20}{35}$

C. $\frac{8}{11}$

D. $\frac{16}{21}$

c. Phân số nào dưới đây lớn hơn 1?

A. $\frac{10}{11}$

B. $\frac{15}{15}$

C. $\frac{12}{11}$

D. $\frac{7}{8}$

d. Phân số nào dưới đây lớn nhất?

A. $\frac{5}{8}$

B. $\frac{1}{2}$

C. $\frac{3}{4}$

D. $\frac{9}{16}$

Câu 2/ Đúng ghi Đ , sai ghi S .

a. Có 3 lít dầu đổ đều vào 4 chai lượng dầu mỗi chai là $\frac{3}{4}$ lít

b. Chu vi hình vuông có diện tích 36 dm^2 là 36 dm.

Phần II .

Câu 1/ a. Thực hiện các phép tính sau .

$\frac{3}{4} + \frac{4}{7} = \dots\dots\dots$

$\frac{4}{5} - \frac{11}{15} = \dots\dots\dots$

$\frac{3}{5} \times \frac{10}{9} = \dots\dots\dots$

$\frac{4}{9} : 2 = \dots\dots\dots$

b. Tính giá trị của biểu thức .

$\frac{2}{3} + \frac{1}{4} \times \frac{2}{3} =$

.....

$$\frac{1}{2} : \frac{2}{3} - \frac{1}{3} =$$

.....

Câu 2/ Một mảnh vườn hình chữ nhật có nửa chu vi là 96m, chiều dài hơn chiều rộng 24m.

- Tính diện tích mảnh vườn hình chữ nhật đó?
- Người ta dùng $\frac{2}{3}$ diện tích mảnh vườn để trồng rau xanh. Hỏi diện tích trồng rau là bao nhiêu?

ĐỀ 27

KIỂM TRA ĐỊNH KỲ GIỮA KỲ I NĂM HỌC 2011-2012

MÔN: TOÁN - LỚP 4

(Thời gian làm bài: 40 phút)

Phần I: Trắc nghiệm:

Em hãy khoanh tròn vào chữ cái đặt trước câu trả lời đúng nhất.

1) Số mười hai triệu mười nghìn viết là:

- a. 12 010 100 b. 12 010 000 c. 12 100 000 d. 12 010 110

2) Số lớn nhất trong các số: 384 257; 384 275; 384 752; 384 725.

- a. 384 275 b. 384 752 c. 384 257 d. 384 725

3) Giá trị chữ số 9 trong số 459 762 là:

- a. 90 000 b. 900 c. 9 000 d. 90

4) Số thích hợp viết vào chỗ chấm của 2 tấn 65kg =kg là:

- a. 265 b. 2 650 c. 2 056 d. 2 065

5) Số thích hợp để viết vào chỗ chấm $\frac{1}{2}$ phút =giây

- a. 50 b. 30 c. 15 d. 20

6) Trung bình cộng của các số: 41, 45, 39, 43, 37 là:

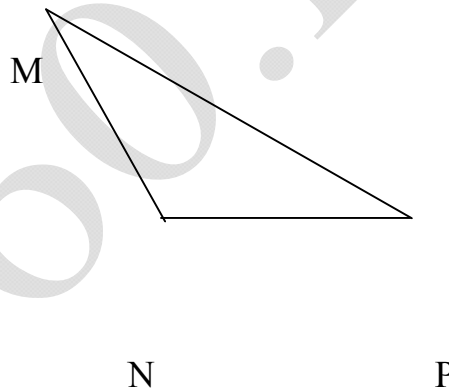
- a. 43 b. 42 c. 40 d. 41

7) Số thích hợp để viết vào chỗ chấm của 4 giờ 25 phút =phút là:

- a. 425 b. 65 c. 265 d. 452

8) Hình vẽ bên có:

- a. 2 góc nhọn, 1 góc tù.
b. 2 góc nhọn, 1 góc bẹt.
c. 1 góc vuông, 2 góc nhọn
d. 2 góc vuông, 1 góc tù



Phần II:

Bài 1: Đặt tính rồi tính

$$67428 + 81657$$

$$36154 - 10729$$

$$1346 \times 6$$

$$59725 : 5$$

Bài 2: Hai thửa ruộng thu hoạch được 4800kg thóc. Thửa thứ nhất thu hoạch nhiều hơn thửa thứ hai 640kg. Hỏi mỗi thửa ruộng thu hoạch bao nhiêu kg thóc?

Bài 3: Tính bằng cách thuận tiện nhất:

$$178 + 277 + 123 + 422$$

ĐỀ 28