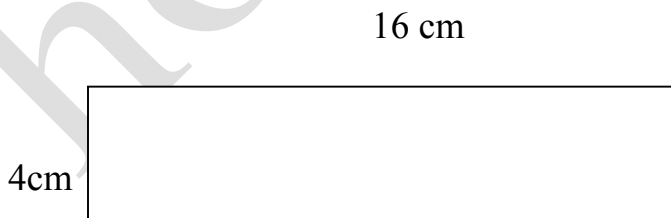


| | |
|-------------------------------|--|
| TRƯỜNG TH PHƯỚC LONG 1 | KHẢO SÁT CHẤT LƯỢNG ĐẦU NĂM 2012 - 2013 |
| Lớp: 4 | Môn: TOÁN LỚP 4 |
| Họ và tên HS: | Thời gian làm bài: 40 phút |
| Điểm: | (Không tính thời gian giao đề) |
| | Ngày 6 tháng 9 năm 2012 |

Bài 1: (2 điểm) Khoanh vào chữ đặt trước câu trả lời đúng:

- a) $5\text{m } 4\text{ cm} = \dots \text{ cm}$. Số thích hợp để điền vào chỗ chấm là:
A. 54 B. 504 C. 540 D. 45
- b) Giá trị của chữ số 6 trong số 67 280 là :
A. 60000 B. 6000 C. 600 D. 60
- c) Số liền sau của số 9871 là :
A. 9870 B. 9872 C. 9880 D. 9971
- d) Số lớn nhất trong các số 56234; 54326; 56423; 54236 là:
A. 56234 B. 54326 C. 56423 D. 54236

Bài 2: (1 điểm) Cho hình chữ nhật có kích thước như hình vẽ. Điền vào chỗ chấm:



- a) Diện tích hình chữ nhật là :
- b) Chu vi hình chữ nhật là :

Bài 3: (2 điểm) Đặt tính rồi tính :

a) $7458 + 2637$

.....
.....
.....

b) $5283 - 637$

.....
.....
.....

c) 2504×8

.....
.....
.....
.....

d) $4225 : 6$

.....
.....
.....
.....

Bài 4: (1 điểm) Tìm x

a) $x \times 7 = 4956$

.....
.....

b) $x : 4 = 816$

.....
.....

Bài 5: (1 điểm)

a. Điền dấu $<$; $>$; $=$ vào chỗ chấm :

$42157 \dots\dots 42151 + 4$

$8317 + 3 \dots\dots 83173$

b. Viết các số 43 762 ; 42 673 ; 42 376 ; 43 267 theo thứ tự từ lớn đến bé :

.....
...
.....
..

Bài 6: (2 điểm)



Có 54 kg gạo chia đều vào 9 bao. Hỏi có 4572 kg gạo thì đựng vào mấy bao như thế?

Bài giải :

.....
.....
.....
.....
.....
.....

Bài 7: (1 điểm)

Đồng hồ chỉ mấy giờ?



.....

hoc360.net