

ĐỀ KIỂM TRA MÔN TOÁN LỚP 3

Đề 1

**Bài 1 (2 đ):** Tính nhanh

a.  $38 + 42 + 46 + 50 + 54 + 58 + 62$

b.  $11 + 137 + 72 + 63 + 128 + 89$ .

.....  
.....  
.....  
.....  
.....  
.....

**Bài 2 (2 đ):** Tìm x

a.  $64 : X = 21$  (dư 1)

b.  $X : 6 = 7$  (dư 3)

.....  
.....  
.....  
.....  
.....  
.....

**Bài 3 (2 đ):** An có 72 viên kẹo đựng trong 6 túi, An cho bạn 2 túi. Hỏi An còn lại bao nhiêu viên kẹo ?

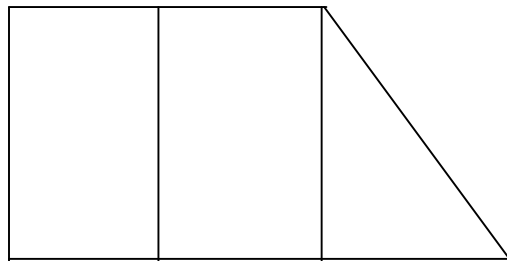
.....  
.....  
.....  
.....

.....  
.....  
**Bài 4( 2 đ):** Năm nay, mẹ tôi 38 tuổi. Hai năm nữa, tuổi em tôi bằng  $\frac{1}{4}$  tuổi mẹ tôi.

Vậy năm nay, em tôi bao nhiêu tuổi?

.....  
.....  
.....  
.....  
.....  
.....  
.....

**Bài 5( 2 đ):** Hình vẽ bên có bao nhiêu hình tam giác? Bao nhiêu hình tứ giác? Hãy kể tên các hình tam giác, tứ giác đó.



.....  
.....  
.....  
.....  
.....  
.....  
.....

**ĐỀ KIỂM TRA MÔN TOÁN LỚP 3**

**Đề 2**

**Bài 1(2 đ):** Tính nhanh

a.  $15 \times 2 + 15 \times 3 + 15 \times 5 - 100$

b.  $60 + 65 + 70 + 75 + 80 + 85 + 90 + 95$

.....  
.....  
.....  
.....  
.....  
.....

**Bài 2 (2 điểm):** Tìm X

a.  $(x + 37) + 19 = 65$

b.  $(x - 36) + 17 = 80$

.....  
.....  
.....  
.....  
.....

**Bài 3( 2 đ):** An có 27 quyển truyện tranh, Bình có 19 quyển truyện tranh, Dũng có nhiều hơn Bình 12 quyển truyện tranh. Hỏi Dũng có nhiều hơn An bao nhiêu quyển truyện tranh ?

.....  
.....  
.....  
.....

.....  
.....  
**Bài 4( 2 đ):** Năm nay, mẹ tôi 38 tuổi. Sang năm, tuổi anh tôi bằng  $\frac{1}{3}$  tuổi mẹ tôi.

Hỏi mẹ tôi sinh anh tôi năm mẹ tôi bao nhiêu tuổi ?

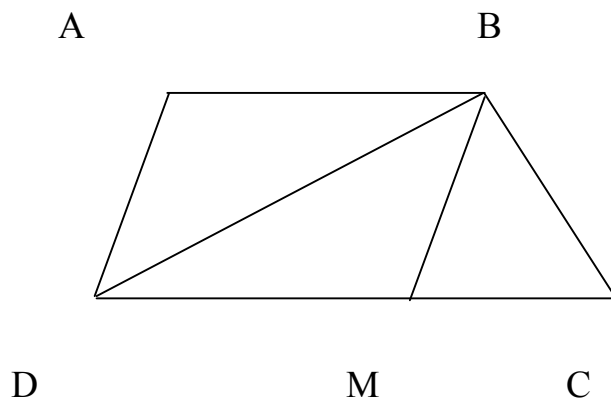
.....  
.....  
.....  
.....  
.....  
.....  
.....

**Bài 5( 1 đ):** Cho hình vuông có cạnh dài 3 cm.Tính chu vi hình vuông,diện tích hình vuông.

.....  
.....  
.....  
.....

**Bài 6( 1 đ):** Hình vẽ bên có bao nhiêu hình tam giác ? Bao nhiêu hình tứ giác? Hãy kể tên các hình tam giác, tứ giác đó.

b. DB là cạnh chung của tam giác nào ?



ĐỀ KIỂM TRA MÔN TOÁN LỚP 3

Đề 3

**Bài 1 (2 đ):** Tính nhanh

a.  $37 \times 18 - 9 \times 74 + 100$

b.  $52 - 42 + 37 - 28 + 38 + 63$

**Bài 2 (2 điểm):** Tìm X

c.  $(x + 37) + 19 = 65$

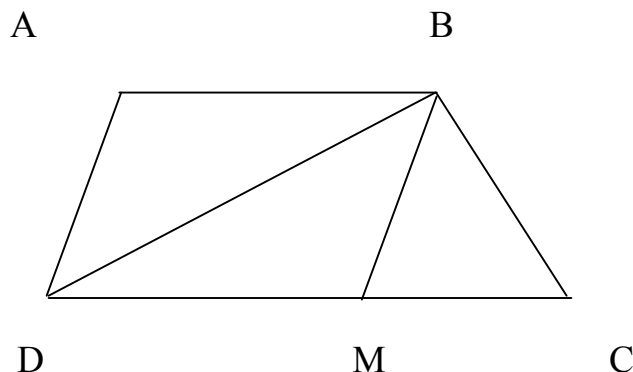
d.  $(x - 36) + 17 = 80$

**Bài 3 (2 đ):** Hùng có 16 que tính, Minh có nhiều hơn Hùng 7 que tính nhưng ít hơn Hải 3 que tính. Hỏi cả 3 bạn có bao nhiêu que tính ?

**Bài 4 (2 đ):** Có 4 thùng kẹo, mỗi thùng có 6 hộp kẹo, mỗi hộp kẹo có 28 viên kẹo. Hỏi có tất cả bao nhiêu viên kẹo ?

**Bài 5 (2 đ):** Hình vẽ bên có bao nhiêu hình tam giác ? Bao nhiêu hình tứ giác? Hãy kể tên các hình tam giác, tứ giác đó.

b. DB là cạnh chung của tam giác nào ?



**ĐỀ KIỂM TRA MÔN TOÁN LỚP 3**

**Đề 4**

**Bài 1 (2 đ):** Tính nhanh

a.  $998 \times 2 + 2 \times 2$

b.  $73 \times 2 + 2 \times 27$

**Bài 2 (2 đ):** Tìm X

a.  $80 - (x - 23) = 65$

b.  $75 - (X - 7) = 25$

**Bài 3 (2 đ):** Viết thêm 3 số vào mỗi dãy số sau :

a. 0, 2, 4, 6, 8, 10, 12, .....

b. 1, 3, 5, 7, 9, .....

**Bài 4 (2 đ):** Có 3 đoạn dây dài tổng cộng 96 m. Đoạn thứ nhất dài 42 m, đoạn thứ 2 ngắn hơn đoạn thứ nhất 14 m. Hỏi đoạn dây thứ 3 dài bao nhiêu m ?

**Bài 5 (2 đ):** Có 5 thùng kẹo như nhau chứa tổng cộng 720 viên kẹo, mỗi thùng kẹo có 6 gói. Hỏi mỗi gói chứa bao nhiêu viên kẹo ?