

TUYỂN TẬP 65 ĐỀ KIỂM TRA GIỮA HỌC KÌ I - môn Toán lớp 4 là tài liệu hữu ích dành cho các thầy cô giáo tham khảo ra đề thi giữa kỳ I và ôn luyện toán cho học sinh lớp 4, đồng thời các bậc phụ huynh cho con em ôn tập và rèn luyện kiến thức môn Toán lớp 4. Mời các bạn tham khảo.

ĐỀ 1

KIỂM TRA ĐỊNH KÌ GIỮA HỌC KÌ I

Môn: Toán – Lớp 4

Thời gian: 40 phút

Phần I: Khoanh tròn vào chữ cái trước câu trả lời đúng.

Câu 1: Số 47032 đọc là:

- A. Bốn mươi bảy nghìn hai trăm ba mươi.
- B. Bốn mươi bảy nghìn ba trăm linh hai
- C. Bốn mươi bảy nghìn không trăm ba mươi hai
- D. Bốn mươi bảy nghìn ba trăm không mươi hai

Câu 2: Trong các số 678387 chữ số 6 ở hàng, lớp.....

- A. Hàng trăm nghìn, lớp nghìn
- B. Hàng chục nghìn, lớp nghìn
- C. Hàng nghìn, lớp nghìn
- D. Hàng trăm nghìn, lớp đơn vị

Câu 3: Viết số thích hợp vào chỗ chấm của:

a. 5 tạ 8kg =kg

- A. 500
- B. 580
- C. 508
- D. 518

b. 2 phút 10 giây =giây

A. 110

B. 120

C. 130

D.140

Câu 4: Kết quả của các phép tính là:

a) $769564 + 40526$

A. 810090

B. 810190

C. 811090

D. 810091

b) $62975 - 24138$

A. 38837

B. 37837

C. 38937

D. 37847

Câu 5: Tìm x

a) $x - 425 = 625$

$1200 - x = 666$

.....

.....

.....

.....

.....

.....

Phần II.

Trong thư viện có 1800 cuốn sách, trong đó số sách giáo khoa nhiều hơn số sách đọc thêm 1000 cuốn. Hỏi trong thư viện có bao nhiêu cuốn sách mỗi loại?

.....
.....
.....
.....
.....

ĐỀ 2

KIỂM TRA ĐỊNH KÌ GIỮA HỌC KÌ I

Môn: Toán – Lớp 4

Thời gian : 40 phút

Bài 1. Điền vào chỗ chấm:

Đọc số	Viết số
Mười triệu tám trăm linh ba nghìn sáu trăm hai mươi.
.....	33775184
Số gồm: Hai mươi triệu, bảy mươi nghìn và tám đơn vị

Bài 2. Đặt tính rồi tính :

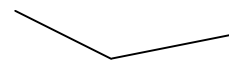
$$37865 + 161928$$

.....

$$368517 - 74639$$

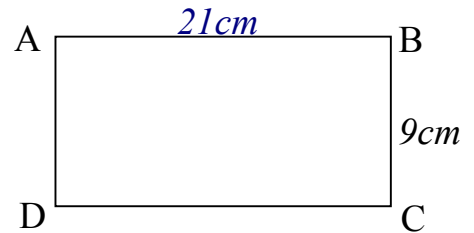
.....

Bài 3. Điền tên gọi tương ứng dưới mỗi góc sau đây:



Bài 4. Cho hình chữ nhật (Như hình vẽ bên)

- a) Cạnh AB song song với cạnh
- b) Diện tích hình chữ nhật ABCD là :
-



Bài 5. Khoanh vào chữ đặt trước câu trả lời đúng:

a) 3 tấn 5kg = kg. Số điền vào chỗ là :

- A. 350 B. 3050 C. 3005 D. 30050

b) 2 giờ 15 phút = phút. Số điền vào chỗ là :

- A. 215 B. 17 C. 135 D. 35

c) Trung bình cộng của các số : 364 ; 290 và 636 số là :

- A. 327 B. 463 C. 430 D. 360

d) So sánh : $123102 \square 97899$. Dấu thích hợp điền vào ô trống là :

- A. < B. > C. =

Bài 6. Một trường tiểu học có 445 học sinh, số học sinh nữ ít hơn số học sinh nam là 13 bạn. Tìm số học sinh nam, học sinh nữ trong trường.

ĐỀ 3

KIỂM TRA ĐỊNH KÌ GIỮA HỌC KÌ I

Môn: Toán – Lớp 4

Thời gian: 40 phút

Phần I: Em hãy khoanh tròn vào chữ cái đặt trước kết quả đúng.

1/ Giá trị của chữ số 5 trong số: 571638 là:

- a. 500 b. 50000 c. 500000 d. 5000000

2/ Số lớn nhất trong các số 725369; 725396; 725936; 725693

- a. 725936. b. 725396 c. 725369 d. 725693

3/ 3 tạ 60 kg = kg. Số thích hợp cần điền vào chỗ chấm là :

- a. 306 b. 603 c. 360 d. 3600

4/ 2 giờ 30 phút = phút. Số thích hợp cần điền vào chỗ chấm là :

- a. 60 b. 120 c. 90 d. 150

5/ Trung bình cộng của các số 10 ; 30 ; 50; 70 là :

- a. 40 b. 30 c. 20 d. 10

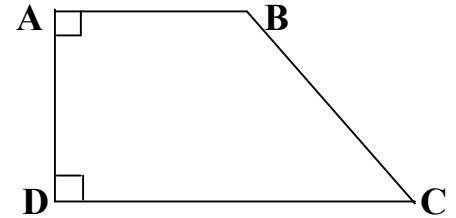
Phần II :

Câu 1 : (1 điểm) Đặt tính rồi tính.

a) $514626 + 8236$

b) $987864 - 783251$

Câu 2: Cho hình tứ giác ABCD



a/ Cặp cạnh song song là :

b/ Các cặp cạnh vuông góc là :

.....

c/ Góc tù là góc :

d/ Góc nhọn là góc :

Câu 3 : Tính chu vi của hình chữ nhật có chiều dài 25 cm, chiều rộng 15 cm.

Câu 4 : Hiện nay tổng số tuổi mẹ và tuổi con là 45 tuổi. Con ít hơn mẹ 27 tuổi.
Tính tuổi con và tuổi mẹ.

ĐỀ 4

KIỂM TRA ĐỊNH KÌ GIỮA HỌC KÌ I

Môn: Toán – Lớp 4

Thời gian : 40 phút

I/ PHẦN TRẮC NGHIỆM

Câu 1. Viết các số sau đây:

a) Năm trăm bốn mươi triệu ba trăm nghìn bốn trăm :

b) Chín trăm triệu không trăm linh chín nghìn tám trăm mười:

.....

Đọc các số sau:

a) 5 000 000

000:.....

b) 158 005

000:.....

Câu 2. Viết mỗi số thành tổng:

a) 75 485 =

b) 855 036

=.....

Câu 3. Viết số thích hợp vào chỗ chấm:

a) 1 phút =.....giây $\frac{1}{2}$ phút =

.....giây

b) 1 thế kỉ =.....năm $\frac{1}{4}$ thế kỉ

=.....năm

Câu 4. Viết số thích hợp vào chỗ chấm:

a) 4 yến =kg 1 tạ 5kg

=.....kg

b) 8 tạ =kg 1 tấn 65kg

=.....kg

II/ PHẦN TỰ LUẬN

Câu 1. Đặt tính rồi tính:

$$\begin{array}{r} 150287 + 4995 \\ 50505 + 950909 \\ 65102 - 13859 \\ 80000 - \\ 48765 \end{array}$$

Câu 2. Trong vườn nhà Nam có 120 cây cam và cây bưởi, trong đó số cây cam nhiều hơn số cây bưởi là 20 cây. Hỏi trong vườn nhà Nam có bao nhiêu cây cam, bao nhiêu cây bưởi?

ĐỀ 5

KIỂM TRA ĐỊNH KÌ GIỮA HỌC KÌ I

Môn: Toán – Lớp 4

Thời gian : 40 phút

Phần 1: Trắc nghiệm

Bài 1: Khoanh vào câu trả lời đúng

- A. $6\text{kg}5\text{g} = \dots\dots\dots\text{g}$. Số điền vào chỗ chấm là:
a, 6005 b, 605 c, 65
- B. 1 phút 5 giây = $\dots\dots\dots$ giây . Số điền vào chỗ chấm là:
a, 650 b, 65 c, 56
- C. Một mảnh vườn hình vuông có cạnh 8 m . Diện tích hình vuông là:
a, 32m^2 b, 64m^2 c, 16m^2
- D. Trung bình cộng của 3 số : 45 , 55 , 65 là:
a, 45 b, 55 c, 50

Bài 2: Đọc các số sau:

- 46 307 :
- 125 317 :

Viết các số sau:

- Ba mươi sáu nghìn bốn trăm:
- Tám trăm linh sáu nghìn, chín trăm bảy mươi bảy:

Bài 3: Điền dấu thích hợp vào chỗ chấm:

89 999.....90 000

89 80089 786

Bài 4: Xếp các số theo thứ tự từ lớn đến bé.

6750 , 7650 , 6507 , 7560

.....

Phần 2: Tự luận

Bài 1: Đặt tính rồi tính.

a, $235\,789 + 121\,021$

b, $89\,743 - 11\,599$

.....
.....
.....

.....
.....
.....

Bài 2: Bài toán:

Một lớp học có 36 học sinh , trong đó số học sinh nữ nhiều hơn số sinh nam 6 em. Hỏi lớp học đó có bao nhiêu học sinh nữ , bao nhiêu học sinh nam ?

ĐỀ 6

KIỂM TRA ĐỊNH KÌ GIỮA HỌC KÌ I

Môn: Toán – Lớp 4

Thời gian : 40 phút

A/ PHẦN TRẮC NGHIỆM:

Khoanh vào chữ cái đặt trước câu trả lời đúng:

Câu 1 : Số : “ Bốn mươi lăm nghìn hai trăm linh bảy” được viết là :

- A. 45 207 B. 45 027 C. 40.527

Câu 2 : Giá trị của chữ số 8 trong số 548 762 là:

- A. 8 0000 B. 8000 C. 800

Câu 3: Số lớn nhất trong các số : 85 732 , 85 723 , 85 372 là :

- A. 85 732 B. 85 723 C. 85 372

Câu 4: 8 tấn 55 kg = kg . Số cần điền vào chỗ chấm là:

- A. 855 B. 8550 C. 8055

Câu 5: 2 phút 10 giây = giây. Số cần điền vào chỗ chấm là :

- A. 120 B. 130 C. 210

Câu 6: 9 tạ 5 kg 95 kg . Dấu cần điền vào chỗ chấm là:

- A. > B. < C. =

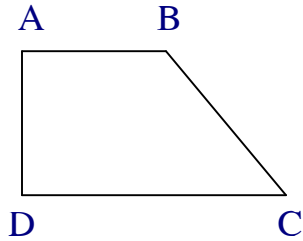
Câu 7: Số trung bình cộng của các số 25 , 18 , 32 là:

- A. 35 B. 75 C. 25

Câu 8: Giá trị của biểu thức $423 + m$ với $m = 6$ là:

- A. 483 B. 430 C. 429

Câu 9: Hình vẽ dưới đây có :



- A. Góclà góc vuông
- B. Góclà góc nhọn
- C. Các cạnh.....song song với nhau

Câu 10: Một hình chữ nhật có chiều dài 5 cm , chiều rộng 3cm. Chu vi hình chữ nhật là:

- A. 16cm
- B. 15 cm
- C. 4 cm

B - Phần thực hành :

Câu 1: Đặt tính rồi tính:

$$503720 + 439509$$

$$420748 - 376709$$

Câu 2: Tìm x:

$$X + 254 = 680$$

$$X - 306 = 504$$

Câu 3: Hai lớp thu hoạch được 600 kg giấy vụn . Lớp 4 A thu hoạch được 120 kg giấy vụn. Hỏi mỗi lớp thu hoạch được bao nhiêu ki - lô - gam giấy vụn ?

ĐỀ 7

KIỂM TRA ĐỊNH KÌ GIỮA HỌC KÌ I

Môn: Toán – Lớp 4

Thời gian : 40 phút

Phần I: Mỗi bài tập dưới đây có các câu trả lời A,B,C,D. Hãy khoanh vào chỗ đặt trước các câu trả lời đúng.

Bài 1:

a) Số “*Ba triệu không trăm hai mươi tám nghìn sáu trăm linh bốn*” viết là:

- A 300028604 B 30028604 C 3028604 D 30286040

b) Số lớn nhất trong các số 5571; 6571; 5971; 6570

- A 5571 B. 6571 C. 5971 D. 6570

Bài 2: (1 điểm)

a) Cho biết $56031 = 50000 + \square + 30 + 1$. Số thích hợp để viết vào ô trống là:

- A. 60 B. 600 C. 6000 D. 60000

b) Bác Hồ ra đi tìm đường cứu nước vào năm 1911. Năm đó thuộc thế kỷ nào?

- A. XVIII B XVI C. XXI D. XX

Bài 3:

a) 4 tấn 29 kg =kg ? Số thích hợp để viết vào chỗ chấm là:

- A. 429 kg B. 4029 kg C. 4290kg D. 40029 kg

b) 2 ngày 18 giờ =giờ

- A. 62 giờ B. 48 giờ C. 56 giờ D. 66 giờ

Phần II:

1) Đặt tính rồi tính.

- a) $51236 + 45619$ b) $13058 - 8769$ c) 2057×3 d) $65840 : 5$

.....
.....
.....

2) Tìm x:

a) $x - 363 = 975$

.....
.....
.....

b) $815 - x = 207$

.....
.....
.....

3) Tìm bằng cách thuận tiện nhất.

a) $37 + 24 + 3$

.....
.....
.....

b) $742 + 99 + 1$

.....
.....
.....

Phần III:

Một hình chữ nhật có nửa chu vi là 22m. Chiều dài hơn chiều rộng 10 m .
Tính diện tích hình chữ nhật đó.

ĐỀ 8

KIỂM TRA ĐỊNH KÌ GIỮA HỌC KÌ I

Môn: Toán – Lớp 4

Thời gian : 40 phút

1. Viết vào chỗ chấm (theo mẫu)

Viết số	Đọc số
27 643 518	Hai mươi bảy triệu sáu trăm bốn ba nghìn năm trăm mười tám.
a).....	Mười sáu triệu hai trăm linh năm nghìn sáu trăm bảy mươi mốt.
181 164	b).....

c).....	Bốn trăm năm mươi sáu triệu bảy trăm tám mươi chín nghìn không trăm mười hai
8 422 742

2. Viết số thích vào chỗ chấm:

Hiên	<input type="checkbox"/> <input type="checkbox"/> <input type="checkbox"/> <input type="checkbox"/>	<input type="checkbox"/> <input type="checkbox"/> <input type="checkbox"/> <input type="checkbox"/> <input type="checkbox"/>
Hoà	<input type="checkbox"/> <input type="checkbox"/> <input type="checkbox"/>	<input type="checkbox"/> <input type="checkbox"/> <input type="checkbox"/> <input type="checkbox"/>

Hiên vẽ được: a).....hình vuông ; b)hình tròn

Hoà vẽ được : a).....hình vuông ; b).....hình tròn

3.Đúng ghi Đ, sai ghi S vào ô trống:

a) 2 giờ 27 phút = 147 phút b) 4 tạ 6 kg = 460 kg

4. Đặt tính rồi tính:

a) $38267 + 35204$ b) $87725 - 21252$ c) 1126×2 d) $1836 : 3$

5. Khoanh vào chữ đặt trước câu trả lời đúng:

a) Số thích hợp để điền vào chỗ chấm để $7800\text{dm} = \dots\text{m}$ là:
A. 780 000 B. 78 000 C. 780 D. 78

6. Một cửa hàng bán gạo. Ngày đầu bán được 1890kg gạo, ngày thứ hai bán ít hơn ngày đầu 560 kg. Hỏi cả hai ngày cửa hàng đó bán được bao nhiêu kg gạo?

A. XIX

B. XX

C. XXI

Bài 3: Đặt tính rồi tính:

a, $125378 + 248459$

b, $635783 - 290876$

.....
.....
.....
.....
.....

Bài 4: Hai thùng dầu có tất cả 2575 lít. Thùng thứ nhất có số dầu nhiều hơn thùng thứ hai là 235 lít. Hỏi mỗi thùng có bao nhiêu lít dầu?

.....
.....
.....
.....
.....
.....
.....
.....
.....
.....

Bài 5: Hãy điền Đ (đúng) hoặc S (sai) vào ô trống:

- a. Một hình tứ giác có 4 góc vuông là hình vuông.
- b. Một hình tứ giác có bốn cạnh bằng nhau là hình vuông
- c. Hình chữ nhật là hình vuông
- d. Hình vuông là hình chữ nhật đặc biệt.

ĐỀ 10

KIỂM TRA ĐỊNH KÌ GIỮA HỌC KÌ I

Môn: Toán – Lớp 4

Thời gian : 40 phút

I. Phần trắc nghiệm:

Khoanh tròn chữ cái trước câu trả lời đúng nhất.

Bài 1:

- a. Mười triệu tám trăm linh ba nghìn sáu trăm hai mươi
A. 18 003 620 B. 10083 620 C. 10 803 620 D. 10 620 803
- b. Sáu triệu bốn trăm năm mươi nghìn bảy trăm ba mươi một.
A. 6 045 731 B. 6 450 731 C. 6 504 731 D. 6 450 317
- c. Giá trị của chữ số 5 trong số 35 161 là:
A. 5 000 B. 500 C. 50000 D. 50

Bài 2:

- a) 3 tấn 5kg. Số điền vào chỗlà:
A. 350kg B. 3050kg C. 3005kg D. 30050kg
- b) 2 giờ 15 phút =..... Số điền vào chỗlà:
A. 215 B. 17 C. 35 D. 135
- c) Trung bình cộng của các số: 364; 290 và 636 là:
A. 430 B. 463 C. 327 D. 360

II. Phần tự luận:

Bài 3: Đặt tính rồi tính:

$$48765 + 26592$$

$$368517 - 74639$$

.....

.....

.....

.....

.....

Bài 4: Điền tên gọi tương ứng dưới mỗi góc sau đây:



.....

.....

.....

Bài 5: Bài toán:

Hai thửa ruộng thu hoạch được tất cả 35 tạ thóc. Biết rằng thửa ruộng thứ nhất thu hoạch được ít hơn thửa ruộng thứ hai là 5 tạ thóc. Hỏi mỗi thửa ruộng thu hoạch được bao nhiêu tạ thóc?

.....

.....

.....

.....

.....

KIỂM TRA ĐỊNH KÌ GIỮA HỌC KÌ I

Môn: Toán – Lớp 4

Thời gian : 40 phút

I. Trắc nghiệm: Đánh dấu nhân vào ô trống em cho là đúng:

1) Chu vi hình vuông có cạnh 5 cm là:

- a. 10cm b. 15 cm c. 20 cm d. 25 cm

2) Số gồm 10 nghìn 5chục 3 đơn vị là:

- a. 1053 b. 10503 c. 10053 d. 100053

3) Số thích hợp điền vào chỗ (...): 5 tạ 3 kg = ... kg là:

- a 53 kg b 503 kg c 5003 kg d 50003 kg

4) 9 thế kỉ 70 năm là:

- a 97 năm b 970 năm c 907 năm

5) Tổng hai số là 8 và hiệu hai số là 2 vậy số bé là:

- a 1 b 2 c 3

II. Tự luận:

1) Đặt tính rồi tính: 63723 – 59875 43697 + 1987

.....

.....

.....

.....

.....

2) Tính x:

$$X - 987 = 437$$

$$X + 9625 = 9700$$

3) Một xí nghiệp 2 tuần đầu mỗi tuần sản xuất được 1250 sản phẩm, 3 tuần sau mỗi tuần sản xuất 1000 sản phẩm. Hỏi trung bình mỗi tuần sản xuất bao nhiêu sản phẩm?

ĐỀ 12

KIỂM TRA ĐỊNH KÌ GIỮA HỌC KÌ I

Môn: Toán – Lớp 4

Thời gian : 40 phút

Phần 1:

Bài 1: Em hãy khoanh vào chữ cái trước câu trả lời đúng.

1. Số “*bảy mươi hai triệu*” viết là:

- A. 7 200 B. 72 000 000 C. 7 200 000 D. 72 000

2. Trong số **1 056 900**, chữ số **5** có giá trị là:

- A. 500 000 B. 50 000 C. 5000 D. 500

3. 6 phút 36 giây = giây.

- A. 360 B. 376 C. 380 D. 396

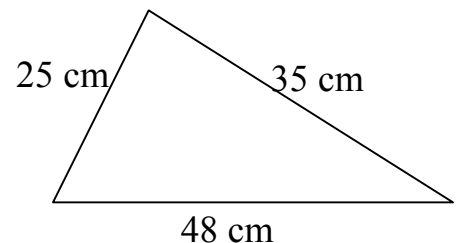
4. Trung bình cộng của: 220; 240; 260 và 280 là:

- A. 250 B. 260 C. 270 D. 280

Bài 2: Đúng ghi Đ, sai ghi S vào ô trống:

1) Giá trị của biểu thức: $130 \times 7 + 19708 = 20610$

2) Chu vi của hình tam giác bên là 108 cm.



Bài 3: Cho hình chữ nhật ABCD. Em hãy ghi tên các cặp song song với nhau.

Trả lời:.....

.....



Phần II.

Bài 1: Tìm X:

a) $X + 537 = 5250$

b) $90532 - X = 26735$

Bài 2: 1) Đặt tính rồi tính:

$6346 + 352;$ $74328 - 5942;$ $5034 \times 8;$ $14100 : 6$

2 Tính bằng cách thuận tiện nhất:

$364 + 257 + 136 + 243$

Bài 3: Một trường Tiểu học có 555 học sinh. Số học sinh trai nhiều hơn số học sinh gái 27 em. Hỏi trường Tiểu học đó có bao nhiêu học sinh trai, bao nhiêu học sinh gái ?

ĐỀ 13

**KIỂM TRA ĐỊNH KÌ GIỮA HỌC KÌ I
MÔN: TOÁN - LỚP 4**

Thời gian: 40 phút

PHẦN I: Trắc nghiệm:

Hãy khoanh tròn vào chữ cái đặt trước câu trả lời đúng cho mỗi bài tập dưới đây:

Bài 1: “Ba triệu năm trăm mười lăm nghìn không trăm bốn mươi hai” viết là:

- A. 3 515 042 B. 3 515 420 C. 3 155 042 D. 3 515 024

Bài 2: Chữ số 8 của số 52 816 103 thuộc hàng nào?

- A. Hàng trăm B. Hàng nghìn C. Hàng triệu D. Hàng trăm nghìn

Bài 3: Số 176 715 638 có mấy lớp?

- A. 1 lớp B. 2 lớp C. 3 lớp D. 4 lớp

Bài 4: Số thích hợp viết vào chỗ chấm của 1 yến 7 kg =kg là:

- A. 107 B. 17 C. 170 D. 1700

Bài 5: Số thích hợp viết vào chỗ chấm của 3 giờ 40 phút =phút là:

- A. 70 B. 340 C. 100 D. 220

Bài 6: Lễ kỉ niệm 1000 năm Thăng Long- Hà Nội được tổ chức vào thế kỉ nào?

A. X

B. XXI

C. 15 XIX

D. XX

Bài 7: Một hình vuông có chu vi là 24cm, diện tích của hình vuông đó là:

A. 36cm

B. 24cm

C. 36cm^2

D. 24cm^2

Bài 8: Cho hình bên:

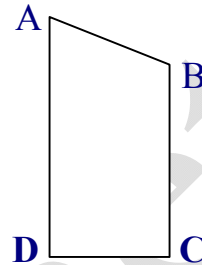
Cạnh AD song song với cạnh nào dưới đây ?

A. BC

B. AB

C. CD

D. DA



PHẦN II: Tự luận:

Bài 1: Thực hiện các phép tính sau (có đặt tính): (2điểm)

$$569564 + 310652$$

$$45000 - 21306$$

$$2570 \times 5$$

$$41272 : 4$$

Bài 2: Chiều cao của các bạn Mai, Lan, Thúy, Cúc và Hằng lần lượt là 142cm, 133cm, 145cm, 138cm và 132 cm. Hỏi trung bình mỗi bạn cao bao nhiêu xăng-ti-mét?

Bài 3: Tuổi mẹ và tuổi con cộng lại được 41 tuổi. Mẹ hơn con 27 tuổi. Hỏi mẹ bao nhiêu tuổi, con bao nhiêu tuổi ?

ĐỀ 14

KIỂM TRA ĐỊNH KÌ GIỮA HỌC KÌ I

MÔN: TOÁN - LỚP 4

Thời gian: 40 phút

A TRẮC NGHIỆM

I. Khoanh vào chữ cái trước câu có kết quả đúng :

Câu 1: Giá trị của chữ số 3 trong số 416 937 là:

A. 30

B. 300

C. 3000

D. 30000

Câu 2: 3 tạ = yến

A. 3

B. 30

C. 300

D. 3000

Câu 3: 1 phút 8 giây = giây.

A. 68

B. 18

C. 108

D. 680

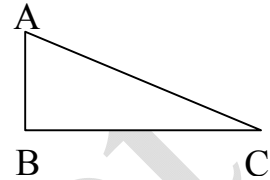
Câu 4: $1/2$ thế kỷ =năm

A. 20

B. 30

C. 40

D. 50



Câu 5: Hình tam giác ABC có:

A. 1 góc nhọn.

B. 3 góc nhọn.

C. 2 góc nhọn.

Câu 6 : Trung bình cộng của 38kg, 32kg, 30kg, 36kg, 34kg là:

A. 170kg

B. 34kg

C. 34kg

D. 68kg

II. Điền vào chỗ chấm:

Câu 1: Số 705 986 303 đọc là:

Câu 2: Số “Hai trăm triệu hai trăm linh chín nghìn sáu trăm bốn mươi lăm”

Viết là :

B PHẦN TƯ LUẬN

Bài 1. Đặt tính rồi tính :

a) $769564 + 410652$

b) $39700 - 24138$

c) 2105×5

d) $41272 : 4$

Bài 2. Tìm x:

$$x - 425 = 137$$

Bài 3

Một cửa hàng bán gạo, ngày đầu bán được 320 kg gạo, ngày thứ hai bán được bằng $\frac{1}{2}$ số gạo của ngày đầu. Hỏi trung bình mỗi ngày bán được bao nhiêu Ki-lô-gam gạo?

Bài 4:

Tuổi mẹ và tuổi con cộng lại được 41 tuổi. Mẹ hơn con 27 tuổi. Hỏi mẹ bao nhiêu tuổi, con bao nhiêu tuổi ?

ĐỀ 15

KIỂM TRA ĐỊNH KÌ GIỮA HỌC KÌ I

MÔN: TOÁN - LỚP 4

Thời gian: 40 phút

Câu 1: Viết tiếp vào chỗ chấm

a. Số 32 703 400 đọc là.....

b. Năm mươi triệu một trăm hai mươi ba nghìn ba trăm lẻ bốn viết là:
.....

Câu 2: Ghi đúng (Đ) hoặc sai (S) vào ô trống

a. 2 phút 12 giây = 132 giây b. 5 tấn 12kg = 512kg

Câu 3: Khoanh vào chữ cái trước câu trả lời đúng

a. $\frac{1}{2}$ thế kỉ bằng
A. 30 năm B. 20 năm C. 50 năm

b. Trung bình cộng của 36 và 24 là:

A. 40 B. 30 C. 20