

TRƯỜNG THCS CẢNH HÓA

Họ và tên: .....

Lớp: 6....

BÀI KIỂM TRA

Môn : Số học 6

Thời gian: 15 phút

Điểm	Lời phê của thầy cô

**MÃ ĐỀ 02:**

**Câu 1. (2 đ)** Viết các tập hợp sau bằng cách liệt kê các phần tử

a,  $A = \{x \in N | 12 < x < 16\}$

A = .....

b,  $B = \{x \in N^* | x < 5\}$

B = .....

**Câu 2. (2 đ)** Tìm số tự nhiên x, biết.

a) $x : 13 = 41$ ..... ..... .....	b) $1428 : x = 14$ ..... ..... .....
c. $(x - 35) - 175 = 0$ ..... ..... .....	d) $156 - (x+61) = 82$ ..... ..... .....

**Câu 3. (2 đ)** Tính số phần tử của các tập hợp sau

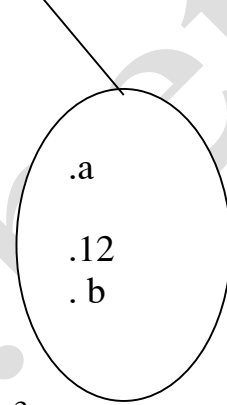
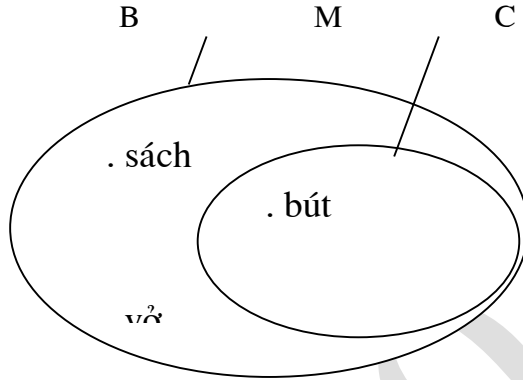
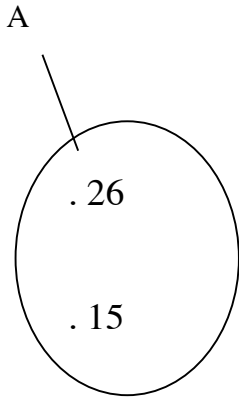
Tập hợp A =  $\{1; 2; 3; 4; \dots; 98; 99\}$

Tập hợp B =  $\{1; 3; 5; 7; \dots; 1001\}$

**Câu 4. (2 đ)** Cho tập hợp A =  $\{15; 24\}$ . Điền kí hiệu  $\in, \subset$  hoặc dấu = vào ô vuông cho đúng.

a.  $15 \square A$ ;    b)  $\{15; 24\} \square A$ ,    c)  $\{24\} \square A$

**Câu 5. (2 đ)** Nhìn các hình 1,2,3 viết các tập hợp A, B, C, M



Hình 1

Hình 2

Hình 3

A = .....

B = .....

C = .....

M = .....