

**Câu 139.** Kết quả của phép tính  $\frac{4}{5}$  phút -  $\frac{3}{4}$  phút = ..... giây là:

- A. 5 giây                      B. 3 giây                      C. 2 giây                      D. 4 giây

**Câu 140.** Kết quả của biểu thức  $\frac{3}{5} - \frac{1}{5} \times \frac{1}{6}$  là:

- A.  $\frac{17}{30}$                       B.  $\frac{1}{15}$                       C.  $\frac{23}{55}$                       D.  $\frac{17}{150}$

**Câu 141.** Một hình chữ nhật có chiều dài 12 cm, chiều rộng 8 cm. Hỏi một hình vuông có cùng chu vi với hình chữ nhật đó thì có diện tích là bao nhiêu?

- A. 40 cm<sup>2</sup>                      B. 160 cm<sup>2</sup>                      C. 96 cm<sup>2</sup>                      D. 100 cm<sup>2</sup>

**Câu 142.** Số gồm có năm vạn tám nghìn hai chục và sáu đơn vị được viết là:

- A. 58 260                      B. 58 206                      C. 508 026                      D. 58 026

**Câu 143.**  $1 \text{ km}^2 265 \text{ m}^2 = \dots\dots\dots \text{ m}^2$ . Số thích hợp để viết vào chỗ chấm là:

- A. 1000265                      B. 10265                      C. 100265                      D. 1265

**Câu 144.** Để số 2007a chia hết cho cả 2 và 3 thì a bằng:

- A. 2                      B. 8                      C. 6                      D. 4

**Câu 145.** Biểu thức nào dưới đây có kết quả bằng  $34 \times 78$  ?

- A.  $(30 \times 78) + (4 \times 78)$       B.  $(30 + 78) + (4 + 78)$   
C.  $(30 \times 78) \times (4 \times 78)$       D.  $(30 + 78) \times (4 \times 78)$

**Câu 146.** Dãy số: 2, 4, 6, 8, 10, ..... ,100 có bao nhiêu chữ số:



A. 98

B. 97

C. 100

D. 99

**Câu 147.** Số bé nhất gồm 6 chữ số khác nhau là:

A. 102 345

B. 012 345

C. 666 666

D. 123 456

**Câu 148.** Giá trị của biểu thức  $\frac{5}{6} - \frac{1}{3} \times 2$  là:

A.  $\frac{3}{6}$

B.  $\frac{8}{3}$

C.  $\frac{1}{6}$

D.  $\frac{6}{6}$

**Câu 149.** Trung bình cộng của 4 số là 14, biết trung bình cộng của 3 số trong 4 số là 15. Tìm số còn lại

A. 15

B. 13

C. 11

D. 12

**Câu 150.** Trung bình số đo chiều cao của 3 bạn nam và 4 bạn nữ là 140cm. Chiều cao của bạn nam thứ tư là 124cm. Hỏi trung bình số đo chiều cao của 4 bạn nam và 4 bạn nữ đó là bao nhiêu?

A. 128cm

B. 140cm

C. 124cm

D. 138cm

**Câu 151.** Số lớn nhất trong các số 876459; 867459; 867549; 876549 là:

A. 876549

B. 867459

C. 867549

D. 876459

**Câu 152.** Phân số nào dưới đây bé hơn phân số  $\frac{3}{7}$  ?

A.  $\frac{8}{14}$

B.  $\frac{3}{5}$

C.  $\frac{6}{16}$

D.  $\frac{9}{21}$

**Câu 153.** Hằng ngày Lan thường tập chạy. Ngày thứ nhất Lan chạy được 500m, ngày thứ hai chạy được 620m, ngày thứ ba chạy được 500m. Như vậy trong ba ngày, trung bình mỗi ngày Lan chạy được là:

- A. 500m                      B. 560m                      C. 520m                      D. 540m

**Câu 154.** Cho 4 chữ số: 1, 2, 3, 4. Từ 4 chữ số đó viết được bao nhiêu số chẵn có 3 chữ số khác nhau

- A. 15 số                      B. 12 số                      C. 24 số                      D. 10 số

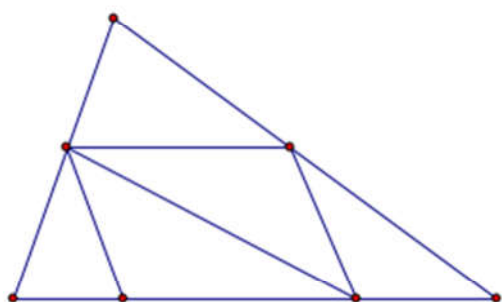
**Câu 155.** Điền thêm một số tiếp theo vào dãy số sau sao cho hợp lí: 1, 3, 3, 9, 27, .....

- A. 33                      B. 36                      C. 163                      D. 243

**Câu 156.** Biết:  $A = 345\ 678 - a$  ;  $B = 345\ 768 - a$  Hãy so sánh A và B:

- A.  $A > B$                       B. Không thể so sánh được                      C.  $B > A$                       D.  $A = B$

**Câu 157.**



Hình trên có số đoạn thẳng là:

- A. 16 đoạn                      B. 13 đoạn                      C. 15 đoạn                      D. 18 đoạn

**Câu 158.** Số còn thiếu trong dãy : 1 , 4 , 10 , 22 , ..... là:

- A. 46                      B. 36                      C. 44                      D. 32

hoc360

Câu 159. Bốn giờ bằng một phần mấy của một ngày?

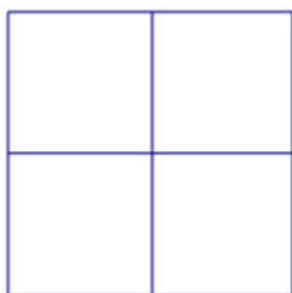
- A.  $\frac{1}{12}$  ngày      B.  $\frac{1}{4}$  ngày      C.  $\frac{1}{6}$  ngày      D.  $\frac{1}{3}$  ngày

Câu 160. Trên bản đồ tỉ lệ 1: 10 000, quãng đường từ A đến B đo được 1 dm. Như vậy độ dài thật của quãng đường AB là:

- A. 10 km      B. 10 000 cm      C. 10 000 m      D. 1000 m

Câu 161. Chu vi một hình chữ nhật gấp 10 lần chiều rộng. Hỏi chiều dài gấp mấy lần chiều rộng?

- A. 3 lần      B. 4 lần      C. 2 lần      D. 5 lần



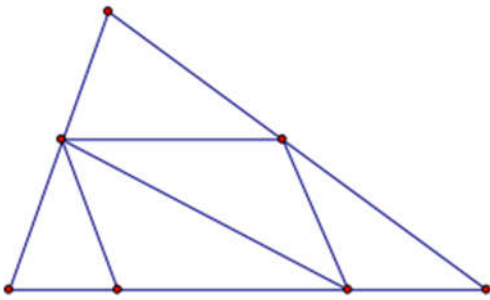
Biết cạnh của mỗi ô vuông trong hình trên đều dài 1cm. Tổng diện tích của tất cả các hình vuông có trong hình trên là:

- A. 24 cm<sup>2</sup>      B. 4 cm<sup>2</sup>      C. 8 cm<sup>2</sup>      D. 16 cm<sup>2</sup>

Câu 163. Điền số còn thiếu vào dãy số sau sao cho hợp lí: 1, 3, 4, 7, ....., 18

- A. 11      B. 9      C. 14      D. 15

Câu 164.



Hình trên có số hình tam giác và tứ giác là:

- A. 6 tam giác, 5 tứ giác.    B. 7 tam giác, 5 tứ giác.  
C. 7 tam giác, 7 tứ giác.    D. 7 tam giác, 6 tứ giác.

Câu 165. Kết quả của phép tính  $1 - \frac{1}{4}$  là:

- A.  $\frac{5}{4}$                       B.  $\frac{2}{4}$                       C.  $\frac{3}{4}$                       D.  $\frac{4}{4}$

Câu 166. Rút gọn phân số  $\frac{12}{18}$ , ta được phân số tối giản là:

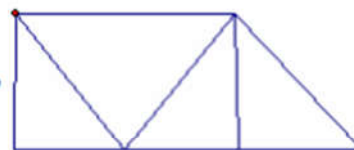
- A.  $\frac{3}{6}$                       B.  $\frac{4}{6}$                       C.  $\frac{4}{9}$                       D.  $\frac{2}{3}$

hoc360

**Câu 167.** Số bé nhất trong các số 145372; 145732; 145723; 145327 là:

- A. 145723                      B. 145327                      C. 145372                      D. 145732

**Câu 168.** Hình dưới đây có bao nhiêu hình tam giác, bao nhiêu hình tứ giác?

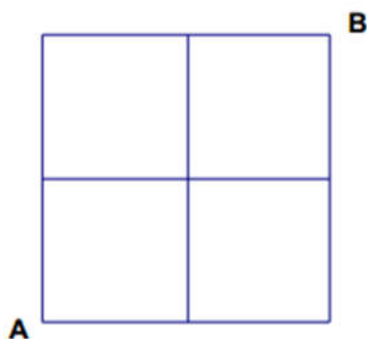


- A. 5 hình tam giác, 4 hình tứ giác                      B. 4 hình tam giác, 4 hình tứ giác  
C. 5 hình tam giác, 5 hình tứ giác                      D. 4 hình tam giác, 5 hình tứ giác

**Câu 169.** Cho dãy số 4836; 5236; 5636;...; 6436 Số thích hợp để viết vào chỗ chấm là:

- A. 6236                      B. 5836                      C. 5736                      D. 6036

**Câu 170.**



Biết cạnh của mỗi ô vuông trong hình vẽ trên đều dài 1cm. Em

hãy tìm xem có bao nhiêu đường gấp khúc đi từ A tới B dài 6 cm.

- A. 5 đường                      B. 2 đường                      C. 3 đường                      D. 4 đường



**Câu 171.**  $3m^2 5dm^2 = \dots dm^2$ . Số thích hợp để điền vào chỗ chấm là:

- A. 305                      B. 350                      C. 3050                      D. 35

**Câu 172.** Dùng 4 chữ số lẻ: 1, 3, 5, 7 để viết tất cả các số có 4 chữ số khác nhau thì viết được bao nhiêu số:

- A. 18 số                      B. 30 số                      C. 24 số                      D. 12 số

**Câu 173.** Cho  $\frac{4}{13} + \frac{2}{13} + \frac{2}{13} = \dots \times \frac{1}{13}$  Số thích hợp để viết vào chỗ chấm là:

- A. 16                      B. 7                      C. 11                      D. 8

**Câu 174.** Hiệu của 5 và  $\frac{1}{4}$  là:

- A.  $\frac{19}{4}$                       B.  $\frac{4}{4}$                       C.  $\frac{5}{4}$                       D.  $\frac{21}{4}$

**Câu 175.** Kết quả của phép nhân  $326 \times 142$  là:

- A. 46282                      B. 46922                      C. 46292                      D. 45292

**Câu 176.** Trong các phân số  $\frac{1}{2}; \frac{5}{6}; \frac{11}{2}; \frac{4}{5}$  phân số gần bằng  $\frac{2}{3}$  nhất là:

- A.  $\frac{11}{12}$                       B.  $\frac{5}{6}$                       C.  $\frac{1}{2}$                       D.  $\frac{4}{5}$

**Câu 177.** Số thích hợp để viết vào chỗ chấm của 9 tấn 6 yến = ... là:

- A. 9060                      B. 9006                      C. 960                      D. 96

**Câu 178.** Số thích hợp để viết vào chỗ chấm của  $1km^2 265m^2 = \dots m^2$  là:

- A. 1265                      B. 1000265                      C. 10265                      D. 100265

**Câu 179.** Tổng của tất cả các số có hai chữ số vừa chia hết cho 5, vừa chia hết cho 2 là:

- A. 5050                      B. 10                      C. 4500                      D. 450

**Câu 180.** Một cửa hàng trong 3 ngày bán được 720 kg gạo. Hỏi trong tám ngày cửa hàng bán được bao nhiêu ki lô gam gạo? Biết rằng số gạo mỗi ngày bán được là như nhau.

- A. 1920 kg                      B. 1220 kg                      C. 1290 kg                      D. 1820 kg

**Câu 181.** Số nào là 1 nửa của  $\frac{1}{4}$  của  $\frac{1}{10}$  của số 400:

- A. 2                      B. 5                      C. 8                      D. 10

**Câu 182.** Mẹ hơn con 24 tuổi. Sau 5 năm nữa thì tổng số tuổi của hai mẹ con là 46. Hỏi hiện nay mẹ bao nhiêu tuổi?

- A. 35 tuổi                      B. 24 tuổi                      C. 32 tuổi                      D. 30 tuổi