

**ĐỀ SỐ 24)**

**Bài 1:** Viết số thích hợp vào chỗ chấm :

- a) 78;79;80;.....89;
- b) 76;78;80; ..... 90
- c) 100;95;90;.....15.

**Bài 2:** Viết số liền trước,liền sau vào chỗ chấm thích hợp :

Số liền trước	Số đã cho	Số liền sau
	25	
	60	
	99	

**Bài 3:**Số?

a)

Số hạng	9	7
Số hạng	6	7
Tổng		

b)

Số bị trừ	13	15
Số trừ	7	8
Hiệu		

**Bài 4:** Đúng ghi Đ,sai ghi S vào ô trống :

a)  $9 + 7 = 17$

c)  $13 - 8 = 6$

b)  $16 - 9 = 7$

d)  $8 + 9 = 17$

**Bài 5:** Đặt tính rồi tính :

46 - 35

53 - 28

36 + 54

80 - 47

.....

.....

.....

.....

.....

.....

.....

.....

.....

.....

.....

.....

**Bài 6:** Số ?

a)  $(35) \xrightarrow{+10} \square \xrightarrow{+2} \square$

b)  $\square \xrightarrow{-12} \square \xrightarrow{-8} \square$

**Bài 7:** Giải toán:

a) Anh Hoàng cân nặng 46 kg. Minh cân nhẹ hơn anh Hoàng 18 kg. Hỏi Minh cân nặng bao nhiêu ki-lô-gam?

**Bài giải**

.....  
.....  
.....

b) Một cửa hàng, ngày đầu bán được 35 chiếc xe đạp, ngày thứ hai bán được 16 chiếc xe đạp. Hỏi cả hai ngày cửa hàng bán được bao nhiêu chiếc xe đạp?

**Bài giải:**

.....  
.....

**Bài 8:** Viết tiếp vào tờ lịch tháng 2 (năm thường) dưới đây rồi trả lời câu hỏi:

	Thứ hai	Thứ ba	Thứ tư	Thứ năm	Thứ sáu	Thứ bảy	Chủ nhật
2							1
			4				
	9					14	
		17					22
			25			28	

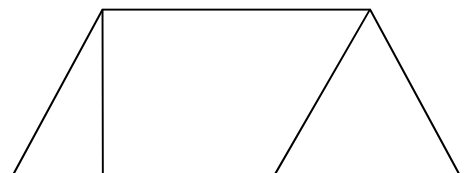
Trong tháng 2:

- a) Có ..... ngày thứ năm
- b) Các ngày thứ năm là:.....
- c) Ngày 17 tháng 2 là ngày thứ :.....
- d) Có tất cả .....ngày

**Bài 9:** Viết số thích hợp vào chỗ trống

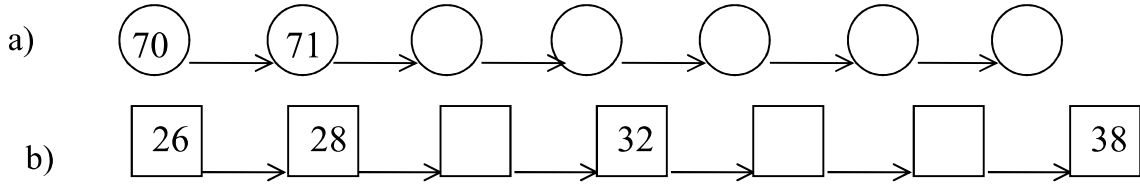
Hình vẽ bên có:

- a) Có .....tam giác.
- b) Có .....tứ giác

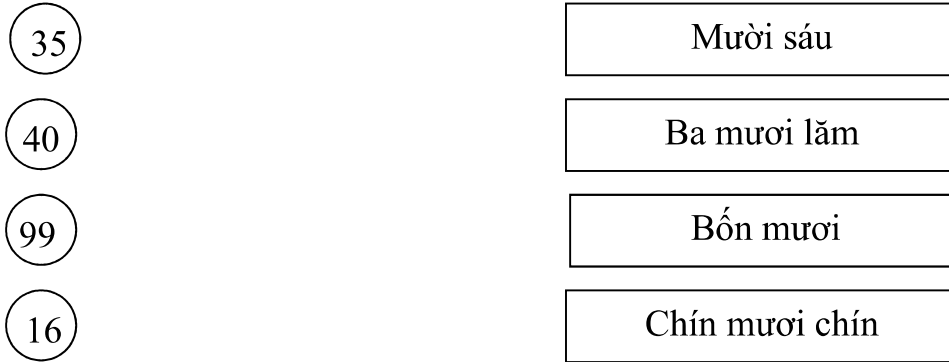


**ĐỀ SỐ 25)**

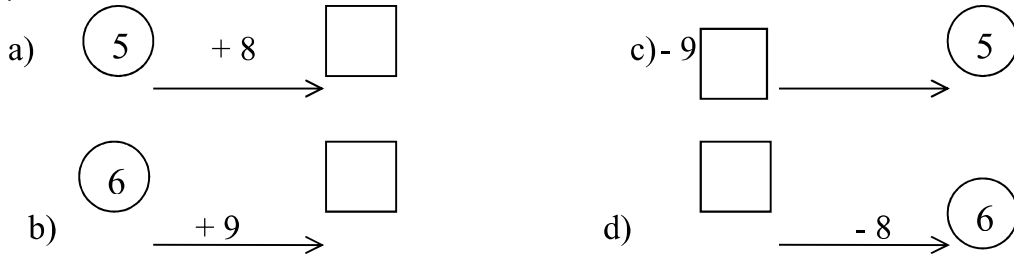
**Bài 1:** Số?



**Bài 2:** Nối mỗi số với cách đọc số đó:



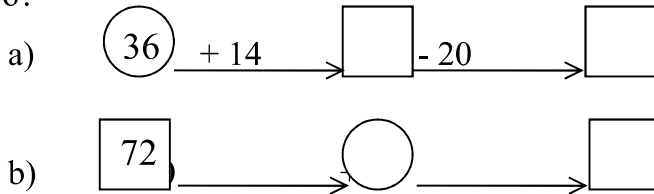
**Bài 3:** Số ?



**Bài 4:** Đặt tính rồi tính:

$47 + 35$	$74 - 28$	$47 + 23$	$70 - 46$
.....	.....	.....	.....
.....	.....	.....	.....
.....	.....	.....	.....

**Bài 5:** Số?



**Bài 6:** Giải toán:

- a) Băng giấy màu đỏ dài 75 cm, băng giấy màu xanh ngắn hơn băng giấy màu đỏ 27 cm.  
Hỏi băng giấy màu xanh dài bao nhiêu xăng-ti-met?

**Bài giải**

.....  
.....  
.....


- b) Thùng bé đựng được 38 *l* nước, thùng lớn đựng được nhiều hơn thùng bé là 22 *l* nước. Hỏi thùng lớn đựng được bao nhiêu lít nước?

**Bài giải**

.....  
.....  
.....


**Bài 7:** Viết số thích hợp vào ô trống:

- a) Đồng hồ A chỉ.....giờ



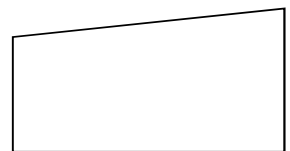

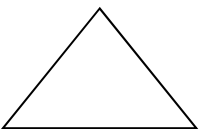
A

- b) Đồng hồ B chỉ.....giờ



B

**Bài 8:** Nối mỗi hình với tên gọi của hình đó:



Hình chữ nhật

Hình tam giác

Hình tứ giác

Hình vuông

**Bài 9:** Khoanh vào chữ cái đặt trước câu trả lời đúng:

---

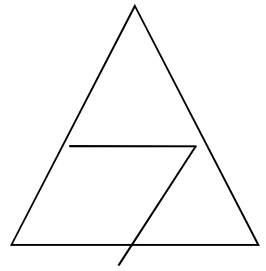
Trong hình vẽ bên:

a) Số tứ giác là:

A. 1      B. 2      C. 3

b) Số hình tam giác là:

A. 2      B. 3      C. 1



**ĐỀ SỐ 26)**

KIỂM TRA CUỐI KÌ 1 , NĂM HỌC 2010-2011  
MÔN TOÁN – LỚP 2 A

**Phần I. Khoanh trịn vào chữ trước câu trả lời đúng nhất (6 điểm)**

1/.  $36 + 42 = 42 + \square$ . Số cần điền vào o trống là (0,5 đ)

- A. 42                      B. 36                      C. 24

2/. Hiệu của 60 và 27 là: (0,5 đ)

- A. 87                      B. 47                      C. 43

3/. Tổng của 48 và 35 là : ( 0,5 đ)

- A. 63                      B. 73                      C. 83

4/. Lấy một số cộng với 14 ta được 50 . Số đĩ là : ( 0,5 đ)

- A. 14                      B. 50                      C. 36

5/ Người ta dùng đơn vị đo nào chỉ mức độ nặng hay nhẹ của các vật (0,5 đ)

- A. Lít                      B. Xen-ti-mét                      C. Ki-lô-gam

6/ Chuông reo vào học lúc 7giờ .Bạn An đến trường lúc 8 giờ ; Vậy An đi học muộn bao nhiêu phút: (0,5 đ)

- A. 10                      B. 30                      C. 60

**PHẦN II : (4 điểm)**

7/. Tính (1 điểm)

$52 \text{ kg} + 18 \text{ kg} + 16 \text{ kg} = \dots\dots\dots$                        $25 \text{ m} + 15 \text{ m} + 40 \text{ m} = \dots\dots\dots$   
=  $\dots\dots\dots$                                               =  $\dots\dots\dots$

8/. Đặt tính rồi tính (1 điểm)

$34 + 28$	$100 - 46$
.....	.....
.....	.....
.....	.....

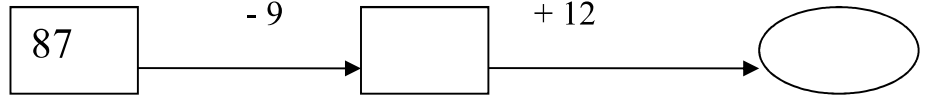
9/. Em xem tờ lịch tháng 12 dưới đây và viết phần trả lời thích hợp vào chỗ chấm :

12	Chủ nhật	Hai	Ba	Tư	Năm	Sáu	Bảy
				1	2	3	4
	5	6	7	8	9	10	11
	12	13	14	15	16	17	18
	19	20	21	22	23	24	25
	26	27	28	29	30	31	

- Ngày thứ bảy cuối tuần của tháng 12 là ngày : .....

- Ngày 31 tháng 12 là ngày thứ mấy : .....

10/. **Số** ? (1 điểm)



11/. Bài toán: (2 điểm)

Cái bàn cao 95 cm. cái ghế thấp hơn cái bàn 46 cm . Hỏi cái ghế cao bao nhiêu xen- ti-mét ?

Giải

.....

.....

.....

.....

.....

.....

.....

.....

.....

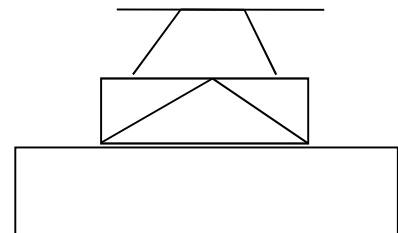
.....

.....

12/. Viết số thích hợp vào chỗ chấm: (1 điểm)

Hình vẽ bên có :

- .....hình tam giác
- ..... hình tứ giác

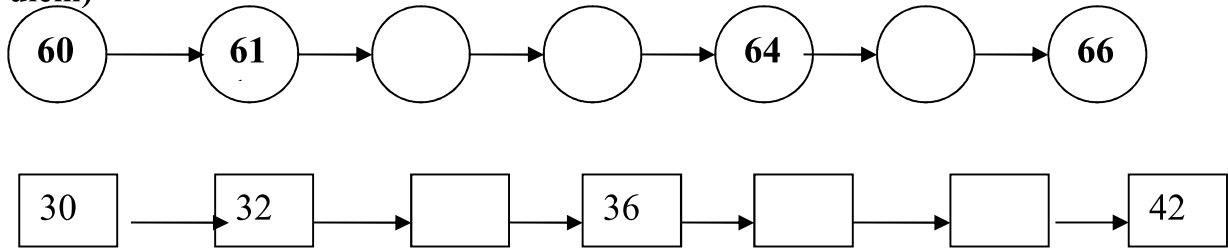


**ĐỀ SỐ 27)**

Trường Tiểu học Xuân Lộc 1 Họ và tên : ..... Lớp Hai ....	<b>Điểm:</b> .....	Thứ..... ngày .....tháng 12 năm 2009 <b>KIỂM TRA CUỐI HỌC KÌ I</b> Môn : Toán - Năm học : 2009-2010
-----------------------------------------------------------------	-----------------------	-----------------------------------------------------------------------------------------------------------

Đề bài (số 1)

1a) **Số?** (0,5 điểm)



b) **Viết số hoặc chữ thích hợp vào chỗ chấm: (0,5 điểm)**

Đọc số	Viết số
Tám mươi tám	.....
.....	66

2. (2 điểm):

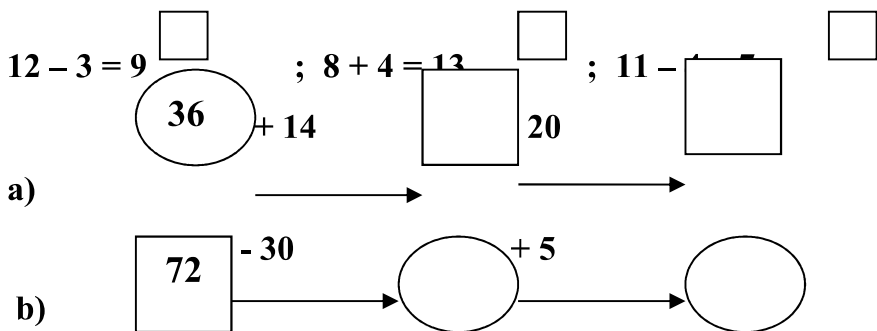
a) Tính rồi ghi kết quả vào chỗ chấm :

$9 + 7 = \dots\dots\dots$  ;  $16 - 7 = \dots\dots\dots$  ;  $9 + 6 = \dots\dots\dots$  ;  $17 - 9 = \dots\dots\dots$

b) Đúng ghi Đ, sai ghi S vào  :

$7 + 8 = 15$   ;  $12 - 3 = 9$   ;  $8 + 4 = 13$   ;  $11 - \square = \square$

3. **Số?** (1 điểm)



4. **Đặt tính rồi tính: (2 điểm)**

$45 + 27$	$64 - 38$	$33 + 47$	$80 - 36$
.....	.....	.....	.....
.....	.....	.....	.....
.....	.....	.....	.....

5. **Giải toán: (2 điểm)**



a) Bình nhỏ đựng 15 l nước, bình to đựng nhiều hơn bình nhỏ 9 l. Hỏi bình nước to đựng bao nhiêu lít nước?

Bài giải :

.....  
.....  
.....

b) Băng giấy màu đỏ dài 75cm, băng giấy màu xanh ngắn hơn băng giấy màu đỏ 27 cm. Hỏi băng giấy màu xanh dài bao nhiêu xăng-ti-mét ?

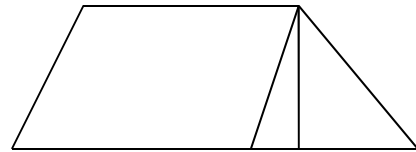
Bài giải :

.....  
.....  
.....  
.....

6. Viết số thích hợp vào chỗ chấm: (1 điểm)

Hình vẽ bên:

- a) Có.....hình tam giác.
- b) Có.....hình tứ giác



7. Điền số thích hợp vào ô trống để được phép tính đúng: (1 điểm)

	+		=	
--	---	--	---	--

	-		=	
--	---	--	---	--

\*\*\*\*@#@\*\*\*\*

**ĐỀ SỐ 28)**

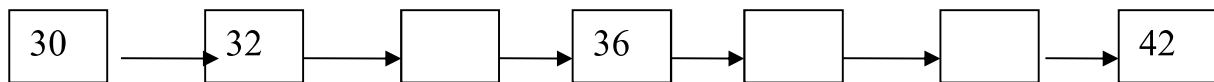
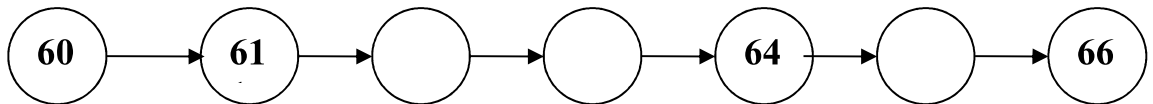
<b>Trường Tiểu học Xuân Lộc 1</b> <b>Họ và tên : .....</b> <b>Lớp Hai ....</b>	<b>Điểm:</b>	<b>Thứ .....ngày..... tháng 12 năm 2009</b> <b>KIỂM TRA CUỐI HỌC KÌ I</b> <b>Môn : Toán - Năm học : 2009-2010</b>
--------------------------------------------------------------------------------------	--------------	-------------------------------------------------------------------------------------------------------------------------

Đề bài (số 2)

1. a) Viết số hoặc chữ thích hợp vào chỗ chấm: (0,5 điểm)

Đọc số	Viết số
Tám mươi tám	.....
.....	66

b). **Số?** (0,5 điểm)



2. (2 điểm) :

a) Tính rồi ghi kết quả vào chỗ chấm :

$9 + 7 = \dots\dots\dots$  ;  $16 - 7 = \dots\dots\dots$  ;  $9 + 6 = \dots\dots\dots$  ;  $17 - 9 = \dots\dots\dots$

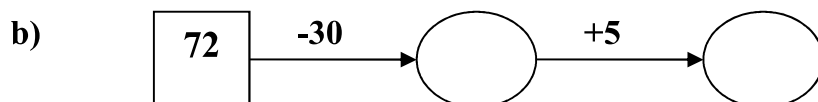
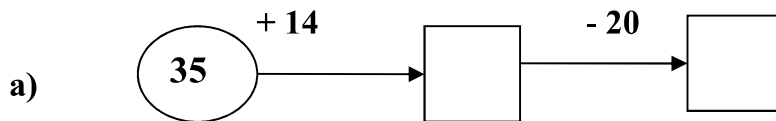
b) Đúng ghi Đ, sai ghi S vào  :

$7 + 8 = 15$   ;  $12 - 3 = 9$   ;  $8 + 4 = 13$   ;  $11 - 4 = 7$

3. Đặt tính rồi tính: (2 điểm)

$45 + 27$	$64 - 38$	$33 + 47$	$80 - 36$
.....	.....	.....	.....
.....	.....	.....	.....
.....	.....	.....	.....

4. **Số?** (1 điểm)



**5. Giải toán: (2 điểm)**

a) Băng giấy màu đỏ dài 75 cm, băng giấy màu xanh ngắn hơn băng giấy màu đỏ 27 cm . Hỏi băng giấy màu xanh dài bao nhiêu xăng-ti-mét ?

**Bài giải :**

.....  
.....  
.....  
.....

b) Bình nhỏ đựng 15 l nước, bình to đựng nhiều hơn bình nhỏ 9 l. Hỏi bình nước to đựng bao nhiêu lít nước ?

**Bài giải :**

.....  
.....  
.....  
.....

**6. Viết số thích hợp vào chỗ chấm: (1 điểm)**

Hình vẽ bên:

- a) Có.....hình tam giác.
- b) Có.....hình tứ giác



**7. Điền số thích hợp vào ô trống để được phép tính đúng: (1 điểm)**

	+		=	
--	---	--	---	--

	-		=	
--	---	--	---	--

\*\*\*\*@@@\*\*\*\*

**ĐỀ SỐ 29)**

Môn Toán lớp 2 (thời gian làm bài 40 phút)

**ĐỀ 1**

Bài 1: Đúng ghi Đ, sai ghi S vào ô trống

$8 + 4 = 13$

$15 - 9 = 6$

$7 + 9 = 16$

$13 - 6 = 8$

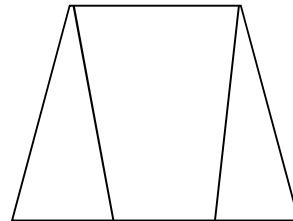
Bài 2: Khoanh vào chữ đặt trước kết quả đúng:

a) Số hình tam giác có trong hình vẽ là:

- A. 1      B. 2      C. 3      D. 4

b) Số hình tứ giác trong hình vẽ là:

- A. 1      B. 2      C. 3      D. 4



Bài 3: Đặt tính rồi tính

$46 + 35$

$53 - 28$

$36 + 54$

$80 - 47$

.....  
.....  
.....  
.....

$46 + 35 = \dots$        $53 - 28 = \dots\dots\dots$        $36 + 54 = \dots\dots$        $80 - 47 = \dots\dots\dots$

Bài 4: Viết số liền trước, liền sau vào chỗ chấm thích hợp.

Số liền trước	Số đã cho	Số liền sau
.....	25	.....
.....	90	.....

Bài 5: Lớp 2A trồng được 48 cây, lớp 2B trồng được nhiều hơn lớp 2A là 12 cây. Hỏi lớp 2B trồng được bao nhiêu cây?

Bài giải

.....  
.....  
.....  
.....  
.....



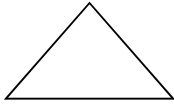
Bài 6: Tìm x:

$x - 12 = 47$

$x = \dots\dots\dots$

$$x = \dots\dots\dots$$

Bài 7: Nối mỗi hình với tên gọi của hình đó.



Hình vuông

Hình tứ giác

Hình chữ nhật

Hình vuông

**Đề 2:**

Bài 1: Viết số thích hợp vào chỗ chấm:

76, 78, 80, ..., 84, 86, ....., 90, ....., ....., 96.

Bài 2: Viết số liền trước, liền sau vào chỗ chấm cho thích hợp.

Số liền trước	Số đã cho	Số liền sau
.....	55	.....
.....	89	.....

Bài 3: Đúng ghi Đ, sai ghi S vào ô trống.

a)  $8 + 4 = 13$

b)  $12 - 3 = 9$

c)  $11 - 4 = 7$

d)  $7 + 8 = 15$

Bài 4: Tìm x

$$x - 15 = 53$$

$$45 - x = 35$$

$$x = \dots\dots\dots$$

$$x = \dots\dots\dots$$

$$x = \dots\dots\dots$$

$$x = \dots\dots\dots$$

Bài 5: Đặt tính rồi tính

$$26 + 55$$

$$43 - 28$$

$$26 + 64$$

$$70 - 37$$

.....  
.....  
.....  
.....

$$26 + 55 =$$

$$43 - 28 =$$

$$26 + 64 =$$

$$70 - 37 =$$

Bài 6: Quang cân nặng 36 kg. Minh cân nặng hơn Quang 8 kg. Hỏi Minh cân nặng bao nhiêu ki - lô - gam?

Bài làm

---

.....

.....

.....

.....

.....

Bài 7: Khoanh vào chữ đặt trước câu trả lời đúng?

Trong hình vẽ bên:

a) Số hình tam giác là:

A. 3      B. 2      C. 1

b) Số hình tứ giác là:

A. 1      B. 2      C. 3

