

Câu 107. Nếu viết ra giấy các số từ 1 đến 100 thì phải viết chữ số 9 bao nhiêu lần?

- A. 19 lần B. 20 lần C. 11 lần D. 10 lần

Câu 108. 

Hình trên có bao nhiêu đoạn thẳng?

- A. 15 đoạn thẳng. B. 10 đoạn thẳng. C. 5 đoạn thẳng. D. 12 đoạn thẳng.

Câu 109. Số "hai mươi triệu không nghìn bốn trăm linh tám " viết là:

- A. 2000408 B. 20004008 C. 2040008 D. 20000408

Câu 110. Cho 4 chữ số: 1, 0, 2, 4 . Hỏi viết được bao nhiêu số có 3 chữ số khác nhau?

- A. 18 số B. 6 số C. 12 số D. 24 số

Câu 111. Kết quả của phép tính $\frac{3}{5} \times \frac{2}{7}$ là:

- A. $\frac{5}{35}$ B. $\frac{6}{35}$ C. $\frac{5}{12}$ D. $\frac{6}{12}$

Câu 112. Chữ số 8 trong số 7685320705 có giá trị là:

- A. 8000000 B. 800000 C. 800000000 D. 80000000

Câu 113. Phân số bé nhất trong các phân số dưới đây là:

hoc360

A. $\frac{11}{23}$

B. $\frac{1}{2}$

C. $\frac{10}{22}$

D. $\frac{4}{11}$

Câu 114. Một người nuôi 40 con thỏ. Sau khi bán $\frac{1}{5}$ số con thỏ, người đó nhốt đều số thỏ còn lại vào 8 chuồng. Hỏi mỗi chuồng nhốt mấy con thỏ?

A. 6 con thỏ

B. 4 con thỏ

C. 5 con thỏ

D. 32 con thỏ

Câu 115. Trong các biểu thức dưới đây, biểu thức nào có giá trị bé nhất?

A. $\frac{2}{5} \times \frac{5}{2}$

B. $1 + \frac{3}{4}$

C. $\frac{5}{4} - \frac{3}{8}$

D. $1 : \frac{2}{3}$

Câu 116. Tìm số tự nhiên a lớn nhất để: $238 \times a < 1193$

A. $a = 4$

B. $a = 3$

C. $a = 6$

D. $a = 5$

Câu 117. $4 \text{ m}^2 2 \text{ dm}^2 = \dots \text{ dm}^2$. Số thích hợp điền vào chỗ chấm là:

A. 4020

B. 420

C. 42

D. 402

Câu 118. Một lớp học có 18 học sinh nữ và 12 học sinh nam. Hỏi số học sinh nam chiếm bao nhiêu phần số học sinh cả lớp?

A. $\frac{2}{5}$

B. $\frac{3}{5}$

C. $\frac{3}{2}$

D. $\frac{2}{3}$

Câu 119. Số 3 có thể viết thành:

A. $\frac{30}{10}$

B. $\frac{3}{10}$

C. $\frac{30}{3}$

D. $\frac{30}{30}$

hoc360

Câu 120. Trong các số dưới đây, số nào không thuộc dãy số: 2, 5, 8, 11, 14, ...

- A. 2 333 B. 23 456 C. 21 345 D. 2 000

Câu 121. Hôm nay là ngày thứ năm . Hỏi 100 ngày sau sẽ là ngày thứ mấy của tuần lễ.

- A. Thứ bảy B. Thứ hai C. Chủ nhật D. Thứ sáu

Câu 122. Cho 6 số: 1, 2, 3, 4, 5, 6 . Hỏi có bao nhiêu cách chọn 3 số từ các số đã cho để tổng 3 số đó là 1 số chẵn?

- A. 8 B. 10 C. 9 D. 11

Câu 123. Chữ cái thứ 100 của dãy: KINHMONKINHMONKINH là chữ cái nào?

- A. Chữ N B. Chữ I C. Chữ K D. Chữ O

Câu 124. Điền thêm số tiếp theo vào dãy số sau cho hợp quy luật: 2 , 5 , 11 , 23 ,

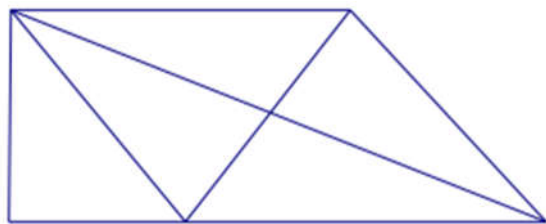
- A. 41 B. 35 C. 34 D. 47

Câu 125. Kết quả của phép chia $13800 : 24$ là:

- A. 557 B. 575 C. 455 D. 475

hoc360

Câu 126.



Hình trên có bao nhiêu hình tam giác, bao nhiêu hình tứ giác?

A. 10 hình tam giác, 4 hình tứ giác.

B. 9 hình tam giác, 3 hình tứ giác.

C. 9 hình tam giác, 4 hình tứ giác.

D. 10 hình tam giác, 3 hình tứ giác.

Câu 127. Phân số bằng phân số $\frac{5}{7}$ là:

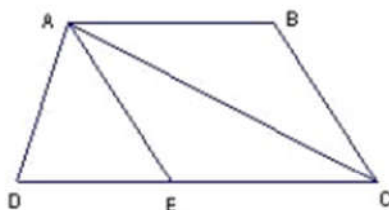
A. $\frac{12}{40}$

B. $\frac{11}{42}$

C. $\frac{16}{20}$

D. $\frac{25}{35}$

Câu 128. Cho hình vẽ:



Đỉnh A là đỉnh chung của bao nhiêu hình tam giác?

A. 4 hình

B. 6 hình

C. 2 hình

D. 3 hình

Câu 129. Nhân 4 số tự nhiên liên tiếp với nhau, 3 bạn được 3 kết quả như dưới đây. Hỏi kết quả nào đúng?

A. cả 3 đều sai

B. 6284

C. 6824

D. 8624

Câu 130. Số gồm 7 triệu, 2 trăm nghìn, 5 nghìn, 8 trăm, 3 đơn vị viết là:

- A. 70250803 B. 7205083 C. 7205803 D. 725803

Câu 131. Phân số nào dưới đây bằng phân số $\frac{5}{8}$?

- A. $\frac{10}{24}$ B. $\frac{15}{24}$ C. $\frac{15}{16}$ D. $\frac{20}{24}$

Câu 132. Tổng của 4 số là 130. Trung bình cộng của 3 số đầu là 40. Hỏi số thứ tư bằng bao nhiêu?

- A. 30 B. 10 C. 40 D. 90

Câu 133. Có 2.135 quyển vở được xếp vào 7 thùng. Hỏi 5 thùng đó có bao nhiêu quyển vở?

- A. 1.525 quyển B. 35 quyển C. 705 quyển D. 305 quyển

Câu 134. Phân số còn thiếu trong dãy sau: $\frac{1}{2}$, $\frac{1}{12}$, $\frac{1}{30}$, $\frac{1}{56}$, , $\frac{1}{132}$ là:

- A. $\frac{1}{94}$ B. $\frac{1}{90}$ C. $\frac{1}{86}$ D. $\frac{1}{98}$

Câu 135. Kết quả của phép tính $1 + \frac{3}{4}$ là:

hoc360

A. $\frac{4}{4}$

B. $\frac{7}{4}$

C. $\frac{6}{4}$

D. $\frac{5}{4}$

Câu 136. Phân số bé nhất trong các phân số dới đây là:

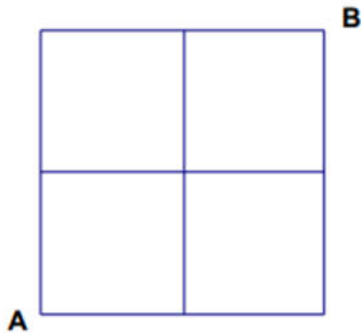
A. $\frac{7}{11}$

B. $\frac{7}{12}$

C. $\frac{6}{11}$

D. $\frac{6}{10}$

Câu 137.



Biết cạnh của mỗi ô vuông trong hình vẽ trên đều dài 1cm. Em hãy tìm xem có bao nhiêu đường gấp khúc đi từ A tới B dài 4 cm.

A. 5 đường

B. 4 đường

C. 6 đường

D. 3 đường

Câu 138. Có bao nhiêu số có 2 chữ số?

A. 99

B. 89

C. 50

D. 90

hoc360