

ĐỀ SỐ 17)

PHÒNG GDĐT ĐÔNG HỚI
TRƯỜNG TH BẮC NGHĨA

BÀI KIỂM TRA ĐỊNH KÌ HỌC KÌ I MÔN TOÁN LỚP 2

Năm học 2010 - 2011

Thời gian làm bài: 40 phút

Họ và tên: Lớp: Số báo danh:

ĐỀ CHẤM

Bài 1: (2 điểm) *Khoanh vào chữ cái đứng trước phương án đúng.*

a/ Kết quả của phép cộng $67 + 26$ là :

- A. 83 B. 93 C. 94 D. 95

b/ Phép trừ $100 - 57$ có kết quả là:

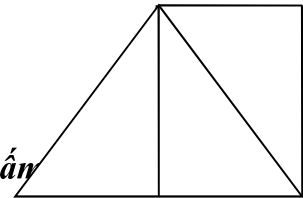
- A. 53. B. 44 C. 43 D. 33

c/ Tổng nào dưới đây bé hơn 56?

- A. $50 + 8$ B. $49 + 7$ C. $36 + 29$ D. $48 + 6$

d/ Số hình tam giác có trong hình bên là:

- A. 2 B. 3 C. 4 D. 5



Bài 2: (1 điểm) *Điền số hoặc dấu (>, <, =) thích hợp vào chỗ chấm*

a/ $42 + 15$ 55 b/ $100 - 67$ 43

c/ 8 giờ tối còn gọi là giờ.

d/ Ngày 1 tháng 1 năm 2011 là ngày thứ 7. Thứ bảy tuần sau đó là ngày tháng

Bài 3: (2 điểm) *Đặt tính và tính:*

a/ $36 + 28$ b/ $75 - 37$ c/ $100 - 73$ d/ $29 + 17$

.....
.....
.....

Bài 4: (1 điểm) *Tính:*

a/ $48 + 25 - 38$ b/ $100 - 38 + 15$

Bài 5:(1 điểm) *Tim x, biết:*

$$a/ x + 37 = 73$$

$$b/ 42 - x = 30$$

Bài 6: (2 điểm) *Bài giải.*

Thùng gạo tẻ có 53 kg, Thùng gạo nếp có ít hơn thùng gạo tẻ 8 kg. Hỏi thùng gạo nếp có bao nhiêu ki - lô - gam?

Bài giải

Bài 7. (1 điểm) *Tính nhanh:*

$$48 + 49 - 9 - 8$$

ĐỀ SỐ 18)

PHÒNG GDĐT ĐÔNG HỚI

TRƯỜNG TH BẮC NGHĨA

BÀI KIỂM TRA ĐỊNH KÌ HỌC KÌ I MÔN TOÁN LỚP 2

Năm học 2010 - 2011

Thời gian làm bài: 40 phút

Họ và tên: Lớp: Số báo danh:

Bài 1: (2 điểm) ***Khoanh vào chữ cái đứng trước phương án đúng.***

a/ Kết quả của phép cộng $76 + 16$ là :

- A. 82 B. 72 C. 93 D. 92

b/ Phép trừ $100 - 75$ có kết quả là:

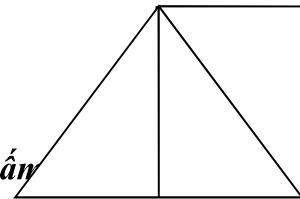
- A. 35. B. 25 C. 15 D. 16

c/ Hiệu nào dưới đây lớn hơn 56?

- A. $59 - 8$ B. $69 - 10$ C. $56 - 0$ D. $58 - 3$

d/ Số hình tam giác có trong hình bên là:

- A. 2 B. 3 C. 4 D. 5



Bài 2:(1 điểm) ***Điền số hoặc dấu (>, <, =) thích hợp vào chỗ chấm***

a/ $42 + 15$ 75 b/ $100 - 42$ 43

c/ 10 giờ đêm còn gọi là giờ.

d/ Ngày 1 tháng 1 năm 2011 là ngày thứ sáu. Thứ sáu tuần sau đó là ngày tháng

Bài 3: (2 điểm) ***Đặt tính và tính:***

a/ $36 + 38$ b/ $75 - 27$ c/ $100 - 37$ d/ $29 + 57$

.....
.....
.....

Bài 4: (1 điểm) ***Tính:***

a/ $48 + 35 - 38$ b/ $100 - 28 + 15$

.....

Bài 5:(1 điểm) ***Tìm x, biết:***

$$a/ x + 37 = 80$$

$$b/ 42 - x = 22$$

.....

.....

Bài 6: (2 điểm) ***Bài giải.***

Thùng gạo nếp có 53 kg, Thùng gạo tẻ có ít hơn thùng gạo nếp 8 kg. Hỏi thùng gạo tẻ có bao nhiêu ki - lô - gam?

Bài giải

.....

.....

.....

.....

.....

.....

.....

.....

Bài 7. (1 điểm) ***Tính nhanh:***

$$24 + 65 - 4 - 5$$

.....

.....

.....

.....

ĐỀ SỐ 19)

Lớp:Trường Tiểu học Vạn Phúc

BÀI KIỂM TRA ĐỊNH KÌ CUỐI HỌC KÌ I

Họ và tên:

Năm học 2009- 2010

MÔN TOÁN LỚP 2

Họ và tên giáo coi và chấm:.....

.....

PHẦN TRẮC NGHIỆM 3 điểm

Khoanh vào chữ cái trước câu trả lời đúng

Câu 1. Số liền trước của 80 là:

- A. 79 B. 80 C. 81 D. 82

Câu 2. Số thích hợp điền vào chỗ chấm $60 \text{ cm} = \dots \text{ dm}$ là:

- A. 6 dm B. 6 C. 60 D. 6 cm

Câu 3. Các số 28; 37; 46; 52 được viết theo thứ tự từ lớn đến bé là:

- A. 46; 37; 52; 28 B. 28; 37; 46; 52 C. 52; 46; 37; 28 D. 52; 37; 46; 28

Câu 4. Số lớn hơn 74 và nhỏ hơn 76 là:

- A. 73 B. 77 C. 75 D. 76

Câu 5. Hiệu của 64 và 31 là:

- A. 33 B. 77 C. 95 D. 34

Câu 6. Lan và Hồng có 22 quyển truyện tranh. Nếu lấy bớt của Hồng 5 quyển thì hai bạn còn lại bao nhiêu quyển truyện tranh?

Hai bạn còn lại số quyển truyện tranh là:

- A. 27 B. 17 C. 22 D. 15

PHẦN TỰ LUẬN: 7 điểm

Bài 1. (2 điểm) Tìm x, biết:

$$x + 15 = 41$$

$$x - 23 = 39$$

Bài 2. (2 điểm) Đặt tính rồi tính

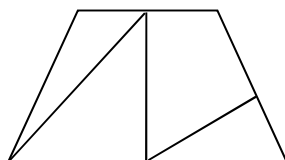
$$44 + 37$$

$$95 - 58$$

$$38 + 56$$

$$66 - 8$$

Bài 3. (1,5 điểm) Hình vẽ bên có bao nhiêu tứ giác?



ĐỀ SỐ 20)

Trường Tiểu học Hoà Sơn

Đề Kiểm tra cuối học kỳ I năm học 2010 – 2011

Môn thi : Toán lớp 2

Thời gian làm bài: 40 phút

Họ và tên:..... **Lớp:**.....**Số báo danh :**.....

A- Phần kiểm tra trắc nghiệm.

Khoanh vào chữ cái trước đáp án đúng. (Mỗi đáp án đúng cho 0,5 điểm)

1) $5\text{dm} = ? \text{cm}$

- A. 50 cm B. 5 cm C. 4 cm

2) Số bé nhất trong các số : 100, 98, 89, 90 là

- A. 89 B. 90 C. 98

3) $47 + 35 = ?$

- A. 72 B. 92 C. 82

4) Số lớn nhất có 2 chữ số mà tổng 2 chữ số của số đó bằng 9 là:

- A. 99 B. 90 C. 81

5) $11 - 7 + 8 = ?$

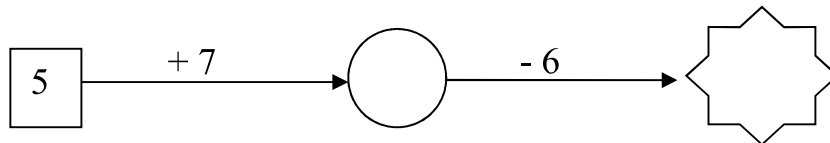
- A. 4 B. 12 C. 10

6) Con lợn trắng nặng 75 kg, con lợn đen nhẹ hơn con lợn trắng 18 kg. Hỏi con lợn đen cân nặng bao nhiêu ki-lô-gam ?

- Con lợn đen cân nặng : A. 93 B. 57 C. 67

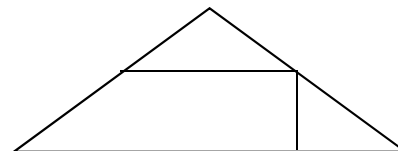
7)

Số ?



8) Hình bên có mấy hình tứ giác:

- A. 2
B. 3
C. 4



9) Điền số thích hợp vào chỗ trống:

$5 \square > 58$

- A. 9 B. 8 C. 7

10) Số liền sau của 49 là:

ĐỀ SỐ 21)

Trường:.....

ĐỀ KIỂM TRA CUỐI HỌC KÌ I

Lớp:.....

MÔN: TOÁN – KHỐI 2

Họ và tên:.....

Thời gian: 60 phút.

Bài 1. (1 điểm) Viết số thích hợp vào chỗ trống:

a/ 62, 63, 64,;;;;, 70.

b/ 40, 42, 44,;.....;.....;.....;....., 56.

Bài 2. (2 điểm) Điền chữ số thích hợp vào ô trống:

$$\begin{array}{r} 31 \\ + \\ \square 6 \\ \hline 77 \end{array}$$

$$\begin{array}{r} \square 7 \\ + \\ 42 \\ \hline 79 \end{array}$$

$$\begin{array}{r} 83 \\ - \\ \square 8 \\ \hline 65 \end{array}$$

$$\begin{array}{r} 97 \\ - \\ 2\square \\ \hline 76 \end{array}$$

Bài 3. (1 điểm) Mỗi số 7, 8 là kết quả của phép tính nào?

15 - 8

7

17 - 9

8

15 - 7

16 - 9

16 - 8

Bài 4. (1 điểm) Đặt tính rồi tính:

36 + 43

88 - 65

27 + 15

80 - 46

.....

.....

.....

.....

.....

.....

.....

.....

.....

.....

.....

.....

Bài 5. (1 điểm) Tìm x:

a/ $x - 24 = 34$

b/ $25 + x = 84$

.....

.....

.....

.....

.....

.....

.....

.....

Bài 6. (1 điểm) Viết số thích hợp vào chỗ chấm:

a/ $2\text{dm} = \dots\dots\dots \text{cm}$

b/ $9\text{dm} = \dots\dots\dots \text{cm}$

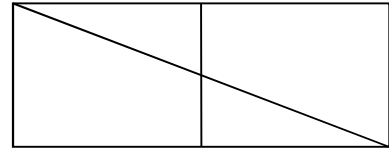
$30\text{cm} = \dots\dots\dots \text{dm}$

$70\text{cm} = \dots\dots\dots \text{dm}$

Bài 7. (1 điểm) Trong hình bên:

a/ Có mấy hình tam giác ?.....hình.

b/ Có mấy hình tứ giác ?.....hình.



Bài 8. (1 điểm) Năm nay bố 31 tuổi, con kém bố 5 tuổi. Hỏi năm nay con bao nhiêu tuổi?

Bài giải

.....
.....
.....
.....
.....

Bài 9. Lần đầu cửa hàng bán được 25lít nước mắm, lần sau bán được 12 lít nước mắm. Hỏi cả hai lần cửa hàng bán được bao nhiêu lít nước mắm? (1 điểm).

Bài giải

.....
.....
.....
.....
.....

ĐỀ SỐ 22)

Họ và tên

Bài kiểm tra cuối kì I – năm học 2009- 2010

Lớp : 2....

Môn : Toán- Lớp 2

Trường Tiểu học Quang Khải

(Thời gian làm bài: 40 phút)

I- Trắc nghiệm (2 điểm)

Mỗi câu trả lời đúng được 0, 5 điểm

Câu 1: Đúng ghi Đ, sai ghi S vào ô trống:

a) $8 + 7 = 15$

b) $9 + 5 = 16$

c) $12 - 3 = 9$

d) $11 - 4 = 7$

Câu 2: Khoanh vào chữ cái đặt trước câu trả lời đúng:

Chủ nhật tuần này là ngày 19 tháng 8. Chủ nhật tuần sau là ngày nào?

A. Ngày 12 tháng 8

B. Ngày 26 tháng 8


Câu 3: Khoanh vào chữ đặt trước kết quả đúng:

Số hình chữ nhật có trong hình vẽ là:

a) 3

b) 4

c) 5



Câu 4: Đúng ghi Đ, sai ghi S

Một bao gạo chứa 5 chục ki lô gam gạo. Từ bao gạo đó lấy ra 3 kg gạo thì trong bao còn lại bao nhiêu ki lô gam gạo?

a) 20 kg

b) 47 kg

II-Tự luận (8 điểm)

Câu 5: Đặt tính rồi tính: (2 điểm)

$47 + 35$

$74 - 28$

$47 + 23$

$70 - 46$

Câu 6: (2 điểm)

Con lợn cân nặng 32 kg. Con chó nhẹ hơn con lợn 17kg. Hỏi con chó cân nặng bao nhiêu ki lô gam?

.....
.....

.....
.....
.....
.....

Câu 7: Tìm x: (2 điểm)

a) $x + 27 = 45$

b) $x - 27 = 45$

.....
.....


c) $45 - x = 27$

d) $25 + x = 18 + 52$

.....
.....
.....

Câu 8: (1 điểm)

Hình vẽ sau có bao nhiêu đoạn thẳng?



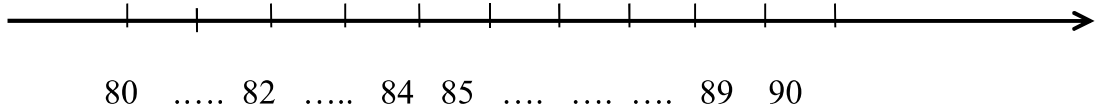
Trả lời:.....

Câu 9: (1 điểm)

Hãy viết 2 phép trừ có hiệu bằng số trừ?

ĐỀ SỐ 23)

Bài 1: Số ?



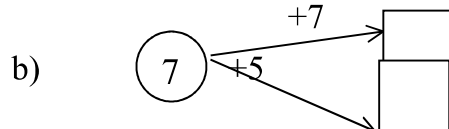
Bài 2: Viết số hoặc chữ thích hợp

đọc số	Viết số
Sáu mươi lăm
.....	46
.....	71
Tám mươi tư

Bài 3: Số

a) $(6) \xrightarrow{+7} \square$

c) $\square \xrightarrow{-\dots\dots} (6)$



c) $\square \xrightarrow{-7} \bigcirc$

Bài 4: Đúng ghi Đ, sai ghi S vào ô trống :

a) $8 + 4 = 13$

b) $7 + 9 = 16$

Bài 5: Đặt tính rồi tính :

$47 + 25$

$64 - 28$

$100 - 36$

$37 + 43$

.....

.....

.....

.....

.....

.....

.....

.....

.....

.....

.....

.....

Bài 6: Tìm x

$x + 30 = 50$

$x - 12 = 47$

$x = \dots\dots\dots$

$x = \dots\dots\dots$

$x = \dots\dots\dots$

$x = \dots\dots\dots$

Bài 7: Giải toán

Quang cân nặng 26 kg. Minh cân nặng hơn Quang 8 kg. Hỏi Minh cân nặng bao nhiêu kg ?

Tóm tắt:..... Sơ đồ:

.....

.....

Bài giải:


.....
.....
.....

Bài 8: Khoanh vào đáp án trước kết quả đúng

a) Số tứ giác trong hình vẽ là :

A. 1 C. 3

B. 2 D. 4



b) Số hình tam giác trong hình vẽ là:

A. 4 C. 2

B. 3 D. 1

Bài 9: Viết tiếp vào tờ lịch tháng 12 dưới đây rồi trả lời câu hỏi :

	Thứ hai	Thứ ba	Thứ tư	Thứ năm	Thứ sáu	Thứ bảy	Chủ nhật
12	1	2			5		
				11		13	
	15	16			19		
				25			28
	29		31				

Trong tháng 12 :

a) Cóngày thứ hai.

Các ngày thứ hai đó là :.....

b) Ngày 22 tháng 12 là thứ

c) Tháng 12 có tất cả bao nhiêu ngày :.....

d) Em được nghỉ thứ bảy và chủ nhật. Vậy tháng 12 em được nghỉngày