

**Ôn tập về phép cộng và phép trừ**  
**(Phiếu 1 buổi 5)**

**Bài 1:** Tính nhanh:

a)  $26 + 17 + 23 + 14$

b)  $46 + 2 + 18 + 54$

c)  $37 - 5 + 37 - 7$

.....  
.....  
.....  
.....  
.....

**Bài 2:** Tìm x, biết:

a)  $x + 63 = 91$

b)  $x - 45 = 45 + 37$

.....  
.....  
.....  
.....

c)  $x + 24 = 49 + 5$

d)  $76 - x = 29$

.....  
.....  
.....  
.....

**Bài 3:** Điền dấu  $> < =$  thích hợp vào chỗ chấm

a)  $x + 32 \dots 41 + x$

b)  $56 - y \dots 45 - y$

c)  $x - 26 \dots x - 21$

**Bài 4:** Tìm một số biết số đó cộng với 45 thì bằng 62

.....

**Bài 5:** Tìm một số biết số đó trừ đi 26 thì bằng 38

.....

**Bài 6:** Đúng ghi Đ sai ghi S vào ô trống:

$25 + 48 = 73$

$76 - 29 = 57$

$57 - 28 = 29$

**Ôn tập về phép cộng và phép trừ  
(Phiếu 2 buổi 5)**

**Bài 1.** Tính:

$83 - 35$

$69 + 25$

$61 - 39$

$52 - 18$

.....

.....

.....

.....

.....

.....

.....

.....

.....

.....

.....

.....

$54 + 36$

$58 + 45$

$78 - 62$

$97 - 34$

.....

.....

.....

.....

.....

.....

.....

.....

.....

.....

.....

.....

**Bài 2.** Điền số thích hợp vào ô trống:

a/  + 15 < 15 + 1

b/  $18 < \square + 16 < 20$

c/  $10 < \square < \square < 13$

**Bài 3.** Cứ 4 cái bánh nóng đóng được một hộp bánh. Hỏi cần có bao nhiêu cái bánh nóng để đóng được 8 hộp bánh

.....
.....
.....

**Bài 4.** Mai cao hơn Hoa 2cm. Bình thấp hơn Mai 3 cm. Hỏi ai cao nhất; ai thấp nhất? Hoa cao hơn Bình mấy xăng ti mét?

.....  
.....  
.....  
.....

**Bài 1** : (2điểm): Tính nhanh

a)  $24 + 35 + 46 - 4 - 5 - 6 =$

b)  $13 - 9 + 18 - 6 + 7 + 4 + 11 - 8 =$

**Bài 2** (1.5điểm): Nam, An, Hưng, Dũng mỗi bạn đều có 8 que tính, các bạn đều muốn chia số que tính của mình thành hai phần khụng ai giống ai. An chọn cách chia làm 2 phần bằng nhau. Em giúp các bạn cũn lại chia số que tính của mình sao cho khụng giống nhau.

**Bài 3.** (2điểm): Năm nay Hưng 8 tuổi, bố Hưng 32 tuổi. Hỏi ba năm sau tổng số tuổi của Bố và Hưng là bao nhiêu ?

Bài giải

**Bài 4.** (1.5điểm): Một hõnh tứ giõc cú 4 cạnh bằng nhau và cú chu vi là 24 cm. Tính cạnh của tứ giõc ấy?

Bài giải:

**Bài 5** (3điểm):

a) Cú một số lượng gạo, nếu thõm 3kg nửa thõ sẽ vừa đủ chia vào 10 tỳi, mỗi tỳi 4kg. Hỏi số lượng gạo đó là bao nhiêu ki-lõ-gam ?

b) Người ta đem chia số kẹo vào các hõp. Nếu đựng vào mỗi hõp 10 vờn thõ được tất cả 5 hõp và cũn thừa 5 vờn. Hỏi số kẹo

Bài giải:

đem chia vào là bao nhiêu vòn ?

Bài giải:

**Bài 1 :** Từ 3 chữ số 3, 5, 6 . Em hãy viết tất cả các số có hai chữ số có thể được

**Bài 2 :** Hãy viết các số có hai chữ số sao cho mỗi số chỉ có 1 chữ số 5

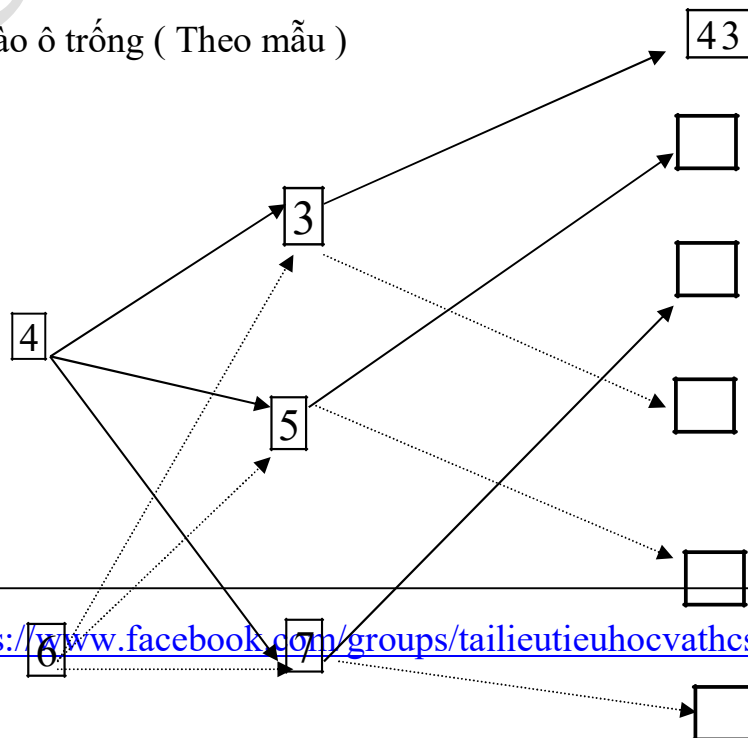
**Bài 3 :** Từ 3 số 4, 7, 9 em hãy viết tất cả các số có hai chữ số khác nhau ( ở mỗi số không có hai chữ số giống nhau )

**Bài 4 :** Số x có bao nhiêu chữ số biết

a) x bé hơn 100

b) x đứng liền sau một số có hai chữ số

**Bài 5 :** Viết số thích hợp vào ô trống ( Theo mẫu )



**Bài 6 :** Tìm x biết

a)  $x + 12 = 46$

b)  $42 + x = 87$

c)  $x + 26 = 12 + 17$

d)  $34 + x = 86 - 21$

**Bài 7 :** Tìm x biết

a)  $x - 17 = 23$

b)  $x - 15 = 21 + 49$

c)  $x - 34 = 67 - 49$

**Bài 8 :** Tìm x biết

a)  $17 - x = 12$

b)  $72 + 12 - x = 48$

c)  $28 + 26 - x = 67 - 39$

**Bài 9 :** Tìm y biết

a)  $y + 56 = 56 - y$

b)  $48 - y = 48 + y$

c)  $9 \bar{x} y = 7 \bar{x} y$

**Bài 10 :** Điền dấu  $<$ ,  $>$ ,  $=$  thích hợp vào chỗ trống ( Với x khác 0 )

a)  $x + 32 \dots\dots\dots 41 + x$

d)  $42 + 21 + x \dots\dots\dots 42 + 21$

b)  $56 - y \dots\dots\dots 45 - y$

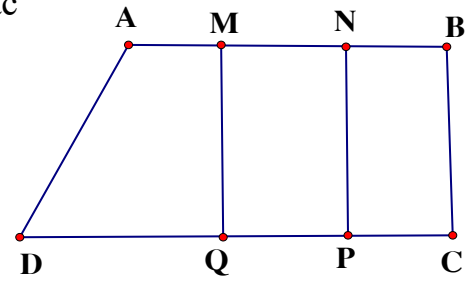
g)  $52 - 47 \dots\dots\dots 52 - 47 - x$

c)  $x - 26 \dots\dots\dots x - 18$

h)  $29 + 42 - x \dots\dots\dots 42 + 29 + x$

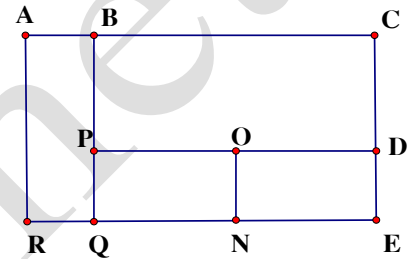
**Bài 11 :** Hình vẽ sau đây có bao nhiêu hình tứ giác , viết tên các hình tứ giác đó

.....  
.....  
.....  
.....



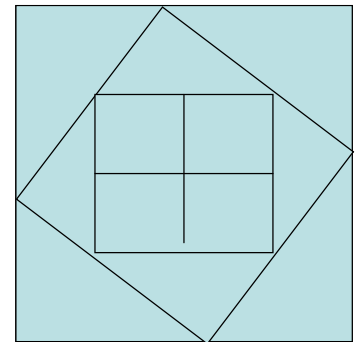
**Bài 12 :** Hình vẽ sau có bao nhiêu hình chữ nhật viết tên các hình chữ nhật đó

.....  
.....  
.....  
.....



**Bài 13 :** Hình vẽ sau có bao nhiêu hình vuông , bao nhiêu hình tam giác

.....  
.....  
.....  
.....



**Bài 14 :** Bao gạo thứ nhất nặng 26 kg , bao gạo thứ 2 nặng hơn bao gạo thứ nhất 15 kg . Hỏi cả hai bao gạo nặng bao nhiêu kg ?

**Bài 15 :** Thùng thứ nhất đựng 32 lít dầu , thùng thứ 2 đựng ít hơn thùng thứ nhất 9 lít dầu . Hỏi cả hai thùng đựng được bao nhiêu lít dầu ?

**Bài 16 :** Một cửa hàng có 68 kg đường . Sau một ngày bán hàng còn lại 18 kg đường . Hỏi cửa hàng đã bán hết bao nhiêu kg đường ?

**Bài 17 :** Một cửa hàng bán được 45 kg gạo trong ngày đầu , còn lại 28 gạo sau ngày thứ nhất . Sau ngày thứ hai còn lại 2 kg gạo . Hỏi lúc ban đầu cửa hàng có bao nhiêu kg gạo ?  
Cả hai ngày cửa hàng đã bán được bao nhiêu kg gạo ?

**Bài 18 :** Có một cân đĩa và hai quả cân loại 1kg và 5 kg . Làm thế nào cân được 4 kg gạo qua một lần cân ?

**Bài 19:** Thứ 5 tuần này là ngày 8 tháng 7 . Hỏi thứ 5 tuần trước là ngày nào ?

**Bài 20 :** Thứ sáu tuần này là ngày 16 tháng 9 . Hỏi thứ 7 tuần sau là ngày nào

**Bài 21 :** Hồng muốn biết sinh nhật của mình 15 tháng 6 là ngày thứ mấy .Bạn Mai lại cho biết ngày 7 tháng 6 là ngày thứ 3. Em hãy giúp bạn Hồng biết ngày sinh nhật của bạn là ngày thứ mấy ?

**Bài 22:** An có 12 viên bi . Bình có nhiều hơn An 9 viên bi . Chung có ít hơn Bình 6 viên bi .  
Hỏi cả ba bạn có bao nhiêu viên bi ?

**Bài 23 :** Bạn An có 9 viên bi . Nếu An cho Bình 4 viên bi thì Bình có 10 viên bi . Hỏi cả hai bạn có bao nhiêu viên bi

**Bài 24 :** Dũng có 1 số bi xanh và đỏ . Biết rằng số bi của Dũng ít hơn 10 viên . Trong đó số bi đỏ hơn số bi xanh 7 viên . Hỏi Dũng có bao nhiêu bi xanh , bao nhiêu bi đỏ?

**Bài 25 :** Lan có 4 bìa xanh và đỏ , số bìa xanh ít hơn số bìa đỏ . Hỏi Lan có bao nhiêu tấm bìa xanh , bao nhiêu tấm bìa đỏ ?

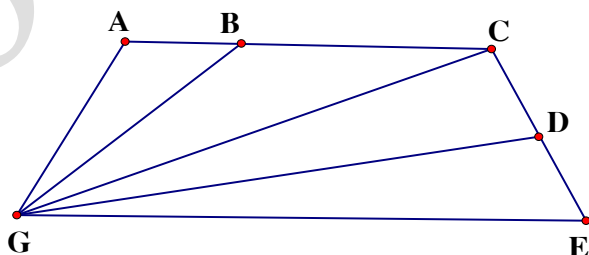
**Bài 26 :** Minh có 18 viên bi , nếu Minh cho Bình 3 viên thì Bình có nhiều hơn Minh 3 viên bi . Hỏi Bình có bao nhiêu viên bi ?

**Bài tập 27 :** Có ba thúng xoài , thúng thứ nhất ít hơn thúng thứ hai 6 quả , thúng thứ ba nhiều hơn thúng thứ hai 5 quả . biết thúng thứ nhất có 12 quả . Hỏi

- a) Thúng nào có nhiều xoài nhất ?
- b) Cả ba thúng có bao nhiêu quả xoài

**Bài 28 :** Hình vẽ sau đây có bao nhiêu đoạn thẳng , bao nhiêu tam giác , bao nhiêu tứ giác , kể tên các hình đó

.....  
.....  
.....  
.....  
.....  
.....  
.....  
.....  
.....  
.....

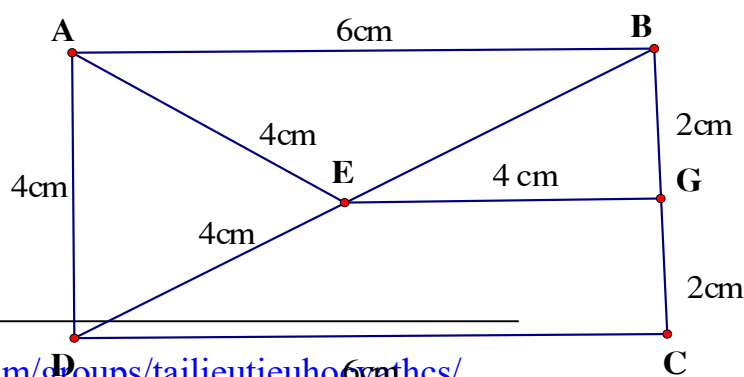


**Bài 29 :** Cho hình vẽ

Chu vi tam giác ACE là :  
.....

Chu vi tam giác AED là :

Chu vi tứ giác ABGE là  
:.....





Chu vi tứ giác DEGC là :.....

Độ dài đường gấp khúc ABCDEG là.....

Độ dài đường gấp khúc AEDCGE là :.....

**Bài 30 :** Điền chữ số thích hợp vào chỗ trống

a) - 
$$\begin{array}{r} \square 3 \\ 5 \square \\ \hline 27 \end{array}$$

b) - 
$$\begin{array}{r} 8 \square \\ \hline 28 \\ \square 6 \end{array}$$

c) - 
$$\begin{array}{r} 75 \\ \square 9 \\ \hline 1 \square \end{array}$$

**Bài 31 :** Điền các số vào ô trống sao cho có đủ các số từ 1 đến 9 sao cho tổng các số trong mỗi hàng, trong mỗi cột đều bằng 15

	9	
3	5	

**Bài 32 :**

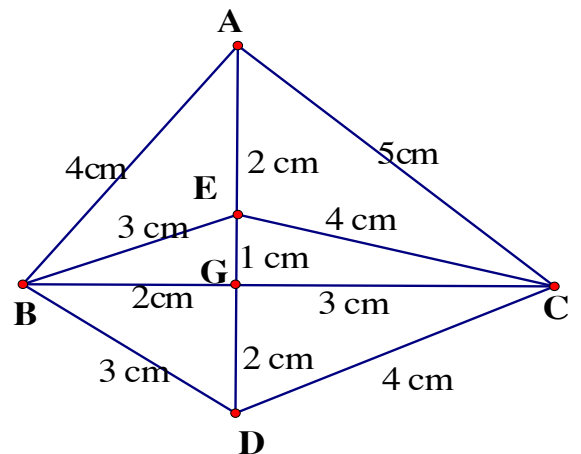
Hình vẽ bên có ..... đoạn thẳng

Kê tên các đoạn thẳng :

.....  
 .....  
 .....  
 .....  
 .....

Hình vẽ bên có .....hình tam giác

Tính chu vi mỗi tam giác

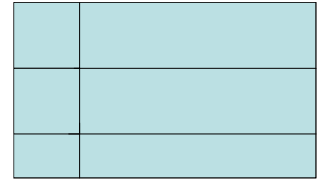


**Bài 33 :**

Hình vẽ dưới đây có ..... tứ giác

Có .....hình chữ nhật

Có .....hình vuông



## Toán bồi dưỡng - lớp 2

**Bài 1 :** Một cửa hàng ngày thứ nhất bán được 66 gói kẹo , ngày thứ nhất bán hơn ngày thứ hai 14 gói kẹo . Hỏi ngày thứ hai cửa hàng bán được bao nhiêu gói kẹo.

**Bài 2 :** Lan có nhiều hơn Huệ 8 bông hoa, Hồng có nhiều hơn Lan 4 bông hoa . Hỏi Hồng có nhiều hơn Huệ bao nhiêu bông hoa?

**Bài 3 :** Khánh có 18 quyển truyện . Nếu Khánh cho Hoà 2 quyển truyện thì Hoà có 19 quyển truyện . Hỏi Khánh và Hoà ai nhiều truyện hơn.

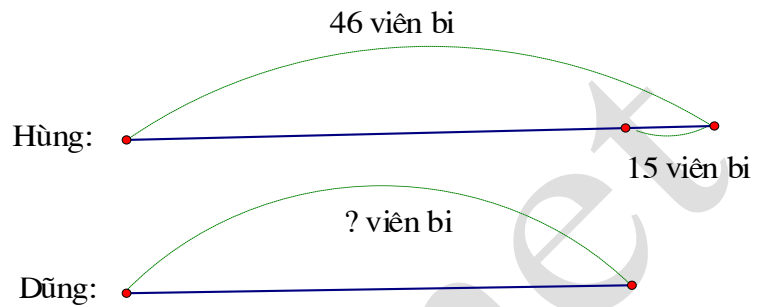
**Bài 4 :** Hộp thứ nhất có 78 viên kẹo , hộp thứ hai có ít hơn hộp thứ nhất 16 viên kẹo . Hỏi cả hai hộp có bao nhiêu viên kẹo?

**Bài 5 :** Có hai đàn vịt , đàn vịt thứ nhất có 95 con , đàn vịt thứ nhất nhiều hơn đàn vịt thứ hai 32 con . Hỏi cả hai đàn vịt có bao nhiêu con?

**Bài 6 :** Đoạn thẳng MN dài 45 cm , đoạn thẳng PQ ngắn hơn đoạn thẳng MN 14 cm . Hỏi đoạn thẳng PQ dài bao nhiêu cm ?

**Bài 7 :** Đặt một đề toán sau rồi giải

Tóm tắt :



---

**Bài 7 :** Một cửa hàng ngày thứ nhất bán được 25 chiếc xe đạp , ngày thứ nhất bán ít hơn ngày thứ hai 8 chiếc xe đạp . Hỏi cả hai ngày cửa hàng bán được bao nhiêu chiếc xe đạp?

**Bài 8 :** Nam có ít hơn Bảo 8 viên bi . Hùng cho Nam thêm 3 viên bi . Hỏi Bảo còn nhiều hơn Nam bao nhiêu viên bi?

**Bài 9 :** Hùng cân nặng 22 kg . Hoàng cân nặng 24 kg . Hậu cân nặng 23 kg . Hỏi

- Bạn nào cân nặng nhất ?
- Hùng và Hoàng cân nặng bao nhiêu kg?
- Cả ba bạn cân nặng bao nhiêu kg?

**Bài 10:** Có 1 cân đĩa , người ta đặt lên đĩa cân thứ nhất 3 kg , đĩa thứ hai đặt túi đường và quả cân 1 kg thì cân thăng bằng . Hỏi túi đường nặng bao nhiêu kg?

**Bài 11 :** Bao gạo và bao đường cân nặng 86 kg . Bao gạo cân nặng 42 kg . Hỏi bao nào nặng hơn và nặng hơn bao kia bao nhiêu kg?

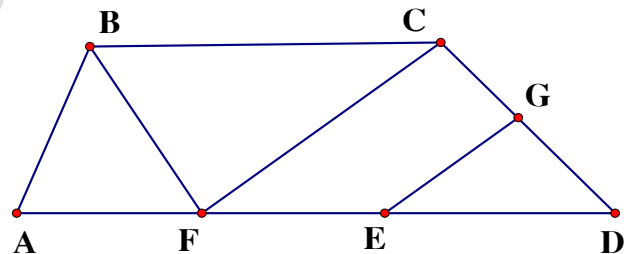
**Bài 12 :** Một thùng nước mắm có 36 lít . Sau khi rót ra bán thùng còn lại 12 lít . Hỏi số mắm đã bán được và số mắm còn lại trong thùng số mắm nào nhiều hơn và nhiều hơn bao nhiêu?

**Bài 13 :** Tìm x biết

$x + 26 = 48 + 52$    b)  $x - 12 = 15 + 37$    c)  $68 - x = 17 - 9$    d)  $15 + 56 - x = 56$

---

**Bài 14 :** Hình vẽ dưới đây có bao nhiêu tam giác , bao nhiêu tứ giác ? Kể tên các tam giác , tứ giác đó

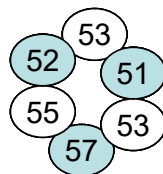


**Bài 15 :** Nối phép tính với các số thích hợp

$32 + 19$

$92 - 38$

$28 + 32$



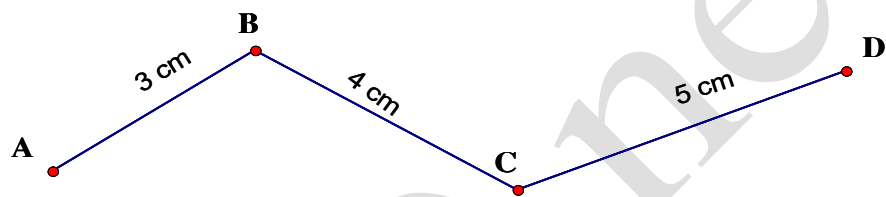
$71 - 48$

$44 + 8$

$80 - 25$

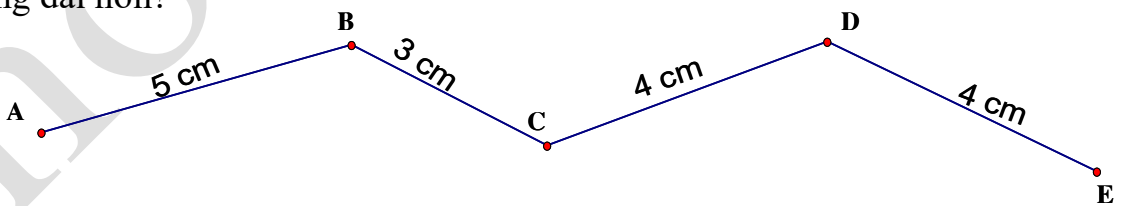
---

**Bài 16 :** Tính độ dài đường gấp khúc ABCD



**Bài 17:** Độ dài đường gấp khúc ABCD có tổng độ dài của hai đoạn thẳng AB và BC bằng 36 cm , đoạn thẳng CD dài 25 cm . Tính độ dài đường gấp khúc ABCD?

**Bài 18 :** Con kiến vàng bò từ A đến C , con kiến đen bò từ C đến E . Hỏi con kiến nào bò được đoạn đường dài hơn?

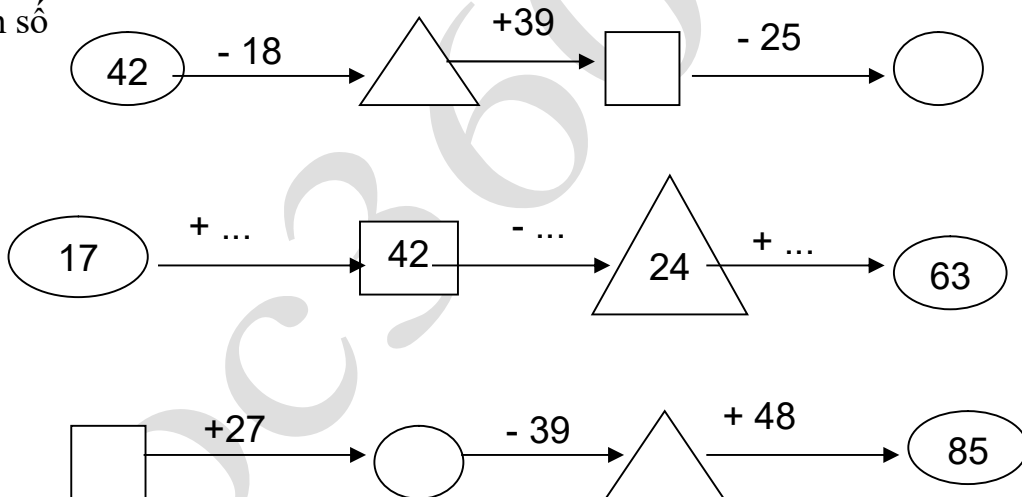


**Bài 19:** Hai đường gấp khúc ABC và MNP có độ dài bằng nhau, đoạn thẳng AB dài hơn đoạn thẳng MN . Hãy so sánh độ dài đoạn thẳng BC và đoạn thẳng NP .

**Bài 20 :** Tam giác ABC có cạnh AB dài 14 cm , cạnh BC dài 18 cm, cạnh CA dài 22 cm .  
Tính chu vi tam giác ABC .

**Bài 21:** Tính chu vi tứ giác MNPQ có độ dài các cạnh lần lượt là 15 cm, 2 dm3cm, 20 cm, 3 dm?

**Bài 23:** Điền số



**Ôn tập toán lớp 2**

**Bài 1 : Tính**

$15 + 67 - 11 =$

$98 - 69 + 7 =$

$82 - 46 + 12 =$

$59 + 17 - 28 =$

**Bài 2 : Đặt tính và tính**

$15 + 7$

$57 + 29$

$87 - 29$

$56 - 47$

$46 + 54$

$100 - 34$

**Bài 3 : Tìm x biết :**

$x + 12 = 71$

$17 + x = 32$

$34 - x = 15$

$x - 34 = 15$

**Bài 4 :** Một cửa hàng ngày thứ nhất bán được 25 thùng sữa , ngày thứ nhất bán ít hơn ngày thứ hai 8 thùng sữa .

Hỏi ngày thứ hai của hàng đó bán được bao nhiêu thùng sữa?

Hỏi cả hai ngày cửa hàng bán được bao nhiêu thùng sữa ?

**Bài 5 :** Trong hình vẽ bên :

Có .....đoạn thẳng

Đó là các đoạn thẳng .....

.....

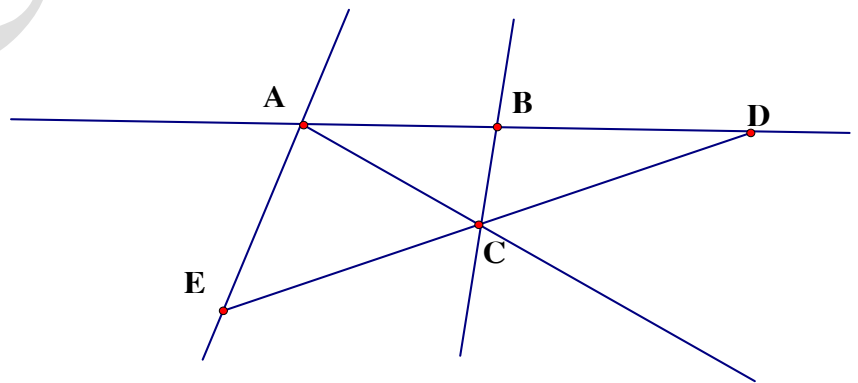
.....

Có .....đường thẳng

Đó là các đường thẳng :.....

.....

Có ba điểm thẳng hàng là :.....



**Bài 1 :** Từ 4 chữ số : 0 ; 1; 2; 3 em hãy viết tất cả các số có hai chữ số khác nhau

**Bài 2 :** Cho số a có hai chữ số

- Nếu chữ số hàng chục bớt đi 2 thì số a giảm đi bao nhiêu đơn vị ?
- Nếu chữ số hàng chục tăng thêm 1 và chữ số hàng đơn vị giảm đi 2 thì số a tăng thêm bao nhiêu đơn vị ?

**Bài 3 :**

- Tìm những số lớn hơn 35 mà chữ số hàng chục của nó bé hơn 4
- Tìm những số có hai chữ số bé hơn 24 mà chữ số hàng đơn vị của nó lớn hơn 4

**Bài 4 :** Viết tất cả những số có hai chữ số mà tổng hai chữ số của nó bằng 12

**Bài 5 :** Viết tất cả những số có hai chữ số mà hiệu hai chữ số của nó 5

**Bài 6 :** Viết các số có hai chữ số biết tổng hai chữ số của nó bằng số lớn nhất có 1 chữ số và hiệu hai chữ số của nó bằng 3 .

**Bài 7 :** Hai số có hiệu bằng 14 , nếu thêm vào số trừ 3 đơn vị và giữ nguyên số bị trừ thì hiệu mới bằng bao nhiêu ?

**Bài 8 :** Tổng của hai số sẽ thay đổi như thế nào nếu mỗi số hạng cùng tăng thêm 25 đơn vị ?

**Bài 9 :** Tìm 1 số biết số lớn nhất có hai chữ số trừ đi số đó thì được kết quả là 35 ?

**Bài 10 :** Số 45 thay đổi như thế nào nếu :

- Xoá bỏ chữ số 5
- Thay đổi vị trí chữ số 4 và chữ số 5
- Tăng chữ số hàng chục thêm 2