

Câu 3: Tính (2 điểm)

a. $3 \times 6 + 41$

c. $45 : 5 - 5$

b. $4 \times 7 - 16$

d. $16 : 2 + 37$

Câu 4: (2 điểm)

Nhà bác Hùng thu hoạch được 259 kg mận. Nhà bác Thoại thu hoạch nhiều hơn nhà bác Hùng 140 kg. Hỏi nhà bác Thoại thu hoạch được bao nhiêu ki-lô-gam mận?

Câu 5: Tìm X (1 điểm)

a. $x : 4 = 5$

b. $3 \times x = 24$

Đề kiểm tra học kì 2 môn Toán lớp 2 - Đề 2

Phần 1: Trắc nghiệm (4 điểm)

Khoanh tròn vào chữ cái đặt trước đáp án đúng.

Câu 1: (1 điểm) Trong các số sau: 345, 235, 354, 253. Số lớn nhất là

- A. 354 B. 253 C. 345 D. 235

Câu 2: (1 điểm) Dãy tính $4 \times 5 - 2$ có kết quả là:

- A. 22 B. 20 C. 12 D. 18

Câu 3: (1 điểm) Thứ năm tuần này là ngày 10 tháng 5. Hỏi thứ năm tuần sau là ngày bao nhiêu tháng 5?

- A. 9 B. 17 C. 3

Câu 4: (0.5 điểm) Khoanh vào chữ đặt trước câu trả lời đúng:

- A. 2 hình tam giác và 2 hình tứ giác
B. 2 hình tam giác và 3 hình tứ giác
C. 2 hình tam giác và 4 hình tứ giác



Câu 5: (0.5 điểm) Tìm X biết: $X : 2 = 10$

- A. $X = 5$ B. $X = 8$ C. $X = 20$

II. Phần tự luận (6 điểm)

Câu 1: Đặt tính rồi tính (2 điểm)

a. $342 + 254$

b. $789 - 436$

c. $68 + 17$

d. $92 - 46$

.....
.....
.....
.....
.....

Câu 2: Tính (1 điểm)

a. $3 \times 8 - 12$

b. $36 : 4 + 81$

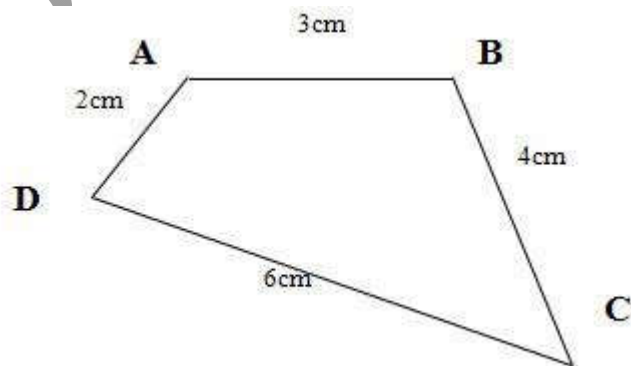
.....
.....
.....
.....
.....

Câu 3: (1 điểm)

Mỗi bạn cắt được 3 ngôi sao. Hỏi 6 bạn cắt được tất cả bao nhiêu ngôi sao?

.....
.....
.....

Câu 4: (1 điểm) Cho hình tứ giác ABCD như hình vẽ:



Tính chu vi của hình tứ giác ABCD ?

.....

.....
.....
.....
Câu 5: (1 điểm) Điền số còn thiếu vào chỗ chấm.

a) 211, 212,,,, 216.

b) 420, 430,,,, 470.

hoc360.net

Đề kiểm tra học kì 2 môn Toán lớp 2 - Đề 3

I. Phần trắc nghiệm (2 điểm)

Câu 1: Số liền sau của số 499 là:

- A. 497 B. 498 C. 500

Câu 2: Chọn dấu thích hợp vào chỗ chấm: $563 \dots 537$

A. >

B. <

C. =

Câu 3: Giá trị của biểu thức $20 : 2 - 5$ là:

- A. 7 B. 4 C. 5

Câu 4: Giá trị của x trong biểu thức $x \times 3 = 12$ là:

- A. 6 B. 4 C. 5

II. Phần tự luận (8 điểm)

Câu 1: (2 điểm) Đặt tính rồi tính:

a. $538 + 141$

c. $48 + 37$

b. $846 - 734$

d. $92 - 19$

.....

.....

.....

.....

.....

.....

Câu 2: (2 điểm) Điền số thích hợp vào chỗ chấm:

a. $1\text{m} = \dots\dots\text{dm}$

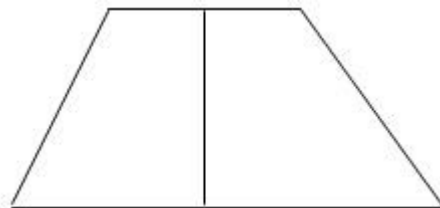
c. $1\text{m} = \dots\dots\text{cm}$

b. $100\text{cm} = \dots\dots\text{m}$

d. $10\text{dm} = \dots\dots\text{m}$

Câu 3: (1 điểm) Điền số thích hợp vào chỗ chấm:

Số hình tứ giác trong hình dưới đây là ... hình.



Câu 4: (1 điểm) Tính chu vi tam giác ABC biết độ dài các cạnh là: $AB = 20\text{cm}$, $BC = 30\text{ cm}$, $CA = 40\text{cm}$.

.....
.....
.....

Câu 5: (2 điểm) Đội một trồng được 350 cây, đội hai trồng được nhiều hơn đội một 120 cây. Hỏi đội hai trồng được bao nhiêu cây ?

.....
.....
.....

Đề kiểm tra học kì 2 môn Toán lớp 2 - Đề 4

I. Phần trắc nghiệm: (6 điểm)

Khoanh tròn vào chữ cái có câu trả lời đúng nhất:

Câu 1: (1 điểm) Số lớn nhất trong các số: 989; 199; 879; 950 là:

A. 989 B. 199 C. 879 D. 950

Câu 2: (1 điểm) Kết quả của phép tính: $243 + 716 = ?$

A. 969 B. 959 C. 559. D. 569

Câu 3: (1 điểm) Số bị chia và số chia lần lượt là 36 và 4. Vậy thương là:

A. 40 B. 32 C. 9 D. 8

Câu 4: (1 điểm) Số liền sau của số lớn nhất có ba chữ số là:

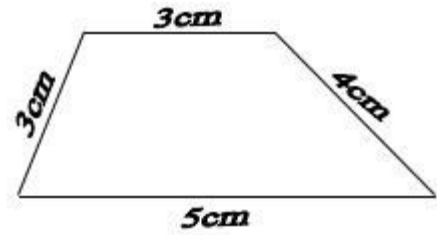
A. 100 B. 111 C. 999 D. 1000

Câu 5: (1 điểm) $1\text{km} = \dots\text{m}$?

A. 10m B. 20m C. 100m D. 1000m

Câu 6: (1 điểm) Hình tứ giác bên có chu vi là:

- A. 15cm B. 10cm
C. 11cm D. 12cm



II. Phần tự luận: (4 điểm)

Câu 1: (2 điểm) Đặt tính rồi tính:

a. $532 + 245$

.....
.....

b. $351 + 46$

.....
.....

c. $972 - 430$

.....
.....

d. $589 - 35$

.....
.....

Câu 2: (2 điểm). Lớp em có 32 bạn, cô giáo chia đều thành 4 tổ. Hỏi mỗi tổ có bao nhiêu bạn ?

.....
.....
.....
.....
.....
.....
.....
.....
.....

ĐỀ KIỂM TRA HỌC KÌ 2 MÔN TOÁN LỚP 2 - ĐỀ 5

I. TRẮC NGHIỆM (3 điểm)

Khoanh tròn kết quả đúng nhất.

Câu 1: Tính: $32 : 4 = ?$

- A. 7 B. 8 C. 9 D. 10

Câu 2: Tìm x biết: $4 \times x = 36$

A. $x = 8$

C. $x = 9$

B. $x = 7$

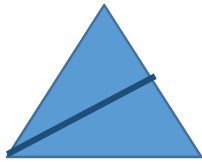
D. $x = 6$

Câu 3: Viết “giờ” hoặc “phút” vào chỗ chấm thích hợp:


a. Mỗi trận thi đấu bóng đá kéo dài trong 90

b. Buổi sáng, em thức dậy lúc 6


Câu 4: Khoanh vào chữ đặt dưới hình đã tô màu $\frac{1}{3}$



A

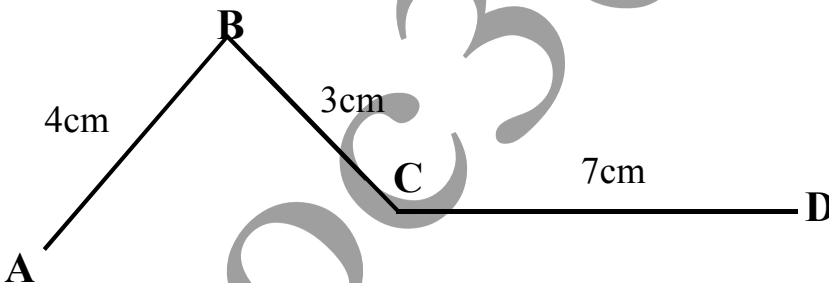


B



C

Câu 5: Độ dài đường gấp khúc ABCD là ...



A. 10cm

B. 16cm

C. 17cm

D. 14 cm

Câu 6: Có 25 quyển vở chia đều cho 5 bạn. Hỏi mỗi bạn có mấy quyển vở?

A. 5

B. 6

C. 4

D. 3

II. TỰ LUẬN (7điểm).

Câu 1. Tính nhẩm: (1 điểm)

$6 \times 4 = \dots$

$27 : 3 = \dots$

$6 \times 3 = \dots$

$28 : 4 = \dots$

Câu 2. Tìm x: (1 điểm)

a. $x \times 5 = 35$

.....
.....

b. $x : 4 = 8$

.....
.....

Câu 3: Tính (1 điểm)

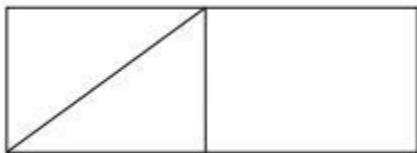
a. $37 + 25$

b. $30 + 16$

.....
.....
.....
.....
.....
.....

Câu 4: Điền vào chỗ chấm: Hình vẽ dưới đây có: (1 điểm)

- a. ... hình tam giác.
- b. ... hình tứ giác.



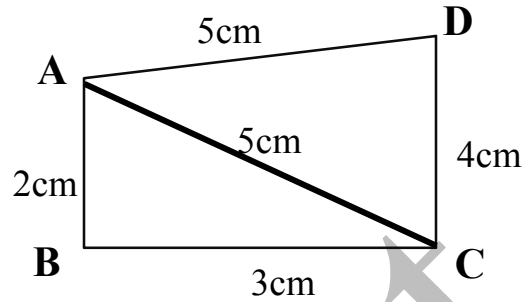
Câu 5: Có 30 bông hoa cắm vào các bình, mỗi bình có 5 bông hoa. Hỏi cắm được tất cả mấy bình? (1 điểm)

Câu giải

.....
.....
.....
.....
.....
.....

Câu 6: Cho hình như hình vẽ (2 điểm)

- Tính chu vi của hình tam giác ABC ?
- Tính chu vi của hình tứ giác ABCD ?



.....

.....

.....

.....

.....

.....

Đề kiểm tra học kì 2 môn Toán lớp 2 - Đề 6

I. Phần trắc nghiệm (3 điểm)

Khoanh tròn vào chữ cái đặt trước câu trả lời đúng.

Câu 1: Số 575 đọc là:

- Năm trăm bảy mươi năm
- Năm trăm năm mươi năm
- Năm trăm linh năm

Câu 2: Một phép nhân có tích là 21, thừa số thứ nhất là 3, thừa số thứ hai là:

- A. 24 B. 18 C. 7

Câu 3: Một tam giác có 3 cạnh bằng nhau, độ dài mỗi cạnh của tam giác đó là 6cm. Chu vi của tam giác đó là:

- A. 9cm B. 18cm C. 24 cm

Câu 4: Cách chuyển tổng thành tích nào không đúng?

A. $4 + 4 + 4 = 4 \times 4$

B. $5 + 5 + 5 + 5 = 5 \times 4$

C. $6 + 6 + 6 = 6 \times 3$

Câu 5: Tìm $\frac{1}{4}$ của 16 kg =kg ?

A. 8

B. 4

C. 2

D. 16

Câu 6: Tìm 5m =dm ?

A. 5

B. 10

C. 50

D. 100

II. Phần tự luận (7 điểm)

Câu 1: (2,5 điểm)

a) Đặt tính rồi tính (1,5 điểm)

$57 + 25$

$93 - 48$

$876 - 345$

.....

.....

.....

b) Tính (1 điểm)

$4 \times 9 + 6$

$35 : 5 \times 3$

.....

.....

.....

.....

Câu 2: (1,5 điểm) Tìm x:

a. $x + 45 = 100$

b. $x : 4 = 18 : 3$

.....

.....

.....

.....

.....

.....

Câu 3: (1,5 điểm) Anh cao 167 cm, em thấp hơn anh 32cm. Hỏi em cao bao nhiêu xăng-ti-mét?

.....

.....

.....

.....

.....

.....

.....
Câu 4: (1,5 điểm) Có 32 học sinh chia đều thành 4 nhóm. Hỏi mỗi nhóm có mấy học sinh?
.....
.....
.....
.....
.....
.....
.....
.....
.....
.....

Đề kiểm tra học kì 2 môn Toán lớp 2 - Đề 7

Bài 1. Viết câu trả lời đúng vào chỗ chấm (2 điểm)

- a) Số 605 đọc là:
- b) Số một trăm hai mươi chín được viết là:
- c) Ngày 19/5/2014 vào ngày thứ hai. Vậy ngày 27/5/2014 là vào thứ.....
- d) Chữ số 5 trong số 358 có giá trị là:.....

Bài 2. Điền số thích hợp vào chỗ chấm : (1 điểm)

- a) $1\text{ m} = \dots\dots\dots\text{dm}$; $100\text{ cm} = \dots\dots\dots\text{m}$
- b) 300, 310, 320,....., 340,,, 370,, 390, 400

Bài 3. Đặt tính rồi tính. (2 điểm)

$52 - 36$ $37 + 55$ $363 + 505$ $967 - 207$

.....
.....
.....

Bài 4. Tính: (2 điểm)

$$3 \times 6 + 57$$

$$425 + 342 - 134$$

.....

.....

.....

Bài 5: (2 điểm):

Một lớp học có 36 học sinh, cô giáo chia đều lớp thành 4 tổ. Hỏi mỗi tổ có bao nhiêu học sinh?

.....

.....

.....

.....

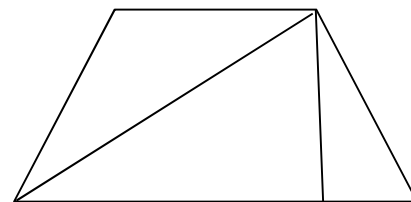
Bài 6: (1 điểm): Trong hình bên:

a) Có bao nhiêu hình tam giác?

.....

b) Có bao nhiêu hình tứ giác?

.....



ĐỀ KIỂM TRA HỌC KÌ 2 MÔN TOÁN LỚP 2 - ĐỀ 8

Phần I: Trắc nghiệm (3 điểm)

Câu 1: Tìm một số biết rằng lấy 35 cộng với số đó thì có kết quả bằng 35 trừ đi số đó.

- A. 0 B. 35 C. 70 D. 1

Câu 2: 7 giờ tối còn gọi là:

- A. 17 giờ B. 21 giờ C. 19 giờ D. 15 giờ

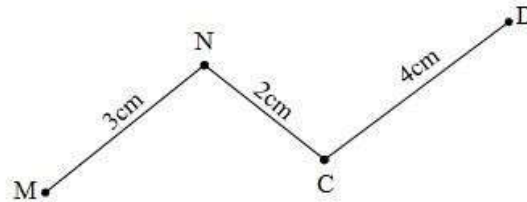
Câu 3: Số bé nhất có 3 chữ số khác nhau là:

- A. 100 B. 101 C. 102 D. 111

Câu 4: $5\text{m } 5\text{dm} = \dots$ Số điền vào chỗ chấm là:

- A. 55m B. 55 dm C. 505dm D. 10 dm

Câu 5: Tính độ dài đường gấp khúc sau:



- A. 8 cm B. 12 cm C. 10 cm D. 9 cm

Câu 6: Nếu thứ 6 tuần này là 26 thì thứ 5 tuần trước là:

- A. 18 B. 17 C. 19 D. 20

Phần II: Tự luận

Câu 1: Đặt tính rồi tính:

$$234 + 565$$

$$67 + 9$$

$$899 - 384$$

$$42 - 19$$

.....

.....

.....

.....

Câu 2: a) Viết các số: 372, 380, 394, 369 theo thứ tự lớn đến bé là:

.....
.....
.....
.....

b) Viết các số: 376, 960, 736, 690 theo thứ tự từ bé đến lớn là:

.....
.....
.....
.....

Câu 3: Tìm x

a, $x + 34 = 81$

b, $x - 28 = 45$

.....
.....

c, $x : 3 = 5$

d, $x \times 4 = 32$

.....
.....

Câu 4: Bể nước thứ nhất chứa 865 lít nước. Bể nước thứ hai chứa ít hơn bể thứ nhất 300 lít. Hỏi bể thứ hai chứa bao nhiêu lít nước?

.....
.....
.....
.....
.....
.....

ĐỀ KIỂM TRA HỌC KÌ 2 MÔN TOÁN LỚP 2 - ĐỀ 9

Phần I: Trắc nghiệm (3 điểm)

Câu 1: Số lớn nhất có ba chữ số là:

- A. 998 B. 999 C. 978 D. 987

Câu 2: Hình vuông ABCD có cạnh $AB = 5\text{cm}$. Chu vi hình vuông là:

- A. 15 cm B. 20 cm C. 25 cm D. 30 cm

Câu 3: $81 - x = 28$, x có giá trị bằng bao nhiêu?

- A. 53 B. 89 C. 98 D. 43

Câu 4: $17 + 15 - 10 = \dots$. Số điền vào chỗ chấm là:

- A. 32 B. 22 C. 30 D. 12

Câu 5: Cho dãy số : 7; 11; 15; 19;số tiếp theo điền vào chỗ chấm là:

- A. 22 B. 34 C. 33 D. 23

Câu 6: Mỗi ô tô có 4 bánh xe. Hỏi 3 ô tô như vậy có bao nhiêu bánh xe?

- A. 9 bánh xe B. 10 bánh xe C. 12 bánh xe D. 11 bánh xe

Phần II: Tự luận (7 điểm)

Câu 1: (2 điểm) Đặt tính rồi tính:

$$532 + 245$$

$$351 + 46$$

$$972 - 430$$

$$589 - 35$$

.....

.....

.....

.....

.....

.....

.....

.....

.....

.....

.....

.....

Câu 2: (2 điểm) Tìm x

a, $56 + x = 89$

b, $5 \times x = 35$

c, $28 : x = 4$

d, $x - 12 = 60$

.....

.....

.....

.....

.....

.....

.....

.....

.....

.....

Câu 3: (2 điểm) Một cửa hàng có 60 chiếc áo. Sau khi bán cửa hàng còn lại 24 chiếc áo. Hỏi cửa hàng đã bán bao nhiêu chiếc áo?

.....

.....

.....

.....

.....

.....

.....

Câu 4: (1 điểm) Tìm 2 số có tích bằng 9 và hiệu bằng 0?

.....

.....

.....

.....

.....

.....

.....

Đề kiểm tra học kì 2 môn Toán lớp 2 - Đề 10

I. Phần trắc nghiệm (3 điểm)

Hãy khoanh tròn vào chữ cái trước câu trả lời đúng cho mỗi bài tập dưới đây:

Câu 1. Số liền trước của số 525 là:

- A. 524 B. 526 C. 523

Câu 2. Kết quả của phép cộng: $372 + 225$

- A. 597 B. 596 C. 595

Câu 3. Kết quả của phép nhân: 4×7 là:

- A. 26 B. 27 C. 28

Câu 4. Kết quả của phép chia: $45 : 9$ là:

- A. 3 B. 5 C. 4

Câu 5. Kết quả đổi đơn vị đo sau. $1\text{km} = \dots\dots\text{m}$

A. 800 m

B. 900m

C. 1000m

Câu 6. Chu vi hình tam giác biết độ dài mỗi cạnh của hình tam giác đó đều bằng 6 cm:

A. 16cm

B. 17cm

C. 18 cm

II. Phần tự luận (7 điểm)

Câu 1: Đặt tính rồi tính: (2 điểm)

$532 + 425$

$451 + 46$

$772 - 430$

$386 - 35$

.....
.....
.....
.....
.....
.....
.....

Câu 2: Tìm x (1 điểm):

a. $x : 5 = 4$

b. $3 \times x = 18$

.....
.....
.....
.....

Câu 3: (3 điểm) Đội một trồng được 350 cây, đội hai trồng được nhiều hơn đội một 102 cây. Hỏi hai đội trồng được bao nhiêu cây?

.....
.....
.....
.....
.....

Câu 4: (1 điểm) Lớp em có 21 bạn, xếp đều thành 3 hàng. Hỏi mỗi hàng có bao nhiêu bạn?

.....

.....

.....

.....

.....

.....

.....

hoc360.net