













BÀI 6 - BIỂU ĐỒ. LUYỆN TẬP CHUNG

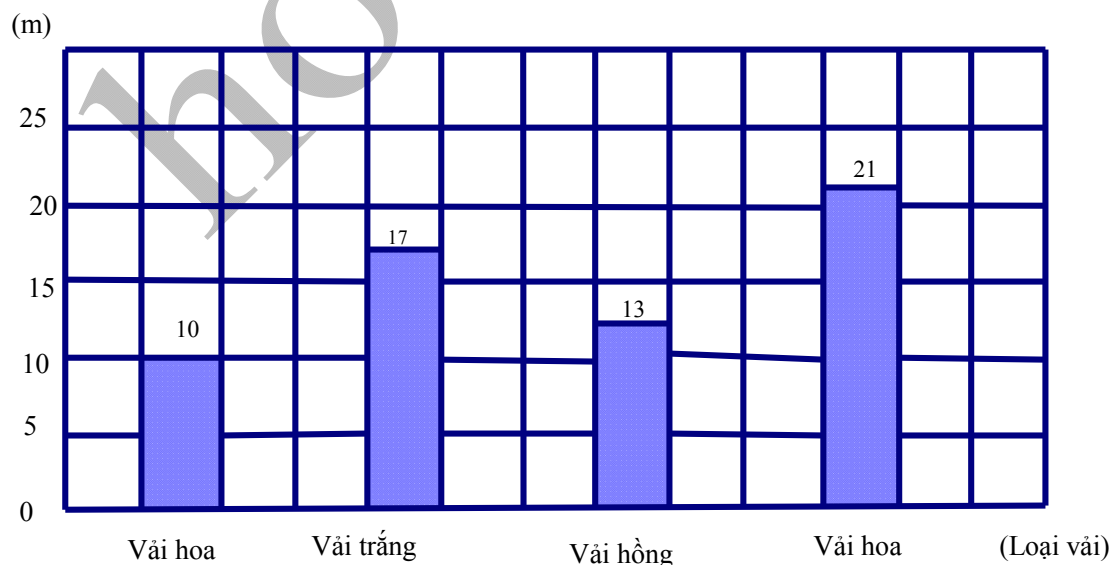
Bài 1: Dựa vào biểu đồ dưới đây, viết tiếp vào chỗ chấm cho thích hợp:

CÁC HÌNH CỦA BỐN BẠN ĐÃ VẼ ĐƯỢC

Cúc			
Mai			
Đào			
Hồng			

- Bạn Cúc vẽ được ... hình. Trong đó có: ... hình tam giác, ... hình vuông, ... hình tròn.
- Bạn Mai vẽ được ... hình. Trong đó có: ... hình tam giác, ... hình vuông, ... hình tròn.
- Cả bốn bạn vẽ được ... hình. Trong đó bạn vẽ được nhiều hình nhất, bạn vẽ được ít hình nhất.

Bài 2: Biểu đồ dưới đây nói về số mét vải của một cửa hàng đã bán được trong một ngày:



Dựa vào biểu đồ trên, viết tiếp vào chỗ chấm cho thích hợp:

a) Số mét vải mỗi loại cửa hàng đã bán được là:

Vải xanh: ... m; vải trắng: ... m; vải hồng: ... m; vải hoa: ... m.

b) Số mét vải mỗi loại cửa hàng đã bán được viết theo thứ tự từ bé đến lớn là:

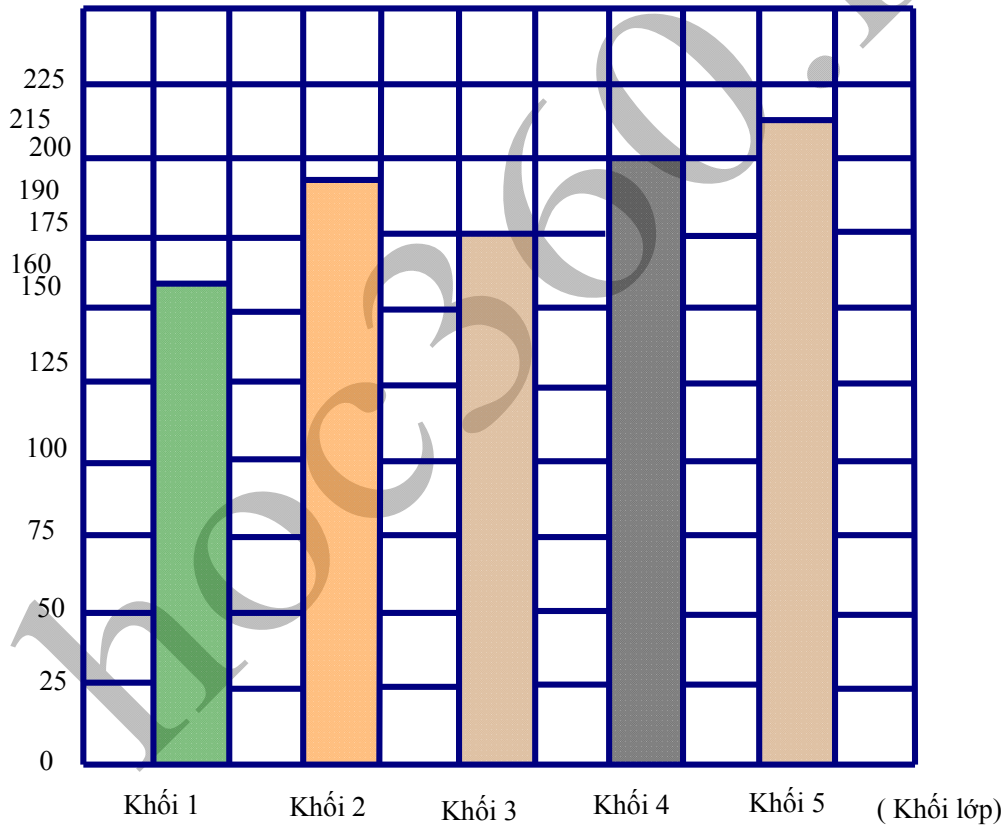
.....

c) Trong một ngày cửa hàng đã bán được tổng số mét vải là:

.....

Bài 3: Biểu đồ dưới đây nói về số học sinh của các khối lớp ở một trường tiểu học :

(Học sinh)



Dựa vào biểu đồ trên, viết tiếp vào chỗ chấm cho thích hợp:

a) Số học sinh của các khối lớp là:

Khối 1:học sinh; Khối 2:học sinh; Khối 3:học sinh;

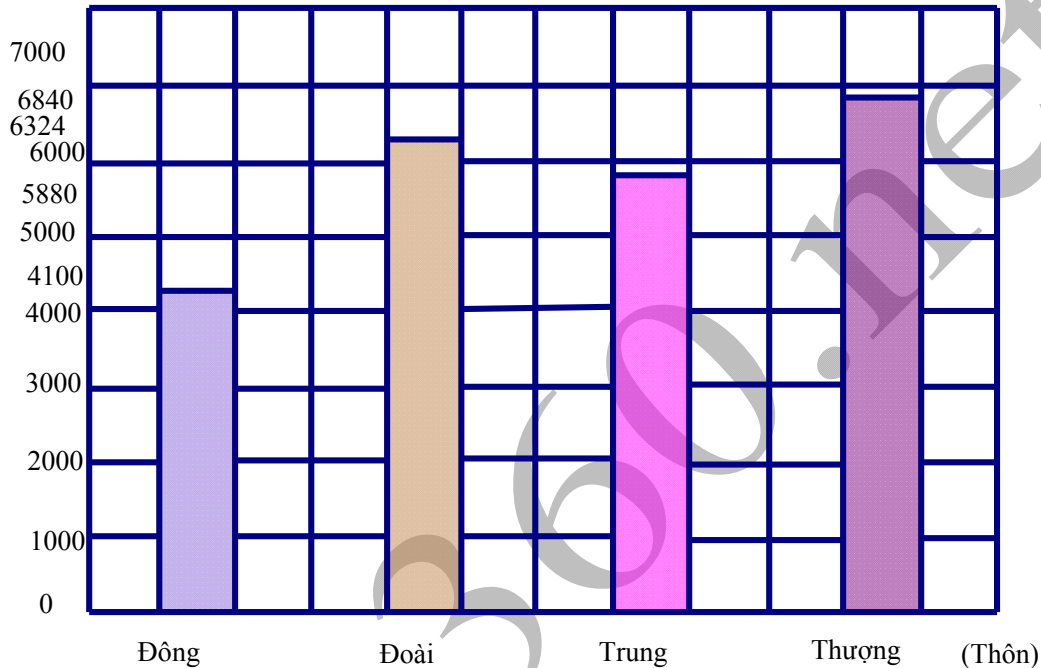
Khối 4:học sinh; Khối 5:.....học sinh.

b) Trung bình mỗi khối lớp có số học sinh là:

.....

Bài 4: Biểu đồ dưới đây nói về số người ở bốn thôn Đông, Đoài, Trung, Thượng

(Số người)



Dựa vào biểu đồ trên, viết tiếp vào chỗ chấm cho thích hợp:

a) Thôn.....có số người nhiều nhất.

Thôncó số người ít nhất.

b) Số người ở thôn Trung nhiều hơn của thôn Đông là người nhưng lại ít hơn của thôn Thượng là

c) Tên bốn thôn trên xếp theo thứ tự có số người từ bé đến lớn là:.....

.....

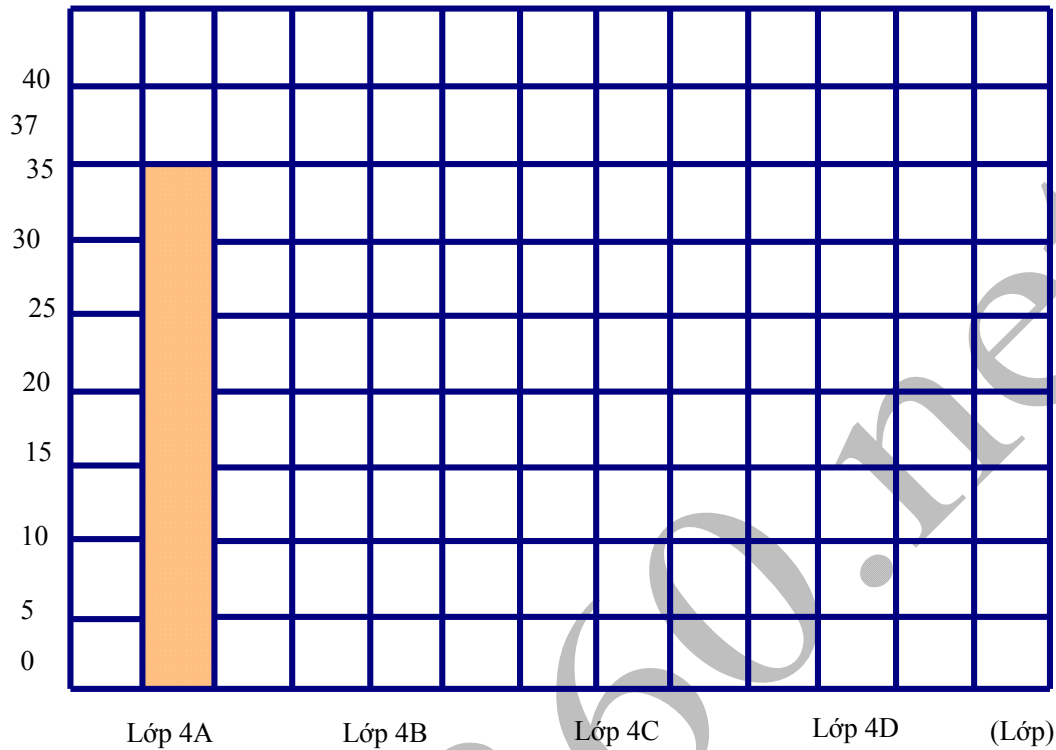
Bài 5: Trong một năm, khối lớp 4 của một trường tiểu học đã trồng được số cây như sau:

Lớp 4A: 35 cây; Lớp 4B: 30 cây; Lớp 4C: 37 cây; Lớp 4D: 40 cây.

Group: <https://www.facebook.com/groups/tailieutiuhocvathcs/>

Hãy vẽ tiếp vào biểu đồ dưới đây (theo mẫu):

(Cây)



Bài 6:

>
<
=

?

7 432 265 ... 7 432 256

3 tấn 305 kg ... 3350kg

68 754 186 ... 69 754 186

5kg 4g ... 5004g

20 000 000 ... 40000000:2

1 phút 30 giây ... 1 phút rưỡi

Bài 7:

a) Viết số thích hợp vào chỗ chấm:

- Số lớn nhất có sáu chữ số và có tổng các chữ số bằng 20 là:

- Số bé nhất có sáu chữ số và có tổng các chữ số bằng 20 là:

b) Khoanh vào chữ đặt trước câu trả lời đúng:

Giá trị của chữ số 7 trong số 475 308 là:

A. 70

B. 700

C. 7000

D. 70 000.

Bài 8: Trung bình cộng của hai số là 138. Tìm hai số đó, biết rằng số lớn hơn số bé là 16 đơn vị.

Bài giải

.....

.....

.....

.....

.....

.....

.....

.....

.....

.....

.....

Bài 9: Trung bình cộng của ba số là 28. Số thứ nhất gấp hai lần số thứ hai, số thứ hai gấp đôi số thứ ba. Tìm ba số đó.

Bài giải

.....

.....

.....

.....

.....

.....

.....

.....

.....

.....

.....

Truy cập Website: hoc360.net – Tải tài liệu học tập miễn phí

.....
.....
Bài 10: Viết tiếp vào chỗ chấm:

Trung bình cộng của hai số là 37. Nếu một số tăng 15 đơn vị thì tổng mới của hai số là:

.....

hoc360.net

Group: <https://www.facebook.com/groups/tailieutihocvathcs/>