

Tuần 1

Bài 1: Điền dấu (< ; > ; =) thích hợp vào chỗ chấm

23476.....32467

5688.....45388

9087.....8907

3489034890

120831208

93021.....9999

Bài 2: Một nhà máy trong 4 ngày sản xuất được 680 ti vi. Hỏi trong 7 ngày nhà máy đó sản xuất được bao nhiêu chiếc ti vi, biết số ti vi mỗi ngày sản xuất như nhau .

.....

.....

.....

Bài 3: Số ba mươi nghìn không trăm linh bảy viết là :

A. 300 007

B. 30 007

C. 3 007

D . 30 070

Bài 4 : Số lớn nhất gồm 5 chữ số khác nhau là :

A. 99 999

B. 98756

C. 98765

D. 99 995

Phần dùng để sửa bài làm sai ở trên

.....

.....

.....

.....

.....

.....

Tuần 2

Bài 1: Viết các số sau:

a. Mười lăm nghìn:.....

b. Bảy trăm năm mươi:.....

c. Bốn triệu:.....

d. Một nghìn bốn trăm linh năm:.....

Bài 2: Trong các số sau 67382; 37682; 62837; 62783; 286730 số nào lớn nhất là :

A. 67382

B. 62837

C. 286730

D. 62783

Bài 3: Số liền sau số 999 999 là :

A. 1 triệu

B. 10 triệu

C. 1 tỉ

D. 100 triệu

Bài 4: Viết số gồm : 7 triệu, 7 trăm triệu, 7 nghìn, 7 đơn vị :.....

Phần dùng để sửa bài làm sai ở trên

.....

.....

.....

.....

.....

.....

Tuần 3

Bài 1: Viết số thích hợp vào chỗ chấm

a. 675; 676; ;;.....;.....;681.

b. 100;.....;.....;.....; 108; 110.

Bài 2: Viết số gồm :

a. 2 trăm nghìn, 5 trăm, 3 chục, 9 đơn vị:.....

b. 5 nghìn, 8 chục, 3 đơn vị :.....

c. 9 trăm nghìn, 4 nghìn, 6 trăm 3 chục:.....

Bài 3: Dãy số tự nhiên là :

A. 1, 2, 3, 4, 5,...

B. 0, 1, 2, 3, 4, 5,.....

C. 0, 1, 2, 3, 4, 5.

D. 0, 1, 3, 4, 5,....

Bài 4: Tìm x với : x là số tròn chục, $91 > x > 68$; x=.....

Phần dùng để sửa bài làm sai ở trên

.....

.....

.....

.....

.....

.....

Tuần 4

Bài 1: Viết số thích hợp vào chỗ chấm .

a. 50 dag =hg

4 kg 300g =..... g

b. 4 tấn 3 kg =kg

5 tạ 7 kg =kg

c. 82 giây =phútgiây

1005 g =kgg

Bài 2 : 152 phút =giờphút . Số cần điền là :

A. 15 giờ 2 phút B. 1 giờ 52 phút C. 2 giờ 32 phút D. 1 giờ 32 phút

Bài 3: 8 hộp bút chì như nhau có 96 chiếc bút chì. Hỏi 5 hộp như thế có số bút chì là :

A. 12 bút chì B. 60 bút chì C . 17 bút chì D. 40 bút chì

Bài 4 : Có 5 gói bánh mỗi gói nặng 200g và 4 gói kẹo mỗi gói nặng 250g . Hỏi tất cả có bao nhiêu kilôgam bánh kẹo ?

.....

.....

.....

.....

Phần dùng để sửa bài làm sai ở trên

.....

.....

.....

.....

.....

.....

Tuần 5

Bài 1: Viết số thích hợp vào chỗ chấm:

- a) 3 ngày =giờ 5 giờ = phút
b) 3giờ 10 phút =phút 2 phút 5 giây = giây

Bài 2: Một tổ có 5 HS có số đo lần lượt là: 138cm, 134cm,128cm, 135cm, 130cm .

Hỏi trung bình số đo chiều cao của mỗi học sinh là bao nhiêu?

.....
.....
.....

Bài 3: Trong các số: 5 647 532; 7 685 421; 8 000 000; 11 048 502; 4 785 367; 7 071 071 thì số bé nhất là:

- A. 5 647 532 B. 4 785 367 C. 11 048 502 D. 8 000 000

Bài 4: Can thứ nhất đựng 12 lít nước . Can thứ hai đựng 16 lít nước . Hỏi can thứ ba đựng bao nhiêu lít nước ? Biết trung bình mỗi can đựng 15 lít nước.

.....
.....
.....
.....

Phần dùng để sửa bài làm sai ở trên

.....
.....
.....
.....
.....
.....

Tuần 6

Bài 1: Đặt tính rồi tính:

- a) $2547 + 7241$ b) $3917 - 2567$ c) $2968 + 6524$ d) $3456 - 1234$

.....

.....

.....

Bài 2 : Nếu $a = 6$ thì giá trị của biểu thức $7543 \times a$ là

- A. 45248 B. 45058 C. 45258 D. 42358

Bài 3: Một trường có 315 học sinh nữ, số học sinh nam ít hơn số học sinh nữ 28 bạn. Hỏi trường đó có bao nhiêu học sinh ?

.....

.....

.....

Bài 4 : Tính tổng của số bé nhất có 8 chữ số và số lớn nhất có 7 chữ số .

Số bé nhất có 8 chữ số là:..... ; Số lớn nhất có 7 chữ số là:.....

Tổng của hai số đó là:.....

Phần dùng để sửa bài làm sai ở trên

.....

.....

.....

.....

.....

.....

Tuần 7

Bài 1: Nếu $a = 47685$; $b = 5784$ thì giá trị biểu thức $a + b$ là :

- A. 53269 B. 53469 C. 53479 D. 53569

Bài 2: Cho biết $m = 10$; $n = 5$; $p = 2$, tính giá trị của biểu thức:

a) $m + n + p =$

b) $m + n - p =$

c) $m + n \times p =$

Bài 3: Một hình chữ nhật có số đo chiều dài là 16 cm, chiều rộng là 12 cm. Hỏi chu vi hình chữ nhật đó là bao nhiêu?

.....
.....

Bài 4 : Tổng của 5 số chẵn liên tiếp là 100 . 5 số chẵn đó là :

- A. 20; 22; 24; 26; 28.

- C. 18; 19; 20; 21; 22.

- B. 12; 14; 16; 18 ; 20.

- D. 16; 18; 20; 22; 24.

Phần dùng để sửa bài làm sai ở trên

.....
.....
.....
.....
.....

Tuần 8

Bài 1: Tính bằng cách thuận tiện nhất.

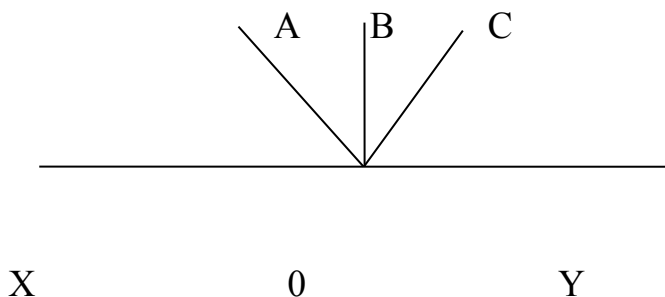
a) $96 + 78 + 4 =$

b) $677 + 969 + 123 + 31 =$

Bài 2: Tuổi trung bình của hai chị em là 18, chị hơn em 6 tuổi. Hỏi chị bao nhiêu tuổi, em bao nhiêu tuổi ?

.....
.....
.....
.....

Bài 3: Đọc tên các góc vuông, nhọn, bẹt, tù có trong hình sau :



Các góc vuông là:.....

Các góc nhọn là:.....

Các góc bẹt là:.....

Các góc tù là:.....

Bài 4 : Chu vi hình chữ nhật là 10 m , chiều dài hơn chiều rộng 10 dm . Tính diện tích hình chữ nhật? Đòi:.....

.....
.....
.....
.....

.....

Phần dùng để sửa bài làm sai ở trên

.....

.....

.....

.....

.....

.....

Tuần 9

Bài 1: Tính giá trị biểu thức.

a) $168 \times 2 : 6 \times 4$

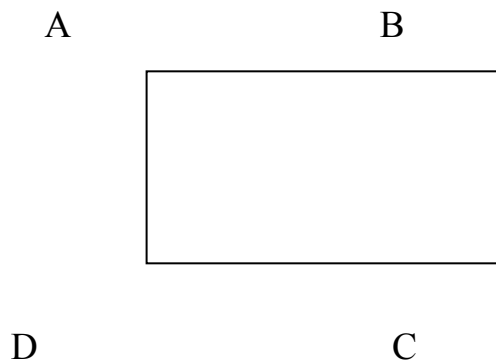
b) $570 - 225 \times 2$

.....
.....
.....

Bài 2: Tính chu vi và diện tích hình chữ nhật có chiều dài 5cm, chiều rộng 3cm.

.....
.....
.....

Bài 3 : Ghi tên các cặp cạnh vuông góc, song song có trong hình bên :



Bài 4: Cách tính nào sai ?

A. $28 - 12 : 4 = 4$

B. $28 - 12 : 4 = 25$

C. $36 : (2 \times 3) = 6$

D. $24 : 2 : 3 = 4$

Phần dùng để sửa bài làm sai ở trên

.....
.....
.....
.....
.....
.....

Tuần 10

Bài 1: Đặt tính rồi tính:

a) 768×6

b) 25924×3

c) $12345 : 5$

d) $198888 : 8$

.....
.....
.....
.....
.....
.....

Bài 2: Tìm **X**.

$$\mathbf{X} \times 5 = 4765$$

$$\mathbf{X} : 8 = 1234$$

.....
.....

Bài 3: Một hình chữ nhật có nửa chu vi là 16 cm, chiều dài hơn chiều rộng là 4 cm. Tính diện tích hình chữ nhật đó.

.....
.....
.....
.....

Bài 4* : Lớp em có X học sinh . Trong đó số nam nhiều hơn nữ Y bạn . Hỏi số học sinh nam của lớp ?

A. $X + Y : 2$ B. $(X - Y) : 2$ C. $(X + Y) : 2$ D. $X - Y : 2$

Phân dùng để sửa bài làm sai ở trên

.....
.....
.....
.....
.....

Tuần 11

Bài 1: Tìm hai biểu thức có giá trị bằng nhau:

a/ 4×2145

d/ $(3 + 2) \times 10287$

b/ 3964×6

e/ $(2100 + 45) \times 4$

c/ 10287×5

g/ $(4 + 2) \times (3000 + 964)$.

Bài 2: Hai thùng chứa được tất cả 600 lít nước. Thùng bé chứa được ít hơn thùng to là 120 lít nước. Hỏi mỗi thùng chứa được bao nhiêu lít nước?

.....
.....
.....

Bài 3 : $(48 - 12) : 6 \quad \square \quad 8 : 6 - 12 : 6$. Dấu cần điền vào ô trống là :

A. >

B. <

C. =

D. Không có dấu nào

Bài 4 : $5\text{m}^2 \ 4 \text{dm}^2 \ 3\text{cm}^2 = \dots \text{cm}^2$. Số cần điền vào chỗ chấm là :

A. 50403

B. 5043

C. 543

D. 5403

Phần dùng để sửa bài làm sai ở trên

.....
.....
.....
.....
.....
.....

Tuần 12

Bài 1: Đặt tính rồi tính:

a) 86×54

b) 33×44

c) 123×55

d) 321×45

.....

.....

.....

.....

.....

Bài 2: Viết số thích hợp vào chỗ chấm

a) $1 \text{ m}^2 = \dots\dots\dots \text{ dm}^2$

c) $400 \text{ dm}^2 = \dots\dots\dots \text{ m}^2$

b) $10 \text{ dm}^2 2 \text{ cm}^2 = \dots\dots\dots \text{ cm}^2$

d) $500 \text{ cm}^2 = \dots\dots\dots \text{ dm}^2$

Bài 3: Một hình chữ nhật có chiều dài 12cm, chiều rộng 8 cm. Tính diện tích hình chữ nhật đó.

.....

.....

Bài 4: $100 - (47 - 24)$ $100 - 47 + 24$. Cần điền vào ô trống dấu :

A. >

B. <

C. =

D. Không có dấu nào .

Phần dùng để sửa bài làm sai ở trên

.....

.....

.....

.....

.....

.....

Tuần 13

Bài 1: Tính bằng cách thuận tiện nhất.

a) $137 \times 3 + 137 \times 97$

b) $428 \times 12 - 428 \times 2$

.....
.....
.....

Bài 2: Tìm số tự nhiên x lớn nhất để : $238 \times \mathbf{X} < 1193$

A. $\mathbf{X} = 5$

B. $\mathbf{X} = 6$

C. $\mathbf{X} = 4$

D. $\mathbf{X} = 7$

Bài 3: Một trường tiểu học có tất cả 18 lớp, trong đó 12 lớp, mỗi lớp có 30 học sinh và số lớp còn lại mỗi lớp có 28 học sinh. Hỏi trường đó có tất cả bao nhiêu học sinh?

.....
.....
.....
.....

Bài 4 : Tìm y biết : $Y : 458 = 2748$

A. $Y = 6$

B. $Y = 2290$

C. $Y = 3206$

D. $Y = 1\,258\,584$

Phần dùng để sửa bài làm sai ở trên

.....
.....
.....
.....
.....
.....

Tuần 14

Bài 1: Đặt tính rồi tính.

a) 324×235

b) $278145 : 35$

.....

.....

.....

.....

.....

.....

.....

Bài 2: Một cửa hàng có 5 tấm vải, mỗi tấm dài 30m. Cửa hàng đã bán được $\frac{1}{5}$ số vải. Hỏi cửa hàng còn lại bao nhiêu mét vải?

.....

.....

.....

.....

Bài 3 : Câu nào đúng nhất ?

- A. Góc tù lớn hơn góc nhọn. B. Góc tù bé hơn góc vuông .
C. Góc tù lớn hơn góc vuông . D. Góc tù lớn hơn góc vuông và bé hơn góc bẹt

Bài 4* : Biết $a \times 8 = 0$ và $b + c = 83$. Tính $a : b \times c = ?$

- A. 8 B. 0 C. 83 D. 75

Phần dùng để sửa bài làm sai ở trên

.....

.....

.....

.....

.....

.....

Tuần 15

Bài 1: Đặt tính rồi tính

a) $420 : 60$

b) $4500 : 500$

.....

.....

.....

.....

.....

Bài 2: Tìm **X**.

a) **X** x 3 = 714

b) $846 : \mathbf{X} = 18$

.....

.....

Bài 3: Cứ 25 viên gạch thì lát được 1m^2 nền nhà. Hỏi nếu dùng hết 1050 viên gạch thì lát được bao nhiêu mét vuông nền nhà?

.....

.....

Bài 4 : Chu vi một hình chữ nhật gấp 8 lần chiều rộng . Hỏi chiều dài gấp mấy lần chiều rộng ?

A. Gấp 4 lần

C. Gấp 2 lần

B. Gấp 3 lần

D. Gấp 5 lần

Phần dùng để sửa bài làm sai ở trên

.....

.....

.....

.....

.....

.....

Tuần 16

Bài 1: Đặt tính rồi tính.

a) $4725 : 15$

b) $6420 : 321$

.....
.....
.....
.....
.....

Bài 2: Một hình chữ nhật có nửa chu vi là 307m, chiều dài hơn chiều rộng là 97m. Tính diện tích hình chữ nhật đó.

.....
.....
.....
.....
.....

Bài 3 : Biết giá trị của biểu thức $468 \times a$ bằng 96876. Hãy tìm a .

A. $a = 217$

B. $a = 207$

C. $a = 27$

D. $a = 197$

Bài 4 : Tổng của hai số tự nhiên liên tiếp là 43 . Tìm hai số đó .

A. 25 và

B. 42 và 43

D. 20 và 23

18

C. 21 và 22

Phần dùng để sửa bài làm sai ở trên

.....
.....
.....
.....
.....
.....

Tuần 17

Bài 1: Trong các số: 3457 ; 4568 ; 66814; 2050 ; 2229 ; 3576 ; 900; 2355.

a) Số nào chia hết cho 2:.....

b) Số nào chia hết cho 5:.....

Bài 2 : $47685 : 5 + 7864 \times 9 = ?$

A. 81033

b. 80133

C. 83103

D. 80313

Bài 3: Trung bình cộng số học sinh 2 lớp 4A và 4B là 32, lớp 4A nhiều hơn lớp 4B là 2 học sinh. Hỏi mỗi lớp có bao nhiêu học sinh?

.....

.....

.....

.....

Bài 4 : Có bao nhiêu số có hai chữ số chia hết cho hết cho 2 ?

A. 90

B. 45

C. 50

D. 99

Phần dùng để sửa bài làm sai ở trên

.....

.....

.....

.....

.....

.....

Tuần 18

Bài 1: Trong các số: 3451 ; 4563 ; 66816; 2050 ; 2229 ; 3576 ; 900.

a) Số nào chia hết cho 3:.....

b) Số nào chia hết cho 9:.....

c) Số nào chia hết cho 3 nhưng không chia hết cho 9:.....

Bài 2: Một nhà máy trong một năm sản xuất được 49410 sản phẩm. Hỏi trung bình mỗi ngày nhà máy đó sản xuất được bao nhiêu sản phẩm, biết một năm nhà máy đó làm việc trong 305 ngày?

.....
.....

Bài 3 : 2 t ạ 8 kg = ...kg

A. 28 kg B. 208 kg C. 2008kg D. 10 kg

Bài 4 : Tổng của hai số bằng số lớn nhất có 6 chữ số khác nhau . Hiệu của hai số bằng số bé nhất có 6 chữ số . Hãy tìm hai số đó .

Giải và khoanh vào 1 trong 4 đáp án dưới đây

.....
.....
.....
.....

A. 543827 v à 443827

C. 543827 v à 987654

B. 987654 v à 100000

D. 443827 v à 100000

Phần dùng để sửa bài làm sai ở trên

.....
.....
.....
.....
.....
.....

Tuần 19

Bài 1: Viết số thích hợp vào chỗ chấm:

a) $1 \text{ km}^2 = \dots \dots \dots \text{m}^2$

c) $32 \text{ m}^2 \ 45 \text{ dm}^2 = \dots \dots \dots \text{dm}^2$

b) $5 \text{ km}^2 = \dots \dots \dots \text{m}^2$

d) $13 \text{ dm}^2 \ 29 \text{ cm}^2 = \dots \dots \dots \text{cm}^2$

Bài 2: Một mảnh đất hình bình hành có độ dài đáy là 40m, chiều cao ngắn hơn đáy là 25m . Tính diện tích mảnh đất đó.

.....
.....
.....

Bài 3 : $3 \text{ km}^2 25 \text{ m}^2 = \dots \dots \dots \text{m}^2$

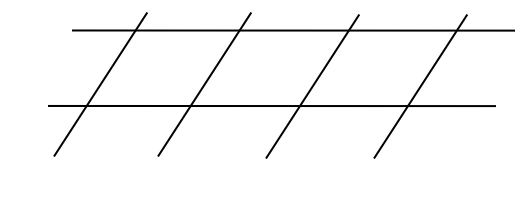
A. 3000025

B. 3025

C. 300025

D. 30025

Bài 4: Hình vẽ sau có bao nhiêu hình bình hành ?



A. 18 hình bình hành

C. 10 hình bình hành

B. 6 hình bình hành

D. 14 hình bình hành

Phần dùng để sửa bài làm sai ở trên

.....
.....
.....
.....
.....
.....

Tuần 20

Bài 1: Trong các phân số: $\frac{3}{4}$; $\frac{9}{14}$; $\frac{7}{5}$; $\frac{6}{10}$; $\frac{19}{17}$; $\frac{24}{24}$

a) Phân số nào bé hơn 1:.....

b) Phân số nào lớn hơn 1:.....

c) Phân số nào bằng 1 :.....

Bài 2: Viết thương của mỗi phép chia sau dưới dạng phân số.

$$7 : 9 = \quad ; 5 : 8 = \quad ; 6 : 19 = \quad ; 1 : 3 =$$

Bài 3: Tìm 2 phân số bằng phân số $\frac{3}{4}$; Ta có $\frac{3}{4} = \dots = \dots$

Bài 4: Viết các phân số bằng 1, lớn hơn 1 có mẫu số là 5

.....
.....
.....
.....
.....

Phần dùng để sửa bài làm sai ở trên

.....
.....
.....
.....
.....
.....
.....

Tuần 21

Bài 1: Rút gọn các phân số sau: $\frac{14}{28}$; $\frac{12}{8}$.

$$\frac{14}{28} = \dots\dots\dots$$

$$\frac{12}{8} = \dots\dots\dots$$

Bài 2: Qui đồng mẫu số các phân số sau: $\frac{7}{5}$ và $\frac{8}{11}$. MSC là:.....

.....

.....

.....

.....

.....

.....

Bài 3: Khoanh vào phân số tối giản trong các phân số sau: $\frac{1}{3}$; $\frac{4}{7}$; $\frac{8}{32}$; $\frac{72}{73}$.

Bài 4 : Phân số nào không bằng $\frac{21}{35}$

- A. $\frac{9}{15}$ B. $\frac{12}{20}$ C. $\frac{3}{5}$ D. $\frac{3}{8}$

Phần dùng để sửa bài làm sai ở trên

.....

.....

.....

.....

.....

.....

Tuần 22

Bài 1: So sánh hai phân số sau:

a) $\frac{3}{7}$ $\frac{5}{7}$

b) 1 $\frac{14}{15}$

c) $\frac{8}{9}$ $\frac{12}{18}$

Bài 2: Một lớp học có 12 học sinh trai, 15 học sinh gái.

Phân số chỉ số phần học sinh trai trong số học sinh của cả lớp học đó là :

A. $\frac{12}{15}$

B. $\frac{12}{27}$

C. $\frac{15}{27}$

D. $\frac{15}{12}$

Bài 3 : Phân số nào bằng $\frac{4}{5}$?

A. $\frac{16}{25}$

B. $\frac{14}{15}$

C. $\frac{24}{25}$

D. $\frac{24}{30}$

Bài 4: $\frac{3}{4}$ thế kỉ = năm

A. 12

B. 7

C. 100

D. 75

Phần dùng để sửa bài làm sai ở trên

.....

.....

.....

.....

.....

.....

Tuần 23

Bài 1: Tính:

a) $\frac{3}{4} + \frac{5}{4} =$

b) $\frac{2}{3} + \frac{3}{4} =$

c) $\frac{1}{3} + \frac{5}{7} =$

Bài 2: Một xe ô tô giờ đầu chạy được $\frac{3}{8}$ quãng đường, giờ thứ hai chạy được $\frac{2}{7}$ quãng đường. Hỏi sau hai giờ ô tô đó đi được bao nhiêu phần quãng đường?

.....
.....

Bài 3: $\mathbf{X} - \frac{1}{2} = \frac{1}{3}$ \mathbf{X} là :

A. $\frac{2}{5}$

B. $\frac{5}{6}$

C. $\frac{1}{6}$

D. $\frac{1}{5}$

Bài 4 : $\frac{18}{19}$ $\frac{1818}{1919}$. Dấu cần điền vào ô trống là :

A. =

B. >

C. <

D. Không có dấu nào

Phần dùng để sửa bài làm sai ở trên

.....
.....
.....
.....
.....
.....
.....

Tuần 24

Bài 1: Tính:

a) $\frac{7}{8} - \frac{6}{8} =$

b)

$\frac{5}{6} - \frac{3}{8} =$

c) $\frac{10}{12} - \frac{3}{4} =$

Bài 2: Trong công viên có $\frac{5}{6}$ diện tích đã trồng cây xanh và hoa, trong đó có $\frac{1}{3}$ diện tích của công viên là trồng cây xanh. Hỏi diện tích trồng hoa là bao nhiêu phần diện tích công viên ?

.....
.....
.....

Bài 3: Trong một buổi sinh hoạt, chi đội lớp 4A có $\frac{3}{7}$ số đội viên sinh hoạt văn nghệ và $\frac{2}{5}$ số đội viên tham gia đá bóng. Phần số chỉ số đội viên của chi đội tham gia hai hoạt động trên là ?

A. $\frac{29}{35}$ B. $\frac{5}{12}$ C. $\frac{6}{35}$ D. $\frac{5}{35}$

Bài 4 : $\frac{2}{7}$ tuần = giờ

A. 14 B. 24 C. 9 D. 48

Phần dùng để sửa bài làm sai ở trên

.....
.....
.....
.....
.....
.....
.....

Tuần 25

Bài 1: Tính.

a. $\frac{1}{2} \times \frac{1}{4} =$

b. $\frac{5}{2} \times \left(\frac{1}{3} + \frac{1}{4}\right)$
=

Bài 2: $\frac{5}{7}$ của 35 là :

- A. 25 B. 5 C. 7 D. 12

Bài 3 : Tìm x biết $\frac{3}{8} : \frac{x}{8} = \frac{1}{2}$

- A. x = 4 B. x = 5 C. x = 6 D. x = 7

Phần dùng để sửa bài làm sai ở trên

.....

.....

.....

.....

.....

.....

.....

Tuần 26

Bài 1: Kết quả của phép chia $\frac{5}{6} : \frac{2}{3}$ là ;

A. $\frac{7}{9}$

B. $\frac{10}{18}$

C. $\frac{5}{4}$

D. $\frac{12}{15}$

Bài 2: $\frac{3}{5} : \mathbf{X} = \frac{4}{7}$; \mathbf{X} là :

A. $\frac{7}{12}$

B. $\frac{21}{20}$

C. $\frac{20}{21}$

D. $\frac{12}{35}$

Bài 3: Một lớp học có 30 học sinh, trong đó có $\frac{2}{3}$ số học sinh là học sinh nữ. Tính số học sinh nữ của lớp đó.

.....
.....

Phần dùng để sửa bài làm sai ở trên

.....
.....
.....
.....
.....
.....
.....

Tuần 27

Bài 1: Tính.

a) $\frac{5}{6} : \frac{2}{3} = \dots\dots\dots$ b) $\frac{3}{4} : 2 = \dots\dots\dots$

Bài 2: Một mảnh vườn hình chữ nhật có chiều dài là 30 m, chiều rộng bằng $\frac{2}{3}$ chiều dài. Tính diện tích mảnh vườn đó.

.....
.....
.....

Bài 3: Tính diện tích hình thoi, biết độ dài hai đường chéo là 42 cm và 17 cm.

.....
.....

Phần dùng để sửa bài làm sai ở trên

.....
.....
.....
.....
.....
.....

Tuần 28

Bài 1: Tính.

a) $\frac{1}{3} \times \frac{3}{4} = \dots\dots\dots$ b) $\frac{5}{2} \times \frac{2}{3} + \frac{1}{6} = \dots\dots\dots$

.....

.....

Bài 2 : Năm nay anh 12 tuổi, em 4 tuổi . Tỉ số tuổi của em và anh là :

- A. 3 B. $\frac{1}{3}$ C. $\frac{1}{4}$ D. 4

Bài 3 : Lớp 4^a có 30 học sinh , số học sinh nam bằng $\frac{1}{2}$ số học sinh nữ . Hỏi lớp 4^a có bao nhiêu học sinh nam, bao nhiêu học sinh nữ ?

.....

.....

.....

.....

Phần dùng để sửa bài làm sai ở trên

.....

.....

.....

.....

.....

.....

Tuần 29

Bài 1: Viết tỉ số của a và b biết:

a) $a = 3$

$b = 4$

b) $a = 12m$

$b = 3m$

Bài 2: Tìm hai số, biết tổng của chúng bằng 198 và tỉ số của hai số đó là $\frac{3}{8}$.

.....

.....

.....

.....

.....

Bài 3 : Tổng của hai số là số lớn nhất có hai chữ số. Tỉ số của hai số là $\frac{4}{5}$. Số lớn hơn trong hai số là :

A. 55

B. 44

C. 45

D. 54

Phần dùng để sửa bài làm sai ở trên

.....

.....

.....

.....

.....

.....

.....

Tuần 30

Bài 1: Tính.

a) $\frac{3}{5} + \frac{11}{20} =$ b) $\frac{4}{7} : \frac{8}{14} =$

.....

Bài 2: Tìm hai số, biết hiệu của hai số đó bằng 160 và tỉ số của hai số đó là $\frac{3}{7}$.

.....

.....

.....

.....

Bài 3 : Khoảng cách thực sự từ Hà Nội đến Hải Dương là 60 km. Khoảng cách trên bản đồ là 4 cm. Hỏi tỉ lệ của bản đồ ấy là ?

A. 1: 150 000 B. 1: 15 000 000 C. 1: 15 000 D. 1 : 1 500 000

Phần dùng để sửa bài làm sai ở trên

.....

.....

.....

.....

.....

.....

Tuần 31

Bài 1: Viết số thích hợp vào chỗ chấm để có:

a) Ba số tự nhiên liên tiếp: 68;; 70.; 1000 ; 1001

b) Ba số chẵn liên tiếp: 98 ;; 102.

c) Ba số lẻ liên tiếp:; 201 ; 203.

Bài 2: Trên bản đồ tỉ lệ 1: 200, chiều dài phòng học lớp em đo được 4cm. Hỏi chiều dài thực tế của phòng học lớp em là bao nhiêu ?

.....
.....
.....

Bài 3 : Tỉ lệ bản đồ là 1: 1 500 000 . Độ dài trên bản đồ là 37 cm. Độ dài thực tế là :

A. 555 km B. 555 000 000 cm C. 5550 km D. 555 000 cm

Phần dùng để sửa bài làm sai ở trên

.....
.....
.....
.....
.....
.....

Tuần 32

Bài 1: Đặt tính rồi tính:

a) $4597 + 8269$

b) $31724 - 12457$

c) 425×27

.....

.....

.....

.....

.....

.....

Bài 2: Trong các số: 605; 7362; 2640; 4136; 1207; 20601.

a) Số chia hết cho 2 là:.....

Số chia hết cho 5 là:.....

b) Số chia hết cho cả 2 và 5 là:.....

c) Số chia hết cho cả 5 nhưng không chia hết cho 3:.....

Bài 3 : Số nào chia hết cho cả 2, 3, 5, 9 ?

A. 1430 B. 4685 C. 9704 D. 7290

Phần dùng để sửa bài làm sai ở trên

.....

.....

.....

.....

.....

.....

Tuần 33

Bài 1: Tìm hai phân số bằng phân số: $\frac{1}{5}$ là:.....

Bài 2: Rút gọn phân số sau: $\frac{5}{20} =$

Bài 3: So sánh hai phân số sau:

a) $\frac{5}{8}$ $\frac{7}{8}$ b) $\frac{8}{9}$ $\frac{7}{8}$ c) 1 $\frac{28}{27}$

Phần dùng để sửa bài làm sai ở trên

.....

.....

.....

.....

.....

.....

Tuần 34

Bài 1: Đặt tính rồi tính:

a) 248×321

b) $5781 : 47$

.....

.....

.....

.....

.....

.....

.....

.....

Bài 2: Tính bằng cách thuận tiện nhất:

$(25 \times 36) : 9 =$

Bài 3: Người ta xếp đều 240 bộ bàn ghế vào 15 phòng học. Hỏi mỗi phòng xếp được bao nhiêu bộ bàn ghế?

.....

.....

.....

Phần dùng để sửa bài làm sai ở trên

.....

.....

.....

.....

.....

.....

Tuần 35

Bài 1: Đặt tính rồi tính:

- a) $24579 + 43867$ b) $82604 - 35246$ c) 235×352 d) $101598 : 287$

.....

.....

.....

.....

.....

.....

.....

.....

Bài 2: Bố hơn con 30 tuổi. Tuổi con bằng $\frac{1}{6}$ tuổi bố. Tính tuổi của mỗi người.

.....

.....

.....

.....

Bài 3: Chu vi hình chữ nhật là $\frac{4}{5}$ m và chiều rộng bằng $\frac{4}{5}$ chiều dài. Diện tích hình chữ nhật đó là :

.....

.....

.....

.....

.....

.....

.....

.....

Phần dùng để sửa bài làm sai ở trên

.....

.....

.....

.....