

TOÁN 2- ĐỀ 30

Bài 1(2đ): Tính nhanh

$$48 + 31 + 52 + 69$$

Bài 2(3đ): Tìm y

a. $y \times 4 = 0$

b. $y : 3 = 0$

Bài 3(3đ): Trong một phép trừ có hiệu bằng 25. Nếu giữ nguyên số bị trừ và tăng số trừ lên 7 đơn vị thì hiệu mới bằng bao nhiêu?

Bài 4(2đ): Hình tứ giác ABCD có 4 cạnh bằng nhau và có chu vi là 24 cm. Tìm độ dài cạnh AB.

TOÁN 2- ĐỀ 31

Bài 1(2đ): Tính nhanh

$$14 + 26 + 86 + 74$$

Bài 2(3đ) : Tìm x:

a. $13 + x = 49$

b. $x - 27 = 45 - 3$

Bài 3(3đ): Một ô tô chở khách đến một trạm có 13 người xuống và còn lại 11 người khách trên xe. Hỏi ô tô có bao nhiêu người khách?

Bài 4(2đ): Hình tam giác ABC có tổng độ dài hai cạnh AB và BC bằng 47 cm, chu vi tam giác ABC bằng 79 cm. Tìm độ dài cạnh AC.

TOÁN 2- ĐỀ 32

Bài 1(2đ): Tính nhanh

$$29 + 49 + 51 + 71$$

Bài 2(3đ) : Tìm x

a. $82 - x = 37$

b. $82 - x = 30 + 7$

Bài 3(3đ): Trong một phép cộng có tổng bằng 75. Nếu thêm vào một số hạng 6 đơn vị thì tổng mới bằng bao nhiêu?

Bài 4(2đ): Hình tam giác ABC có tổng độ dài hai cạnh AB và BC bằng 51 cm, chu vi tam giác ABC bằng 69 cm. Tìm độ dài cạnh AC.

TOÁN 2- ĐỀ 33

Bài 1: Lập số có 3 chữ số khác nhau từ ba chữ số 5, 2, 7. Số nào lớn nhất, số nào bé nhất từ các số đã lập.

Bài 2(3đ): Tìm x a. $x - 13 = 49$ b. $x - 19 = 10 + 9$

Bài 3(2đ): Ngày thứ bảy là ngày 14 tháng 5. Hỏi ngày thứ hai của tuần đó là ngày mấy của tháng 5?

Bài 4(3đ): Tính chu vi hình tam giác ABC có độ dài các cạnh là 7dm, 12cm, 5dm5cm

TOÁN 2- ĐỀ 34

Bài 1:(3 điểm)

- a)Viết 10 số lẻ liên tiếp lớn hơn 14 nhỏ hơn 100:.....
b)Tính hiệu của số cuối và số đầu trong các số vừa viết:.....
c)Viết hiệu vừa tìm đ-ợc thành tích của một số với3:.....

Bài 2:(3 điểm)

- a)Cho các chữ số: 2, 3, 4, 5. Hãy điền các chữ số thích hợp vào ô trống sao cho có kết quả lớn nhất.

$$\square \square + \square \square$$

$$\square \square - \square \square$$

- b)Điền dấu thích hợp (dấu +, -, x) vào chỗ chấm.

$$18 \dots 36 = 69 \dots 15$$

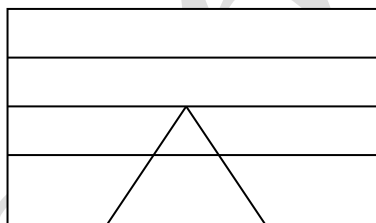
$$5 \dots 8 = 50 \dots 10$$

$$98 \dots 63 \dots 35 = 4 \dots 5 \dots 20$$

- c)Viết số lớn nhất, nhỏ nhất có 2 chữ số, sao cho tổng các chữ số của chúng bằng 10 và hiệu 2 chữ số của chúng bằng 4.

Bài 3: (2 điểm):Hà có 36 chiếc kẹo. Nếu Hà cho Lan 7 chiếc kẹo thì Hà còn nhiều hơn Lan 5 chiếc kẹo. Hỏi lúc đầu Lan có bao nhiêu chiếc kẹo?

Bài 4: (2 điểm)



Hình vẽ trên có:

hình chữ nhật

hình tam giác.

TOÁN 2- ĐỀ 35

Bài 1:(2 đ): Tính nhanh

a. $11 + 28 + 24 + 16 + 12 + 9$

b. Viết đủ các số hạng trong tổng sau rồi tính kết quả của các tổng đó bằng cách nhanh nhất: $0 + 2 + 4 + 6 + \dots + 20$

Bài 2:(2 đ): Tìm y:

a/ $y: 5 + 27 = 4 \times 8$

b/ $12 - 7 < y < 12 - 4$

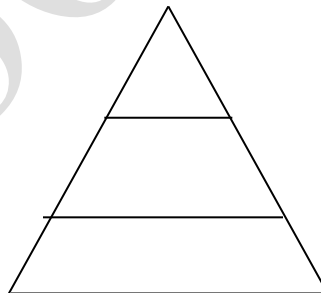
Bài 3:(2 đ):Một sợi dây dài 4dm 5cm. Người ta cắt sợi dây đó ra thành các đoạn thẳng bằng nhau., mỗi đoạn dài 5cm. Hỏi cắt được mấy đoạn? Phải cắt mấy lần để được số đoạn đó?

Bài 4:(2 đ):Năm nay Hà 6 tuổi, như vậy tuổi của Hà bằng một nửa số tuổi của Hùng.

a/ Hỏi Hùng năm nay bao nhiêu tuổi?

b/ Hỏi cả hai bạn năm nay bao nhiêu tuổi?

Bài 5:(2 đ):Trong hình vẽ bên có mấy hình tam giác? tứ giác? Kể tên các hình tam giác, tứ giác đó?



TOÁN 2- ĐỀ 36

Bài 1: (2đ): Tính nhanh:

a. $5-4-3-2-1+11+12+13+14+15$

b. $1-2+3-4+5-6+7-8+9-10+11$

Bài 2: (2đ)

Tuổi bố đem bớt tuổi con
Sẽ bằng tuổi mẹ. tức tròn 40
Đố vui vừa học, vừa cười
Bố, con, tính tuổi mỗi người bao nhiêu?
Biết rằng tuổi của con yêu
Thì ít hơn 7 lại nhiều hơn 5
Đố ai học giỏi, học chăm
Đáp nhanh, đáp đúng, đây khâm phục tài!

Bài 3: (2đ): Cô giáo có 24 quyển vở. Cô chia đều số vở cho 3 tổ. Hỏi:

a. Mỗi tổ được mấy quyển vở?

b. Nếu muốn cho mỗi tổ 10 quyển thì cô giáo phải mua thêm bao nhiêu quyển vở?

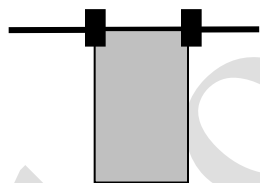
Bài 4: (2đ): Hình tứ giác ABCD có chu vi là 46 cm, tổng độ dài ba cạnh AB, BC, CD là 30 cm, tổng độ dài hai cạnh CD, DA là 26 cm. Tính độ dài cạnh CD?

Bài 5: (2 đ)

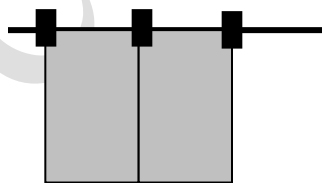
Một khăn mặt cần 2 cái cặp để phơi (H. 1)

Hai khăn mặt cần 3 cái cặp để phơi (H. 2)

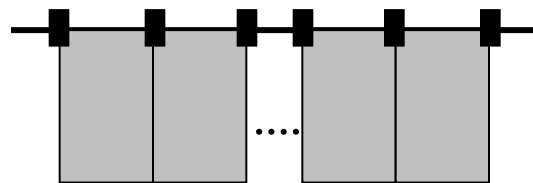
Em hãy đoán xem 10 cái khăn thì cần mấy cái cặp (H. 3)?



H. 1



H. 2



H. 3 Có 10 chiếc khăn

TOÁN 2- ĐỀ 37

Bài 1(2đ): Khoanh tròn vào chữ cái trước câu trả lời đúng nhất

a. Số lớn hơn 99 nhỏ hơn 101 là :

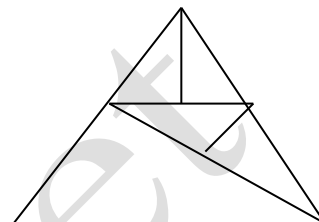
A. 103 B. 102 C. 100

b. Số thích hợp để điền vào chỗ chấm trong $25 : 5 < \dots - 6 < 49 : 7$

A. 12 B. 7 C. 5

c. Số hình tam giác có trong hình vẽ bên là :

A. 8 hình tam giác
B. 9 hình tam giác
C. 10 hình tam giác



d. Số bé nhất có 3 chữ số khác nhau là :

A. 100 B. 102 B. 103

Bài 2(2đ): Điền số thích hợp vào chỗ chấm

$$5\text{m}2\text{cm} = \dots \text{cm}$$

$$200 \text{ cm} = \dots \text{ m}$$

$$50\text{dm} + 5\text{m} = \dots \text{ m}$$

$$2\text{dm} + 5\text{mm} = \dots \text{ mm}$$

Bài 3(2đ): Tìm X

a. $X \times 4 = 40 - 8$

b. $X - 17 = 40 + 6$

Bài 4(2đ): Nếu Ngọc cho Mai 13 cái kẹo thì số kẹo của 2 bạn bằng nhau và mỗi bạn có 25 cái kẹo. Hỏi trước khi cho thì mỗi bạn có bao nhiêu cái ?

Bài 5(2đ): Có 20 người cần qua sông, mỗi thuyền chở được 5 người (kể cả người lái thuyền). Hỏi cần ít nhất mấy chiếc thuyền để chở hết số người đó qua sông một lần ?

TOÁN 2- ĐỀ 38

Bài 1(2đ):

a/ Tính: $64\text{m} + 28\text{m} + 5\text{m} = \dots$

$73\text{dm} - 49\text{dm} + 16\text{dm} = \dots$

$25\text{kg} + 214\text{kg} - 13\text{kg} = \dots$

$14 \text{ phút} + 36 \text{ phút} - 27 \text{ phút} = \dots$

b/ Khoanh tròn vào tr- ớc câu trả lời đúng:

a. Số liền sau của số 829 là:

A. 839; B. 819; C. 828; D. 830.

b. Số lớn nhất trong 4 số sau là:

A. 576; B. 756; C. 765; D. 675.

c. Tính nhanh: (1,0 điểm)

$$1 + 2 + 3 + 4 + 5 + 6 + 7 + 8 + 9$$

Bài 2(2đ): Viết thêm 2 số nữa vào chỗ chấm trong mỗi dãy số sau:

a/ 1, 3, 5, 7, 9,

b/ 1, 2, 3, 5, 8,

Bài 3(2đ): Điền số thích hợp vào chỗ dấu ?

$$\begin{array}{r} 3?4 \\ + ?37 \\ \hline 551 \end{array}$$

$$\begin{array}{r} 46? \\ - 1?3 \\ \hline 339 \end{array}$$

$$\begin{array}{r} 7?? \\ + ?47 \\ \hline 861 \end{array}$$

Bài 4(2đ):

a/ Viết tất cả các số có ba chữ số mà chữ số hàng đơn vị lớn hơn chữ số hàng chục là 7 đơn vị, chữ số hàng trăm bằng 4.

b/ Một khu vườn trồng cây ăn quả gồm xoài và vải. Số cây vải là số liền sau số 49, số cây xoài bằng $\frac{1}{5}$ số cây vải.

- Hỏi khu vườn đó có bao nhiêu cây xoài ?

- Hỏi khu vườn đó có bao nhiêu cây ?

Bài 5(2đ): a/ Nêu các điểm thẳng hàng ở hình vẽ bên?

b/ Vẽ thêm hai đường thẳng vào hình vẽ bên để được 3 hình chữ nhật, 4 hình tam giác. Đọc tên các hình chữ nhật và tam giác vừa tạo thành.

TOÁN 2- ĐỀ 39

Bài 1(2đ): Tính nhanh

a/ $26 + 17 + 23 + 14$

b/ $37 - 5 + 35 - 7$

Bài 2(3đ): : Tìm X, Y:

a/ $Y + 56 = 56 - Y$

b/ $X + 32 = 18 + 45$

Bài 3(2đ): Trong một phép cộng có tổng bằng 37. Nếu giữ nguyên một số hạng và thêm vào số.

Bài 4(3đ): Thùng thứ nhất đựng 32 lít nước, thùng thứ nhất đựng nhiều hơn thùng thứ hai 8 lít nước. Hỏi thùng thứ hai đựng bao nhiêu lít nước?

TOÁN 2- ĐỀ 40

A. PHẦN TRẮC NGHIỆM: Khoanh vào chữ trước câu trả lời đúng:

Bài 1(1đ): 1 dm 8 cm = ... cm

A. 108

B. 81

C. 18

D. 17


Bài 2(1đ): Hình vẽ dưới đây có bao nhiêu đoạn thẳng?

A

B

C

D



A. 4 đoạn thẳng

B. 5 đoạn thẳng

C. 6 đoạn thẳng

D. 7 đoạn thẳng

Bài 3(1đ): An lấy số lớn nhất có 2 chữ số trừ đi một số, hiệu tìm được là 65. Số mà An đã trừ đó là số nào?

A. 14

B. 24

C. 34

D. 44

Bài 4(1đ): Cho dãy số sau: 7; 11; 15; 19; ...

Số thứ năm của dãy số trên là số nào?

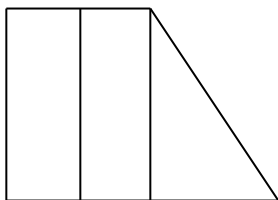
A. 22

B. 23

C. 33

D. 34

Bài 5(1đ): Hình vẽ d- ới đây có bao nhiêu hình tứ giác?



- A. 2 hình tứ giác.
- B. 3 hình tứ giác.
- C. 4 hình tứ giác.
- D. 5 hình tứ giác.

B. PHẦN TƯ LUÂN:

Bài 1(1đ): Viết thêm 3 số nữa vào dãy số sau:

2; 5 ; 7; 12; 19;.....

Bài 2(1đ): Tìm x

a) $46 - x = 12 + 34$

b) $46 + x = 89 - 14$

Bài 3(1đ): Tìm 2 số biết hiệu của chúng là 49. Biết rằng nếu bớt số bị trừ một số đúng bằng số trừ thì hiệu mới sẽ là 17.

Bài 4(2đ): Lớp 2A thu gom đ- ợc 83 kg phế liệu, trong đó có 49 kg thuỷ tinh, còn lại là giấy vụn các loại. Hỏi số giấy vụn các loại mà lớp 2A thu gom đ- ợc là bao nhiêu?

TOÁN 2- ĐỀ 41

Bài 1 (2 điểm) : Tính nhanh

a/ $26 + 17 + 23 + 14$

b/ $37 - 5 + 35 - 7$

Bài 2 (3điểm) : Tìm X , Y

a/ $Y + 56 = 56 - Y$

b/ $X + 32 = 18 + 45$

Bài 3 (2 điểm) : Trong một phép cộng có tổng bằng 37. Nếu giữ nguyên một số hạng và thêm vào số hạng còn lại 9 đơn vị thì tổng mới bằng bao nhiêu?

Bài 4 (3 điểm) : Thùng thứ nhất đựng 32 lít nước, thùng thứ nhất đựng nhiều hơn thùng thứ hai 8 lít nước. Hỏi thùng thứ hai đựng bao nhiêu lít nước?

TOÁN 2- ĐỀ 42


Câu 1: 2đ Tính nhanh:

a) $14 + 8 + 6 + 2$

b) $28 + 19 + 22 + 21$

Câu 2: 2 đ a, Hình d ưới đây có tất cả bao nhiêu đoạn thẳng ?

b, Viết tên các đoạn thẳng đó:



Câu 3: 2đ : Hãy viết tất cả các số có 2 chữ số mà tổng 2 chữ số là 12 ?
Có bao nhiêu số nh- thế ?

Câu 4: 2đ :An cho Bình 3 hòn bi. Lúc này mỗi bạn đều có 15 hòn bi. Hỏi tr- ớc khi An cho Bình:

- Mỗi bạn có mấy hòn bi ?
- An hơn Bình mấy hòn bi ?

Câu 4: 2đ :Tìm một số, biết rằng số đó cộng với 45 thì được 54 .

TOÁN 2- ĐỀ 43

Bài 1(1đ): Điền dấu phép tính (+ , -) thích hợp vào ô trống

a) $15 \square 15 \square 6 = 36$

b) $18 \square 4 \square 2 = 12$

Bài 2(2đ): Điền dấu >,< , = thích hợp vào chỗ trống

a) $124 + 32 \dots 17 + 142$ $12 \times 4 \dots 13 \times 4$

b) $158 - 25 \dots 166 - 35$ $75 - x \dots 83 - x$

c) $42 + 213 \dots 289 - 34$ $x - 20 \dots x - 23$

Bài 3(1đ): Không tìm hiệu , hãy điền dấu (>,< , =) thích hợp vào chỗ chấm

a) $68 - 34 \dots 58 - 34$

b) $67 - 34 \dots 67 - 43$

c) $84 + 26 \dots 88 + 26$

Bài 4(1đ): Điền số thích hợp vào chỗ chấm:

$8 \text{ dm} = \dots \text{ cm}$

$3 \text{ dm } 7 \text{ cm} = \dots \text{ cm}$

$50 \text{ cm} = \dots \text{ dm}$

$94 \text{ cm} = \dots \text{ dm } \dots \text{ cm}$

$2 \text{ m} = \dots \text{ dm}$

$250 \text{ cm} = \dots \text{ m } \dots \text{ cm}$

Bài 5(2đ): Tìm y

a) $3 \times y = 24 + 6$

b) $y : 4 = 200 : 2$

Bài 6(1đ): Viết các số gồm:

a) 6 trăm, 5 chục và 7 đơn vị:

b) 8 trăm và 6 chục:

c) 5 trăm và 7 đơn vị:

Bài 7(2đ): Trên bãi cỏ có 16 con bò. Số con bò nhiều hơn số con trâu là 10 con. Số cừu bằng số bò và số trâu cộng lại. Hỏi trên bãi cỏ có bao nhiêu con cừu? Bao nhiêu con trâu? Tất cả có bao nhiêu con bò, trâu và cừu?

TOÁN 2- ĐỀ 44

Bài 1(1đ): Viết các số: 25, 32, 57 vào ô trống thích hợp để đ-ợc phép tính đúng:

$$\begin{array}{|c|} \hline \square \\ \hline \square \\ \hline \end{array} + \begin{array}{|c|} \hline \square \\ \hline \square \\ \hline \end{array} = \begin{array}{|c|} \hline \square \\ \hline \square \\ \hline \end{array}$$

$$\begin{array}{|c|} \hline \square \\ \hline \square \\ \hline \end{array} - \begin{array}{|c|} \hline \square \\ \hline \square \\ \hline \end{array} = \begin{array}{|c|} \hline \square \\ \hline \square \\ \hline \end{array}$$

Bài 2(1đ): Điền số thích hợp vào ô trống:

$$\begin{array}{r} 48 \\ - \square \\ \hline 43 \end{array} \quad \begin{array}{r} 25 \\ + \square\square \\ \hline 75 \end{array} \quad \begin{array}{r} \square\square \\ + 76 \\ \hline 84 \end{array} \quad \begin{array}{r} 5\square \\ - 34 \\ \hline \square \end{array}$$

Bài 3(1đ): Viết tiếp vào chỗ chấm cho thích hợp:

Nếu chủ nhật tuần này là ngày 10 thì:

- Chủ nhật tuần tr-ớc là ngày

- Chủ nhật tuần sau là ngày

Bài 4(1đ): Đúng điền Đ, sai điền S:

$$\begin{array}{r} 23 \\ + 46 \\ \hline 69 \end{array}$$

$$\begin{array}{r} 24 \\ + 5 \\ \hline 74 \end{array}$$

$$\begin{array}{r} 6 \\ + 52 \\ \hline 58 \end{array}$$

$$\begin{array}{r} 78 \\ + 3 \\ \hline 108 \end{array}$$

Bài 5(1đ): Từ hai chữ số 6 và 8 viết đ-ợc các số có hai chữ số là: Từ hai chữ số 0 và 9 viết đ-ợc các số có hai chữ số là:

Bài 6(1đ): Viết số, chữ thích hợp vào ô trống:

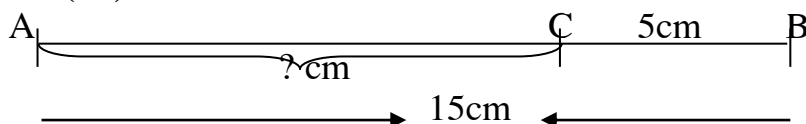
Chục	Đơn vị	Viết số	Đọc số
		80	
9	5		
			Năm m□bi ba
		35	

Bài 7(1đ): Điền số hoặc chữ số?

a) $\square 9 < 21$ $3 \square > 38$ $25 < \square < 27$

b) $10 + 6 = 6 \square$ $18 - 3 - \square = 10$ $70 + 7 < \square < 70 + 9$

Bài 8(1đ): Giải bài toán theo tóm tắt sau:



Bài 9(1đ): Điền dấu (+; -) thích hợp vào ô trống.

$$14 \square 3 \square 2 = 15$$

$$15 \square 2 \square 3 = 16$$

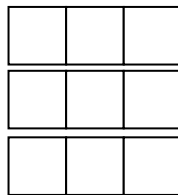
$$14 \square - 4 \square - 1 = 19$$

$$17 \square - 3 \square - 1 = 13$$

Bài 10(1đ): Khoanh vào chữ đặt tr- ớc câu trả lời đúng:

Hình bên có:

- a. 9 hình vuông.
- b. 10 hình vuông.
- c. 14 hình vuông.



TOÁN 2- ĐỀ 45

Bài 1: Đặt tính rồi tính

a. $615 + 208$

b. $326 + 80$

c. $675 - 241$

d. $550 - 202$

Bài 2: Khối lớp Hai có 325 học sinh, khối lớp Ba có ít hơn khối lớp Hai 40 học sinh . Hỏi khối lớp Ba có bao nhiêu học sinh?

Bài 3 : Tính

a. $5 \times 9 + 258$

b. $4 \times 8 - 19 =$

c. $5 \times 7 + 982$

Bài 4 : Tính nhẩm

$600 : 2 =$

$800 : 4 =$

$400 : 2 =$

$600 : 3 =$

$800 : 2 =$

$700 : 7 =$

Bài 5: Với các số 2, 4 và 8 và dấu \times ; $:$, $=$, em hãy viết các phép tính đúng

Bài 6: Đội một trồng đ- ợc 345 cây, đội hai trồng đ- ợc nhiều hơn đội Một 83 cây.

Hỏi:

a) Đội hai trồng đ- ợc bao nhiêu cây?

b) Hai đội trồng đ- ợc bao nhiêu cây?

Bài 8: Tìm x

a) $x \times 5 = 50 - 15$

b) $x : 4 = 38 - 33$

c) $x - 356 = 474 + 562$

TOÁN 2- ĐỀ 46

Bài 1: Số

600; 599;...;...;

Bài 2: Điền dấu > ; < = thích hợp vào chỗ chấm

865 ... 856

440 - 40 ... 399

899 ... 999

800 + 80 + 8 ... 889

Bài 3: Khoanh vào số lớn nhất

857; 875; 578; 587; 758; 785

Bài 4: Tính nhẩm

a) $300 + 400 =$

b) $800 + 50 =$

c) $900 + 60 + 7 =$

$700 - 400 =$

$850 - 50 =$

$900 + 60 =$

$700 - 300 =$

$850 - 800 =$

$900 + 7 =$

Bài 5 : Với ba số 652, 600, 52 và các dấu + ; - ; = , em hãy viết các phép tính đúng

Bài 6: Tìm x:

a) $x - 422 = 415$

b) $204 + x = 376$

TOÁN 2- ĐỀ 47

Bài 1: Điền dấu phép tính (+ , -) thích hợp vào ô trống

a) $15 \square 15 \square 6 = 36$

b) $18 \square 4 \square 2 = 12$

Bài 2: Điền dấu >, <, = thích hợp vào chỗ trống

d) $24 + 32 \dots 17 + 42$

e) $58 - 25 \dots 66 - 35$

f) $42 + 13 \dots 89 - 34$

Bài 3 : Không tìm hiệu , hãy điền dấu (>, <, =) thích hợp vào chỗ chấm

d) $68 - 34 \dots 58 - 34$

e) $67 - 34 \dots 67 - 43$

f) $84 + 26 \dots 88 + 26$

Bài 4: Điền số thích hợp vào chỗ chấm:

a) $8 \text{ dm} = \dots \text{ cm}$

c) $3 \text{ dm } 7 \text{ cm} = \dots \text{ cm}$

b) $50 \text{ cm} = \dots \text{ dm}$

d) $94 \text{ cm} = \dots \text{ dm } \dots \text{ cm}$

Bài 5: Tìm y

a. $3 \times y = 24 : 3$

c) $y : 4 = 10 : 2$

b. $Y \times 4 = 2 \times 6$

d) $y : 3 = 2 \times 3$

Bài 6: Viết các số gồm:

a. 6 trăm, 5 chục và 7 đơn vị

b. 8 trăm và 6 chục

c. 5 trăm và 7 đơn vị

TOÁN 2- ĐỀ 48

Bài 1: Tính nhẩm

$a/ 2 \times 5 \times 3 =$

$b/ 6 \times 2 : 4 =$

$c/ 10 : 5 + 19 =$

$8 : 2 \times 3 =$

$0 \times 5 : 3 =$

$35 : 5 + 25 =$

$27 : 1 \times 3 =$

$1 \times 4 \times 3 =$

$24 : 4 \times 0 =$

Bài 2: Điền số

$a) \square : 5 = 1$

$8 \times \square = 0$

$5 \times \square = 15$

$b) \square \times 4 = 4$

$30 : \square = 6$

$\square : 4 = 8$

Bài 3: Tính theo mẫu:

$a) 3 \times 5 + 14 = 15 + 14 = 29$

$b) 2 \times 8 + 16 =$

$5 \times 7 + 27 =$

$5 \times 9 + 25 =$

$5 \times 9 - 18 =$

$5 \times 6 + 37 =$

$6 : 3 \times 5 =$

$24 : 3 \times 5 =$

Bài 4: Nhà Mai thu hoạch đ-ợc 652 kg vải nhà Yến thu hoạch đ-ợc ít hơn nhà Mai 231 kg vải . Hỏi nhà Yến thu hoạch đ-ợc bao nhiêu kg vải?

Bài 5: Tìm x biết :

$a/ x \times 5 = 25$

$b/ x + 17 = 33$

$5 \times x = 40$

$85 - x = 38$

$x : 5 = 6$

$x : 3 = 8$

Bài 6: Có 30 lít dầu chia đều vào 6 can. Hỏi mỗi can có bao nhiêu lít dầu?

Bài 7: Bình lấy một băng giấy cắt làm 6 mảnh. Từ mỗi mảnh này Bình lại cắt thành 2 mảnh nhỏ nữa. Hỏi số mảnh nhỏ cắt ra là bao nhiêu?

TOÁN 2- ĐỀ 49

Bài 1: Điền số thích hợp vào ô trống:

$a/ \square + 72 = 97$

$70 + \square = 96$

$230 = \square + 0$

$b/ 85 - \square = 46$

$213 - \square = 42$

$\square - 89 = 72$

Bài 2: Tìm x

$a/ x - 45 = 56$

$b/ 123 - x = 22 + 89$

Bài 3: Thùng thứ nhất đựng 436 lít dầu, thùng thứ hai đựng nhiều hơn thùng thứ nhất 47 lít dầu. Hỏi thùng thứ hai đựng bao nhiêu lít dầu?

Bài 4: Viết số thích hợp vào chỗ chấm:

a. 392; 394; 396; .. ; .. ; ... ; 404

b. 155; 150; 145; .. ; 135; .. ; ..

c. 520; 540; 560; .. ; .. ; ... ; 640.

Bài 5: Đặt tính rồi tính:

$a/ 68 + 62$

$b. 73 - 26$

$c. 35 + 865$

$d. 497 - 34$

TOÁN 2- ĐỀ 50

Bài 1: Tìm số tròn chục liền tr-ớc và số tròn chục liền sau của :

a/ 100

b/ 80

Bài 2: Viết chữ số thích hợp vào dấu * biết :

a/ * 7 < 29

b/ 6 * > 6 *

c/ 3 * < ** < 34

d/ 63* < *** < 632

Bài 3: Tìm x

a/ x - 42 = 26

b/ 78 - x = 27

Bài 4 : Mai có 1 tá bút chì, Mai có ít hơn Hùng 2 cái. Hỏi cả hai bạn có bao nhiêu cái bút chì?

Bài 5: Đặt tính rồi tính

a. 78 + 36

b. 87 - 49n

c. 812 + 39

d. 76 - 23

TOÁN 2- ĐỀ 51

Bài 1: Điền số thích hợp vào ô trống:

a/ + 35 = 89

40 + = 89

86 = + 0

b/ 45 - = 28

100 - = 39

- 27 = 72

Bài 2 : Tìm x

a/ x - 21 = 33 - 21

b/ x + 25 = 100 - 25

Bài 3: Viết thêm 2 số vào dãy số sau:

a/ 9; 12 ; 15; 18; ...; ...

b/ 4; 8 ; 16; ...; ...

c/ 100; 200 ; 300; 400; ...; ...

d/ 110; 120 ; 130; 140; ...; ...

Bài 4: Điền số thích hợp vào ô trống:

a/ + 15 < 15 + 1

b/ 18 < + 16 < 20

c/ 10 < < < 13

Bài 5: >; <; =

2 x 5 ... 5 x 2

40 x 2 ... 80 : 2

20 x 4 ... 79

30 x 2 ... 20 x 4

60 : 3 ... 3 x 7

4 x 10 ... 5 x 9

TOÁN 2- ĐỀ 52

Bài 1: Viết các tổng sau thành tích rồi tính:

a, $2 + 2 + 2 + 2 + 2$ b, $4 + 4 + 4 + 4$ c, $5 + 5 + 5 + 5 + 5$

Bài 2: Viết các tích d- ới dạng tổng các số hạng bằng nhau rồi tính kết quả.

a, 2×6 b, 8×3 c, 7×4

Bài 3: Thay các biểu thức d- ới đây thành tổng của các số hạng bằng nhau rồi tính kết quả.

a, $4 \times 3 + 4$ b, $3 \times 4 + 3$ c, $5 \times 2 + 5$

Bài 4: Viết mỗi biểu thức sau đây thành tích của hai thừa số.

a, $4 \times 3 + 4 \times 2$ b, $3 \times 5 + 3 \times 3$

Bài 5: Không tính kết quả của mỗi biểu thức hãy điền ($> < =$) thích hợp vào chỗ chấm.

a, $4 \times 3 \dots 4 + 4 + 4 + 4$ b, $2 \times 4 \dots 2 + 2 + 2 + 2$ c, $5 \times 4 \dots 5 + 5 + 5$

Bài 6: Tính

a, $3 \times 4 + 16$ b, $5 \times 6 + 42$ c, $4 \times 8 - 17$

Bài 7: Điền số thích hợp vào ô trống

$30 < 4 \times \square < 35$

Bài 8: Điền dấu $> < =$ thích hợp vào chỗ chấm

a, $4 \times 5 + 6 \dots 4 \times 6$ b, $5 \times 4 - 6 \dots 5 \times 4$ c, $3 \times 6 + 3 \dots 3 \times 7$

Bài 9: Viết thêm 3 số vào mỗi dãy số sau.

a, 3, 6, 9, 12, ... b, 5, 9, 13, 17, ... a, 5, 10, 15, 20, ...

TOÁN 2- ĐỀ 53

Bài 1: Tính nhanh:

a, $26 + 17 + 23 + 14$ b, $46 + 82 + 18 + 54$ c, $37 - 5 + 37 - 7$

Bài 2: Tìm x

a, $x + 36 = 72$ b, $x - 45 = 37$

Bài 3: Điền dấu $> < =$ thích hợp vào chỗ chấm

a, $25 + 36 \dots 17 + 48$ b, $74 - 36 \dots 83 - 37$ c, $56 - 19 \dots 18 + 19$

Bài 4: Điền dấu $> < =$ thích hợp vào chỗ chấm

a, $x + 32 \dots 41 + x$ b, $56 - y \dots 45 - y$ c, $x - 26 \dots x - 21$

Bài 5: Tìm một số biết số đó cộng với 45 thì bằng 62

Bài 6: Tìm một số biết số đó trừ đi 26 thì bằng 38

Bài 7: Đúng ghi Đ sai ghi S

$25 + 48 = 73$

$76 - 29 = 57$

$57 - 28 = 29$

Bài 8: Tìm x :

a, $x + 12 = 46$

b, $x + 26 = 12 + 1$

TOÁN 2- ĐỀ 54

Bài 1: Điền số thích hợp vào ô trống:

a/ $\square + 35 = 89$ $40 + \square = 89$ $86 = \square + 0$

b/ $45 - \square = 28$ $100 - \square = 39$ $\square - 27 = 72$

Bài 2 : Tìm x

a/ $x - 21 = 33 - 21$

b/ $78 - x = 42 + 24$

Bài 3: Viết thêm 2 số vào dãy số sau:

a/ 100; 200 ; 300; 400; ...; ...

b/ 110; 120 ; 130; 140; ...; ...

Bài 4: Điền số thích hợp vào ô trống:

a/ $\square + 15 < 15 + 1$

b/ $18 < \square + 16 < 20$

c/ $10 < \square < \square < 13$

Bài 5: >; <; =

a. $2 \times 5 \dots 5 \times 2$

b. $40 \times 2 \dots 80 : 2$

c. $20 \times 4 \dots 79$

d. $30 \times 2 \dots 20 \times 4$

e. $60 : 3 \dots 3 \times 7$

g. $4 \times 10 \dots 5 \times 9$

TOÁN 2- ĐỀ 55

Bài 1: Tìm số tròn chục liền trước và số tròn chục liền sau của :

a/ 100

b/ 80

Bài 2: Viết chữ số thích hợp vào dấu * biết :

a/ $*7 < 29$

b/ $6* > 6*$

c/ $3* < ** < 34$

d/ $63* < *** < 632$

Bài 3: Tìm x

a/ $x + 32 + 61$

b/ $x : 3 = 18$

Bài 4 : Mai có 1 tá bút chì, Mai có ít hơn Hùng 2 cái. Hỏi cả hai bạn có bao nhiêu cái bút chì?

Bài 5: Đặt tính rồi tính

$78 + 36$

$87 - 49$

TOÁN 2- ĐỀ 56

Bài 1: Điền số thích hợp vào ô trống:

a/ $\square + 72 = 97$ $70 + \square = 96$ $230 = \square + 0$

b/ $85 - \square = 46$ $213 - \square = 42$ $\square - 89 = 72$

Bài 2 : Tìm x

a/ $x - 45 = 56$

b/ $123 - x = 22 + 89$

Bài 3: Thùng thứ nhất đựng 436 lít dầu, thùng thứ hai đựng nhiều hơn thùng thứ nhất 47 lít dầu. Hỏi thùng thứ hai đựng bao nhiêu lít dầu?

Bài 4: Viết số thích hợp vào chỗ chấm:

a. 392; 394; 396; .. ; .. ; ... ; 404

b. 155; 150; 145; .. ; 135; .. ; ..

c. 520; 540; 560; .. ; .. ; .. ; 640.

Bài 5: Đặt tính rồi tính:

a/ $68 + 62$

b. $57 + 39$

c. $73 - 26$

d. $64 - 48$