



**Bài 116:** <, >, =

$82 - 41 \quad \dots\dots \quad 53 - 12$

$86 - 80 \quad \dots\dots \quad 19 - 3$

$87 - 56 \quad \dots\dots \quad 45 - 14$

$98 - 27 \quad \dots\dots \quad 16 - 6$

$78 - 21 \quad \dots\dots \quad 58 - 12$

$50 - 10 \quad \dots\dots \quad 98 - 80$

**Bài 117:**

Hôm nay là ngày 21 tháng 7 và là ngày thứ hai

Ngày mai là ngày ..... tháng 7 và là ngày thứ .....

Ngày kia là ngày ..... tháng 7 và là ngày thứ .....

Hôm qua là ngày ..... tháng 7 và là ngày .....

Hôm kia là ngày ..... tháng 7 và là ngày thứ .....

**Bài 118:**

Hôm nay là ngày thứ hai. Mấy ngày nữa thì đến ngày thứ hai liền sau? Vì sao?


Hôm nay là chủ nhật. Mấy ngày nữa thì đến ngày chủ nhật liền sau? Vì sao?


**Bài 119:**

Lúc kim dài chỉ vào số....., kim ngắn chỉ vào số 7 là lúc 7 giờ

Lúc kim dài chỉ vào số....., kim ngắn chỉ vào số ..... là lúc 11 giờ

Em đi học buổi sáng, kim dài chỉ vào số ....., kim ngắn chỉ vào số .....



**Bài 123:** Một quyển truyện có 90 trang, ngày thứ nhất lan đọc được 20 trang, ngày thứ hai lan đọc được 30 trang. Hỏi còn bao nhiêu trang lan chưa đọc?

**Bài giải:**


**Bài 124 :** Viết các số **69, 86, 98, 17, 75** theo thứ tự từ lớn đến bé:

--	--	--	--	--	--	--	--	--	--	--	--	--	--	--	--	--	--	--	--

Trong các số đó, số bé nhất là ....., số lớn nhất là .....

**Bài 125: Viết và đọc số ( theo mẫu)**

9 chục và 8 đơn vị	98	<b>Chín mươi tám</b>
8 chục và 9 đơn vị	.....	.....
7 chục và 5 đơn vị	.....	.....
5 chục và 7 đơn vị	.....	.....
6 chục và 1 đơn vị	.....	.....
3 chục và 4 đơn vị	.....	.....

**Bài 126: Tính nhẩm**

70 + 20 = .....

75 + 20 = .....

74 + 5 = .....

90 - 50 = .....

98 - 50 = .....

98 - 5 = .....

**Bài 127: Đặt tính rồi tính**

$52 + 34$

$86 - 52$

$86 - 34$

$79 - 36$

$3 + 45$

$79 - 3$


**Bài 128: Số?**

$90 + \dots = 95$

$70 + \dots = 90$

$65 + \dots = 69$

$95 - \dots = 90$

$70 - \dots = 50$

$65 - \dots = 62$

$95 - \dots = 5$

$\dots - 40 = 50$

$65 - \dots = 45$

**Bài 129:** An có 10 bút chì màu, 6 bút sáp và 3 bút mực. Hỏi An có tất cả bao nhiêu cái bút các loại?

**Bài giải:**


**Bài 130:** Viết các số **39, 68, 90, 19, 77** theo thứ tự từ lớn đến bé:

--	--	--	--	--	--	--	--	--	--	--	--	--	--	--	--	--	--

Trong các số đó, số bé nhất là ....., số lớn nhất là .....

**Bài 131:** Trong giờ thể dục, lớp 1A chia làm hai nhóm tập chạy, nhóm 1 có 21 bạn, nhóm 2 có 23 bạn. Hỏi lớp 1A có bao nhiêu bạn học giờ thể dục?

**Bài giải:**


**Bài 132:** Viết thành số chục và số đơn vị (theo mẫu):

$$54 = 50 + 4$$

$$83 = \dots + \dots$$

$$92 = \dots + \dots$$

$$45 = \dots + \dots$$

$$38 = \dots + \dots$$

$$29 = \dots + \dots$$

$$55 = \dots + \dots$$

$$88 = \dots + \dots$$

$$99 = \dots + \dots$$

**Bài 133:** Tính:

$$50 + 30 + 6 = \dots$$

$$86 - 30 - 6 = \dots$$

$$60 + 20 + 5 = \dots$$

$$90 - 30 + 5 = \dots$$

$$86 - 6 - 30 = \dots$$

$$56 + 20 + 3 = \dots$$

$$82 - 30 + 5 = \dots$$

$$82 - 30 + 5 = \dots$$

$$75 - 5 - 30 = \dots$$

**Bài 134:** Số?

$$63 + \dots = 83$$

$$63 + \dots = 63$$

$$0 + \dots = 5$$

$$63 - \dots = 43$$

$$63 - \dots = 63$$

$$\dots + \dots = 0$$

$$63 - \dots = 60$$

$$63 - \dots = 0$$

$$\dots - \dots = 0$$

**Bài 135:** Số?

Số liền trước	Số đã cho	Số liền sau
29	30	31
.....	70	.....
.....	99	.....
.....	59	.....
.....	65	.....



**Bài 140:**

- Cho hai chữ số 2; 3. Hãy viết tất cả các số có hai chữ số mà mỗi số chỉ gồm các chữ số đã cho:

--	--	--	--	--	--	--	--	--	--	--	--	--	--	--	--	--	--	--	--

- Viết tất cả các số tròn chục có hai chữ số:

--	--	--	--	--	--	--	--	--	--	--	--	--	--	--	--	--	--	--	--

- Viết tất cả các số có hai chữ số có số đơn vị là 1:

--	--	--	--	--	--	--	--	--	--	--	--	--	--	--	--	--	--	--	--

**Bài 141: Viết theo mẫu:**

$$35 = 30 + 5$$

5 chục và 1 đơn vị: 51

$$47 = \dots\dots\dots$$

6 chục và 3 đơn vị: .....

$$90 = \dots\dots\dots$$

8 chục và 2 đơn vị: .....

**Bài 142:** Vườn nhà Nga có 45 cây vải. Mẹ mới trồng thêm 3 chục cây na . Hỏi vườn nhà nga có tất cả bao nhiêu cây vải và na?

**Bài giải:**


**Bài 143:** Trong vườn nhà Nga có 45 cây vải và cây na. Trong đó có 2 chục cây vải.

Hỏi trong vườn nhà Nga có bao nhiêu cây na?

**Bài giải:**






**Bài 149:** Cho ba chữ số: 1; 2; 3 hãy viết các số có hai chữ số khác nhau:

--	--	--	--	--	--	--	--	--	--	--	--	--	--	--	--	--	--	--	--

**Bài 150:** Viết phép cộng số lớn nhất có hai chữ số với số bé nhất rồi tính kết quả:


**Bài 151:** Viết phép trừ số lớn nhất có hai chữ số khác nhau với số bé nhất có hai chữ số rồi tính kết quả:


**Bài 152:**

Số liền sau của số bé nhất là: .....

Số liền sau của số bé nhất có hai chữ số là: .....

Số liền trước của số lớn nhất có hai chữ số là: .....

Số liền trước của số lớn nhất có một chữ số là: .....

**Bài 153:** Viết thành số chục và số đơn vị (theo mẫu):

$$54 = 50 + 4 \qquad 83 = \dots + \dots \qquad 92 = \dots + \dots$$

$$45 = \dots + \dots \qquad 38 = \dots + \dots \qquad 29 = \dots + \dots$$

$$55 = \dots + \dots \qquad 88 = \dots + \dots \qquad 99 = \dots + \dots$$

**Bài 154:** Tính:

$$50 + 30 + 6 = \dots \qquad 86 - 30 - 6 = \dots \qquad 60 + 20 + 5 = \dots$$

$$90 - 30 + 5 = \dots \qquad 86 - 6 - 30 = \dots \qquad 56 + 20 + 3 = \dots$$

$$82 - 30 + 5 = \dots \qquad 82 - 30 + 5 = \dots \qquad 75 - 5 - 30 = \dots$$





**Bài 164:**

$$30 \text{ cm} + 20 \text{ cm} = \dots$$

$$35 \text{ cm} - 15 \text{ cm} = \dots\dots\dots$$

$$70 \text{ cm} + 30 \text{ cm} = \dots$$

$$46 \text{ cm} - 26 \text{ cm} = \dots\dots\dots$$

**Bài 165: Viết theo mẫu:**

$$35 = 30 + 5$$

5 chục và 1 đơn vị: 51

$$27 = \dots\dots\dots$$

.7 chục và 3 đơn vị: .....

$$50 = \dots\dots\dots$$

5 chục và 2 đơn vị: .....

$$42 = \dots\dots\dots$$

8 chục và 0 đơn vị: .....

**Bài 166:** Khoanh vào chữ cái đặt trước câu trả lời đúng

a) Kết quả của phép tính  $32 + 27 - 38$  là:

A. 21

B. 11

C. 22

b) kết quả tính  $25 + 13 + 51$  là:

A. 89

B. 98

C. 99

b) kết quả tính  $79 - 54 - 24$  là:

A. 49

B. 10

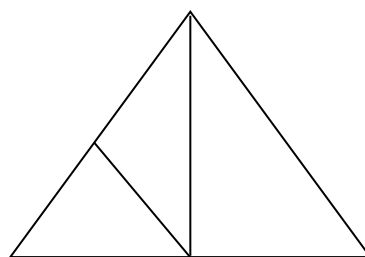
C. 1

c) Trong hình bên có:

A. 3 hình tam giác

B. 4 hình tam giác

C. 5 hình tam giác



**Bài 167:**

Các số 7; 8; 6; 10 viết theo thứ tự từ bé đến lớn là:

A. 10; 8; 7; 6

B. 7; 6; 8; 10

C. 6; 7; 8; 10









**Bài 179:** Tìm số có 2 chữ số, chữ số hàng chục là số đứng liền sau số 5. Chữ số hàng đơn vị là số đứng liền trước số 1.

--	--	--	--	--	--	--	--	--	--	--	--	--	--	--	--	--	--	--	--

**Bài 180:** Đặt câu hỏi cho bài toán sau, rồi giải:

Đĩa thứ nhất có 7 quả táo. Đĩa thứ hai có 3 quả táo. Đĩa thứ 3 có một chục quả táo.

Hỏi:

--	--	--	--	--	--	--	--	--	--	--	--	--	--	--	--	--	--	--	--

**Bài giải:**


**Bài 181:** Tính

$$32 + 64 - 5 = \dots\dots\dots \quad 87 - 13 - 52 = \dots\dots\dots$$

$$45 + 42 - 54 = \dots\dots\dots \quad 58 - 50 + 41 = \dots\dots\dots$$

$$12 + 13 + 36 = \dots\dots\dots \quad 98 - 64 + 23 = \dots\dots\dots$$

$$32 + 35 - 8 = \dots\dots\dots \quad 56 + 32 - 60 = \dots\dots\dots$$

**Bài 182:** Tính

a)  $15 - 8 + 42 - 17 + 60 - 22$


b)  $42 + 40 - (25 + 35) + 63 - (8 + 23)$


**Bài 183:** Tính nhanh

a)  $12 + 7 - 36 - 7 + 46 - 5 =$


b)  $10 - 20 + 30 - 40 + 50 - 60 + 70 =$


c)  $1 + 2 + 3 + 4 + 5 + 6 + 7 + 8 + 9$


**Bài 184:** Tìm số có 2 chữ số, biết chữ số hàng chục là số lớn nhất có 1 chữ số. Chữ số hàng đơn vị kém chữ số hàng chục là 4.

**Bài giải**


**Bài 185:** Lan hỏi Lê: anh bạn bao nhiêu tuổi? Lê đáp: “Lấy số bé nhất có 2 chữ số thêm vào 1 nửa chục rồi bớt đi 2 thì ra tuổi của anh tớ”. Hỏi anh của Lê bao nhiêu tuổi?

**Bài giải**


**Bài 186:** Chọn A, B hay C

\*  $16 + 3 - 5$

A. 13

B. 14

C. 15

\*  $21 + 69 - 52$

A. 38

B. 39

C. 45

\*  $82 - 72 + 49$

A. 58

B. 59

C. 60

\*  $90 - 32 + 27$

A. 65

B. 75

C. 85

**Bài 187:** Đúng ghi Đ, sai ghi S vào ô trống

Số đứng liền sau của 17 là 16

$80\text{cm} - 40\text{cm} = 40$

Số đứng liền sau của 17 là 18

$80\text{cm} - 40\text{cm} = 50\text{cm}$

Số 80 gồm 8 chục và 0 đơn vị

$80\text{cm} - 40\text{cm} = 40\text{cm}$

Số 80 gồm 8 chục và 0

$80\text{cm} - 30\text{cm} = 40\text{cm}$

**Bài 188:** Khoanh vào số thích hợp để điền vào ô trống

a)  $21 + 35 = 40 + \square$  13 , 15 , 16 , 17

b)  $92 - \square = 25 + 32$  33 , 35 , 45 , 46

c)  $75 + 13 < 42 + \square$  38 , 48 , 58 , 59

**Bài 189:** Tính nhanh:

$1 + 2 + 3 + 4 + 5 + 6 + 7 + 8 + 9 + 10 =$


**Bài 190:** Đặt đề toán để giải bằng phép Tính cộng.


**Bài 191:** Điền đúng, sai

Số 10 là số có 1 chữ số  Số đứng liền sau số 19 là 20

Số 8 là số có 1 chữ số  Số đứng liền trước số 20 là 21

Số 17 gồm 1 chục và 7 đơn vị   $20\text{cm} + 40\text{cm} = 60\text{cm}$

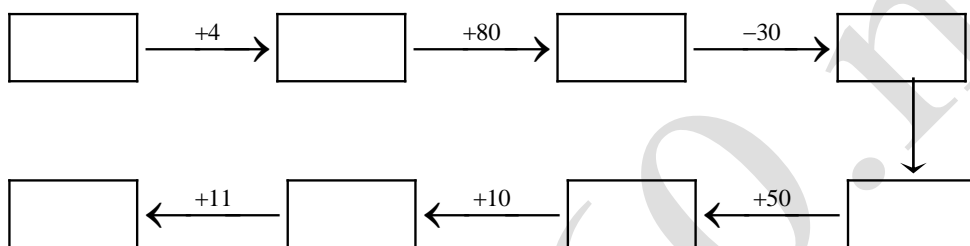
Số 30 gồm 3 chục và 0   $16\text{ con} + 3\text{ con} = 19$



**Bài 195 :** Hai hộp bút chì có tất cả 7 chục cái. Hộp thứ nhất có 30 cái. Hỏi hộp thứ hai có bao nhiêu cái ?

**Bài giải**


**Bài 196:** Điền số vào ô trống



**Bài 197:**

Số 87 gồm ..... chục và ..... đơn vị.      Số 7 gồm ..... chục và ..... đơn vị.

Số 35 gồm ..... chục và ..... đơn vị.      Số 30 gồm ..... chục và ..... đơn vị.

Số 89 gồm ..... chục và ..... đơn vị.

**Bài 198:** Tìm một số biết rằng nếu lấy số đó bớt đi 1 chục rồi thêm vào 20 thì được số tròn chục lớn nhất?

**Bài giải**


**Bài 199:** Hoa có 1 chục cái kẹo. Bà cho thêm 3 cái nữa. Hoa cho bạn 2 cái. Hỏi

Hoa còn bao nhiêu cái kẹo?

**Bài giải**


**Bài 200:** Điền số vào ô trống để được quy luật đúng:

80	10	20	50
----	----	----	----

	20	30	40
--	----	----	----

70		10	
----	--	----	--

80	30		
----	----	--	--

**Bài 201:** Tính

a.  $7 + 3 + 40 - 20 + 60 - 40 =$


b.  $20 + 60 - (30 + 20) + 40 - (10 + 50) =$


**Bài 202:** Cho các số 40, 30, 20, 90. Hãy lập các phép Tính đúng:


**Bài 203:** Cho các số 10, 20, 30, 40, 50, 60.

Tìm 3 số khi cộng lại cho kết quả = 90.


**Bài 204:** Tuấn hỏi Nam: Em bạn bao nhiêu tuổi? Nam đáp: “Lấy số tròn chục bé nhất bớt đi số đứng liền sau số 5 rồi thêm vào số lẻ bé nhất thì ra tuổi của em tớ.

Hỏi em của Nam bao nhiêu tuổi?

**Bài giải**


**Bài 205:**

Điền số vào ô trống sao cho khi cộng 3 số theo hàng ngang, cột dọc đều được kết quả bằng 8

	1	2
1	2	



**Bài 206:** Đặt Tính:

$42 + 25$

$30 + 17$

$47 - 25$

$22 + 37$

$52 - 32$

$83 - 42$


**Bài 207:** Thực hiện phép Tính:

$41 + 25 - 32$

--	--	--	--	--	--	--	--	--	--	--	--	--	--	--	--	--	--	--	--

$23 + 35 - 40$

--	--	--	--	--	--	--	--	--	--	--	--	--	--	--	--	--	--	--	--

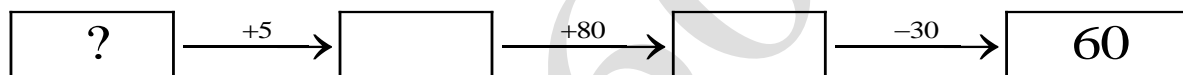
$20 - 12 + 61$

--	--	--	--	--	--	--	--	--	--	--	--	--	--	--	--	--	--	--	--

$45 + 8 - 12$

--	--	--	--	--	--	--	--	--	--	--	--	--	--	--	--	--	--	--	--

**Bài 208:** Điền số vào ô trống:



**Bài 209:** điền số, dấu:

$20 + \square > 40 + 30$

$\square - 30 > 80 - 40$

$90 - 30 \square 20 + 40$

$40 + 50 \square 90 - 10$

$50 + 30 > \square + 10$

$90 - \square < 20 + 30$

**Bài 210:** Tìm số có 2 chữ số biết chữ số hàng chục là số đứng liền sau số 1, chữ số hàng đơn vị hơn chữ số hàng chục là 3.

**Bài giải**


**Bài 211:** Bà có 5 đôi gà, bà cho mẹ 3 con. Bà cho bác một đôi. Hỏi bà còn mấy con gà?

**Bài giải**


**Bài 212:** Đặt đề toán khi giải có phép Tính cộng.


**Bài 213:** Viết các số từ 0 – 50


**Bài 214:** Cho các số 1, 2, 3, 4, 5. Hãy viết các số có 2 chữ số. Trong các số viết được số nào là lớn nhất, số nào là bé nhất.


**Bài 215:** Cho các chữ số 5, 3, 4, 1, 2. Hãy viết các số có hai chữ số khác nhau.


**Bài 216:** Tìm số có 2 chữ số. Biết số hàng chục là số liền trước số 5. Số hàng đơn vị kém số hàng chục là 1.


**Bài 217:** Viết các số từ 50 – 99


**Bài 218:** Viết các số có 2 chữ số mà chữ số giống nhau.


**Bài 219:** Viết các số có hai chữ số mà chữ số hàng chục là 9


**Bài 220:** Viết các số có hai chữ số mà chữ số hàng đơn vị là 8.


**Bài 221:** Tìm một số biết rằng nếu lấy số đó bớt đi một số lớn nhất có một chữ số rồi thêm vào 4 chục thì được 50.

**Bài giải**


**Bài 222:** Viết các số tròn chục đã học.


**Bài 223:**

- |                                   |                   |
|-----------------------------------|-------------------|
| Số lớn nhất có 1 chữ số là :..... | 1 trăm :.....     |
| Số lớn nhất có 2 chữ số là :..... | 1 nửa trăm :..... |
| Số bé nhất có 1 chữ số là :.....  | 1 tạ :.....       |
| Số bé nhất có 2 chữ số là :.....  | 1 nửa tạ :.....   |
| Số tròn chục bé nhất là :.....    | 1 chục :.....     |
| Số tròn chục lớn nhất là :.....   | 1 nửa chục :..... |
| Số lẻ bé nhất là :.....           | :.....            |

**Bài 224:** Tính nhanh:

a.  $1 + 2 + 3 + 4 + 5 + 6 + 7 + 8 + 9 =$
