

Ôn tập Kỳ I - toán lớp 2

Bài 1 : Tính

$15 + 67 - 11 =$

$98 - 69 + 7 =$

$82 - 46 + 12 =$

$59 + 17 - 28 =$

Bài 2 : Đặt tính và tính

$15 + 7$

$57 + 29$

$87 - 29$

$56 - 47$

$46 + 54$

$100 - 34$

Họ và tên :
 Lớp : 2 D
 Điểm : Chữ ký phụ
 huynh:

Bài 3 : Tìm x biết :

$x + 12 = 71$

$17 + x = 32$

$34 - x = 15$

$x - 34 = 15$

Bài 4 : Một cửa hàng ngày thứ nhất bán được 25 thùng sữa , ngày thứ nhất bán ít hơn ngày thứ hai 8 thùng sữa .

Hỏi ngày thứ hai của hàng đó bán được bao nhiêu thùng sữa?

Hỏi cả hai ngày cửa hàng bán được bao nhiêu thùng sữa ?

Bài 5 : Trong hình vẽ bên :

Có đoạn thẳng

Đó là các đoạn thẳng

.....

.....

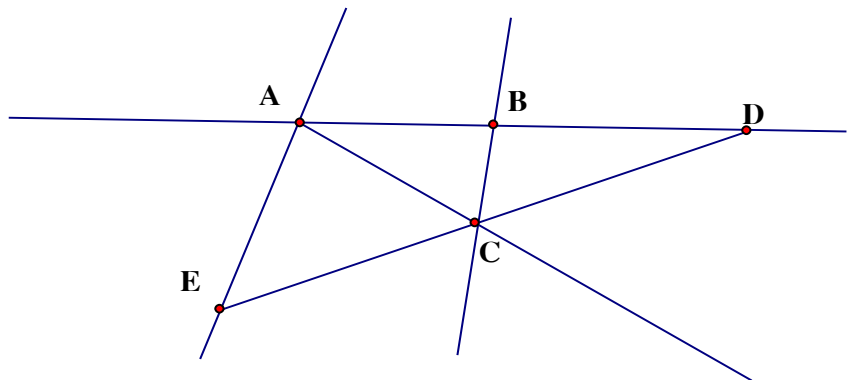
.....

Có đường thẳng

Đó là các đường thẳng :

.....

Có ba điểm thẳng hàng là :



Toán Ôn tập tuần

Bài 1 : Từ 4 chữ số : 0 ; 1; 2; 3 em hãy viết tất cả các số có hai chữ số khác nhau

Bài 2 : Cho số a có hai chữ số

- Nếu chữ số hàng chục bớt đi 2 thì số a giảm đi bao nhiêu đơn vị ?
- Nếu chữ số hàng chục tăng thêm 1 và chữ số hàng đơn vị giảm đi 2 thì số a tăng thêm bao nhiêu đơn vị ?

Bài 3 :

- Tìm những số lớn hơn 35 mà chữ số hàng chục của nó bé hơn 4
- Tìm những số có hai chữ số bé hơn 24 mà chữ số hàng đơn vị của nó lớn hơn 4

Bài 4 : Viết tất cả những số có hai chữ số mà tổng hai chữ số của nó bằng 12

Bài 5 : Viết tất cả những số có hai chữ số mà hiệu hai chữ số của nó 5

Bài 6 : Viết các số có hai chữ số biết tổng hai chữ số của nó bằng số lớn nhất có 1 chữ số và hiệu hai chữ số của nó bằng 3 .

Bài 7 : Hai số có hiệu bằng 14 , nếu thêm vào số trừ 3 đơn vị và giữ nguyên số bị trừ thì hiệu mới bằng bao nhiêu ?

Bài 8 : Tổng của hai số sẽ thay đổi như thế nào nếu mỗi số hạng cùng tăng thêm 25 đơn vị ?

Bài 9 : Tìm 1 số biết số lớn nhất có hai chữ số trừ đi số đó thì được kết quả là 35 ?

Bài 10 : Số 45 thay đổi như thế nào nếu :

- a) Xoá bỏ chữ số 5
- b) Thay đổi vị trí chữ số 4 và chữ số 5
- c) Tăng chữ số hàng chục thêm 2

Bài 11 : Để đánh các trang của cuốn sách dày 15 trang cần dùng bao nhiêu chữ số để đánh

Bài 12 : Nga dùng 20 chữ số để viết các số liền nhau thành 1 dãy số $0;1;2;3;...;a$. Hỏi a là số nào ?

Bài 13 : Viết thêm 4 số vào dãy sau :

- a) 3 ; 6 ; 9 ;
- b) 39 ; 35 ; 31 ;

Bài 14 : Tìm x

a) $14 - x = 14 - 2$

b) $52 + 4 > x + 52$

c) $46 < x - 45 < 49$

d) $x - 8 < 3$

Bài 15 : Điền chữ số thích hợp vào hoa thị

$$\begin{array}{r} *3 \\ + \\ 1 \\ *00 \end{array}$$

Bài 16 : Tính nhanh

a) $11 + 28 + 24 + 16 + 12 + 9$

b) $75 - 13 - 17 + 25$

Bài 17 : Ngày đầu cửa hàng bán được 15 kg đường . Ngày sau bán hơn ngày đầu 5 kg đường . Cửa hàng còn lại 40 kg đường . Hỏi

- a) Ngày sau bán được bao nhiêu kg đường
- b) Trước khi bán cửa hàng có tất cả bao nhiêu kg đường

Bài 18 : Mai cao hơn Hoa 2 cm . Bình thấp hơn Mai 3 cm . Hỏi ai cao nhất ? Ai thấp nhất . Hoa cao hơn Bình mấy cm ?

Bài 19 : Mẹ để hai đĩa cam bằng nhau trên bàn . Lan lấy 3 quả từ đĩa bên phải bỏ sang đĩa bên trái . Hỏi bây giờ đĩa bên nào nhiều cam hơn và nhiều hơn mấy quả cam?

Bài 20 : Lan có 20 cái kẹo , Hà có 14 cái kẹo . Hỏi Lan phải cho Hà mấy cái kẹo để số kẹo hai bạn bằng nhau .

Bài 21 : Lan hơn Huệ 4 quyển vở . Huệ lại tặng Lan 3 quyển vở . Hỏi bây giờ ai nhiều vở hơn và nhiều hơn mấy quyển .

Bài 22 : Thu hơn Lan 7 nhãn vở . Lan lại cho Thu 5 nhãn vở . Hỏi bây giờ ai có nhiều nhãn vở hơn và nhiều hơn mấy nhãn vở .

Bài 4 : Có 17 lít nước đựng trong các can 5 lít và 2 lít . Hỏi có mấy can 5 lít ? mấy can 2 lít ?

Bài 5 : Dũng có 1 số bi xanh và đỏ . Biết rằng số bi của Dũng bé hơn 10 . Số bi đỏ hơn số bi xanh là 7 viên . Hỏi Dũng có mấy bi xanh ? mấy bi đỏ ?

Bài 6 : Tổng số bút chì màu và đen của Lan bé hơn 9 . Số bút màu hơn số bút đen là 6 cái . Hỏi Lan có mấy bút đen ? mấy bút màu ?

Toán

Bài 1 : Vừa gà vừa chó đếm được 10 cái chân . Biết số gà nhiều hơn số chó . Hỏi có bao nhiêu gà ? Bao nhiêu con chó ?

Bài 2 : Có 13 lít dầu đựng vào các can 3 lít và 2 lít . Biết số can 3 lít nhiều hơn số can 2 lít . Hỏi có mấy can 2 lít ? Mấy can 3 lít ?

Bài 3 : Vừa gà vừa thỏ đếm được 14 cái chân . Biết số thỏ nhiều hơn số gà . Hỏi có mấy con thỏ ? Mấy con gà ?

Bài 4 : Hoà câu được tổng số cá ít hơn 11 , gồm cá rô và cá giếc . Số cá rô hơn cá giếc là 8 con . Hỏi có mấy con cá rô ? Mấy con cá giếc ?

Bài 5 : Lan câu được tổng số cá ít hơn 12 , gồm cá trôi và cá rô . Số cá trôi hơn cá rô là 9 con . Hỏi có bao nhiêu con cá trôi ? bao nhiêu con cá rô ?

Toán

Bài 1 : Con ngỗng và con gà cộng lại bằng con ngan và con vịt cộng lại . Con ngỗng nặng bằng hai con vịt . Hỏi giữa con gà và con ngan con nào nặng hơn ? Có thể nói chắc chắn con ngan nặng bằng hai con gà không ?

Bài 2 : Cô giáo chấm bài toán của bốn bạn Hoà , Bình , Hải , Tú thì có hai điểm 10 , có một điểm 9 và một điểm 7 . Hoà được điểm cao hơn Bình nhưng lại thấp hơn Hải . Hỏi mỗi bạn được mấy điểm ?

Bài 3 : Ba bạn đi câu cá . Trong giỏ câu được 3 con cá rô và chùng ấy con cá giếc . Số cá trê ít hơn cá giếc nhưng lại nhiều hơn cá quả . Hỏi ba bạn câu được mấy con cá?

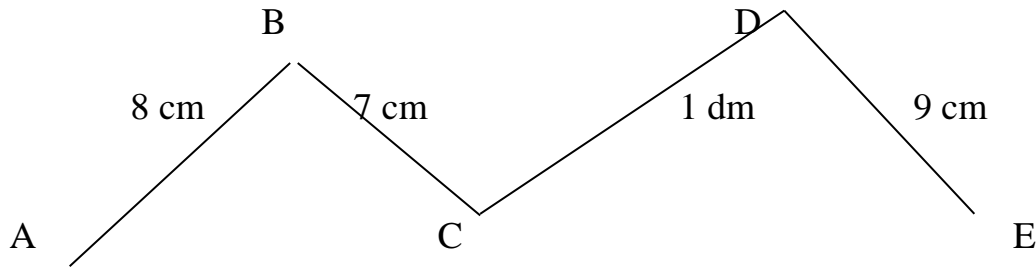
Bài 1: Có 9 lít dầu em muốn rót vào can 5 lít và can 2 lít. Hỏi em có thể rót đầy được mấy can 5 lít và mấy can 2 lít ?

Bài 2: Cả gà và chó đếm được 12 cái chân. Biết số gà nhiều hơn số chó. Hỏi có mấy con gà? Mấy con chó?

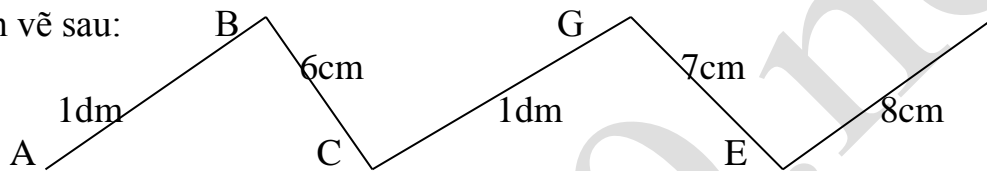
Bài 3: Lan có 1 số tờ giấy màu xanh và đỏ. Biết rằng tổng số giấy màu của lan bé hơn 13. Số giấy màu đỏ hơn giấy màu xanh là 10 tờ. Hỏi Lan có mấy tờ giấy màu xanh? Mấy tờ giấy màu đỏ?

Bài 4: Hà, Lan, Thu có 7 cái bút. Lan có nhiều hơn Hà nhưng ít hơn Thu. Hỏi mỗi bạn có mấy cái bút?

Bài 5: a. Tính độ dài đường gấp khúc ABCDE :



2. Cho hình vẽ sau:



a) Có mấy đường gấp khúc gồm 3 đoạn thẳng? Tính độ dài một trong các đường gấp khúc đó ?

b) Có mấy đường gấp khúc gồm 4 đoạn thẳng? Tính độ dài một trong các đường gấp khúc đó

Bài 1: Trong hộp có 5 bi xanh và 8 bi đỏ. An không nhìn vào hộp lấy ra 2 lần mỗi lần 4 viên. Hỏi có thể nói chắc chắn rằng trong số bi lấy ra đó có:

- ít nhất 3 viên bi đỏ không?
- ít nhất 1 viên bi xanh không?

Bài 2: Có 4 bóng xanh, 5 bóng đỏ, 6 bóng vàng. Lan không nhìn vào túi lấy ra 2 lần mỗi lần 5 quả. Hỏi trong số bóng lấy ra:

- a) Chắc chắn có 1 bóng vàng không?
- b) Chắc chắn có 1 bóng đỏ không?

Bài 3: Trong hộp có 4 bút màu đỏ, 6 bút màu xanh và 3 bút màu vàng. Bạn An lấy từ hộp ra 10 cái bút. Hỏi có thể nói chắc chắn rằng trong 10 cái bút An lấy ra:

- a) Có ít nhất 1 bút màu vàng không?
- b) Có ít nhất 1 bút màu đỏ không?

Bài 4: Bi xanh có 6 viên, bi đỏ có 9 viên, bi vàng có 4 viên. Tú không nhìn vào hộp lấy ra 12 viên bi. Hỏi có thể nói chắc chắn rằng trong 12 viên bi lấy ra đó:

- a) Có ít nhất 1 viên bi xanh không?
- b) Có ít nhất 1 viên bi đỏ không?
- c) Có ít nhất 1 viên bi vàng không?

Bài 5: Hà, Minh, Trang cùng đi hái hoa được tất cả 38 bông. Số hoa của Hà và Minh hái được là 28 bông. Số hoa của Minh và Trang hái được là 29 bông. Tính số hoa của mỗi bạn hái được?

Bài 6: Lan hơn Hà 4 tuổi, kém Thảo 3 tuổi. Hồng hơn Hà 6 tuổi. Hãy:

- So sánh số tuổi của Thảo và Hồng?
- So sánh số tuổi của Lan và Hồng?

Bài 4 : Lan có nhiều hơn Hồng 4 bông hoa . Để hai bạn có số hoa bằng nhau thì Lan phải cho Hồng mấy bông hoa ?

Bài 5 : Ba năm nữa tổng số tuổi của hai chị em là 24 tuổi . Hỏi trước đây 2 năm tổng số tuổi của hai chị em là bao nhiêu ?

Bài 6 : An có 15 quả bóng : xanh , đỏ , vàng . Hỏi có mấy quả bóng đỏ ? Mấy quả bóng vàng ? Biết số bóng xanh là 4 quả và bóng vàng nhiều hơn bóng xanh nhưng ít hơn bóng đỏ .

Bài 1 : Dũng có 2 loại bi xanh và đỏ . Hải có 3 loại bi xanh , vàng , tím . Hỏi cả 2 bạn có bao nhiêu loại bi khác màu và đó là loại màu gì ?

Bài 2 : Toàn có 1 số bi xanh và đỏ biết rằng số bi của Toàn bé hơn 10 . Bi đỏ hơn bi xanh là 7 . Hỏi Toàn có mấy bi xanh , mấy bi đỏ .

Bài 3 : Trong dịp tết trồng cây lớp của Lan trồng được 50 cây . Lớp Tùng trồng ít hơn lớp Lan . Nếu lớp Lan cho lớp Tùng 10 cây thì số cây hai lớp bằng nhau . Hỏi lớp Tùng trồng được mấy cây

Bài 4 : Nếu Toàn cho Tùng 12 hòn bi thì số bi của hai người bằng nhau và mỗi người có 24 viên bi . Hỏi trước khi cho thì Toàn có mấy viên bi ? Tùng có mấy viên bi ?

Bài 5 : An , Ba , Căn chạy thi với nhau . An không về cuối . Căn không về đầu . Ba không về đầu và cũng không về cuối . Hỏi bạn nào về thứ nhất ? Bạn nào về thứ nhì ? Bạn nào về thứ 3 ?

Bài 6 : Cộng mỗi số sau : 600 ; 811; 900; 550 ; 411 với 36 rồi lấy kết quả đó cộng với 64 . Có thể tìm nhanh kết quả cuối cùng không ?

Bài 7 : Điền số thích hợp vào ô trống biết tổng các số trong 3 ô liền nhau bằng 20

9		5									
---	--	---	--	--	--	--	--	--	--	--	--

Bài 8 : Điền số thích hợp vào ô trống biết tổng các số trong 4 ô liền nhau bằng 78

20		40									
----	--	----	--	--	--	--	--	--	--	--	--

Bài 9 : Điền số thích hợp vào ô trống biết tổng các số trong 3 ô liền nhau bằng 500

150		80									
-----	--	----	--	--	--	--	--	--	--	--	--

Bài 10 :

a) Em hãy điền số còn lại vào ô trống của dãy số sau rồi nhận xét cách viết dãy số đó

12	24	48	
----	----	----	--

b)

2	6	18	
---	---	----	--

c)

	24	12	6
--	----	----	---

Bài 11 : Tính theo cách hợp lý

a) $2 + 3 + 4 + 5 + 6 + 7 + 8 + 9 + 10 + 11 + 12 + 13$

b) $8 \times 3 + 2 \times 8 + 4 \times 8$

Bài 12 :

a) Điền dấu “+ ; - ; x ; :” vào ô trống để dãy số có kết quả đúng

$$3 \square 3 \square 33 \square 3 = 31$$

$$b) 7 \square 7 \square 7 = 7$$

Bài 13 : Em hãy nghĩ một số nào đó không lớn hơn 31 điền vào \square để kết quả đúng bằng 0 được không ?

$$(\square + 2) \times 3 - 6 - \square \times 3 = 0$$

Bài 14 : Thứ năm tuần này là ngày 15 tháng 6 . Hỏi thứ năm tuần trước là ngày mấy ? Thứ năm tuần sau là ngày mấy ? Thứ 3 tuần trước là ngày mấy ? Thứ 7 tuần sau là ngày mấy ?

Bài 15 : Thứ 2 tuần này là ngày 4 . Hỏi thứ 7 tuần sau là ngày mấy ? Từ thứ 2 tuần này đến thứ 7 tuần sau có mấy ngày chẵn ? Mấy ngày lẻ ?

Bài 16 : Một bạn nói “Trong tuần này có 2 chủ nhật liền nhau đều là ngày chẵn ” . Bạn ấy nói đúng hay sai ? Vì sao ?

Bài 17 : Tay trái cầm 12 quả bóng . Tay phải cầm nhiều hơn tay trái 8 quả bóng . Hỏi phải chuyển từ tay phải sang tay trái mấy quả bóng để số bóng ở hai tay bằng nhau ?

Bài 18 : Nga có 8 cái kẹo . Nga có ít hơn Lan 4 cái kẹo . Hỏi Lan phải cho Nga mấy cái kẹo để số kẹo hai bạn bằng nhau?

Bài 19 : Lan hái được 6 bông hoa . Hà hái được 10 bông hoa . Hỏi Hà phải cho Lan mấy bông hoa để số hoa 2 bạn bằng nhau ?

Bài 20 : Mẹ để 2 gói kẹo có số kẹo bằng nhau lên bàn . An lấy 4 cái từ gói này bỏ sang gói kia . Hỏi bây giờ gói nào nhiều kẹo hơn và nhiều hơn mấy cái kẹo ?

Bài 21 : Thảo , Thủy , Trang có 14 cái kẹo . Thảo có số kẹo nhiều nhất . Trang có số kẹo ít nhất còn Thủy có 6 cái . Hỏi mỗi bạn Thảo , Trang có mấy cái kẹo ?