

ĐỀ KIỂM TRA HỌC KÌ TIẾNG VIỆT – TOÁN 3  
MÔN TOÁN

KIỂM TRA HỌC KÌ I

Đề 7

I.Đánh dấu chéo vào ô trống trước câu trả lời đúng

1.  $72 : x = 8$

$x = 8$

$x = 9$

$x = 10$

2.Một số chia cho 9 được thương là 4 và số dư là 3. Số đó là :

36

39

40

3.Con lợn to nặng 72kg, con lợn bé nặng 8kg. Con lợn to nặng gấp số lần con lợn bé là:

8 lần

9 lần

10 lần

4.  $\frac{1}{6}$  của 30m là :

5m

6m

24m

II.Đúng ghi Đ, sai ghi S vào ô trống

1.

$$\begin{array}{r} 325 \\ + 247 \\ \hline 562 \end{array} \quad \square$$

$$\begin{array}{r} 523 \\ - 241 \\ \hline 282 \end{array} \quad \square$$

$$\begin{array}{r} 282 \\ \times 3 \\ \hline 646 \end{array} \quad \square$$

$$\begin{array}{r} 965 \overline{) 5} \\ 46 \overline{) 193} \square \\ 15 \\ 0 \end{array}$$


2.a)  $38 - 5 \times 5 = 13$

b)  $30 + 60 \times 2 = 150$


c)  $18 : 6 + 30 = 60$

d)  $12 + 7 \times 9 = 171$

3.Mỗi hình có số ô vuông được tô là :



a)  $\frac{1}{8}$



b)  $\frac{1}{4}$

### III. Giải toán

1. Có 360 quyển sách xếp đều vào 3 tủ, mỗi tủ có 5 ngăn. Hỏi mỗi ngăn có bao nhiêu quyển sách, biết rằng mỗi ngăn có số sách như nhau ?

Bài giải

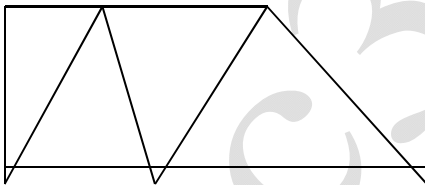
.....

.....

.....

.....

2. Hình bên có mấy hình tam giác, hình tứ giác ?



Có..... hình tam giác

Có..... hình tứ giác