


ĐỀ KIỂM TRA HỌC KÌ TIẾNG VIỆT – TOÁN 3
MÔN TOÁN

KIỂM TRA HỌC KÌ I

Đề 3

Phần 1. Khoanh tròn vào chữ có câu trả lời đúng

1. Trong hình dưới đây, đã khoanh vào :



a) $\frac{1}{2}$ số bông hoa

b) $\frac{1}{4}$ số bông hoa

c) $\frac{1}{8}$ số bông hoa

2. An cao 1m 2cm, Bình cao 120cm. Ta nói :

a) An cao hơn Bình

b) Bình cao hơn An

c) An và Bình bằng nhau

3. $3m15cm = 315\dots\dots$

Đơn vị thích hợp điền vào chỗ chấm là :

a) m

b) dm

c) cm

4. Số cần điền vào ô trống là :

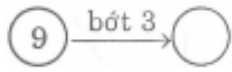


a) 35

b) 12

c) 2

5.Số cần điền vào ô trống là :



a)27

b) 6

c)3

6.Số lớn là 54, số bé là 9. Số lớn gấp..... lần số bé

Số cần điền vào chỗ chấm là :

a)5

b)6

c)7

Phần 2

1.Tính (có đặt tính)

$$872 + 108$$

.....

.....

$$639 - 184$$

.....

.....

$$290 \times 3$$

.....

.....

$$482 : 8$$

.....

.....

2.Tính giá trị của biểu thức

$$415 : 5 + 560$$

.....

.....

$$438 - 469 : 7$$

.....

.....

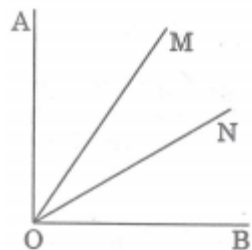
3.Một cửa hàng ngày thứ nhất bán được 255kg gạo. Ngày thứ hai bán được số gạo gấp 3 lần ngày thứ nhất. Hỏi cả hai ngày cửa hàng đó bán được bao nhiêu ki-lô-gam gạo ?

Bài giải

.....

.....

.....
4.a) Điền số thích hợp vào chỗ chấm



Hình bên có :..... góc vuông

..... góc không vuông

b)Nêu tên đỉnh và cạnh các góc vuông

.....