

ĐỀ KIỂM TRA HỌC KÌ TIẾNG VIỆT – TOÁN 3  
MÔN TOÁN

KIỂM TRA GIỮA HỌC KÌ I

Đề 8

1.Khoanh vào chữ đặt trước câu trả lời đúng:

a)Các số 920; 902; 909; 699 được xếp theo thứ tự từ lớn đến bé là:

A.699; 902; 909; 920

B.920; 699; 909; 902

C.920; 909; 902; 699

D.920; 902; 909; 699

b)Số tròn trăm lớn hơn 500 trong phạm vi nhỏ hơn 1000 có tất cả:

A.2 số

B.5 số

C.3 số

D.4 số

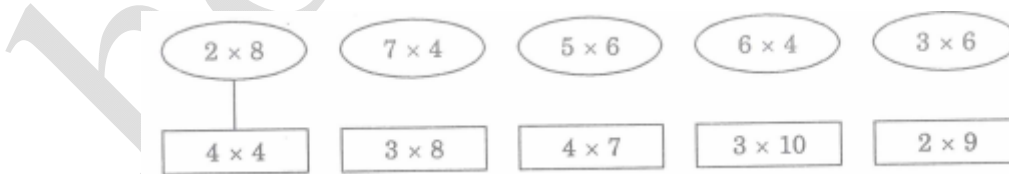
2.Ghi Đ (đúng) hoặc S (sai) vào chỗ trống:

a)60cm + 40cm > 1m

b)Trong phép chia có dư với số chia là 5 thì số dư lớn nhất có thể là 5

c)  $6 \xrightarrow{\text{gấp 5 lần}} 30$   d)  $30 \xrightarrow{\text{giảm 3 lần}} 27$

3.Nói để chỉ ra hai phép nhân có kết quả bằng nhau theo mẫu:



4.Đặt tính rồi tính:

$$211 + 569$$

.....

$$701 - 490$$

.....

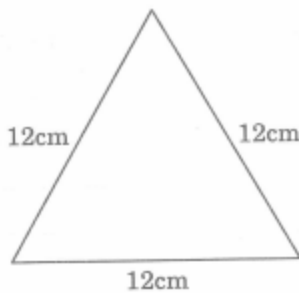
.....	.....
.....	.....
29 x 7	42 : 5
.....	.....
.....	.....
.....	.....

5. Một quầy hàng có 18kg nho và đã bán được  $\frac{1}{6}$  số nho đó. Hỏi quầy hàng đã bán được mấy ki-lô-gam nho ?

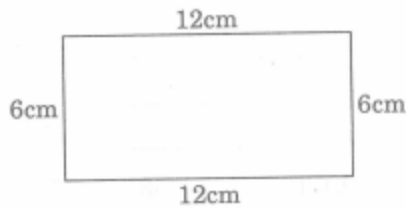
Bài làm

.....  
.....  
.....

6. Cho hình tam giác (hình 1), hình chữ nhật (hình 2) dưới đây:



Hình 1



Hình 2

\* Điền từ thích hợp (bằng, lớn hơn, nhỏ hơn) vào chỗ trống (...)

Chu vi hình 1..... chu vi hình 2

\*Giải thích ( ý trên ):.....  
.....