




ĐỀ KIỂM TRA HỌC KÌ TIẾNG VIỆT – TOÁN 3  
MÔN TOÁN

KIỂM TRA GIỮA HỌC KÌ I


ĐỀ 15

1. Nối, đọc số với viết số đúng ( theo mẫu )

| A   | B   | C   |
|---|---|---|
| Chín trăm chín mươi   | Chín trăm chín mươi chín  | Chín trăm linh chín   |
|  |  |  |
| a   | b   | c   |


2. Khoanh vào chữ đặt trước câu trả lời đúng, kết quả đúng:

a) Hình được tô đậm  $\frac{1}{5}$  là hình:




Hình 1.

A. Hình 1



Hình 2.

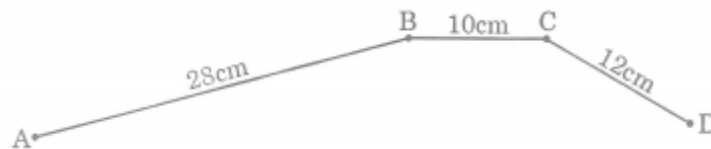
B. Hình 2



Hình 3.

C. Hình 3.

b) Đường gấp khúc ABCD có độ dài là :



A. 50cm

B. 40cm

C. 38cm

3. Ghi Đ, S vào ô

a) Số 0 gấp lên 5 lần thì được 0

b)  $\frac{1}{3}$  của 24 giờ là 8 giờ

c) Số 30 giảm đi 6 lần thì được 24

d)  $400 : 4 = 100$  ( dư 0 )

4. Đặt tính rồi tính :

$21 \times 4$

$29 \times 6$

$36 : 5$

.....

.....

.....

.....

.....

.....

.....

.....

.....

5. Tìm  $x$ :

$48 : x = 6$

$x : 4 = 10$

.....

.....

.....

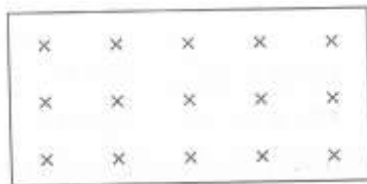
.....

6. Một xấp giấy màu có 63 tờ. Sau khi sử dụng thì số tờ giấy giảm đi 7 lần. Hỏi số tờ giấy còn lại là bao nhiêu ?

Bài giải

.....  
.....  
.....

7. Có 15 dấu chéo (xem hình vẽ)



Có thể chia số dấu chéo này thành 2 phần bằng nhau hay không ? Vì sao ?

a) Trả lời : đánh dấu (x) vào ô đúng

- Chia được thành 2 phần bằng nhau

- Không chia được thành 2 phần bằng nhau

b)Giải thích:.....

.....

hoc360.net