

ĐỀ KIỂM TRA HỌC KÌ TIẾNG VIỆT – TOÁN 3  
MÔN TOÁN

KIỂM TRA GIỮA HỌC KÌ I

ĐỀ 13

1.a)Điền số thích hợp vào chỗ trống:

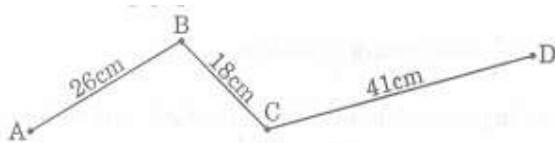
4dam = .....m;

7hm = .....m

b)Ghi Đ hoặc S vào ô

-Số lớn nhất trong các số: 638; 635; 599; 640 là số 640

-Độ dài đường gấp khúc ABCD là 83cm



2.Ghi giờ dưới các đồng hồ sau :



A. ....



B. ....

3.Nối phép tính với kết quả đúng:

$4 \times 6$

$27 : 3$

$5 \times 7$

$56 : 7$

35

8

24

9

4.a)Đặt tính rồi tính :

$27 \times 4$

$58 : 7$

.....

.....

.....  
.....

b) Tìm  $x$ :

$$x \times 6 = 48$$

.....  
.....

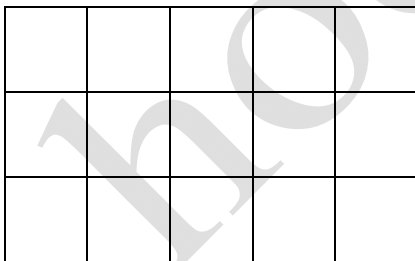
5. Một cuộn dây điện dài 54m, người ta cắt ra  $\frac{1}{6}$  số mét dây điện đó để mắc bóng đèn. Hỏi đã cắt ra mấy mét dây điện?

Bài giải

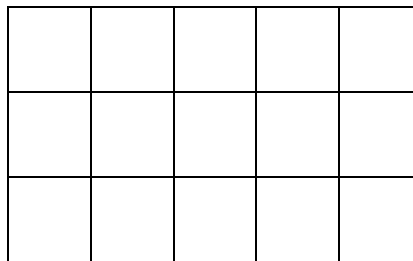
.....  
.....  
.....  
.....

6.a) Tô màu  $\frac{1}{5}$  số ô vuông ở hình A

b) Số ô vuông cần tô màu ở hình B gấp 3 lần số ô vuông ở hình A. Hãy tô màu ô vuông ở hình B



A



B