

- Học sinh không được viết, khoanh vào đề này.

- Mỗi câu hỏi chỉ có một phương án đúng. Phương án nào đúng em hãy tô kín một ô tròn tương ứng với phương án trả lời vào Phiếu trả lời trắc nghiệm.

Câu 1: Để số $20a$ chia hết cho 3 thì a bằng số nào trong các số sau?

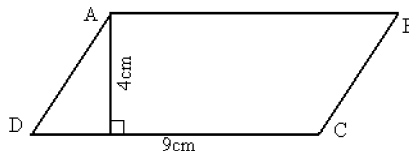
A. $a=2$

B. $a=5$

C. $a=4$

D. $a=3$

Câu 2: Hình bình hành ABCD bên có diện tích là



A. 27cm^2

B. 36cm^2

C. 18cm^2

D. 9cm^2

Câu 3: Cho $a=5$, $b=4$, $c=7$. Khi đó tổng $a + b + c$ bằng bao nhiêu

A. 11

B. 16

C. =12

D. 9

Câu 4: Số chia hết cho 5 có tận cùng là

A. 3 ; 5

B. 6 ; 5

C. 0 ; 4

D. 0 ; 5

Câu 5: Số điền vào chỗ trống trong phép tính $48 : (2 \times 3) = \dots$ là

A. 16

B. 6

C. 8

D. 24

Câu 6: Lớp 4A có 30 học sinh, số học sinh nữ nhiều hơn số học sinh nam là 6 em. Khi đó lớp 4A có số học sinh nam là

A. 16 em

B. 12 em

C. 14 em

D. 18 em

Câu 7: Các số 1980; 1976; 1965; 1979 được viết theo thứ tự từ lớn đến bé là

A. 1980; 1979; 1965; 1976

B. 1980; 1976; 1965; 1979

C. 1980; 1979; 1976; 1965

D. 1965; 1976; 1979; 1980

Câu 8: 1 phút 5 giây = giây. Số thích hợp viết vào chỗ chấm là

A. 55

B. 65

C. 35

D. 60

Câu 9: $\frac{2}{12} = \frac{\square}{24}$. Số thích hợp viết vào ô trống là

A. 6

B. 4

C. 3

D. 5

Câu 10: Kết quả của phép tính 11×45 bằng

A. 485

B. 455

C. 495

D. 45

Câu 11: Quy đồng mẫu số hai phân số $\frac{1}{3}$ và $\frac{2}{5}$ ta được hai phân số

A. $\frac{1}{8}$ và $\frac{2}{8}$

B. $\frac{3}{15}$ và $\frac{10}{15}$

C. $\frac{1}{15}$ và $\frac{2}{15}$

D. $\frac{5}{15}$ và $\frac{6}{15}$

Câu 12: Các phân số được sắp xếp theo thứ tự từ bé đến lớn là

A. $\frac{1}{5}; \frac{4}{5}; \frac{7}{5}; \frac{2}{5}$

B. $\frac{7}{5}; \frac{4}{5}; \frac{2}{5}; \frac{1}{5}$

C. $\frac{1}{5}; \frac{2}{5}; \frac{4}{5}; \frac{7}{5}$

D. $\frac{1}{5}; \frac{7}{5}; \frac{2}{5}; \frac{4}{5}$

Câu 13: Tìm x biết $x : 11 = 24$.

A. $x = 254$

B. $x = 244$

C. $x = 264$

D. $x = 24$

Câu 14: Số điền vào chỗ trống trong phép tính $(15 \times 4) : 2 = \dots$ là

A. 60

B. 4

C. 15

D. 30

Câu 15: Trường hợp nào đúng trong các trường hợp dưới đây?

A. $\frac{4}{6} > 1$

B. $\frac{14}{7} > \frac{21}{7}$

C. $\frac{2}{5} > \frac{3}{5}$

D. $\frac{1}{2} < \frac{3}{2}$

Câu 16: Có bao nhiêu số có một chữ số?

A. Có 10 số

B. Có 11 số

C. Có 8 số

D. Có 9 số

Câu 17: Số nào sau đây chia hết cho 5?

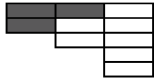
A. 340

B. 444

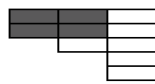
C. 347

D. 476

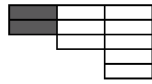
Câu 18: Hình vẽ phù hợp với phân số $\frac{5}{10}$ là hình nào trong các hình sau?



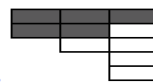
B.




C.



D.



Câu 19: Phân số nào biểu diễn phần tô đậm của hình bên?



A. $\frac{5}{8}$

B. $\frac{8}{5}$

C. $\frac{5}{3}$

D. $\frac{3}{5}$

Câu 20: 3 yến = ...kg. Số thích hợp viết vào chỗ chấm là

A. 30

B. 300

C. 3000

D. 3

Câu 21: Tìm x biết $369 : x = 123$

A. 2

B. 3

C. 1

D. 4

Câu 22: Số đọc là “Năm mươi nghìn sáu trăm mười hai” được viết là

A. 50612

B. 500612

C. 5612

D. 5000612

Câu 23: $2\text{km}^2 = \dots\dots\dots\text{m}^2$. Số điền vào chỗ trống là

A. 2000000

B. 200000

C. 20000

D. 2000

Câu 24: Một khu đất hình chữ nhật có chiều dài 4km, chiều rộng ngắn hơn chiều dài 1 km. Khi đó diện tích khu đất đó sẽ bằng

A. 6km^2

B. 5km^2

C. 4km^2

D. 12km^2

Câu 25: Chọn câu trả lời đúng?

A. Số chia hết cho 3 là số có chữ số hàng đơn vị chia hết cho 3.

B. Số chia hết cho 3 là số có tổng các chữ số **không** chia hết cho 3.

C. Số chia hết cho 3 là số có chữ số hàng chục và hàng đơn vị chia hết cho 3.

D. Số chia hết cho 3 là số có tổng các chữ số chia hết cho 3.

----- HẾT -----