

ĐỀ SỐ 5

A. Phần I – Trắc nghiệm

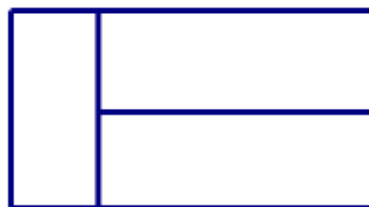
1)

Đ	S
---	---

 ?

Trong hình đã cho có tất cả

- a) 3 hình chữ nhật
- b) 4 hình chữ nhật
- c) 5 hình chữ nhật



2) Điền số thích hợp vào ô trống:

Số bị trừ	41	51	52	72
Số trừ	15	27	19	46
Hiệu	15	23

3) Điền dấu + hay – vào ô trống cho đúng:

a) $9 \square 3 = 12$
 $8 \square 8 = 0$

b) $24 \square 8 = 32$
 $24 \square 7 = 17$


4) Hãy điền dm hay cm cho thích hợp:

- a) Bố em cao khoảng 17.....
- b) Gang tay em dài khoảng 15.....; Em cao khoảng 90.....
- c) Cái ca uống nước của em cao khoảng 12.....; Cái giường ngủ ở nhà em dài khoảng 20.....

5) Khoanh vào chữ đặt trước câu trả lời đúng:

Trong hình vẽ dưới đây, quả dưa nặng mấy ki – lô – gam ?

- A. 5kg B. 4kg
- C. 3kg D. 6kg



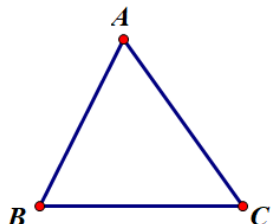
6) Số ?

$$\begin{array}{r} - \square 3 \\ 45 \\ \hline 1 \square \end{array}$$

$$\begin{array}{r} + 54 \\ \square 8 \\ \hline 7 \square \end{array}$$

B. Phần II

- 7) a) Hãy vẽ thêm 2 đoạn thẳng vào hình đã cho để hình có đúng 6 hình tam giác:



- b) Ghi tên các hình tam giác có trong hình vừa vẽ.

Bài giải

.....
.....
.....

- 8) Mai có 6 bi xanh và 7 bi đỏ: Mai cho Tùng 4 hòn bi. Hỏi:

- a) Mai còn lại bao nhiêu hòn bi?
b) Số bi còn lại có thể có bao nhiêu hòn bi mỗi loại, vì sao?

Bài giải

a)

b)

.....
.....
.....
.....
.....