

ĐỀ SỐ 1

A. Phần I – Trắc nghiệm

1) Điền kết quả tính:

$8 + 6 = \dots\dots$

$7 + 9 = \dots\dots$

$11 - 8 = \dots\dots$

$7 + 7 = \dots\dots$

$8 + 7 = \dots\dots$

$15 - 9 = \dots\dots$

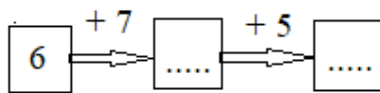
$9 + 5 = \dots\dots$

$17 - 9 = \dots\dots$

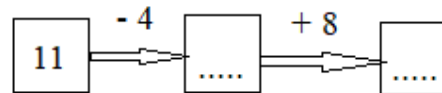
$14 - 6 = \dots\dots$

2) Số?

a)



b)



3) Số?

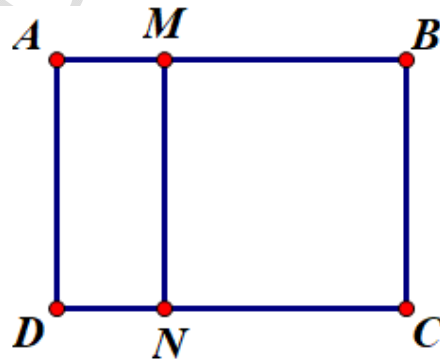
$24 + 36 + \square = 100$

$\square + 17 + 3 = 100$

4) a) Điền tiếp vào chỗ chấm cho đúng:

Trong hình vẽ bên có hình chữ nhật

b) Vẽ thêm một đoạn thẳng vào hình đã cho để có tất cả 5 hình chữ nhật.




5) Viết tiếp vào chỗ chấm cho thích hợp:

a)



Con vịt cân nặng

b)



Quả dưa cân nặng

6) Thứ ba tuần này là ngày 27 tháng 6; vậy thứ ba tuần sau là ngày tháng

B. Phần II – Tự luận

7) Đặt tính rồi tính

$36 + 29$

.....
.....
.....

$18 + 15$

.....
.....
.....

$53 - 37$

.....
.....
.....

$72 - 28$

.....
.....
.....

8) Tìm x biết:

a) $32 - x = 17$

.....
.....

b) $28 + x = 35$

.....
.....

9) Bạn Hòa cân nặng 27kg. Bạn Yến nặng hơn bạn Hoa 4kg. Hỏi bạn Yến cân nặng bao nhiêu ki – lô – gam ?

Bài giải

.....
.....
.....
.....
.....