

C.PHẦN III.KIỂM TRA GIỮA HỌC KÌ II

Đề 1

1.Tính

a. $12 - 7 = \dots\dots\dots$

$2 \times 8 = \dots\dots\dots$

b.

$$\begin{array}{r} 57 \\ + 28 \\ \hline \end{array}$$

$32 : 4 = \dots\dots\dots$

2.Điền dấu (> , < , =) thích hợp vào chỗ chấm:


a. $4 \times 6 \dots\dots 4 \times 5$

$3 \times 4 \dots\dots 4 \times 3$

b. $4 \times 8 \dots\dots 6 \times 7$

$4 \times 7 \dots\dots 3 \times 10$

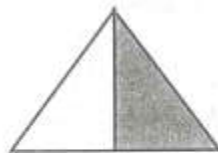
3.Ghi số phần được tô đậm của mỗi hình vào chỗ chấm (theo mẫu):



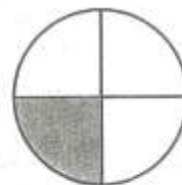
$\frac{1}{5}$



a)



b)



c)

4.Có 32 bông hoa cắm vào các lọ, mỗi lọ cắm 4 bông hoa. Hỏi có mấy lọ hoa?

Bài giải

.....
.....
.....

5.Đo rồi điền số đo độ dài vào chỗ chấm:

