

Đề 8

**PHẦN I: Đúng ghi Đ, sai ghi S vào ô trống :**

**1. Tính nhẩm:**

a.  $43 \times 10 = 430$  .....

e.  $9500 : 1000 = 95$  .....

b.  $14 \times 1000 = 1400$  .....

g.  $32000 : 100 = 320$  .....

c.  $43 \times 11 = 473$  .....

h.  $50 : (5 \times 2) = 50$  .....

d.  $64 \times 11 = 704$  .....

i.  $200 : (2 \times 100) = 1$  .....

**2. Tính:**

$$\begin{array}{r} \text{a. } 546 \\ \times 302 \\ \hline 1092 \\ 1638 \\ \hline 2730 \end{array} \dots\dots$$

$$\begin{array}{r} \text{b. } 546 \\ \times 302 \\ \hline 1092 \\ 1638 \\ \hline 164892 \end{array} \dots\dots$$

$$\begin{array}{r} \text{c. } 123 \\ \times 107 \\ \hline 861 \\ 123 \\ \hline 13161 \end{array} \dots\dots$$

$$\begin{array}{r} \text{d. } 123 \\ \times 107 \\ \hline 861 \\ 123 \\ \hline 2091 \end{array} \dots\dots$$

**\*Đánh dấu nhân ( x ) vào ô trống trước câu trả lời đúng nhất :**

**3.** .....  $\times 5 > 210$

Số tròn chục viết vào ô trống là:

..... 30      ..... 40      ..... 50

**4.**  $(50 - 15) : 5$  .....  $50 : 5 - 15 : 5$

Đấu điền vào ô trống là:

.....  $>$       .....  $<$       .....  $=$

**5.**  $32\text{cm}^2$  .....  $3\text{dm}^2 20\text{cm}^2$

Đấu điền vào ô trống là :

.....  $>$       .....  $<$       .....  $=$

**6.**  $2500\text{dm}^2$  .....  $100\text{m}^2$

Đấu điền vào ô trống là:

.....  $>$       .....  $<$       .....  $=$

**7.** Số chia hết cho cả 2; 3; 5 và 9 là :

..... 772323      ..... 84420      ..... 77175      ..... 99093

**PHẦN II**

**1. Tìm x:**

a.  $x : 236 = 452$

b.  $195\ 906 : x = 634$

.....  
.....  
.....

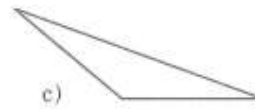
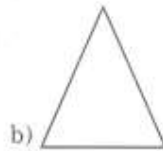
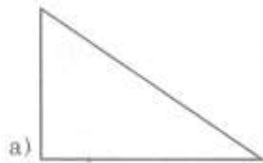
**2. Tính bằng cách thuận tiện nhất:**

a.  $214 \times 53 + 214 \times 47$

b.  $4 \times 19 \times 25$

.....  
.....  
.....

**3. Nối đặc điểm với hình cho phù hợp:**



d) Hình tam giác có 1 góc vuông

e) Hình tam giác có 1 góc tù

g) Hình tam giác có 3 góc nhọn

**4. Toán:**

Có hai cửa hàng đều nhận về 7128m vải. Trung bình mỗi ngày cửa hàng thứ nhất bán được 297m vải, cửa hàng thứ hai bán được 264m vải. Hỏi cửa hàng nào bán hết số vải đó sớm hơn và sớm hơn mấy ngày?

**Giải**

.....  
.....  
.....  
.....

.....  
.....  
.....  
.....

5. Một miếng đất hình chữ nhật có diện tích  $4896\text{m}^2$ , biết chiều rộng miếng đất là  $24\text{m}$ . Tính chu vi miếng đất đó?

**Giải**

.....  
.....  
.....  
.....  
.....