

**Đề 3**

**PHẦN I : Khoanh tròn vào chữ cái ( A, B, C ) trước câu em chọn đúng :**

1.Số gồm có : 5 triệu, 7 chục nghìn, 6 trăm được viết thế nào ?

A.5 700 600

B.5 070 600

C.5 007 600

2.Dãy số được sắp xếp theo thứ tự từ bé đến lớn là dãy nào ?

A.8 605; 8 650; 8 560; 8 506

B.8 506; 8 560; 8 605; 8 650

C.8 650; 8 605; 8 560; 8 506.

3.Số nào vừa chia hết cho 2 vừa chia hết cho 5 ?

A.872

B.905

C.180

4.Trong hình vẽ bên có :



A.Hai góc vuông và hai góc nhọn

B.Hai góc vuông và hai góc tù

C.Hai góc vuông, một góc nhọn và một góc tù

**PHẦN II**

1.Đặt tính rồi tính:

a.236 105 + 82 993

b.935 807 – 52 453

.....

.....

.....

.....

.....

.....

c.  $365 \times 107$

d.  $11\ 890 : 58$

.....  
.....  
.....

.....  
.....  
.....

2. Đổi các đơn vị sau :

a.  $18\text{m}^2\ 8\text{dm}^2 = \dots\dots\dots \text{dm}^2$

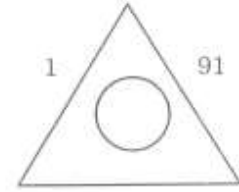
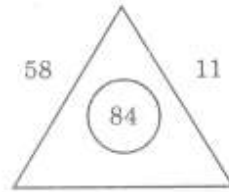
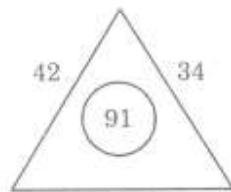
b. 2 phút 5 giây = ..... giây

3. Tính giá trị biểu thức :

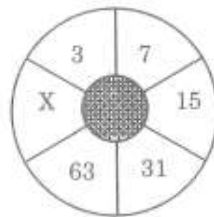
$185 + 1\ 500 : 100 - 100$

.....  
.....  
.....  
.....

4. Điền số thích hợp vào vòng tròn:



5. Tìm x:

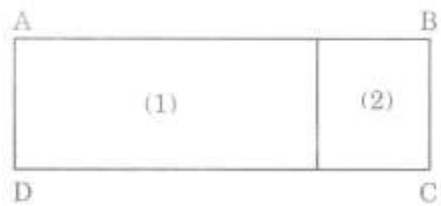


6. Một hồ cá có 156 con cá chép và cá rô. Tính số cá mỗi loại, biết rằng số cá rô nhiều hơn số cá chép là 34 con.

**Bài giải**

.....  
.....  
.....  
.....  
.....

7. Cho hình vẽ sau, biết : ABCD là hình chữ nhật, hình chữ nhật ( 1 ) có chiều dài 40cm; chu vi hình vuông ( 2 ) là 64cm. Tính diện tích hình chữ nhật ABCD.



**Bài giải**

.....  
.....  
.....  
.....  
.....