

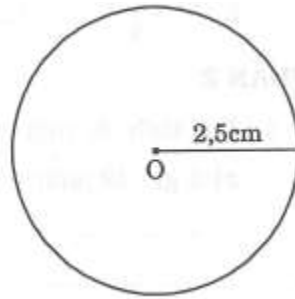
MÔN TOÁN 5

KIỂM TRA GIỮA HỌC KÌ II

Đề 6

Phần 1. Đánh dấu x vào ô trống trước những câu trả lời đúng nhất

1. Hình tròn bên có :



- a) Chu vi là 15,7cm
- b) Chu vi là 7,85cm
- c) Diện tích là 19,625cm<sup>2</sup>
- d) Diện tích là 78,5cm<sup>2</sup>

2.A. Số: “Hai trăm linh năm mét khối”, được viết là:

- a) 2,5m<sup>3</sup>
- b) 250m<sup>3</sup>
- c) 0,25m<sup>3</sup>
- d) 205m<sup>3</sup>

B. Số thích hợp viết vào chỗ chấm: 0,22m<sup>3</sup> = .....cm<sup>3</sup>

- a) 2200
- b) 220 000
- c) 22 000
- d) 20 200

C. Số thích hợp điền vào chỗ chấm : 2m<sup>3</sup> 43dm<sup>3</sup> = ....m<sup>3</sup>

- a) 2,043
- b) 243
- c) 24,3
- d) 24,03

D. Số thích hợp điền vào chỗ chấm: 3 ngày rưỡi = ... giờ

- a) 84
- b) 72
- c) 62
- d) 86


3. Hình lập phương có cạnh 2dm thì diện tích toàn phần là:

- a) 16dm<sup>2</sup>
- b) 8dm<sup>2</sup>
- c) 24dm<sup>2</sup>
- d) 32dm<sup>2</sup>

4. Hình trụ có:

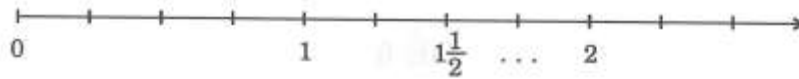
- a) Các mặt đáy là các hình vuông
- b) Có hai mặt đáy là hai hình tròn và một mặt xung quanh
- c) Có hai mặt đáy và hai mặt xung quanh
- d) Có hai mặt đáy là hai hình tròn bằng nhau và một mặt xung quanh

5. Phân số chỉ phần đã tô đậm của hình bên là :



- a)  $\frac{3}{8}$
- b)  $\frac{5}{8}$
- c)  $\frac{1}{3}$
- d)  $\frac{2}{3}$

6. Số viết tiếp vào chỗ chấm là :



- a)  $1\frac{1}{4}$
- b)  $\frac{3}{4}$
- c)  $1\frac{3}{4}$
- d)  $\frac{7}{2}$

**Phần 2**

1. Đặt tính rồi tính

a) 3 giờ 42 phút + 1 giờ 37 phút

.....  
.....

b) 14 giờ 18 phút – 6 giờ 42 phút

.....  
.....  
.....

c) 2 giờ 35 phút x 3

.....  
.....  
.....

d) 35 giờ 40 phút : 5

.....  
.....  
.....

2. Tìm y:

$$y : 24,68 = 32,4 + 67,6$$

$$16 : y = 1,28 : 0,1$$

.....  
.....  
.....

3. Một phòng học có dạng hình hộp chữ nhật có chiều dài 9,5m, chiều rộng 5m và chiều cao 3,2m. Hỏi phòng học đó có đủ không khí cho một lớp học gồm 36 học sinh và 1 giáo viên hay không ? Biết mỗi người cần  $4m^3$  không khí ?

Bài giải

.....  
.....  
.....  
.....

4. Tìm giá trị của các biểu thức sau :

a)  $x + (2856 - x)$

b)  $x - (x - 6820)$

Học 360.net – Tài liệu học tập, bài giảng miễn phí

.....  
.....

Học 360.net