

Câu 3: Năm nay học sinh của một trường A trồng được 325900 cây. Năm ngoái trồng được nhiều hơn năm nay 91700 cây. Hỏi cả hai năm học sinh trường A trồng được bao nhiêu cây?

- A. 417600 cây B. 509300 cây C. 733500 cây D. 743500 cây.

Câu 4: Tính: $(m + n) \times p$ biết $m = 30$; $n = 40$; $p = 8$.

- A. 350 B. 78 C. 560 D. 56

Câu 5: Chọn số thích hợp: $(637 + 245) + 259 = (637 + 259) + \dots\dots\dots?$

- A. 259 B. 931 C. 1141 D. 245

Câu 6: Hai đội công nhân cùng đào một con đường dài 900 m, đội thứ nhất đào ít hơn đội thứ hai 164 m. Hỏi mỗi đội đào được bao nhiêu mét đường?

- A. 204 m và 368 B. 532 m và 696 m C. 386 m và 523 m D. 368 m và 532 m

Câu 7: Thu hoạch ở 2 thửa ruộng được 6 tấn 4 tạ thóc. Thu hoạch ở thửa ruộng thứ nhất được nhiều hơn thửa ruộng thứ hai là 10 tạ thóc. Hỏi thu hoạch ở mỗi thửa ruộng được bao nhiêu ki-lô-gam thóc?

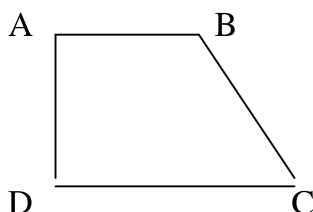
- A. 27kg và 37kg B. 2700kg và 3700kg C. 270kg và 370kg D. 4700kg và 3700kg

Câu 8: Phát biểu nào sau đây là đúng:

- A. Góc nhọn lớn hơn góc vuông. C. Góc tù lớn hơn góc vuông.
B. Góc bẹt nhỏ hơn góc tù. D. Góc nhọn lớn hơn góc tù.

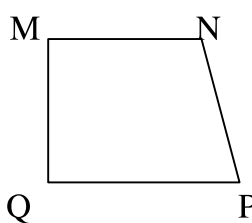
Câu 9: Hai cạnh nào vuông góc nhau:

- A. BC vuông góc CD.
B. AB vuông góc AD.
C. AB vuông góc BC.
D. BC vuông góc AD.



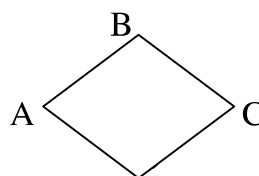
Câu 10: Đúng ghi Đ, sai ghi S vào ô trống:

- a) MN và NP vuông góc.
b) MN và MQ vuông góc.
c) MQ và QP vuông góc.
d) QP và PN không vuông góc



Câu 11: Hình sau có mấy cặp cạnh song song nhau?

- A. 4 C. 1
B. 3 D. 2



II. Phần tự luận

1. Trong các số : 6215 ; 56820 ; 42005 ; 97920 ; 82908 ; 20301

- Các số chia hết cho 2 là :
- Các số chia hết cho 3 là :
- Các số chia hết cho 5 là :
- Các số chia hết cho 2 và 5 là :
- Các số chia hết cho 5 và 9 là :
- Các số chia hết cho 2 và 3 là :
- Các số chia hết cho 2 , 5 , 9 là :

2. Đặt tính rồi tính

7515 x 305	267 x 2143	92157 : 257	857200 : 15700
.....
.....
.....
.....
.....
.....

3. Một đoàn xe du lịch, 4 xe đi đầu chở tất cả 180 người, 5 xe đi sau chở tất cả 270 người. Hỏi trung bình mỗi xe chở bao nhiêu người?

Bài giải

.....

.....

.....

.....

.....

4. Hiện nay trung bình cộng số tuổi của 2 bố con là 25 tuổi. Tuổi bố hơn tuổi con là 28 tuổi.
a) Tìm số tuổi của bố và của con hiện nay
b) Sau mấy năm nữa thì tuổi bố gấp 3 lần tuổi con.

Bài giải

.....

.....
.....
.....
.....

Họ và tên :

ĐỀ ÔN TẬP HÈ (SỐ 5)
Môn : Toán

I. Phần trắc nghiệm

Câu 1: Đúng ghi Đ, sai ghi S vào ô trống:

- a) $46008 \times 6 - 97865 = 178183$.
b) $56930 + (14205 + 34562) \times 4 = 764368$.
c) $8679 \times 8 + 12354 \times 8 = 168164$.
d) $95368 - 1325 \times 9 = 84443$.

Câu 2: Tính nhẩm: $16 \times 100 = ?$

- A. 1600 B. 160 C. 1060 D. 6000

Câu 3: Kết quả của phép tính: $78 \times 100 : 10 = ?$

- A. 78 B. 708 C. 7800 D. 780

Câu 4: Chọn số thích hợp: $(4 \times 5) \times 7 = (7 \times 4) \times \dots\dots?$

- A. 20 B. 5 C. 7 D. 4

Câu 5: Một cây bút giá 3500 đồng. Nếu mỗi học sinh mua 2 cây như thế thì 10 em mua hết bao nhiêu tiền?

- A. 70000 đồng B. 35000 đồng C. 7000 đồng D. 3500 đồng

Câu 6: Tìm x biết: $x : 200 = 3460$

- A. $x = 69200$ B. $x = 692000$ C. $x = 6920$ D. $x = 692$

Câu 7: Một kho lương thực, đợt 1 nhập 40 bao gạo, mỗi bao nặng 70 kg. Đợt hai nhập 65 bao mỗi bao nặng 50 kg. Hỏi cả hai đợt kho nhập bao nhiêu ki-lô-gam?


- A. 3530 B. 3125 C. 5050 D. 6050

Câu 8: Số thích hợp điền vào chỗ trống:

- a) $48 \text{ dm}^2 = \dots\dots?$
A. 480 cm^2 B. 48 cm^2 C. 4800 cm^2 D. 408 cm^2
b) $65000 \text{ cm}^2 = \dots\dots\dots?$
A. 650 dm^2 B. 65 dm^2 C. 6500 dm^2 D. 6050 dm^2
c) $36 \text{ m}^2 = \dots\dots\dots?$
A. 36000 cm^2 B. 360000 cm^2 C. 3600 cm^2 D. 360 cm^2
d) $590 \text{ dm}^2 = \dots\dots\dots \text{ m}^2 \dots\dots\dots \text{ dm}^2$

- A. $5m^2 9dm^2$ B. $50m^2 9dm^2$ C. $50m^2 90dm^2$ D. $5m^2 90dm^2$

Câu 9: Cho hai hình sau:



- A. Diện tích hình chữ nhật nhỏ hơn diện tích hình vuông.
B. Diện tích hình hình vuông nhỏ hơn diện tích chữ nhật.
C. Diện tích hai hình bằng nhau.
D. Diện tích hình chữ nhật gấp đôi diện tích hình vuông.

Câu 10: Một mảnh vườn hình chữ nhật, có chiều rộng 25 m. Chiều dài gấp hai lần chiều rộng. Tính diện tích mảnh vườn?

- A. $125 m^2$ B. $1250 m^2$ C. $50 m^2$ D. $75 m^2$

II. Phần tự luận

1. Tính

a) $2629 \times 21 - 2526$

b) $1575 + 81740 : 268 - 1255$

c) $25 \times 69 \times 4$

.....
.....
.....
.....

2. Một kho hàng ngày đầu nhận được 60 tấn hàng, ngày thứ hai nhận được bằng $\frac{1}{3}$ số tấn hàng của ngày đầu. Ngày thứ ba nhận ít hơn ngày đầu 5 tấn. Hỏi trung bình mỗi ngày kho hàng đó nhận được bao nhiêu tấn hàng ?

Bài giải

.....
.....
.....
.....
.....