

HƯỚNG DẪN HỌC

I. MỤC TIÊU:

1. Kiến thức:

- * Hoàn thành các bài tập trong ngày.
- * Củng cố và phát triển kiến thức, kỹ năng về:
 - Hai đường thẳng vuông góc (nhận biết, cách vẽ bằng thước và ê ke).
 - Giải toán có lời văn dạng “ Tìm hai số khi biết tổng và hiệu của hai số đó”.

2. Kỹ năng:

- HS biết làm thành thạo các bài toán trên.

3. Thái độ:

- HS yêu thích môn học.

II. ĐỒ DÙNG:

- Phấn màu.

III. CÁC HOẠT ĐỘNG DẠY- HỌC:

Tg	Nội dung	Hoạt động của GV	Hoạt động của HS
12'	1. Hoạt động 1 Hoàn thành các bài tập buổi sáng.	+ Sáng thứ hai em có những môn học nào? - Cho HS hoàn thành nốt các bài tập buổi sáng. - GV hướng dẫn những em gặp khó khăn.	+ HS nêu. - HS tự hoàn thành nốt các bài tập buổi sáng.
23'	2. HĐ2 a. BT củng cố. Bài 1. Nhận biết 2 đường thẳng vuông góc. Bài 2. Củng cố giải bài toán có	Viết tên các cạnh vuông góc với nhau trong mỗi hình sau vào chỗ chấm. a) Hình chữ nhật ABCD có các cặp cạnh vuông góc với nhau là..... b) Hình vuông MNPQ có các cặp cạnh vuông góc với nhau là..... Thu hoạch từ hai thửa ruộng được 6 tấn 5 tạ thóc. Thu hoạch ở	- Cả lớp làm bài vào vở, sau đó 2 HS lên bảng chữa bài. a) - AB vuông góc với BC - BC vuông góc với CD - CD vuông góc với AD - AD vuông góc với AB b)- MN vuông góc với NP - NP vuông góc với PQ - PQ vuông góc với QM - QM vuông góc với MN - Đọc đề bài. - Phân tích đề bài.

<p>dạng Tổng-hiệu.</p> <p>b. BT phát triển. Bài 3.</p>	<p>thửa thứ nhất ít hơn thửa ruộng thứ hai 9 tạ. Hỏi mỗi thửa ruộng thu hoạch được bao nhiêu kg thóc?</p> <p>- GV hướng dẫn HS phân tích đề bài.</p> <p>Hai thùng có tất cả 166 l dầu. Sau khi rót 8 l dầu từ thùng thứ nhất sang thùng thứ hai thì thùng thứ nhất vẫn nhiều hơn thùng thứ hai 14 l. Hỏi lúc đầu mỗi thùng có bao nhiêu lít dầu?</p> <p>- GV hướng dẫn HS phân tích đề bài. - Khuyến khích HS tìm cách giải khác. - Gọi HS lên làm cách khác.</p>	<p>- Cả lớp làm vào vở, 1 HS lên bảng chữa bài. - Nhận xét.</p> <p style="text-align: center;"><u>BG</u></p> <p>6 tấn 5 tạ = 65 tạ Thửa ruộng thứ nhất thu hoạch được số kg thóc là: $(65 - 9) : 2 = 28$ (tạ) $= 2800\text{kg}$</p> <p>Thửa ruộng thứ hai thu hoạch được số kg thóc là: $28 + 9 = 37$ (tạ) = 3700kg ĐS:</p> <p>- Đọc đề bài. - Phân tích đề bài. - Cả lớp làm bài vào vở, 1 HS lên bảng chữa bài. - Nhận xét.</p> <p style="text-align: center;"><u>BG</u></p> <p>Sau khi rót 8 l dầu từ thùng thứ nhất sang thùng thứ hai thì tổng số dầu không thay đổi nên vẫn bằng 166 l. Ta có sơ đồ: T1: _____ T2: _____ Lúc đầu thùng 1 hơn thùng 2 số lít dầu là: $8 \times 2 + 14 = 30$ (l) Lúc đầu thùng 1 có số lít dầu là: $(166 + 30) : 2 = 98$ (l) Lúc đầu thùng 2 có số lít dầu là: $98 - 30 = 68$ (l)</p>
--	---	---

5'	3. HD 3 <i>Củng cố - dặn dò.</i>	<ul style="list-style-type: none"> - GV nhận xét tiết học. - Dặn HS về nhà ôn bài. 	ĐS:
-----------	--	--	----------

HƯỚNG DẪN HỌC

I. MỤC TIÊU:

1. Kiến thức:

- * Hoàn thành các bài tập trong ngày.
- * Củng cố và phát triển kiến thức, kỹ năng về:
 - Hai đường thẳng vuông góc, hai đường thẳng song song.
 - Vẽ đường cao của hình tam giác.

2. Kỹ năng:

- HS nắm được đặc điểm của hai đường thẳng vuông góc, hai đường thẳng song song.

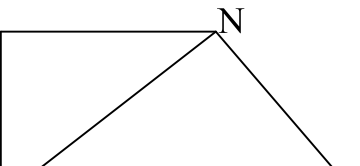
3. Thái độ:

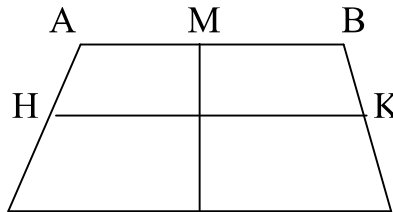
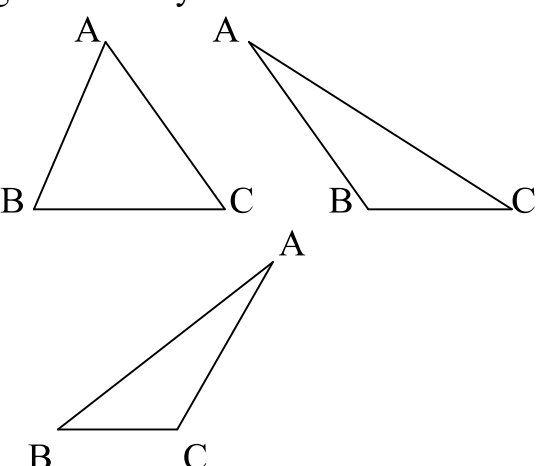
- HS yêu thích môn học.

II. ĐỒ DÙNG:

- Phấn màu, thước kẻ, ê - ke.

III. CÁC HOẠT ĐỘNG DẠY- HỌC:

Tg	Nội dung	Hoạt động của GV	Hoạt động của HS
12'	1. Hoạt động 1 Hoàn thành các bài tập buổi sáng.	+ Sáng thứ tư em có những môn học nào? - Cho HS hoàn thành nốt các bài tập buổi sáng. - GV hướng dẫn HS gặp khó khăn.	+ HS nêu. - HS tự hoàn thành nốt các bài tập buổi sáng.
23'	2. Hoạt động 2 a. BT củng cố. Bài 1. Củng cố về hai đường thẳng		- Cả lớp làm bài vào vở, sau đó lên bảng làm bài. - Nhận xét.

<p>vuông góc.</p> <p>Bài 2. Củng cố về hai đường thẳng song song.</p> <p>b. BT phát triển. Bài 3. Biết kẻ đường cao của hình tam giác.</p>	<p>Q _____ P</p> <p>Viết tiếp vào chỗ trống: Hình bên có: a) MN vuông góc với..... b) NP vuông góc với..... c) Góc đỉnh M là góc..... d) Góc đỉnh P là góc.....</p>  <p>D _____ N _____ C</p> <p>Đúng ghi Đ, sai ghi S vào ô trống: Hình bên có: a) AB // với HK <input type="checkbox"/> b) AD // với MN <input type="checkbox"/> c) HK // với DC <input type="checkbox"/> d) AB // với DC <input type="checkbox"/> e) MN // với BC <input type="checkbox"/></p> <p>Hãy vẽ đường cao hạ từ đỉnh A xuống cạnh BC của mỗi hình tam giác dưới đây:</p> 	<p>Đáp án:</p> <p>a) MQ b) NQ c) vuông d) nhọn</p> <p>- HS làm bài cá nhân. - 1 HS lên bảng.</p> <p>a) Đ b) S c) Đ d) Đ e) S</p> <p>- HS nêu cách vẽ (Từ đỉnh A ta vẽ đường thẳng vuông góc với cạnh BC, cắt cạnh BC tại H). - 3 HS lên bảng làm bài. - Nhận xét.</p>
---	--	--