

Bài 9 : Hãy đặt dấu ngoặc đơn vào biểu thức :  $38 + 40 : 2 \times 5 + 7$  để giá trị của biểu thức bằng 202

Họ và tên:..... Đề 3

Đề luyện tập môn toán lớp 4  
Đề 15 : Luyện tập tổng hợp

Bài 1: Tính giá trị biểu thức :

a)  $3242 + 2326 + 192$

b)  $13228 - ( 18072 - 16785 ) =$

Bài 2: Tính thuận tiện :

a)  $38 + 125 + 29 + 17 =$ .....

b)  $100 - 99 + 98 - 97 + 96 - 95 + 94 - 93 + 92 - 91 + 90$

Bài 3: Viết số thích hợp vào chỗ trống

a) 8 yến = .....kg      7yến 3 kg = .....kg      15 yến 6 kg =.....kg

b) 5 tạ =.....kg      4 tạ 3 yến =.....kg      7 tạ 7 kg =.....kg

c) 4 tấn = .....kg      6 tấn 5 tạ = .....kg      8 tấn 55 kg = .....kg

Bài 4 : Năm nay nhà bạn An thu hoạch được 2 tạ 16 kg đỗ và lạc , trong đó số kg đỗ gấp 3 lần số kg lạc .Hỏi năm nay nhà bạn An thu hoạch được mỗi loại bao nhiêu kg ?

.....  
.....  
.....  
.....  
.....  
.....  
.....  
.....  
.....  
.....

Bài 5 : Điền dấu thích hợp vào chỗ trống

a) 3 tấn 59 kg .....3059 kg      b) 9 tạ - 756 kg ..... 1 tạ 4 yến

c) 8 tạ 8 kg .....880 kg      d) 475 kg x 8 ..... 3 tấn 80 kg

Bài 6 : Một hình vuông có diện tích bằng diện tích bằng diện tích hình chữ nhật với chiều dài = 25 cm và chiều rộng là 4 cm .Tính chu vi hình vuông ?

.....  
.....  
.....  
.....  
.....  
.....  
.....  
.....  
.....  
.....

Bài 7: điền dấu nhân hay chia để được kết quả đúng

a)  $95 \square 5 \square 2 = 38$       b)  $100 \square \square = 1$

Họ và tên:.....      Đề 3

Đề luyện tập môn toán lớp 4  
Đề 16 : Luyện tập tổng hợp

Bài 1: Tính giá trị biểu thức :

a)  $3256 \times 5 \times 6 =$ .....

b)  $12366 : 9 : 3 =$ .....

c)  $4572 \times 8 + 32549 =$ .....

Bài 2 : điền dấu phép tính ( X hay : ) Thích hợp vào ô trống :

a)  $4848 \square 2 \square 2 = 1212$

b)  $4848 \square 2 \square 2 = 19392$

Bài 3 : Tìm một số biết rằng số đó cộng với 12 027 được bao nhiêu cộng với 46 158 thì bằng 85 319

Bài 4: điền số thích hợp vào ô trống :

a) 1 giờ 20 phút =.....phút

b) 56 giờ = .....ngày .....giờ

c) 126 phút = .....giờ .....phút

Bài 5 : Hiện nay Dũng 7 tuổi , anh Minh 9 tuổi .Hỏi bao nhiêu năm nữa anh Minh sẽ gấp đôi tuổi Dũng .

.....

.....

.....

.....

.....

.....

.....

.....

.....

.....

Bài 6 Tìm X

a)  $X \times 5 = 2345 + 350$

b)  $X : 7 = 1453 - 267$

.....

.....

.....

.....

c)  $25\ 836 + x = 42\ 173 - 31564$

d)  $X \times 9 = 50\ 819 - 3587$

.....

.....

.....

.....

Bài 7 : Một hình chữ nhật có chiều dài gấp đôi chiều rộng và có diện tích bằng  $50\text{ cm}^2$  Tính chu vi của hình chữ nhật đó .

.....

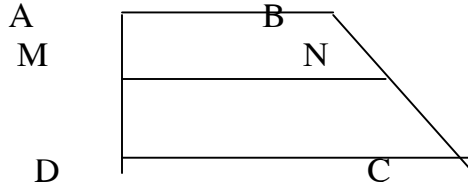
.....

Họ và tên:..... Đề 3

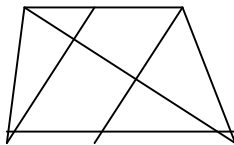
Đề luyện tập môn toán lớp 4

Đề 17 : Ôn tập về nhận dạng hình —Vẽ hình

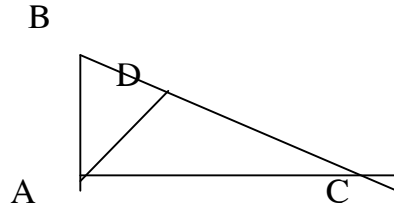
Bài 1: Hình vẽ dưới đây có bao nhiêu hình tứ giác , bao nhiêu góc vuông



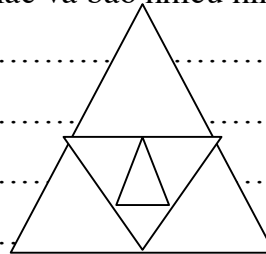
Bài 2 : Hình vẽ dưới đây có bao nhiêu tam giác ? Bao nhiêu hình tứ giác ?



Bài 3: Hãy vẽ thêm một đoạn thẳng vào hình dưới đây để có 8 hình tam giác.



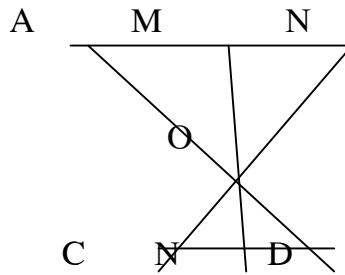
Bài 4 : Trên hình bên có bao nhiêu hình tam giác và bao nhiêu hình tứ giác ?



Bài 5 : Trong hình vẽ bên

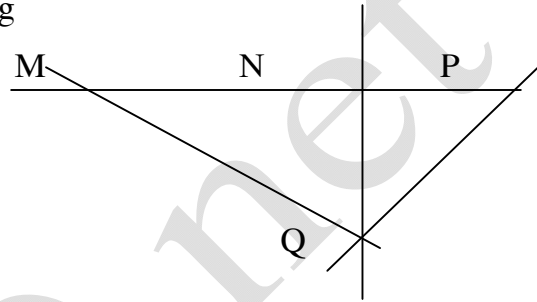
- a) Ba điểm thẳng hàng là : .....
- b) Điểm M nằm giữa hai điểm : .....
- c) Điểm N nằm giữa hai điểm : .....

d) Điểm O nằm giữa hai điểm : .....



Bài 6 : Cho hình bên : Hãy khoanh vào đáp án đúng

- A). M ; N ; Q thẳng hàng
- B) N ; P ; Q thẳng hàng
- C) M ; N ; P thẳng hàng
- D) M ; P ; Q thẳng hàng



Họ và tên:..... Đề 3

Đề luyện tập môn toán lớp 4

Đề 18 : Luyện tập về nhân với số có 1 chữ số

Bài 1: đặt tính rồi tính :

23514 x 3      407 050 x 2      312 485 x 4      178045 x 5

.....  
.....  
.....  
.....

Bài 2: Viết thành phép nhân rồi tính kết quả :

- a) 1705 + 1705 + 1705 + 1705 = .....
- b) 2100 + 2100 + 2100 + 2100 + 2100 = .....
- c) 1007 + 1007 + 1007 = .....

Bài 3: điền số thích hợp vào ô trống :

m	2	3	4	5	6
124510 X m					

Bài 4: Tính :

a)  $(12349 + 21351) \times 2 - 44123 = \dots\dots\dots$

.....

b)  $24578 + (10102 + 20108) \times 4 = \dots\dots\dots$

.....

Bài 5 : Từ một tấm vải người ta cắt may 2 bộ quần áo .Mỗi áo chiếm 215 cm .Mỗi quần chiếm 235 cm chiều dài vải .Sau khi cắt may , tấm vải còn lại 1m .Hỏi ban đầu tấm vải dài bao nhiêu m ?

.....  
.....  
.....  
.....  
.....  
.....  
.....  
.....  
.....  
.....

Bài 6 : Tìm X trong phép tính sau :  $X \times a = aaaa$  (với a là chữ số khác 0)

.....  
.....

Bài 7 : Giá trị của biểu thức  $300\,000 - 6000 \times 5$  là :

- A. 297 000                      B. 0                                      C. 1 470 000                      D. 270 000



Họ và tên:..... Đề 3

Đề luyện tập môn toán lớp 4

Đề 19 : Luyện tập về nhân với số có 2 chữ số

Bài 1: đặt tính rồi tính :

- a)  $72 \times 28$                    $326 \times 54$                    $941 \times 39$                    $437 \times 52$

.....  
.....  
.....  
.....

Bài 2: Tính thuận tiện :

- a)  $395 \times 15 + 85 \times 395$                   b)  $2912 \times 94 - 2912 \times 44$                   c)  $2015 \times (15 - 9)$

.....  
.....  
.....  
.....

Bài 3: tính giá trị biểu thức :  $46 \times a$  rồi viết vào ô trống

a	11	25	35	44	57
$46 \times a$	.....	.....	.....	.....	.....

Bài 3: Mỗi quyển vở có 24 tờ giấy .Hỏi 61 quyển vở cùng loại có tất cả bao nhiêu tờ giấy ?

.....  
.....  
.....  
.....

Bài 4 : Giải bài toán theo tóm tắt sau :

17 tá bút chì màu đỏ

56 tá bút chì màu đen } ? cây

Bài 5 : Một đội đắp đường , mỗi ngày đắp được 97 m .Hỏi trong 12 ngày đắp được bao nhiêu m đường .

Bài 6 : Tìm x biết :

a)  $X \times 14 - X \times 4 = 2007$

b)  $X \times 261 - X \times 259 = 2428$

Họ và tên:..... Đề 3

Đề luyện tập môn toán lớp 4

Đề 20 : Luyện tập về nhân nhẩm với 11

Bài 1: Tính nhẩm

$25 \times 11 = \dots\dots\dots$        $47 \times 11 = \dots\dots\dots$        $38 \times 11 = \dots\dots\dots$        $55 \times 11 = \dots\dots\dots$   
 $16 \times 11 = \dots\dots\dots$        $84 \times 11 = \dots\dots\dots$        $37 \times 11 = \dots\dots\dots$        $45 \times 11 = \dots\dots\dots$

Bài 2: Tìm x biết :

a)  $X : 11 = 55$       b)  $X : 56 = 11$       c)  $X : 11 = 67$

Bài 3: Tính nhẩm :

a)  $3 \times 45 + 45 \times 8 = \dots\dots\dots$   
b)  $4 \times 48 + 6 \times 48 + 48 = \dots\dots\dots$

Bài 4 : Giải bài toán theo tóm tắt sau :

đã có : 230 kg cá  
Thêm : 11 sọt , mỗi sọt 45 kg cá } ? kg cá

Bài 5 : Tìm X

a)  $(X - 40) : 11 = 43$

b)  $(259 - X) : 11 = 16$

Đề luyện tập môn toán lớp 4

Đề 21 : Luyện tập về nhân với số có ba chữ số

Bài 1: đặt tính rồi tính :

354 X 245

157 X 468

456 X 785

605 X 456

Bài 2: Tính :

a)  $(145 + 205) \times 320$

b)  $(956 - 475) \times 346$

c)  $1046 + 425 \times 168$

Bài 3: đúng ghi Đ sai ghi S vào ô trống

$\begin{array}{r} 375 \\ \times \\ \hline \end{array}$

646

2220

1500

2150

232220

$\begin{array}{r} 456 \\ \times \\ \hline \end{array}$

204

1824

912

93024

$\begin{array}{r} 747 \\ \times \\ \hline \end{array}$

406

4482

2988

34362

215

345 ×

1075

860

645

74175

Bài 4: Có 375 con gà , mỗi con cần 104 g thóc .Với 38 kg thóc có đủ cho số gà đó không ?

.....

.....

.....

.....

.....

Bài 5 : Viết biểu thức rồi tính giá trị biểu thức đó :

a) Số 465 được gấp lên 146 lần rồi cộng với 489 :

.....

.....

b) Số 532 được tăng thêm 217 đơn vị rồi nhân với 342

.....

.....

Bài 6 : Tìm X

a)  $X : 108 = 537 \times 2$

b)  $X : 249 = 723 + 169$

.....

.....

.....

.....

.....

