

.....  
.....  
.....

**Bài 5:** Tìm hai số có tổng là 22 biết rằng nếu viết thêm chữ số 0 vào bên phải số bé ta được số lớn .

.....  
.....  
.....  
.....

**Bài 1.** Tính giá trị của biểu thức.

a.  $684 : 6 - 15 + 100 =$  .....      b.  $888 - 306 : 9 \times 3 =$  .....  
= .....      = .....  
= .....      = .....

c.  $521 - 256 : 8 + 10 =$  .....      d.  $405 - 15 \times 3 =$  .....  
= .....      = .....  
= .....

**Bài 2.** Tìm a ?

a)  $a \times 5 + a + a + a : 96$       b)  $a + a + a + a - a \times 2 = 502$

.....  
.....  
.....

**Bài 3 .** Một hình chữ nhật có chiều dài 3m75cm và chiều rộng bằng  $\frac{1}{3}$  chiều dài. Tính chu vi hình chữ nhật đó ?

.....  
.....

.....  
.....  
.....  
**Bài 4.** Hai lớp học có 72 học sinh lớp 3A nhiều hơn lớp 3B là 8 học sinh. Tính số học sinh của mỗi lớp ?

**Bài 1.** Tính nhanh.

a.  $1 + 2 + 3 + \dots + 79 + 80$

b.  $12 + 15 + 18 + \dots + 87 + 90$

**Bài 2 :** Tìm X ?

a.  $(X + 36) + 63 = 363$

b.  $X + 192 + 191 = 307 \times 3$

**Bài 3 :** Lớp 3A có tất cả 12 hàng, mỗi hàng 3 bạn . số bạn gái ít hơn số bạn trai là 4 . Hỏi lớp 3A có bao nhiêu bạn trai bao nhiêu bạn gái ?


.....  
.....

**Bài 4:** a) Viết các số theo thứ tự từ lớn đến bé : 7892 ; 7899 ; 7819 ; 7900 ; 7993 .

b) Viết các số theo thứ tự từ bé đến lớn : 4075 ; 4015 ; 4125 ; 4001 ; 4721.

**Bài 5:** Cho hình chữ nhật ABCD có chiều dài 2340dm, chiều rộng bằng  $\frac{1}{2}$  chiều dài .  
Tính chu vi hình chữ nhật ABCD đó.

*Bài giải*



**Bài 1.** Đặt tính rồi tính :

$5458 + 3736$

$4385 + 2093$

$8763 + 927$

$698 + 719$

$6587 + 2491$

$7658 + 800$

$576 + 3928$

$9257 + 86$

**Bài 2.** Tìm a

$a - 316 = 121 \times 4$

$a - (613 + 57) = 136$

$a - 521 = 1000 - 8$


**Bài 3.** Tính nhanh :

$4 + 6 + 8 + \dots + 96 + 98$

$25 + 30 + \dots + 75 + 80$

.....  
.....  
.....  
.....  
.....  
.....  
.....  
**Bài 4.** Hiện tại tuổi mẹ hơn tổng số tuổi của hai con là 28 tuổi. Hỏi 8 năm nữa tuổi mẹ hơn tổng số tuổi của hai con là bao nhiêu ?


.....  
.....  
.....  
.....  
.....  
.....  
**Bài 5.** Người ta ghép 3 viên gạch men hình vuông cạnh 20cm thành các hình A, hình B, Hình C (xem, hình vẽ). Tính chu vi của mỗi hình đó.



Hình A

Chu vi hình A là :

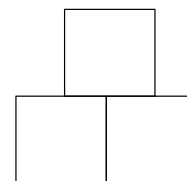
.....  
.....



Hình B

Chu vi hình B là :

.....  
.....



Hình C

Chu vi hình C là :

.....  
.....