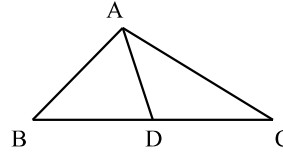
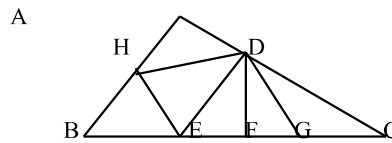


### **Bài 1:**Đi tìm kho báu

- 1,Số lớn nhất có 2 chữ số mà tổng 2 chữ số của số đó bằng 15?.....
- 2,Hiện nay bố Lan 38 tuổi còn ông nội Lan 64 tuổi.Hãy tính tổng số tuổi của ông nội Lan và bố Lan khi tuổi ông nội Lan bằng tuổi bố Lan hiện nay.?.....
- 3, Có 10 can dầu, trong đó có 9 can mỗi can đựng 4 lít và 1 can đựng 3 lít.Tính số dầu đựng trong 10 can đó. ?.....
- 4,Cô giáo đem chia 42 cái kẹo cho học sinh .Hỏi nếu cô chia cho mỗi em 5 cái thì số bạn được chia kẹo nhiều nhất là bao nhiêu bạn.? .....
- 5,Cho hình vẽ.Nếu  $AB = 6\text{ cm}, AD = 5\text{ cm}$   
 $AC = 8\text{ cm}, BC = 10\text{ cm}$

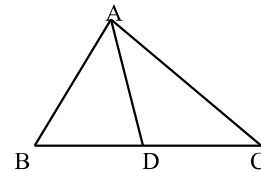


- Tính tổng độ dài các đoạn thẳng.?.....
- 6,Viết được bao nhiêu số có 2 chữ số khác nhau từ các số 0, 1, 2, 3, 4 ?.....
  - 7,Số lớn nhất có 3 chữ số mà tổng 3 chữ số của số đó bằng 10?.....
  - 8,Trong hộp có tất cả 35 viên bi đỏ,24 viên bi xanh ,28 viên bi vàng .Hỏi nếu không được nhìn vào hộp thì phải lấy trong hộp ra ít nhất bao nhiêu viên để chắc chắn số bi lấy được có cả 3 màu?.....
  - 9,Có tất cả bao nhiêu số có 3 chữ số được viết từ các số 1, 2, 5?.....
  - 10,Tìm số lớn nhất có 2 chữ số biết tích 2 chữ số của số đó bằng 6 và hiệu 2 chữ số của số đó bằng 1.?.....



### **Bài 2:**Vượt chướng ngại vật

- 1,Trong hình bên có bao nhiêu hình tam giác?.....
- 2,Hiện nay Nam 15 tuổi bố Nam 42 tuổi .Tuổi của ông nội Nam bằng tổng số tuổi của hai bố con Nam sau 8 năm nữa?.....
- 3,Hỏi cần ít nhất bao nhiêu chiếc túi loại 4 kg (mỗi túi chỉ đựng được 4 kg để đựng hết 37 kg gạo). ? .....
- 4, $5 \times 9 - 4 \times \dots = 90 - 73$ .
- 5, Cho hình vẽ:Nếu  $AB = 6\text{ cm}, AC = 8\text{ cm}, AD = 5\text{ cm}$   
 $BC = 10\text{ cm}$ .Tính tổng chu vi 2 tam giác ABD và ADC? .....




### **Bài 3:**Điền số thích hợp vào chỗ ..... nhé.

- 1,Sau khi An tặng Bình 15 cái nhãn vở rồi Bình lại tặng An 4 cái nhãn vở thì mỗi bạn đều có 24 cái nhãn vở.Hỏi ban đầu An có bao nhiêu cái nhãn vở ?.....
- 2,Năm nay Hoa 6 tuổi mẹ Hoa hơn Hoa 26 tuổi .Hỏi khi tuổi Hoa bằng tuổi mẹ Hoa hiện nay thì lúc đó tổng số tuổi của 2 mẹ con Hoa là bao nhiêu?....
- 3,Chiến nghĩ ra một số nếu lấy số đó nhân với 9 rồi cộng với 18 thì được kết quả là 63?...
- 4,Tìm số lớn nhất có 2 chữ số mà hiệu 2 chữ số của số đó bằng 2?.....
- 5, Thứ hai tuần trước là ngày 8 vậy thứ sáu tuần sau là ngày?.....
- 6,Tìm số lớn nhất có 2 chữ số,biết thương 2 chữ số của số đó bằng hiệu 2 chữ số của số đó và bằng 2.?.....
- 7,Số bé nhất có 3 chữ số mà tổng các chữ số của số đó bằng 15?.....
- 8,Tìm số  $\overline{ab}$  biết  $8a - b9 = 25, \overline{ab} = \dots$
- 9,Có tất cả bao nhiêu số có 3 chữ số mà tổng 3 chữ số của số đó bằng 4?.....
- 10,Số bé nhất có 3 chữ số mà tích 3 chữ số của số đó bằng 18?.....

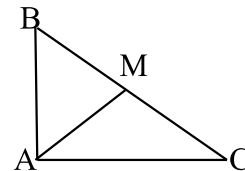
**Bài 1:** Điền số thích hợp vào chỗ ..... nhé.

- 1, Hãy cho biết có tất cả bao nhiêu số có 3 chữ số nhỏ hơn 215.?.....
- 2, Sau khi Anh cho em 5 quyển vở thì Anh vẫn còn nhiều hơn em 3 quyển vở. Vậy trước khi cho Anh nhiều hơn em ..... quyển vở.?
- 3, Số bé nhất có 2 chữ số mà tổng 2 chữ số của số đó bằng 7?...
- 4, Có tất cả bao nhiêu số có 2 chữ số mà hiệu 2 chữ số của số đó bằng 2?.....
- 5, Hỏi cần ít nhất bao nhiêu chiếc túi, mỗi túi đựng được 4kg gạo để đựng hết 31kg gạo.?.....
- 6, Có một số dầu nếu thêm 9 lít nữa thì vừa đủ đựng vào 10 chiếc can mỗi can 5 lít. Tính số dầu đó.?.....
- 7, Tổng của số bé nhất có 3 chữ số với số lớn nhất có 2 chữ số khác nhau.?.....
- 8, Tìm số  $\overline{ab}$  biết  $\overline{a6} - \overline{5b} = 94$ ,  $\overline{ab} = \dots\dots$
- 9, Có tất cả bao nhiêu số có 3 chữ số mà tổng 3 chữ số của mỗi số đó bằng 3?.....
- 10, Cho hình vẽ : Biết đoạn  $AD = 15, BC = 6$ .  
Tổng độ dài các đoạn thẳng trong hình vẽ?.....



**Bài 2:** Cóc vàng tài ba

- 1, Tìm y biết  $y \times 5 - 16 = 29$  ( 4, 7, 5, 9 )
- 2,  $5 \times 9 + 9 = 100 - \dots\dots$  ( 47, 46, 56, 55 )
- 3, Trong hộp có tất cả 34 viên bi đỏ, 48 viên bi xanh, 37 viên bi vàng. Hỏi nếu không được nhìn vào hộp thì phải lấy trong hộp ra ít nhất bao nhiêu viên để chắc chắn số bi lấy được có cả 3 màu. ( 48, 86, 82, 85 )
- 4, Hiện nay con 8 tuổi, Mẹ 33 tuổi. Hãy tính tổng số tuổi của hai mẹ con sau 4 năm nữa. ( 45, 49, 51, 37 )
- 5, Cho biết chủ nhật vừa qua là ngày 31. Hỏi thứ bảy tuần sau là ngày bao nhiêu? (14, 13, 12, 6)
- 6, Số lớn nhất có 3 chữ số mà tổng 3 chữ số của số đó bằng 12. ( 930, 921, 129, 813 )
- 7, Có tất cả bao nhiêu số có 3 chữ số mà tích 2 chữ số hàng trăm và hàng chục bằng 6 ( 40, 60, 20, 30 )
- 8, Có tất cả bao nhiêu số có 3 chữ số khác nhau mà chữ số hàng đơn vị của mỗi số đó là 5.? ( 64, 65, 66, 63 )
- 9, Biết  $AB = 6 \text{ cm}, BC = 10 \text{ cm}, AC = 8 \text{ cm}, AM = 5 \text{ cm}$ .  
Tính tổng chu vi các hình tam giác trong hình vẽ.



- 10, Chọn phép tính có kết quả là 84. (  $534 - 424$ ,  $4 \times 7 + 58$ ,  $100 - 45 + 28$ ,  $5 \times 9 + 39$  )

**Bài 3:** Vượt chướng ngại vật

- 1, Cho biết thứ 2 tuần này là ngày 15. Hỏi chủ nhật tuần sau là ngày bao nhiêu?.....
- 2, Hiện nay tổng số tuổi của bố An, mẹ An và An là 68 tuổi. Tính tổng số tuổi của bố An, mẹ An và An sau 5 năm nữa.?.....
- 3, Tìm số  $\overline{ab}$  biết  $\overline{a1} - \overline{3b} = 44$ ,  $\overline{ab} = \dots\dots$
- 4, Số bé nhất có 3 chữ số khác nhau mà tổng 3 chữ số của số đó bằng 13.? .....
- 5, Có tất cả bao nhiêu số có 2 chữ số mà hiệu 2 chữ số của mỗi số đó bằng 1?.....

