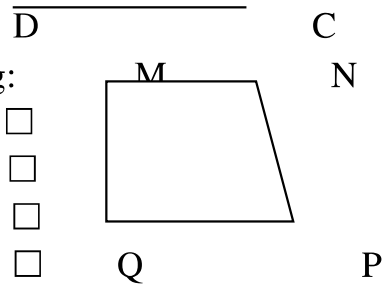


- B. AB vuông góc AD.
- C. AB vuông góc BC.
- D. BC vuông góc AD.

Câu 10: Đúng ghi Đ, sai ghi S vào ô trống:

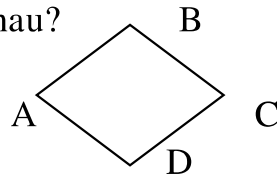
- a) MN và NP vuông góc.
- b) MN và MQ vuông góc.
- c) MQ và QP vuông góc.
- d) QP và PN không vuông góc



-
-
-
-

Câu 11: Hình sau có mấy cặp cạnh song song nhau?

- A. 4
- B. 3
- C. 1
- D. 2



II. Phần tự luận

1. Trong các số : **6215 ; 56820 ; 42005 ; 97920 ; 82908 ; 20301**

- Các số chia hết cho 2 là :
- Các số chia hết cho 3 là :
- Các số chia hết cho 5 là :
- Các số chia hết cho 2 và 5 là :
- Các số chia hết cho 5 và 9 là :
- Các số chia hết cho 2 và 3 là :
- Các số chia hết cho 2 , 5 , 9 là :

2. **Đặt tính rồi tính**

7515 x 305	267 x 2143	92157 : 257	857200 : 15700
.....
.....
.....
.....
.....

3. Một đoàn xe du lịch, 4 xe đi đầu chở tất cả 180 người, 5 xe đi sau chở tất cả 270 người. Hỏi trung bình mỗi xe chở bao nhiêu người?

Bài giải

.....
.....
.....
.....
.....

4. Hiện nay trung bình cộng số tuổi của 2 bố con là 25 tuổi. Tuổi bố hơn tuổi con là 28 tuổi.

- a) Tính số tuổi của bố và của con hiện nay
- b) Sau mấy năm nữa thì tuổi bố gấp 3 lần tuổi con.

Bài giải

.....
.....
.....
.....
.....

Họ và tên :

Lớp 4

ĐỀ ÔN TẬP CUỐI NĂM (SỐ 5)

Môn : Toán

I. Phần trắc nghiệm

Câu 1: Đúng ghi Đ, sai ghi S vào ô trống:

a) $46008 \times 6 - 97865 = 178183.$

b) $56930 + (14205 + 34562) \times 4 = 764368.$

c) $8679 \times 8 + 12354 \times 8 = 168164.$

d) $95368 - 1325 \times 9 = 84443.$

Câu 2: Tính nhẩm: $16 \times 100 = ?$

- A. 1600 B. 160 C. 1060 D. 6000

Câu 3: Kết quả của phép tính: $78 \times 100 : 10 = ?$

- A. 78 B. 708 C. 7800 D. 780

Câu 4: Chọn số thích hợp: $(4 \times 5) \times 7 = (7 \times 4) \times \dots?$

- A. 20 B. 5 C. 7 D. 4

Câu 5: Một cây bút giá 3500 đồng. Nếu mỗi học sinh mua 2 cây như thế thì 10 em mua hết bao nhiêu tiền?

- A. 70000 đồng B. 35000 đồng C. 7000 đồng D. 3500 đồng

Câu 6: Tìm x biết: $x : 200 = 3460$

- A. $x = 69200$ B. $x = 692000$ C. $x = 6920$ D. $x = 692$

Câu 7: Một kho lương thực, đợt 1 nhập 40 bao gạo, mỗi bao nặng 70 kg. Đợt hai nhập 65 bao mỗi bao nặng 50 kg. Hỏi cả hai đợt kho nhập bao nhiêu ki-lô-gam?

- A. 3530 B. 3125 C. 5050 D. 6050

Câu 8: Số thích hợp điền vào chỗ trống:

a) $48 \text{ dm}^2 = \dots\dots?$

- A. 480 cm^2 B. 48 cm^2 C. 4800 cm^2 D. 408 cm^2

b) $65000 \text{ cm}^2 = \dots\dots\dots?$

- A. 650 dm^2 B. 65 dm^2 C. 6500 dm^2 D. 6050 dm^2

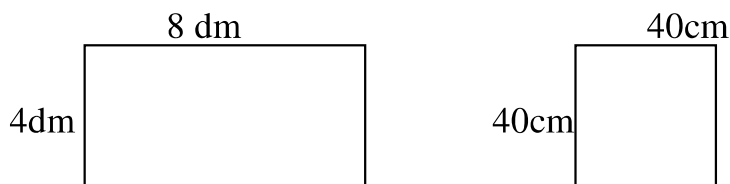
c) $36 \text{ m}^2 = \dots\dots\dots ?$

- A. 36000 cm^2 B. 360000 cm^2 C. 3600 cm^2 D. 360 cm^2

d) $590 \text{ dm}^2 = \dots\dots\dots \text{ m}^2 \dots\dots\dots \text{ dm}^2$

- A. $5 \text{ m}^2 9 \text{ dm}^2$ B. $50 \text{ m}^2 9 \text{ dm}^2$ C. $50 \text{ m}^2 90 \text{ dm}^2$ D. $5 \text{ m}^2 90 \text{ dm}^2$

Câu 9: Cho hai hình sau:



- A. Diện tích hình chữ nhật nhỏ hơn diện tích hình vuông.
 B. Diện tích hình hình vuông nhỏ hơn diện tích chữ nhật.
 C. Diện tích hai hình bằng nhau.
 D. Diện tích hình chữ nhật gấp đôi diện tích hình vuông.

Câu 10: Một mảnh vườn hình chữ nhật, có chiều rộng 25 m. Chiều dài gấp hai lần chiều rộng. Tính diện tích mảnh vườn?

- A. 125 m^2 B. 1250 m^2 C. 50 m^2 D. 75 m^2

II. Phân tự luận

1. Tính

a) $2629 \times 21 - 2526$

b) $1575 + 81740 : 268 - 1255$

c) $25 \times 69 \times 4$

.....

.....

.....

.....

.....

.....

.....

.....

.....

.....

.....

.....

2. Một kho hàng ngày đầu nhận đ- ợc 60 tấn hàng, ngày thứ hai nhận đ- ợc bằng $\frac{1}{3}$ số tấn hàng của ngày đầu. Ngày thứ ba nhận ít hơn ngày đầu 5 tấn. Hỏi trung bình mỗi ngày kho hàng đó nhận đ- ợc bao nhiêu tấn hàng ?

Bài giải

.....
.....
.....
.....
.....
.....

3. Hai người 10 ngày ăn hết 10kg gạo. Hỏi với mức ăn như thế, 4 người ăn 10 ngày hết bao nhiêu kg gạo?

Bài giải

.....
.....
.....
.....
.....
.....
.....

4. Tổng của hai số lẻ bằng 884. Tìm hai số đó, biết rằng giữa chúng có 7 số chẵn liên tiếp nữa ?

Bài giải

.....
.....
.....
.....
.....
.....
.....

Họ và tên :

PHIẾU ÔN TẬP CUỐI NĂM